

Bu deneme:

8. Ünite Hepimizin dünyası konusuna kadar Olan
Bölümleri Kapsar.

1. Seyhan Sakarya Ortaokulu 5. Sınıf öğrencisi Hülya yapılan seçmelerde okulun hentbol takımına katılmayı başarmıştır.

Hülya ile ilgili aşağıdakilerden hangisinde doğru verilmiştir?

	Kurum	Grup	Rol
A)	Sınıf	Öğrenci	Okul
B)	Öğrenci	Sınıf	Okul
C)	Okul	Sınıf	Öğrenci
D)	Okul	Sınıf	Aile

2.İldeki resmi işleri, yazışmaları takip eden, yönlendiren kısacası ili yöneten kimdir?

A)Kaymakam B)Vali C)Muhtar D)Müdür

3.

- I. Gönüllülük esasına göre çalışırlar
- II. Amaçları topluma hizmet etmektir
- III. Kar amaçlı topluluklardır
- IV. Tüm masraflarını devlet karşılar

Yukarıda Sivil Toplum Kuruluşları için verilen bilgilerden hangileri doğrudur?

A)I-II B)I-IV C)III-IV D)II-III

4. Devletçilik;

“Türk toplumunun ve devletin ekonomik ve sosyal kalkınmasını gerçekleştirmek için devlet işletmeciliği ile özel sektör işletmeciliğinin birlikte ve uyum içinde çalışmasıdır.”

- I. Türkiye İş Bankasının açılması
- II. Uşak Şeker Fabrikasının açılması
- III. Türk Dil Kurumunun kurulması

Hangisi ya da hangileri Devletçilik ilkesi doğrultusunda yapılan inkılaplardır?

A)Yalnız III B)I-II C)I-III D)I-II-III

5.

- *Kadınlara boşanma hakkı verilmiştir
- *Kadın erkek eşitliği sağlanmıştır
- *Tek eşlilik ve resmi nikâh
- *Mirastan eşit oranda pay alma hakkı

Medeni Kanun ile Türk kadınlarına aşağıdaki hangi alanda yenilik yapılmamıştır?

A)Siyasi B)Ekonomik C)Sosyal D)Hukuk

6. Atatürk: “Her Türk hür doğar, hür yaşar.”, “Türk milleti birdir ve bütündür. Türkiye’de ben Türk’üm diyen herkes Türk’tür.” diyerek hangi ilkenin önemini vurgulamıştır?

- A)Milliyetçilik B)Cumhuriyetçilik
- C) Devletçilik D)Laiklik

7.Teknoloji insan hayatını hem olumlu hem olumsuz yönde etkilemiştir

Aşağıdakilerden hangisi teknolojinin olumsuz yönüne örnektir?

- A)Haberlere hızlı bir şekilde ulaşmamızı sağlar
- B)Tıp ve sağlık alanında tedavileri hızlandırır
- C)Bilgilere kolay ulaşmamızı sağlar, eğitimi kolaylaştırır
- D)İnsanı tembelleştirmiştir

8.Ülkemize gelen bir turist Türkiye’deki tarihi ve doğal varlıklardan hangisini gezemez?

- A)Ayasofya Müzesi B)Peri Bacaları
- C)Monstar Köprüsü D)Pamukkale

9.

Ben Elif; kan hastası çocukların, sağlık ve eğitim başta olmak üzere her türlü ihtiyaçlarının sağlanmasına yardımcı olmak, bunun yanı sıra, kalıtsal ve edinisel kan hastalıkları konusunda ulusal düzeyde tedavi, eğitim ve araştırma kurumları kurmak ve işletmek olan bir sivil toplum kuruluşunda görev almaktayım.

Elif aşağıdaki sivil toplum örgütlerinden hangisinde görev yapmaktadır?

- A)LÖSEV B)ÇEKÜL C)KIZILAY D)AKUT

10.



Çocuk olarak bir diğer hakkınız da eğitim görmektir. Hepiniz okula devam ediyorsunuz. Bu sizin hakkınızdır. İlköğretime devam etmek aynı zamanda sorumluluğunuzdur.



Parçada hangi Çocuk Hakkına vurgu yapılmıştır?

- A)Eğitim B)Sağlık C)Düşünce D)Yaşama

11. Bir ülkenin özgür ve bağımsız olduğunu gösteren çeşitli semboller vardır. Bu semboller değerlidir. Devletler için çok önemlidir. Özgür bir şekilde yaşamımızı sürdürebilmek için onları korumalı ve saygı göstermeliyiz.

Aşağıdakilerden hangisi Türkiye Cumhuriyetinin bağımsızlık sembollerinden biri değildir?

- A)Marşımız B)Dilimiz C)Paramız D)Kıyafetlerimiz

12.Edison ampülü bulmak için binlerce deneye yapmıştır. Edison’unun vazgeçmeden binlerce deney yapması bilim adamının hangi özelliğini taşıdığını göstermektedir?

- A)Kararlılık B)Meraklılık C)Tarafsızlık D)Vurdumduymaz

13.

0 – 500	Yeşil
500 – 1000	Sarı
1000 – 1500	Turuncu
1500 – 2000	Kahverengi
2000 ve üzeri	Koyu kahverengi

Yukarıda fiziki haritadaki renklendirme gösterilmiştir.

Haritadaki renklendirme hangi ölçüte göre yapılmıştır?

- A)Ormanlık alanlara B)İklim
- C)Yükseltiye D)Vadi ve Akarsulara

14.Aşağıdakilerden hangisi insan eliyle yapılmış bir varlıktır?

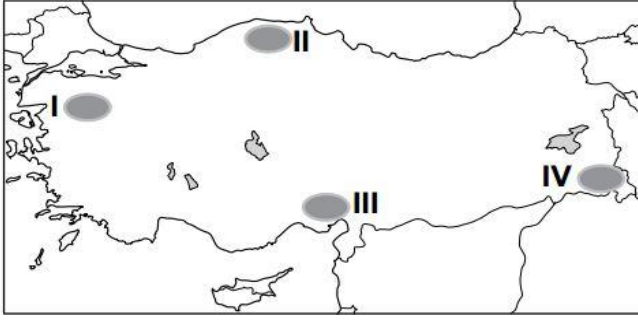
- A)Dağ B)Apartman C)Ova D)Plato

15.Türkiye coğrafi konumu ve yeryüzü şekillerinden dolayı farklı iklimlerin bir arada görüldüğü ülkelerden biridir.

Ülkemizde aşağıdaki iklimlerden hangisi görülmez?

- A)Karasal İklim B)Kutup İklimi
- C)Akdeniz İklimi D)Karadeniz İklimi

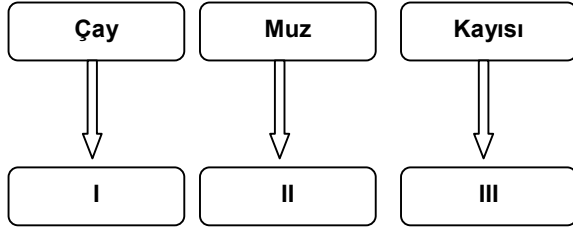
16.



Yukarıdaki haritada görülen iklimler göz önüne alındığında Sel Felaketinin hangisinde görölme ihtimali daha fazladır?

- A)I B)II C)III D)IV

17.

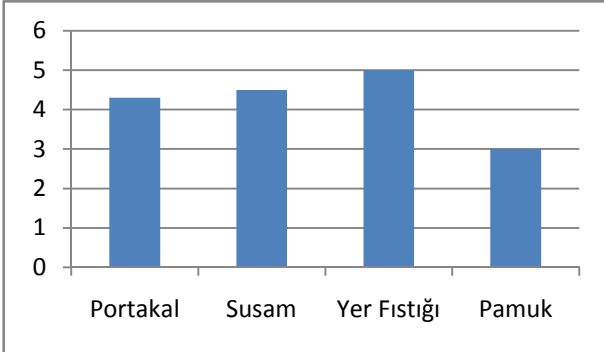


Yukarıdaki grafikte numaralı yerlere sırasıyla hangi bölgelerimiz yazılmalıdır?

	I	II	III
A)	Akdeniz	Ege	Karadeniz
B)	Karadeniz	Akdeniz	Doğu Anadolu
C)	İç Anadolu	Akdeniz	Karadeniz
D)	Karadeniz	Doğu Anadolu	Akdeniz

18 ve 19. soruları aşağıda verilen grafiğe göre cevaplayınız.

18.



Verilen grafik aşağıdaki bölgelerden hangisine aittir?

- A)Karadeniz Bölgesi B)Ege Bölgesi
C)Akdeniz Bölgesi D)Doğu Anadolu Bölgesi

19.Grafikte verilen ürünlerden hangi sanayi faaliyetinde yararlanılmaz?

- A)Unlu Mamuller B)Meyve Suyu Fabrikası
C)Kağıt Sanayi D)Tekstil Sanayi

20. İnsanlar ihtiyaçlarını kolayca karşılayabilecekleri alanları yerleşim yeri olarak seçerler.

Yukarıdaki bilgi göz önüne alındığında aşağıdaki illerimizden hangisinin nüfusunun daha az olması beklenir?

- A)İstanbul B)Bursa C)Adana D)Hakkari

21. Her türlü tarımsal ve hayvansal hammaddeleri işleyerek bunlardan doğrudan doğruya kullanılır maddeler meydana getirme faaliyetlerdir.

Yukarıda tanımı verilen ekonomik faaliyet aşağıdakilerden hangisidir?

- A)Hizmet B)Sanayi C)Tarım D)Madencilik

22.Aşağıdakilerden hangisi İç İşleri Bakanlığı'nın görevlerinden biri değildir?

- A)Ülkenin emniyetini sağlamak
B)Trafik düzenini sağlamak ve denetlemek
C)Doktorları atamak
D)Her türlü kaçakçılığı önlemek

23.Yasama, yürütme ve yargı ülkemizde yönetimi sağlayan üç temel güçtür.

Aşağıdaki hangi şıkta bu güçleri kullanan kurumlar doğru verilmiştir?

	Yasama	Yürütme	Yargı
A)	TBMM	Cumhurbaşkanı Bakanlar Kurulu	Bağımsız Mahkemeler
B)	Bağımsız Mahkemeler	Cumhurbaşkanı Bakanlar Kurulu	TBMM
C)	Cumhurbaşkanı Bakanlar Kurulu	Bağımsız Mahkemeler	TBMM
D)	Cumhurbaşkanı Bakanlar Kurulu	TBMM	Bağımsız Mahkemeler

24.

Hayatta en gerçek yol gösterici ilimdir, fendir.



Mustafa Kemal Atatürk, bu sözü ile aşağıdakilerden hangisinin önemini vurgulamıştır?

- A)Ekonominin B)Bilimin
C)Sanatın D)Cumhuriyetin

25.

Zeytin, kışların ılık ve yağışlı geçtiği iklimi seven bir bitkidir.

Verilen bilgiye göre aşağıdaki yerlerin hangisi zeytin tarımı için uygundur?

- A)Hakkari Yöresi B)Doğu Karadeniz
C)İzmir ve Çevresi D)Erzurum Kars Platosu

Sınav Bitti Cevaplarınızı Kontrol Ediniz.

"Küçük hanımlar, küçük beyler; Sizin hepiniz, geleceğin bir gülü, yıldızı ve ikbal ışığıdır. Memleketi asıl ışığa boğacak olan sizsiniz. Kendinizin ne kadar önemli, değerli olduğunuzu düşünerek ona göre çalışınız. Sizlerden çok şey bekliyoruz."

MUSTAFA KEMAL ATATÜRK

Soruları isteyen arkadaşlar okullarında fotokopi ile çoğaltıp kullanabilir. Soruların telifi tarafıma aittir. Ticari olarak kullanılması yasaktır.

Cevaplar

1. c
2. b
- 3- a
- 4- d
- 5- a
- 6- a
- 7- d
- 8- c
- 9- a
- 10- a
- 11- d
- 12- a
- 13- c
- 14- b
- 15- b
- 16- c
- 17- b
- 18- c
- 19- c
- 20- d
- 21- b
- 22- c
- 23- a
- 24- b
- 25- c