

5. SINIF SOSYAL BİLGİLER 5.ÖĞRENME ALANI: HAYATIMIZDAKİ EKONOMİ BECERİ TEMELLİ TEST

Soru 1: . Aşağıda doğal kaynaklarla ilgili görseller verilmiştir.



I



II



III



IV

Bu görsellere göre doğal kaynakların sırasıyla doğru sıralanışı aşağıdakilerden hangisinde verilmiştir?

	I	II	II	IV
A)	Su	Maden	Orman	Toprak
B)	Toprak	Orman	Maden	Su
C)	Orman	Su	Toprak	Maden
D)	Maden	Toprak	Su	Orman

Soru 2:

1893'te lisans öğrencisi Washington Carver (Vaşington Karvır) tarafından yayımlanan bir makalede doğada hiçbir atık materyalin olmadığı, atık hâle gelmiş ürünlerin başka bir ürüne ham madde kaynağı olarak kullanılabileceği belirtilmiştir. Carver, atıkları “kılık değiştirmiş bir başka kaynak” olarak tanımlamıştır. Ülkemizde atık yönetiminin en eski ve bilinen uygulaması çiftçilerin hayvan dışkılarını gübre olarak kullanması ve tezek olarak yakmasıdır. Geri dönüşüm ve yeniden kullanım kapsamında tenekelerin saksı olarak kullanımı, plastik kapların saklama kabı olarak değerlendirilmesi de buna örnek olarak gösterilebilir. İslam dininde israfın haram olması bizleri bu konuda daha hassas yapmıştır. Aile içinde kardeş ve kuzenlerin birbirinin kıyafetlerini giymesi oldukça yaygın bir yeniden kullanım örneğidir. Sokak sokak ve köy köy gezen eskicilerin “eskiciiii” diye seslenmeleri hepimizin kulağındadır.

GÜL, M. & YAMAN, K. (2021).

Metne göre aşağıdaki yargılardan hangisine ulaşılabilir?

- A) Atıkların tümünün çöp olduğu ve yeniden kullanılamayacağına
- B) Ülkemizdeki ilk atık yönetiminin modern tesislerde gerçekleştirildiğine
- C) Metal ve plastik atıkların yeniden kullanımının geri dönüşüm için örnek teşkil ettiğine
- D) Geri dönüşümün uygulanmasında en etkili sebebin İslam dinindeki tavsiye olduğuna

Soru 3:





Plastik poşet kullanımı azaldı, 4 milyar lira tasarruf sağlandı. Marketlerdeki ücretli poşet uygulamasının ardından plastik poşet kullanımı yüzde 65 oranında düştü. Bu sayede hem çevre kirliliği azaldı hem de yurt dışından plastik ham madde alımının azalması ile 4 milyar liraya yakın tasarruf sağlandı. Tüketiciler, bu uygulama ile birlikte alışverişlerinde daha çok bez çanta veya file kullanmaya başladı. Böylece 550 bin ton plastik atığın oluşumu engellendi.

(Genel ağ haberinden düzenlenmiştir.)

Metne göre aşağıdaki sorulardan hangisinin cevabına ulaşamaz?

- A) Tüketiciler alışverişlerde plastik poşet yerine hangi taşıma araçlarını kullanmıştır?
- B) Plastik poşet kullanımının azalmasının ekonomimize katkısı ne kadardır?
- C) Plastik poşet kullanımının azalmasının nedeni nedir?
- D) Plastik poşet kullanımının azalmasının zararları nelerdir?

Soru 4: “Her atık çöp değildir. Atıkların bir kısmı yeniden kullanılabilir, ham madde olarak tekrar değerlendirilebilir. Hiçbir şekilde yeniden kullanılamayacak olanlar ise çöp olarak nitelendirilir. Dolayısıyla çöpler geri dönüşüme kazandırılmaz.” diyen **Mustafa Öğretmen** öğrencisi Ayşe’den geri dönüşüme kazandırılmayan görselleri seçmesini istemiştir.

I	II	III	IV
			
Cam Bardak	Kâğıt	Porselen Tabak	Pet şişe

Buna göre Ayşe, görsellerden hangisini seçmesi gerekmektedir?

- A) Yalnız III
- B) I ve II
- C) II ve IV
- D) III ve IV

Soru 5:

Yenilenemeyen enerji kaynakları çevreyi ve insan sağlığını tehdit ediyor.

Doğal kaynaklardan petrol, doğal gaz ve kömür gibi yenilenemeyen enerji kaynakları çevreyi ve insan sağlığını giderek daha fazla tehdit eder hâle gelmiştir. Bu yakıtların yanması sonucu ortaya çıkan gazlar çevreyi kirlenmekte, bu kirlenme türlü hastalıklara sebep olmakta, söz konusu gazların havayı ısıtan yapıları küresel iklim değişikliğine yol açmaktadır. Bu kaynakların pek çoğunu yabancı ülkelerden satın aldığımız için ülkemize maliyetleri de fazladır.

mfa.gov.tr/yenilenebilir-enerji-kaynaklari.tr.mfa

Metne göre aşağıdakilerden hangisine ulaşamaz?

- A) Yenilenemeyen kaynaklarının canlılar için riskler oluşturduğuna
- B) İthal ettiğimiz için ülke ekonomisine katkı sağladığına
- C) Çevre ve sağlık problemlerine neden olduklarına
- D) İklim özelliklerinin bozulmasında etkili olmalarına

Soru 6:

“...İrmaklar bizim kardeşimizdir. Onlar bizim susuzluğumuzu giderir, bizim kayıklarımızı taşır ve çocuklarımızı besler. Bir Kızılderili, gölün üstünden gelen rüzgârın gürültüsünü sever. Öğleyin yağın yağmurun temizlediği, taze çam yapraklarının ağırlaştırdığı rüzgâr kokusundan hoşlanır. Toprağın başına gelenler onun çocuklarının da başına gelir. İnsanlar toprağa zarar verirse bindiği dalı kesmiş olur. Çünkü biz biliyoruz ki toprak insana değil, insan toprağa aittir. Her şey, bir aileyi birleştiren kan gibi birbirine bağlıdır. Siz doğaya ne yaparsanız bunu kendinize yapıyorsunuz demektir. Biz dünyayı atalarımızdan miras almadık, çocuklarımızdan ödünç aldık...”.

(Genel ağdan alınmıştır.)

Bu genel ağ haberine göre,

- I- Sulardan sadece tarımsal faaliyetlerden yararlanıldığına,
II- İnsanların toprağa vererek aslında kendilerine zarar verdiğine,
III- İnsan toprak ilişkilerinin ailedeki kan bağı gibi görüldüğüne
yorumlarından hangilerine ulaşılabilir?

- A) I ve II B) I ve III C) II ve III D) I, II ve III

Soru 7: İnsanın etkisinin olmadığı Allah ta: İnsanların herhangi bir müdahalesi olmadan doğada Allah tarafından yaratılmış kaynaklara doğal kaynak denilmektedir. Beşeri kaynaklar ise insanlar tarafından ihtiyaca göre doğada bazı değişimler de yaparak oluşturdukları kaynaklardır.



Orman

I



Güneş

II



Maden

III



Tarım

IV

Bu açıklamalara göre verilen görsellerden hangisi doğal kaynaklar içinde değerlendirilemez?

- A) I B) II C) III D) IV

Soru 8: Aşağıda bazı doğal kaynakların kullanım alanları ile ilgili bilgiler verilmiştir.

Çanak çömlek yapımında, tarım, seramik, fayans, cam, kiremit, tuğla ve çimento üretiminde kullanılır.

Hidroelektrik santrallerinde, turizm, balıkçılık, ulaşım ve sanayi gibi ekonomik faaliyetlerde kullanılır.

Demir çelik, boya, otomotiv gibi sanayi alanlarında ve elektrik, elektronik araçların üretiminde ham madde olarak kullanılır.

Buna göre açıklamalar ile kaynaklar eşleştirildiğinde aşağıdakilerden hangisi dışarıda kalır?

- A) Toprak B) Orman C) Maden D) Su

Soru 9:

Ormanlar, oksijen kaynağı olmalarının yanında önemli bir ham madde kaynağı ve birçok insan için iş sahasıdır. Yakacak odun, kâğıt ve her türlü ahşap ürün ormanlardaki ağaçlardan elde edilir. Ormanlarımızda bulunan ağaç ve diğer bitkilerin kök, kabuk, yaprak, dal, çiçek ve tohumları çeşitli hastalıkların tedavisi için hazırlanan ilaçların yapımında kullanılır. Defne, kekik, ada çayı, kestane, çam fıstığı, kuşburnu ve keçiboynuzu gibi bitkiler doğrudan gıda olarak temin edilir. Bunun yanı sıra içerdikleri uçucu yağ ve tanenler; tıp, kimya, kozmetik, boya ve çeşitli sanayi kollarında ham madde olarak kullanılmaktadır. Ülkemiz, flora (bitki çeşitliliği) bakımından oldukça zengindir. Ülkemizde 10 bine yakın bitki türü olup 3 bin adedi endemik türdür. Ormanlar, yaban hayvanlarını korurken nesli tükenmekte olan hayvanlar için de en uygun ortamları oluşturur. Ayrıca insanlar için bir dinlenme ve etkinlik alanıdır. Bu bakımdan ormanlar, insanların ruh sağlığı üzerinde de olumlu etki bırakır.

(Genel ağdan alınmıştır.)

Bu habere göre aşağıdaki yargılardan hangisine ulaşamaz?

- A) Ormanlardan hem canlılar hem de üretim için yararlanıldığına
B) Bitkilerin doğrudan ve dolaylı olarak kullanıldığına
C) Türkiye'deki bitki türlerinden üçte birinden fazlasının endemik özellik taşıdığına
D) İnsanların psikolojik olarak rahatlamasında etkili olduğuna

Soru 10:

Doğal kaynakların bilinçsizce tüketilmesi doğa ile yaşam arasındaki dengenin hızla bozulmasına neden olmaktadır. Teknolojinin gelişmesiyle bir yandan doğal kaynaklardan daha çok yararlanılırken diğer yandan doğa kirletilmekte ve doğanın dengesi bozulmaktadır. Doğal dengenin bozulmasına neden olan atıklar, doğal sistem tarafından temizlenemediği için insanlığı tehdit edecek çevre sorunlarına dönüşmüştür. Bu yüzden doğal kaynakların sürdürülebilir kullanımı, atık yönetimi ve eski ürünlerin dönüştürülmesi kaynak ve enerji tasarrufu için oldukça önemlidir. Bunlarla birlikte hızlı yenilenebilir ve çevre dostu ürünler kullanmaya dikkat edilmelidir.

Buna göre aşağıdaki kaynaklardan hangisi kullanılırsa açıklamaya uygun hareket edilmemiş olur?

- A) Güneş B) Rüzgâr C) Kömür D) Jeotermal

Soru 11: Aşağıda doğal kaynakların verimli kullanılması ve israfın önlenmesi ile ilgili uygulanan 5D modeli ile ilgili örnek bir olay verilmiştir.

Ayşe, markete gittiğinde alışveriş listesinde olmayan çikolata da almak istemiş, ancak almasam da olur diye düşündüğü için almaktan vazgeçmiştir. Eve gelince evde elini yıkarken de sabunla elini ovalama süresince suyun boşuna akmaması için musluğu kapatmıştır. Marketten aldığı su ve maden sularını tükettikten sonra şişeleri mahalledeki cam ve plastik geri dönüşüm kutularına atmıştır.

Buna göre Ayşe'nin 5D modeli aşamalarından,

- I- Daha az tüket.
II- Dönüştür, doğa kazansın.
III- Değerlendir, yeniden kullan.
IV- Değiştir, farklı amaçla kullan.
V- Düşün, gerekli değilse tüketme.

hangilerini uyguladığına ulaşamaz?

- A) III ve IV B) III ve V C) I, II ve III D) II, III ve V

Soru 12:

Aşağıda bütçe ile ilgili atasözleri ve bu atasözlerine göre bütçe hazırlarken nelere dikkat edilmesi gerektiği verilmiştir. Ancak tabloda bir hata yapılmıştır.

	Atasözleri	Bütçe Planlarken Neye Dikkat Edilmeli?
I	Ayağını yorganına göre uzat	Aylık gelirlerini dökümünü yapmak
II	Almak kolay, ödemek zordur.	Gelir ve gider karşılaştırması yapmak
III	İşten artmaz, dıştan artar.	Bir kenara birikim yapmak
IV	İki ölç, bir biç.	Borçları hesaba katmak

Buna göre tablodaki hatanın giderilmesi için dikkat edilecek kurallardan hangilerinin yerleri değiştirilmelidir?

- A) I ve II B) I ve III C) II ve III D) II ve IV

Soru 15:

İnsanların temel ihtiyaçları vardır, bu ihtiyaçlar zorunludur. Ancak ihtiyaçlar dışında kişilerin istekleri de bulunmaktadır. Bu istekler zorunlu değildir, karşılandığı zaman insanlara mutluluk verir. Bu istekler farklı alanlarda olabilmektedir. Aşağıda bazı istekler belirtilmiştir.

- * Mahalledeki parkta bulunan egzersiz aletleriyle çalışma yapmak
- * Kütüphaneden sevdiği kitabı ödünç alarak okumak
- * Okul korosunda velilere müzik dinletisi yapmak

Buna göre verilen isteklerle ilgili,

- I. sağlık,
- II. kültür,
- III. sanat

alanlarından hangileri ile ilgili bilgiye ulaşılabilir?

- A) I ve II B) I ve III C) II ve III D) I, II ve III

Soru 16:

Bir şey satın almadan önce o ürünün veya hizmetin birey için istek mi yoksa ihtiyaç mı olduğunu ayırt etmek amacıyla "10 Saniye" kuralından yararlanılır. Alışveriş yaparken bazı soruları cevaplayarak satın alma kararının istek veya ihtiyaç olduğu tespit edilebilir. Aşağıda bu kural ile ilgili sorular ve sorulara cevaplar verilmiştir.

	SORU	CEVAP
I	Alınacak ürün "Bir istek mi yoksa ihtiyaç mı?"	Almasam da olur.
II	Ürün veya hizmeti almak için bütçemde yer var mı?	Ürünü alacak kadar yeterli bütçem var.
III	Ürün veya hizmeti daha ucuza alabilir miyim?	Piyasa araştırması yaparak kaliteli ve ucuz ürün alabilirim.
IV	Satın alınan ürünün benzeri elimde var mı?	Daha önceki aldığım ürünün farklı rengi ve gelişmiş modelini almak istiyordum, bütçeyi gözden geçirdim ve almaktan vazgeçtim.

Buna göre hangilerinin istek olduğuna ulaşılabilir?

- A) I ve III B) I ve IV C) II ve IV D) III ve IV

Soru 17: Aşağıda Mustafa Bey'in Temmuz ayı gelir ve gider tablosu verilmiştir.

GELİRLER		GİDERLER	
Maaş	20.000	Faturalar	3.500
		Market	9.000
		Pazar	7.000
Kira	12.000	Spor Salonu	5.000
		Giyim	3.000
		Ulaşım	2.000

Buna göre aşağıdakilerden hangisine ulaşılabilir?

- A) Toplam gelirin tüm giderlerden daha fazla olduğuna
- B) En fazla harcamanın spor salonuna yapıldığına
- C) En az paranın market alışverişine harcandığına
- D) Giderlerin tümünün istekleri karşılamak için gerçekleştiğine

Soru 18: Hayatımızı sürdürmek için ihtiyaç duymadığımız ancak elde ettiğimiz zaman mutlu olduğumuz ürün ve hizmetlere istek denir.



Yemek

I



Barınma

II



Giyim

III



Bisiklete binme

IV

Buna göre verilen görsellerden hangisi istek olarak değerlendirilebilir?

- A) I
- B) II
- C) III
- D) IV

Soru 19:

Günlük hayatta masrafları azaltmak veya para biriktirmek anlamında kullanılan tasarruf kelimesi, ekonomide gelirin harcanmayan kısmı olarak tanımlanır. Tasarruf etmek, sadece para biriktirmek değildir. İhtiyaçlarımızı karşılamak için satın aldığımız ve günlük hayatta kullandığımız ürünlerle de enerji kaynaklarından tasarruf edebiliriz.

Buna göre aşağıdaki verilen atasözlerinden hangisi açıklamayla ilgili değildir?

- A) Ak akçe kara gün içindir.
- B) İşten artmaz, dıştan artar.
- C) Bakarsan bağ, bakmazsan dağ olur.
- D) Sakla samanı, gelir zamanı.

Soru 20:

Ayşe, pazarda günde ortalama 5.000 liralık satış yapan bir sebze satıcısıdır. Ayşe, ev alışverişini yaparken son derece titiz davranmaktadır. Temizlik malzemelerini ve bayatlamayacak gıdaları toptan almaktadır. Ayağını yorganına göre uzatan Ayşe, az da olsa günlük kazancının bir kısmını mutlaka köşeye koymaktadır. Gelir ve giderini çok iyi takip ettiği için her ay sonunda birikmiş bir miktar parası olmaktadır. Ayşe, geçen yıldan bu yana işini büyütmeyi başarmıştır. Dünya hâli bu, herkesin başına her şey gelebilir. Ayşe'nin geçen ay arabası arıza yaptığı için tamir ettirmek zorunda kalmıştır.

Metne göre Ayşe ile ilgili aşağıdakilerden hangisine ulaşamaz?

- A) Ürünleri bittikçe satın almaktadır.
- B) Tasarrufludur.
- C) Bütçe hazırlamaktadır.
- D) Birikim yapmaktadır.

Soru 21:

"...Tam bağımsızlık için şu kural vardır: Millî egemenlik, mali egemenlikle desteklenmelidir. Bizleri bu hedefe götürecek tek kuvvet ekonomidir. Siyasi ve askerî muzafferiyetler ne kadar büyük olursa olsun, iktisadî (ekonomik) zaferlerle taçlandırılmadıkça payidar olamaz..."

Ergin, 1978, s. 184-185

Buna göre,

- I. Tam bağımsızlık için ulusal iradenin ekonomik güç ile dayanak oluşturması gerektiğine,
- II. Siyasi ve askeri zaferlerin ancak ekonomik başarı ile kalıcı olacağına,
- III. Tam bağımsızlık için ekonomik gücün yegâne güç olduğuna

yargılarından hangilerine ulaşılabilir?

- A) I ve II
- B) I ve III
- C) II ve III
- D) I, II ve III

Soru 22: Aşağıda ekonomik faaliyetler ile ilgili açıklama ve görseller verilmiştir.

İnsanların ekme ve dikme yoluyla toprağı işleyerek ürün elde etmesidir.

Ham maddeye makinelerle biçim vererek, toplu olarak üretim yapılan ekonomik faaliyettir.

Eğitim, sağlık, haberleşme, bankacılık, güvenlik gibi alanlardaki iş gücüdür.



I



II



III



IV

Verilen görseller açıklamalarla eşleştirildiğinde görsellerden hangisi dışarıda kalır?

- A) I B) II C) III D) IV

Soru 23: Aşağıda ekonomik faaliyetlerin kullanım alanları verilmiştir.

Dericilik, yün dokuma, et ve süt ürünlerinin üretimi alanında ham madde ihtiyacı olarak kullanılır.

Otomotiv, mobilyacılık, beyaz eşya üretimi gibi sanayi alanlarda kullanılır.

Hayvan yemi, unlu mamuller, tekstil, meyve suyu, şeker, yağ üretimi gibi alanlarda ham madde ihtiyacı olarak kullanılır.

Buna göre aşağıdaki hangi ekonomik faaliyet ile ilgili bilgiye ulaşamaz?

- A) Ticaret B) Tarım C) Hayvancılık D) Madencilik

Soru 24: Mustafa Öğretmen: “Turizm; dinlenme, eğlenme, görme, tanıma gibi amaçlarla yapılan gezilere denir. Turizm, ülkemizdeki önemli ekonomik faaliyetlerdendir. Ülkemizde doğa, yayla, kültür, termal, sağlık, yaz ve kış turizmi gelişmiştir.” açıklamasını yaptıktan sonra öğrencilerden yaz deniz turizmi yapılan şehirlere örnek vermesini istemiştir. Öğrenciler aşağıdaki örnekleri vermiştir.

Ali: “Antalya”

Ayşe: “ İzmir”

Fatma: “ Artvin”

Hasan: “ Mersin”

Buna göre öğrencilerden hangisinin açıklamaya uygun örnek verdiği söylenemez?

A) Ali

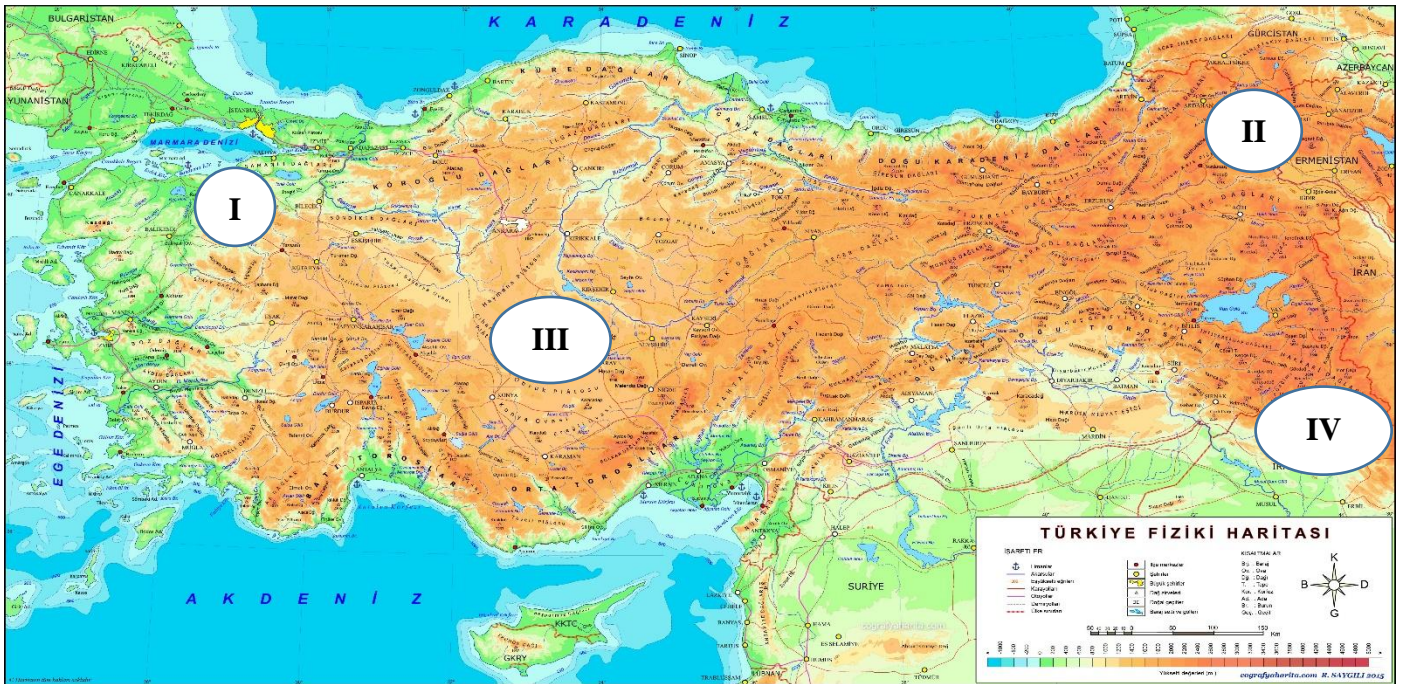
B) Fatma

C) Ayşe

D) Hasan

Soru 25: Aşağıda hayvancılıkla ilgili harita ve bazı bilgiler verilmiştir.

Ülkemizin farklı bölgelerinde yeryüzü şekilleri, iklim ve bitki örtüsü sebebiyle farklı hayvancılık türleri yapılmaktadır.



Buna göre haritadaki numaralı yerlerdeki hayvancılık türleri aşağıdakilerden hangisinde doğru olarak sıralanmıştır?

	I	II	III	IV
A)	Arıcılık	Küçükbaş	Büyükbaş	İpekböcekçiliği
B)	Küçükbaş	Arıcılık	İpekböcekçiliği	Büyükbaş
C)	Büyükbaş	İpekböcekçiliği	Arıcılık	Küçükbaş
D)	İpekböcekçiliği	Büyükbaş	Küçükbaş	Arıcılık

26. ve 27. Soruları aşağıdaki metne göre cevaplayınız.

Yaşadığım il, farklı coğrafi özelliklere sahiptir. İlimizde geniş düzlükler geniş yer kaplamaktadır. Bu ovada kuraklığa dayanıklı, arpa, buğday, nohut gibi tahıllar ekilmektedir. Kültürel değerlerimizi ziyaret etmek için ülkemizden ve yurt dışından ziyaretçiler ilimizi ziyaret etmektedir. Ayrıca şehrimizde buğday çok yetiştirildiği için buğdaya dayalı çok sayıda un fabrikası da bulunmaktadır.

Soru 26: Buna göre bu şehirde ekonomik faaliyetlerden,

I- tarım,

II- turizm,

III- büyükbaş hayvancılık

hangilerinin yapıldığına ulaşılabilir?

A) Yalnız I

B) I ve II

C) II ve III

D) I, II ve III

Soru 27: Bu ilde hangi ekonomik alanla ilgili ekonomik faaliyetten bahsedilmemiştir?

A) Dördüncül ekonomik faaliyet

B) Üçüncül ekonomik faaliyet

C) İkincil ekonomik faaliyet

D) Birincil ekonomik faaliyet

Soru 28: Eğitim, sağlık, haberleşme, bankacılık ve ulaşımın geliştiği illerde hizmete yönelik ekonomik faaliyetler daha fazladır.

Buna göre aşağıdaki şehirlerden hangisinde hizmet sektörüne yönelik ekonomik faaliyetler daha yoğunudur?

A) Bayburt

B) Tunceli

C) İstanbul

D) Burdur

Soru 29: Ulaşım ağının zenginleştiği illerde ticaret ve sanayi faaliyetlerine bağlı ekonomik faaliyetler gelişmiştir.

Buna göre aşağıdakilerden hangisi ulaşım dayalı sanayi ve ticaret faaliyetleri gelişen şehirlerden biri değildir?

A) İstanbul

B) Yozgat

C) İzmir

D) Bursa

Soru 30: Yaz mevsiminin uzun sürdüğü ve denize kıyısı olan illerimizde yaz turizmine bağlı ekonomik faaliyetler gelişmiştir.

Buna göre aşağıdaki şehirlerden hangisi yaz turizminin yaygın olduğu yerlerden biri değildir?

A) Antalya

B) İzmir

C) Aydın

D) Samsun

**5. SINIF 5.ÖĞRENME ALANI: HAYATIMIZDAKİ EKONOMİ
BECERİ TEMELLİ TEST SORULARI CEVAP ANAHTARI**

Soru-1 B	Soru-2 C	Soru-3 D	Soru-4 A	Soru-5 B	Soru-6 C
Soru-7 D	Soru-8 B	Soru-9 C	Soru-10 C	Soru-11 A	Soru-12 D
Soru-13 A	Soru-14 B	Soru-15 D	Soru-16 B	Soru-17 A	Soru-18 D
Soru-19 C	Soru-20 A	Soru-21 D	Soru-22 C	Soru-23 A	Soru-24 B
Soru-25 D	Soru-26 B	Soru-27 A	Soru-28 C	Soru-29 B	Soru-30 D

DiĞER DERS İÇERİKLERİ İÇİN AŞAĞIDAKİ KANAL LİNKLERİME TIKLAYINIZ.

İNSTAGRAM HESABIM:

<https://www.instagram.com/sosyalhocasimustafa/>

TELEGRAM HESABIM:

<https://t.me/sosyalhocasimustafakarakus>

WHATSAPP HESABIM

<https://whatsapp.com/channel/0029VaA9Dzy4o7qDiBoEdD0z>

YOUTUBE HESABIM:

<https://www.youtube.com/@sosyalhocasimustafa>