



## 5. SINIF SOSYAL BİLGİLER

### 7. ÜNİTE 1. KAZANIM AÇIK UÇLU SORULAR

#### YÖNERGE

\*\*\*\* Aşağıdaki açık uçlu soruların cevaplarını sorunun karşısındaki cevaplar yazan sütuna yazınız.

\*\*\*\* Birden çok cevabı olan sorular için numaralandırma yapılmıştır. Tüm numaralandırılan yerler doldurulmalıdır.

\*\*\* Sorular kolaylık ve takip açısından her kazanım için ayrı ayrı hazırlanmıştır.

**KAZANIM: SB.5.7.1. Ülkeler arasındaki ekonomik ilişkilerde yaşadığı ilin yerini ve önemini araştırır.**

S. NO	SORULAR	CEVAPLAR
1	<p>Aşağıda İstanbul'da farklı tarihlerde yapılan faaliyetler yer almaktadır.</p> <p>1- 1998'den beri İstanbul Uluslararası Kukla Festivali düzenleniyor.</p> <p>2- 2012 Dünya Atletizm Şampiyonası düzenlendi.</p> <p>3- 2020 yılında İstanbul'daki üniversitelerde dünyanın dört bir tarafından 56 bin öğrenci bulunmaktadır.</p> <p><b>Bu faaliyetlerin ilgili olduğu alanları yazınız.</b></p>	<p>1-</p> <p>2-</p> <p>3-</p>
2	<p>Ülkeler kendi ülkelerinde üretilmeyen veya talebi karşılanmayan ürünleri başka ülkelere alırlar.</p> <p><b>Buna göre ülkelerin başka ülkelere mal almasına ne ad verilir?</b></p>	
3	<p>Ülkeler kendi ülkelerinde üretilen ürünlerden fazlasını ihtiyacı olan başka ülkelere satarlar.</p> <p><b>Buna göre ülkelerin başka ülkelere mal satmasına ne ad verilir?</b></p>	





S. NO	SORULAR	CEVAPLAR
4	<p>* Petrol, * Doğal gaz, * Elektronik cihazlar</p> <p><b>Verilen ürünlerin ülkemiz için ithalat mı? İhracat mı? olduğunu yazınız.</b></p>	
5	<p>* Fındık, * Buzdolabı, * Otomobil, * Tekstil ürünleri</p> <p><b>Verilen ürünlerin ülkemiz için ithalat mı? İhracat mı? olduğunu yazınız.</b></p>	
6	<p><b>Peştamal Dünya Pazarına Açıldı</b> Denizli'nin Tavas ilçesine bağlı Kızılcabölük beldesinde 650 yıldır geleneksel yöntemlerle üretimi sürdürülen el dokuması peştamal, ABD, İngiltere, İtalya, Fransa, Almanya, Avustralya gibi ülkelere ihraç ediliyor. Yöre sakinleri, geleneksel yöntemle üretilen peştamalin yıllarca renk kaybetmeden kalabilmesi, tamamen pamuk olması, havludan hafif olması, hanımların çantasında fazla yer kaplamaması nedeniyle tercih edildiğini söyledi. Dokudukları kumaşın Truva gibi tarihî filmlerin kostümlerinde kullanıldığını belirten yöre sakinleri, Osmanlı'dan bugüne bu geleneği sürdürdüklerini, ürettikleri ürünlerin büyük çoğunluğunu ihraç ettiklerini söyledi. Genel Ağ haberi, 5 Aralık 2013</p> <p>1- Peştamaller hangi ülkelere satılmaktadır.</p> <p>2- Peştamalların satın alınmasında tercih edilen unsurlar nelerdir?</p> <p>3- Peştamaller hangi sanat dalında kostüm olarak kullanılmaktadır?</p> <p><b>Habere göre verilen soruları cevaplayınız.</b></p>	<p>1-</p> <p>2-</p> <p>3-</p>





S. NO	SORULAR	CEVAPLAR
	<p>Türkiye hâlihazırda dünyanın en büyük fındık ihracatçısı konumundadır. 1980’li yıllara kadar ihracatın %90’ını işlenmemiş fındık oluştururken günümüzde yaklaşık 28 çeşit işlenmiş fındık ürünü dünyanın çeşitli ülkelerine ihraç edilmektedir. Ordu, Giresun, Samsun, Sakarya, Düzce, Trabzon ve Zonguldak fındık üreten illerimiz arasındadır. Türkiye’nin fındık ihracatında, başlıca çikolata imalatçısı firmaların bulunduğu Avrupa Birliği ülkeleri (Almanya, İtalya, Fransa vb.) yaklaşık %75’lik bir paya sahiptir.</p> <p>www.ekonomi.gov.tr (Düzenlenmiştir.)</p>	1- 2- 3- 4- 5-
7	<p>1- Türkiye fındık ihracatında kaçınıcı sıradadır?</p> <p>2- Daha önce işlenmemiş fındık ihraç edilirken günümüzde 28 çeşit işlenmiş fındık ihraç edilmesi hangi alanda geliştiğimizin göstergesidir?</p> <p>3- Fındık üreten illerimiz hangi bölgede yer alır?</p> <p>4- Fındık üreten illerimizden hangisi farklı bir bölgede yer alır?</p> <p>5- İhraç edilen fındıkların çoğu hangi alanda kullanılmaktadır?</p> <p><b>Metne göre soruları cevaplayınız.</b></p>	
8	<p>Anadolu coğrafyasının içinde barındırdığı doğal, tarihî ve kültürel zenginlik Türkiye’yi önemli bir ülke hâline getirmiştir. Ülkemizin kültür mirasını korumak, yaşatmak ve tanıtmak için önemli fırsatlar barındırır. Özellikle küçük tarihî kentler için yeni yatırım ve iş olanaklarını beraberinde getirir. Nevşehir, Hatay, Mardin ve Şanlıurfa gibi şehirler yabancı misafirleri ağırlayarak ülkeler arası ekonomik ilişkilerde ön plana çıkmaktadır.</p> <p><b>Metinde hangi ekonomik faaliyetin ülke ekonomisine katkısından bahsedilmiştir?</b></p>	





S. NO	SORULAR	CEVAPLAR
9	<p>Almanya'nın Köln kentinde yapılan toplantıda Avrupalı gençlere Türkiye'deki üniversite imkânları hakkında bilgi veren görevli Avrupalı gençlerin Türk üniversitelerine ilgisinin her geçen gün daha da arttığını söyledi. Bu durumun başlıca nedeninin ise Türk üniversitelerindeki kalitenin artması olduğunu ifade etti.</p> <p>Gazete haberi, 14.09.2015 (Düzenlenmiştir.)</p> <p><b>Haberde ülkemizin hangi alandaki başarısı sebebiyle tercih edildiği vurgulanmıştır?</b></p>	
10	<p>1- Bodrum (Muğla), Alanya (Antalya)</p> <p>2- Göbeklitepe (Şanlıurfa), Çatalhöyük (Konya)</p> <p>3- Ayasofya Camii (İstanbul), Mevlana Müzesi (Konya)</p> <p><b>Bu turizm yerlerinde yapılan turizm türlerini yazınız.</b></p>	<p>1-</p> <p>2-</p> <p>3-</p>
11	<p>İstanbul Boğazı üzerinde bulunan 15 Temmuz Şehitler Köprüsü, Fatih Sultan Mehmet Köprüsü ve Yavuz Sultan Selim Köprüsü, Asya ile Avrupa kıtalarını birbirine bağlayan noktada bulunur.</p> <p><b>Buna göre İstanbul ilinin diğer ülkelerle hangi alanda yapılan faaliyetlerde rol oynadığı söylenebilir?</b></p>	





## 5. SINIF SOSYAL BİLGİLER

### 7. ÜNİTE 2. KAZANIM AÇIK UÇLU SORULAR

#### YÖNERGE

\*\*\*\* Aşağıdaki açık uçlu soruların cevaplarını sorunun karşısındaki cevaplar yazan sütuna yazınız.

\*\*\*\* Birden çok cevabı olan sorular için numaralandırma yapılmıştır. Tüm numaralandırılan yerler doldurulmalıdır.

\*\*\*\* Sorular kolaylık ve takip açısından her kazanım için ayrı ayrı hazırlanmıştır.

**KAZANIM: SB.5.7.2. Ülkeler arasındaki ekonomik ilişkilerde iletişim ve ulaşım teknolojisinin etkisini tartışır.**

S. NO	SORULAR	CEVAPLAR
1	<p>Ticari faaliyet yapanlar, iletişim teknolojisi sayesinde dünyayı yakından takip edebiliyorlar. Böylece ülkeler arası mesafeler ortadan kalkıyor, mal alıp satmak kolaylaşıyor. Genel ağdan ve televizyondan yayılan reklamlar, ürünlerin dünyada kolayca tanınmasını sağlıyor. Bu da dünya markası ürünlerin ortaya çıkmasına neden oluyor. Genel ağ, uydu sistemleri, faks ve telefon; ticaretin rahat, hızlı ve kolay yapılmasında çok etkili. Yeter ki verimli kullanmasını bilelim.</p> <p><b>Metne verilebilecek başlığı yazınız.</b></p>	
2	<p>Genel ağın ticari faaliyetlerde kullanılmasıyla masraflar azalıyor, müşteriler artıyor, dağıtım hızlanıyor ve kolaylaşıyor. Ekonomik büyümede ve ülkeler arası rekabette çok etkilidir. Ürün satışı, reklam ve ödeme işlemlerinin e - imza ile yapılması da hızlı ve güvenilir olmayı sağlar. Genel ağ üzerinden sesli, görüntülü ve yazılı iletişimin kurulması fazla masraflı değildir. Yeni pazarlar, yeni ortaklar bu yolla bulunabilir. Ülke ekonomisine katkı sağlanabilir.</p> <p><b>Metinde hangi kavramla ilgili bilgiler verilmiştir?</b></p>	





S. NO	SORULAR	CEVAPLAR
3	<p>Kimlik doğrulama amacıyla kullanılan elektronik bir veridir. Elektronik ortamdaki verinin sizin kontrolünüzden geçip geçmediğini veya başkası tarafından bu veride değişiklik yapıp yapılmadığını ortaya koyar.</p> <p>Metinde hangi kavramla ilgili bilgiler verilmiştir?</p>	
4	<p>1</p> <p>İletişim teknolojisi, ulaşım teknolojisine bağlı olarak gelişme göstermiştir.</p> <p>D Y</p> <p>2</p> <p>Ulaşım teknolojisi uluslararası ticaretin kolay ve hızlı yapılmasını sağlar.</p> <p>D Y</p> <p>4</p> <p>Günümüzde genel ağ üzerinden ticaret yapmak yaygınlaşmıştır.</p> <p>D Y</p> <p>1. çıkış 2. çıkış</p> <p>5</p> <p>İletişim teknolojinin ekonomiye katkısı yok denecek kadar azdır.</p> <p>D Y</p> <p>3. çıkış 4. çıkış</p> <p>3</p> <p>Dünya pazarında e-ticaret yoluyla yeni müşteriler bulunabilir.</p> <p>D Y</p> <p>6</p> <p>Ödeme işlemleri e-imza ile güvenli şekilde yapılabilir.</p> <p>D Y</p> <p>5. çıkış 6. çıkış</p> <p>7</p> <p>Sanal ofis uygulamaları ticari kazançta sınırlama getirmektedir.</p> <p>D Y</p> <p>7. çıkış 8. çıkış</p> <p>Görselde verilen dallanmış ağaç etkinliğinde okuduğunuz ifade doğru ise "D", yanlış ise "Y" yönünde ilerleyince hangi çıkışa ulaştığınızı belirtiniz.</p> <p>.....</p>	





S. NO	SORULAR	CEVAPLAR
5	<p>Kervanlar Anadolu'nun zenginliklerini doğuya taşıyor, atlı kuryeler haberleri süratle iletiyor, devlet işleri sorunsuzca hallediliyormuş.</p> <p><b>Metinde bahsedilen ticaret yolunun adı nedir?</b></p>	
6	<p><b>Demir İpek Yolu Projesi Hız Kazanıyor</b></p> <p>Çin ile Avrupa ülkelerini hizmete açılan demiryolu ile birbirine bağlayan çağdaş 'Demir İpek Yolu' projesi hız kazanıyor. Çin, Belarus, Almanya, Kazakistan, Moğolistan, Polonya ve Rusya, Çin-Avrupa demiryolu hattının geliştirilmesi için bir anlaşma imzaladı. Türkiye de proje bağlamında Bakü-Tiflis-Kars demiryolu hattını inşa çalışmalarını sürdürüyor. Ulaştırma ve Altyapı Bakanı, geçen ocak ayında yaptığı açıklamada, Çin'den Avrupa'ya yapılacak nakliyenin Türkiye üzerinden yapılmasının süre ve maliyet açısından daha avantajlı olduğunu dile getirmişti. Bakan, "Çin'den bir yükü İngiltere'ye, Almanya'ya, Fransa'ya göndermek yaklaşık 45-62 gün sürüyor. Çağdaş İpek Yolu'nun Türkiye ayağı sayesinde bu süre 12-15 güne düşecek. Yaklaşık dörtte biri kadar bir zamanda yük istenilen adrese ulaştırılmış olacak." demişti.</p> <p>Genel Ağ haberi, 26 Nisan 2017</p> <p>1- Ulaşım alanındaki bu ve benzeri gelişmeler ülkeler arasındaki ticareti nasıl etkileyecektir?</p> <p>2- Bu ulaşım yolu ülkemize hangi katkıları sağlayacaktır?</p> <p><b>Metne göre soruları cevaplayınız.</b></p>	<p>1-</p> <p>2-</p>
7	<p>Ulaşımın güvenli ve hızlı olmasının sonucu nedir?</p>	





S. NO	SORULAR	CEVAPLAR
8	<p>Bir yerden bir yere yük taşımak ise çok zordu. İnsanlar, yüklerini ya sırtlarında ya da hayvanların yardımı ile taşımak zorundaydılar. İnsanlığın dönüm noktalarından biri olarak kabul edilen bu icatla insanlar, yüklerini basit de olsa bir araca yüklemeyi başarmış; böylece bir noktadan diğer bir noktaya daha çabuk ve daha kolay ulaşmışlardır.</p> <p><b>Metinde geçen <u>“insanlığın dönüm noktalarından biri”</u> olarak kabul edilen bu icat nedir?</b></p>	
9	<p>Üretim ve tüketim arasında köprü oluşturan ekonominin önemli unsuru nedir?</p>	
10	<p>Taşımacılıkta deniz yolu ile 1 birim olan maliyet; demir yolunda 2,5, kara yolunda 4, hava yolunda ise 12’dir.</p> <p>1- Ticarete hangi yol tercih edilirse daha çok kar edilmiş olur?</p> <p>2- 1- Ticarete hangi yol tercih edilirse daha çok zarar edilmiş olur?</p> <p><b>Metne göre soruları cevaplayınız.</b></p>	<p>1-</p> <p>2-</p>
11	<p>Eskiden Avrupalı bir tüccarın Çin’deki ürünleri görmesi için binlerce kilometrelik yolu kat etmesi gerekiyordu. Hangi ürünleri isteyeceğini bilse bile telefon, telgraf ya da genel ağ olmadığı için bu ürünlerin listesini göndermek bile sorundu. Şimdi öyle mi?</p> <p><b><u>“Şimdi öyle mi?”</u> sorusuyla hangi alandaki gelişmenin önemi vurgulanmıştır?</b></p>	





S. NO	SORULAR	CEVAPLAR
12	1. Ürünlerle ilgili görseller, fiyat listeleri ve tanıtıcı videolar; farklı dillere çevrilerek Genel Ağ'daki sitelere yüklenir.	
	2. Farklı ülkelerde yaşayan insanlar Genel Ağ bağlantılı bilgisayar ve telefonlarla ürün veya hizmetler hakkında bilgiye ulaşırlar.	
	3. Ürünleri talep eden insanlar e-posta yazarak, telefonla görüntülü veya sesli konuşarak üreticilerle iletişime geçip siparişlerini verirler.	
	4. Satıcılar istenilen miktarda malı, uygun ulaşım araçlarıyla alıcılara gönderirler.	
	5. Alıcılar temin ettikleri malların bedelini, uluslararası bankacılık sistemleriyle satıcıya iletirler.	
Bu diyagramda ülkeler arası ilişkilerde hangi gelişmenin önemi vurgulanmıştır?		





## 5. SINIF SOSYAL BİLGİLER

### 7. ÜNİTE 3. KAZANIM AÇIK UÇLU SORULAR

#### YÖNERGE

\*\*\*\* Aşağıdaki açık uçlu soruların cevaplarını sorunun karşısındaki cevaplar yazan sütuna yazınız.

\*\*\*\* Birden çok cevabı olan sorular için numaralandırma yapılmıştır. Tüm numaralandırılan yerler doldurulmalıdır.

\*\*\*\* Sorular kolaylık ve takip açısından her kazanım için ayrı ayrı hazırlanmıştır.

**KAZANIM: SB.5.7.3. Turizmin uluslararası ilişkilerdeki önemini açıklar.**

S. NO	SORULAR	CEVAPLAR
1	İnsanların, dinlenmek, eğlenmek, alışveriş yapmak gibi amaçlarla yaptıkları seyahatlara <b>verilen ad nedir?</b>	
2	Farklı milletlere ait kültürleri tanımak <b>hangi turizm türüyle gerçekleştirilebilir?</b>	
3	Ulusların kültürel farklılıkları ve yabancı kültürleri merak eden insanların ilgisini çekmesi <b>hangi ekonomik faaliyetin gelişmesini sağlamıştır?</b>	
4	1- Milletlerarası sağlam ve kalıcı köprüler kuruluyor. 2- Farklılıklara saygı duyma imkânı sağlıyor. 3- İşsizlik ve yoksulluk azalıyor. 4- Doğanın korunmasını sağlıyor. <b>Verilen turizmin katkılarının hangi alanlarda olduğunu yazınız.</b>	1- 2- 3- 4-
5	* Çorumda yaşayan birisinin Kars'taki Ani Harabelerini ziyaret etmesi * Rize'de yaşayan birinin Çanakkale Şehitleri Abidesini görmeye gitmesi <b>Verilen örnekler hangi turizm türüne girer?</b>	



S. NO	SORULAR	CEVAPLAR
6	<p>* Kanada’da yaşayan birinin Adıyamandaki Nemrut Dağı’na gelmesi</p> <p>* İsveç’te yaşayan birinin Peru’daki Machu Picchu Antik Kent’ini görmeye gitmesi</p> <p><b>Verilen örnekler hangi turizm türüne girer?</b></p>	
7	<p>Ülkemizde <b>“Bacasız Sanayi”</b> olarak adlandırılan <b>ekonomik faaliyet nedir?</b></p>	
8	<p>Ülkemizi gezen turistler bizi yurt dışında <b>hangi ünvanla tanıtır?</b></p>	
9	<p>Yurt dışından ülkemize gelen turistler ilk kez tadına baktıkları yiyecekleri ithal etmek isteyebilirler. Gaziantep baklavası, Maraş dondurması dünyanın bir çok ülkesine ihraç edilen lezzetlerimize örnektir.</p> <p><b>Metinde turizmin hangi ekonomik faaliyet alanına katkısından bahsedilmiştir?</b></p>	
10	<p>1- Uludağ, Kartalkaya, Palandöken</p> <p>2- Akdeniz ve Ege kıyıları sahilleri</p> <p>3- Ayasofya Camii, Mevlana Müzesi</p> <p>4- Afyon (Gazlıgöl) kaplıcaları, Ankara (Ayaş) kaplıcaları, Denizli (Karahayit) kaplıcaları</p> <p><b>Verilen yerlerde hangi turizm faaliyetlerinin yapıldığını yazınız.</b></p>	<p>1-</p> <p>2-</p> <p>3-</p> <p>4-</p>
11	<p>1- Doğal ve kültürel varlıkların uluslararası koruma altına alınmasını sağlar.</p> <p>2- Farklı ülkelerin insanlarıyla kurulan dostluk ülkeler arası iletişimi olumlu etkiler.</p> <p>3- Turizmin olduğu yerlerde iş imkanları artar.</p> <p><b>Turizmin ülkelere kazandırdıkları özelliklerin hangi alanlarda olduğunu yazınız.</b></p>	<p>1-</p> <p>2-</p> <p>3-</p>



## 5. SINIF SOSYAL BİLGİLER

### 7. ÜNİTE 4. KAZANIM AÇIK UÇLU SORULAR

#### YÖNERGE

\*\*\*\* Aşağıdaki açık uçlu soruların cevaplarını sorunun karşısındaki cevaplar yazan sütuna yazınız.

\*\*\*\* Birden çok cevabı olan sorular için numaralandırma yapılmıştır. Tüm numaralandırılan yerler doldurulmalıdır.

\*\*\*\* Sorular kolaylık ve takip açısından her kazanım için ayrı ayrı hazırlanmıştır.

**KAZANIM: SB.5.7.4. Çeşitli ülkelerde bulunan ortak miras öğelerine örnekler verir.**

S. NO	SORULAR	CEVAPLAR
1	İnsanlığın kuşaktan kuşağa bıraktığı, maddi ve manevi değerlerin tümüne <b>ne ad verilir?</b>	
2	<ul style="list-style-type: none"><li>* Tüm insanların binlerce yıl süresince oluşturduğu birikimdir.</li><li>* Tek bir ulusa ait değil, tüm insanlığın malıdır.</li><li>* Katkıda bulunmak tüm insanlığın yararınadır.</li><li>* Her insan ve millet ürünlerinden yararlanma hakkına sahiptir.</li><li>* Korumak ve yeni katkılar sağlamak tüm insanlığın görevidir.</li></ul> <b>Maddelere verilebilecek başlığı yazınız.</b>	
3	1946 yılında kurulmuştur. Merkezi Paris'tedir. Amacı, milletlerarası dostluğu eğitim, bilim ve kültür üzerinden gerçekleştirmektir. <b>Bilgileri verilen uluslararası kuruluşun adı nedir?</b>	
4	1- Tarihi binalar, arkeolojik kazılar, anıtsal heykel ve tablolar, kentler, kentlerin belirli bir alanıdır. 2- Doğal güzellikler, türleri tehlike altında olan bitki ve hayvan varlıkları alanıdır. <b>Verilen ortak miras alanlarının hangi alanlarda olduğunu yazınız.</b>	1- 2-







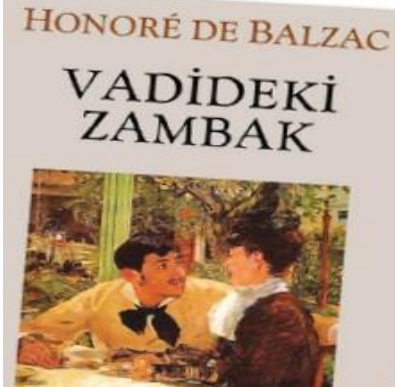




@sosyalhocasimustafa



@sosyalhocasimustafakarakus

S. NO	SORULAR	CEVAPLAR
5	<div> (1)</div> <div> (2)</div> <div> (3)</div> <div> (4)</div> <p>Görsellerin adlarını ve hangi ülkelerde olduğunu yazınız.</p>	<p>1- Orhun Yazıtları- Moğolistan</p> <p>2- Pisa Kulesi- İtalya</p> <p>3- Çin Seddi-Çin</p> <p>4- Tac Mahal-Hindistan</p>
6	<div></div> <p>Verilen bu eserlerden ortak miras olarak hangi özelliğe ulaşılabilir?</p> <p>.....</p>	
7	<p>Fransa’da doğmuş bu bilim insanı fizik, kimya ve tıp alanındaki çalışmaları ile tanınmıştır. İnsan ve hayvanlarda görülen şarbon, tavuk kolerası ve kuduz hastalıkları ile bağışıklık mekanizması ve aşı hazırlama teknikleri üzerinde çalışmıştır. Pasteur’ün tüm dünyada tanınmasını sağlayan buluşu ise kuduz aşısıdır. Kuduz aşısı diğer aşılardan da önünü açmıştır.</p> <p>Bilgileri verilen bilim insanı kimdir?</p>	



@sosyalhocasimustafa



@sosyalhocasimustafakarakus





@sosyalhocasimustafa



@sosyalhocasimustafakarakus

S. NO	SORULAR	CEVAPLAR
8	<p>Polonyalı ünlü kadın fizikçidir. Kanser hastalığını tedavi eden radyoaktivite ışınlarını bulmuştur. Bilim dalında Nobel Ödülü'nü iki kere alan ilk bilim insanı olmuştur.</p> <p><b>Bilgileri verilen bilim insanı kimdir?</b></p>	
9	<p>ABD Ulusal Bilimler Akademisi'ne seçilen ilk Türk olarak tanınır. Hücrelerin hasar gören DNA'ları nasıl onardığını ve genetik bilgisini koruduğunu haritalandıran araştırmaları sayesinde 2015 Nobel Kimya Ödülü'nü kazanmıştır. Ödülü Anıtkabir'de sergilenmektedir.</p> <p><b>Bilgileri verilen bilim insanı kimdir?</b></p>	
10	<div></div> <p><b>Verilen görsellerin hangi ortak miras alanında olduğunu yazınız.</b></p> <p>.....</p>	
11	<div></div> <p><b>Verilen görsellerin hangi ortak miras alanında olduğunu yazınız.</b></p> <p>.....</p>	



@sosyalhocasimustafa



@sosyalhocasimustafakarakus



@sosyalhocasimustafa



@sosyalhocasimustafakarakus

## 7. ÜNİTE AÇIK UÇLU SORULAR CEVAP ANAHTARI

7. ÜNİTE 1. KAZANIM CEVAP ANAHTARI			
S. NO	CEVAPLAR	S. NO	
1	1- Kültürel 2- Spor 3- Eğitim	7	1- Birinci sıradadır. 2- Sanayi alanında geliştiğimizi gösterir. 3- Karadeniz 4- Sakarya 5- Çikolata imalatında kullanılmaktadır.
2	İthalat	8	Turizm
3	İhracat	9	Eğitim
4	İthalat	10	1- Deniz turizm 2- Kültür turizmi 3- İnanç turizmi
5	İhracat	11	Ticaret
6	1- ABD, İngiltere, İtalya, Fransa, Almanya, Avustralya gibi ülkelere satılmaktadır. 2- Yıllarca renk kaybetmeden kalabilmesi, tamamen pamuk olması, havludan hafif olması, hanımların çantasında fazla yer kaplamaması nedeniyle tercih edilmektedir. 3- Sinema filmlerinde kostüm olarak kullanılmaktadır.		



@sosyalhocasimustafa



@sosyalhocasimustafakarakus





## 7. ÜNİTE 2. KAZANIM CEVAP ANAHTARI

S. NO	CEVAPLAR	S. NO	
1	İletişim teknolojisindeki gelişmelerin ticarete etkisi	7	Taşınan ürünlerin zarar görmeden ve bozulmadan yerine ulaşmasını sağlar.
2	e- ticaret	8	Tekerleğin bulunmasıdır.
3	e-imza	9	Ulaşım
4	6. Çıkış	10	1- Deniz yolu 2- Hava yolu
5	Kral yolu	11	İletişim alanındaki gelişmenin önemi vurgulanmıştır.
6	1- Süre ve maliyet açısından daha avantajlı hale getirecektir. 2- Çağdaş İpek Yolu'nun Türkiye ayağı sayesinde bu süre 12-15 güne düşecek. Yaklaşık dörtte biri kadar bir zamanda yük istenilen adrese ulaştırılmış olacaktır.	12	İletişim teknolojilerindeki gelişmelerin önemi vurgulanmıştır.

## 7. ÜNİTE 3. KAZANIM CEVAP ANAHTARI

S. NO	CEVAPLAR	S. NO	
1	Turizm	7	Turizm
2	Dış turizm	8	Gönüllü turizm elçisi
3	Turizm	9	Ticaret
4	1- Kültürel 2- Hoşgörü 3- Ekonomik 4- Çevre	10	1- Kış turizmi 2- Deniz turizmi 3- İnanç turizmi 4- Sağlık turizmi
5	İç turizm	11	1- Kültürel 2- Sosyal 3- Ekonomik
6	Dış turizm		





@sosyalhocasimustafa



@sosyalhocasimustafakarakus

## 7. ÜNİTE 4. KAZANIM CEVAP ANAHTARI

S. NO	CEVAPLAR	S. NO	
1	Ortak miras	7	Louis Pasteur (Luiz pastör)
2	Ortak mirasın özellikleri	8	Marie Curie (Mari Küri)
3	Birleşmiş Milletler Eğitim, Bilim ve Kültür Örgütü (UNESCO)	9	Aziz Sancar
4	1- Kültürel 2- Doğal	10	Edebiyat
5	1- Orhun Yazıtları- Moğolistan 2- Pisa Kulesi- İtalya 3- Çin Seddi-Çin 4- Tac Mahal-Hindistan	11	Sanat
6	Evrensellik		



@sosyalhocasimustafa



@sosyalhocasimustafakarakus



@sosyalhocasimustafa



@sosyalhocasimustafakarakus

**DİĞER DERS İÇERİKLERİ İÇİN AŞAĞIDAKİ KANAL  
LİNKLERİME TIKLAYINIZ.**

**YOUTUBE ABONE OL LİNKİ:**

<https://www.youtube.com/@sosyalhocasimustafa>

**İNSTAGRAM HESABIM:**

<https://www.instagram.com/sosyalhocasimustafa/>

**TELEGRAM HESABIM:**

<https://t.me/sosyalhocasimustafakarakus>

**WHATSAPP HESABIM:**

<https://whatsapp.com/channel/0029VaA9Dzy4o7qDiBoEdD0z>



@sosyalhocasimustafa



@sosyalhocasimustafakarakus