

SOSYAL BİLGİLER – MEB ÖRNEK SORULAR



1. Ülkemizde 1 Ocak 2019 tarihinden itibaren Çevre Kanunu kapsamında yapılan düzenleme uyarınca naylon alışveriş poşetleri ücretlendirildi. Poşetin doğaya 400 yılda karıştığı ancak poşetlerin yapıları gereği % 1'inin geri dönüşebileceği ve bu uygulama- manın çevrenin korunması açısından çok önemli olduğu yetkililer tarafından açıklandı. Bunun yanı sıra naylon poşet yerine file ve bez torba üreten işletmeler açıldı. Marketlerde alışverişlerden sonra üçer beşer aldığımız naylon poşetler ücretlenince bu duruma insan sağlığı ve çevre açısından olumlu bir gelişme olarak gören kişilerin yanında poşet ücretini ödemeye tepki gösterenler de oldu.

Bu metne göre aşağıdaki yargılardan hangisine ulaşamaz?

- A) Yeni uygulamaya insanlar farklı tepkiler vermiştir.
B) Ücretli poşet uygulaması diğer ülkeler tarafından da kullanılmaktadır.
C) Naylon poşet yerine kullanılabilir alternatif ürünler ortaya çıkmıştır.
D) Naylon poşet kullanımının azalması, çevrenin korunması açısından olumlu bir gelişmedir.

2.

- I. Üretim yaparak ülke ekonomisine katkıda bulunur.
II. Kanunlara ve kurallara uyar.
III. Haklarını bilir ve gerektiğinde kullanır.

Buna göre;

- a) Zeynep'in karşidan karşıya geçerken yaya geçidini kullanması
b) Yusuf'un yeni aldığı telefonu arızalı çıktığı için iade etmesi
c) Emin'in Konya'da un fabrikası açması

gelişmeleri örnek davranışlarla eşleştirildiğinde aşağıdakilerden hangisi doğru olur?

	I	II	III
A)	a	b	c
B)	b	a	c
C)	c	a	b
D)	c	b	a

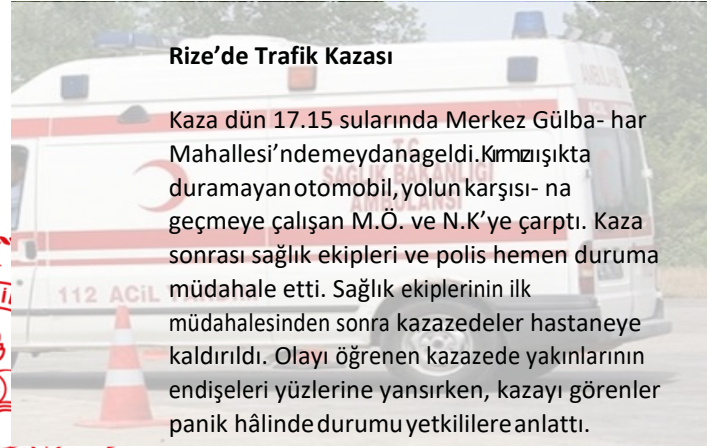
3. Muhammet ülkesinde yaşanan savaşta anne ve babasını kaybetmiş, yaşadığı ev tahrip olmuştur. Düzenli beslenemediği için sağlık sorunları da ortaya çıkmıştır. On yaşında olmasına rağmen okula devam edememektedir. Ülkesinde güvenli bir ortam olmadığı için arkadaşları ile birlikte sokağa çıkamamakta ve oyun oynayamamaktadır.

Paragrafa göre Muhammet'in,

- I. Eğitim
II. Beslenme
III. Seyahat etme
IV. Oyun oynama

haklarından hangilerinin kısıtlandığı söylenebilir?

- A. Yalnız I.B II ve III.C. I, II ve IV.D II, III ve IV.

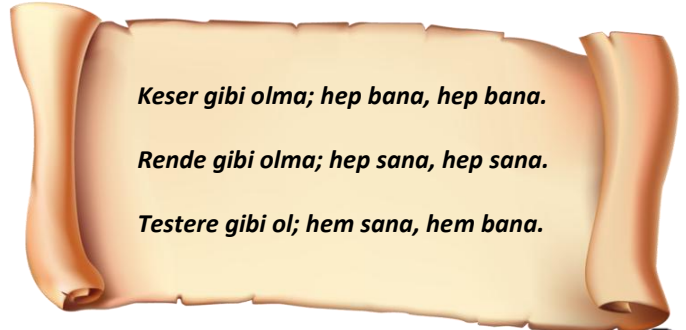


Rize'de Trafik Kazası

Kaza dün 17.15 sularında Merkez Gülba- har Mahallesi'ndemeydanageldi.Kırmızı ışıkta duramayan otomobil,yolun karşısı- na geçmeye çalışan M.Ö. ve N.K'ye çarptı. Kaza sonrası sağlık ekipleri ve polis hemen duruma müdahale etti. Sağlık ekiplerinin ilk müdahalesinden sonra kazazedeler hastaneye kaldırıldı. Olayı öğrenen kazazede yakınlarının endişeleri yüzlerine yansırken, kazayı görenler panik hâlinde durumu yetkililere anlattı.

4.Görselde verilen haber değerlendirildiğinde aşağıdaki yargılardan hangisine ulaşamaz?

- A) Olay birden çok kişiyi etkilemiştir.
B) Kaza herkesi aynı şekilde etkilemiştir.
C) Yetkili kişiler kazaya müdahale etmiştir.
D) Trafik kuralı ihlali kazaya neden olmuştur.



Keser gibi olma; hep bana, hep bana.

Rende gibi olma; hep sana, hep sana.

Testere gibi ol; hem sana, hem bana.

5.Hz. Mevlâna'nın bu sözü aşağıdaki kavramlarda hangisi ile ilişkilendirilemez?

- A) Eşitlik B) Adalet C) Özgürlük D) Hak

SOSYAL BİLGİLER – MEB ÖRNEK SORULAR



6. Verilen görsel incelendiğinde;

- Çocuk işçilerde kızların oranı erkeklere göre daha azdır.
- Tehlikeli işlerde çalışanlar daha çok erkek çocuklarıdır.
- Çocuk işçilerin temel hakları kısıtlanmaktadır.

yargılarından hangilerine ulaşılabilir?

- A) Yalnız I. B) I ve III.
C) II ve III. D) I, II ve III.

7. Dünya Çocuk Hakları Sözleşmesi'nin bazı maddeleri şunlardır:

- 18 yaşına kadar her insan çocuk sayılır.
- Çocukları ilgilendiren her türlü konuda çocuğun yararı gözetilir.
- Çocuklar düşüncelerini özgürce açıklama hakkına sahiptir.
- Hiçbir çocuğun özel hayatına, bedenine keyfi olarak müdahalede bulunulamaz.

Bu maddelere göre Çocuk Hakları Sözleşmesi ile ilgili aşağıdakilerden hangisine ulaşılabilir?

- A) 18 yaşından sonra bireylerin hakları kanunlarla korunmamıştır.
- B) Çocuk Hakları Sözleşmesi, çocukların maddi yönden gelişmesini amaçlamaktadır.
- C) Çocuklar da birer birey olarak görülmüş ve maddeler bu doğrultuda oluşturulmuştur.
- D) Sözleşmeye göre "çocukluk" kavramının sona ermesi bireyden bireye farklılık gösterebilir.

8. Bireyin içinde yaşadığı toplumun bir üyesi olma sürecine sosyalleşme denir. Bu süreçte birey, toplumun kültürel değerlerini öğrenir ve kendine has beceriler edinir.

Buna göre aşağıdaki davranışlardan hangisi sosyalleşmeye örnek davranış olamaz?

- A) Evimize gelen misafirlerle sohbet etmek
- B) Uyandığınızda aile bireylerine günaydın demek
- C) Okulda yardıma ihtiyacı olan arkadaşlarımıza yardım etmek
- D) Tüm ihtiyaçlarımızın ailemiz tarafından karşılanmasını beklemek



9. Görsele göre aşağıdaki yargılardan hangisine ulaşamaz?

- A) Çıkarılan kanunun amacı israfı önlemektir.
- B) Devlet, çevre sağlığını korumak için tedbirler almıştır.
- C) Çevreyi kirlütenlere yaptırımlar uygulanması kararlaştırılmıştır.
- D) Doğanın korunmasına yönelik düzenlemeler yapılmıştır.

10. Toplumda yaşayan insanlar bir olaydan farklı şekilde etkilenebilirler. Olayların birden fazla nedeninin ve sonucunun olmasına insanların bu olaylardan farklı şekillerde etkilenebilmesine olayların çok boyutluluğu denir.

Buna göre aşağıda verilen durumlardan hangileri çok boyutlu olay olarak değerlendirilemez?

- A) Organ bağışında bulunulması
- B) Mahalleye yeni bir okul açılması
- C) Sel felaketinin meydana gelmesi
- D) Akşam yatmadan önce kitap okunması

11. Mehmet, 5. sınıf öğrencisidir. Maddi durumları iyi olmadığı için babası Mehmet'i okuldan alıp oto tamircisinin yanında çalışması için sanayiye göndermiştir. Fakat dersleri iyi olan Mehmet okula gitmek istemektedir.

Buna göre Mehmet'in;

- Çocuklar ihtiyaçlarına, ilgilerine ve yeteneklerine uygun kalitede bir eğitim görme hakkına sahiptir.
- Çocuklar kendilerini ilgilendiren bütün konu ve sorunlarda düşüncelerini söyleme, karara katılma hakkına sahiptir.
- Çocuklar savaşta ve sığınmacı durumlarda özel olarak korunma hakkına sahiptir.

haklarından hangileri ihlal edilmiştir?

- A) Yalnız II. B) I ve II. C) I ve III. D) I, II ve III.

SOSYAL BİLGİLER – MEB ÖRNEK SORULAR

Trafikteki tedbirler işe yaradı, can kaybı azaldı

Alınan önlemler ve yapılan denetimler sayesinde, bu yılki bayram tatili geçen yılki 9 günlük Kurban Bayramı tatiline oranla can kaybı sayısını düşürdü



ÖLÜMLÜ KAZALARIN OLUŞ ŞEKLİ



12. Verilen görsel incelendiğinde aşağıdaki yargılardan hangisine ulaşamaz?

- Ölümlü kaza sayısı her yıl artmaktadır.
- Ölümlü kazaların bir çoğunun nedeni yoldan çıkmadır.
- Trafik kazaları farklı sebeplerle meydana gelmektedir.
- Trafik kazaları ölüm ve yaralanmalara neden olmaktadır.

I

II

III

Olay hangi insanları etkilemiştir?	Olayın nedenleri nelerdir?	Olayın insanlara etkileri nelerdir?
------------------------------------	----------------------------	-------------------------------------

13. Bir olayın çok boyutluluğu incelenirken cevaplanması gereken sorular yukarıda verilmiştir.

Mehmet Bey'in sağlık sorunlarından dolayı tayini İstanbul'a çıkmıştı. Oğlu Can ve eşi ile yeni bir şehre uyum sağlama konusunda heyecanlıydılar. Can annesine yeni arkadaşlar edinip edinmeyeceğini sorduğunda annesi "Bunun zamanla olacağını beklemesi gerektiğini" söyledi.

Bu metinde olayların çok boyutluluğu incelenirken yukarıda numaralandırılmış cevaplanması gereken sorulardan hangilerine değinilmiştir?

- Yalnız II.
- I ve III.
- II ve III.
- I, II ve III.

14. 5/A sınıfında okuyan Hakan yaşadığı şehrin Akdeniz İklimi kuşağında olduğunu, mevsimlere göre yağış ve sıcaklık durumunu Sosyal Bilgiler dersinde öğrendi.

Buna göre Sosyal Bilgiler dersinin Hakan'a katkısı aşağıdakilerden hangisidir?

- Eleştirel düşünebilme
- Yaşadığımız çevrenin coğrafi özelliklerini tanıma
- Bilim ve teknolojinin olumlu-olumsuz etkilerini öğrenme
- Ekonomik faaliyetlerin insan hayatındaki önemini kavrayabilme

15. "Şanlıurfa'nın Akçakale ilçesinde yaşayan mevsimlik tarım işçisi, 7 çocuklu Ahmet ve Hatice çiftinin altıncı çocukları olan Halime, bedensel engelli olarak doğdu. Bacakları tutmayan ve ellerini tam olarak kullanamayan çocuklarının iyileşmesi için mücadele eden aile, yetkililerin de desteğiyle kızlarının ameliyat olmasını sağladı. Geçirdiği operasyonlara rağmen şifa bulamayan kızları için fedakârlıktan vazgeçmeyen anne Hatice Hanım, titizlikle hazırladığı kızını sırtında taşıyarak her gün evlerine yaklaşık 700 metre mesafedeki okula bırakıyor. Fedakâr anne, öğretmenlerinin yakından ilgilendiği kızını okul çıkı- şında da aynı şekilde evine getiriyor."

Verilen haber metninde çocukların;

- Eğitim
- Barınma
- Beslenme

haklarından hangilerinin karşılanmasındaki zorluklardan bahsedilmektedir?

- Yalnız I.
- Yalnız II.
- I ve II.
- II ve III.

16. Cırcır böceği ile karınca şiddetli bir şekilde tartışıyorlarmış. Cırcır böceği bütün yazı saz çalarak şarkı söyleyerek eğlenerek geçirmişti. Karınca ise tam tersine yazı yiyecek toplayarak, çalışarak geçirmiş; dişini tırnağına takmış çürümüş. Karakış bastırmış, kar her tarafı kaplamış. Cırcır böceği yiyeceksiz kalınca karıncanın kapısını çalmıştı. Karınca ise cırcır böceğine bütün yaz çaldın şimdi oynama zamanı diyerek kapıyı kapatmıştı.

Bu hikayeden yola çıkılarak cırcır böceğinin aşağıdaki kavramlardan hangisinde sıkıntı yaşadığı söylenebilir?

- Rol
- Hak
- Model
- Sorumluluk

17. KAİBAB CEYLANININ YOK OLUŞU

"Bir zamanlar Kaibab dengeli bir yaşam içinde iken, oradaki halk bu ceylanları kurtlar ve sırtlanlardan koruyalım diyerek, çevredeki kurt ve sırtlanların tümünü öldürmüşler. Düşmanları ölen ceylanlar büyük bir hızla çoğalmaya başlamışlar ve sayıları o kadar çok artmış ki, kendilerine o çevrede yiyecek yetişmemeye başlamış. Yiyecek yokluğundan büyük sayılarda ölmeye başlamışlar. Tek tek kurt ve sırtlanların öldüreceklerinden çok daha fazlası, açlıktan sürüler halinde ölmüş. Ayrıca o çevredeki bitki örtüsü aç ceylanların her şeye saldırmasından büyük zarar görmüş."

Metinde verilen bu olay için aşağıdaki

SOSYAL BİLGİLER – MEB ÖRNEK SORULAR

yorumlardan hangisi söylenemez?

- A) Bir olayın sonucu başka olayların nedeni olmuştur.
- B) İnsanlar doğal dengeye müdahalede bulunmuşlardır.
- C) Dünyadaki kurt ve sırtlanların nesli yok olmuştur.
- D) Çevredeki bitki örtüsü zarar görmüştür.

18. Okulumuzda her yıl yapılan öğrenci temsilcisi seçimlerine katılıyoruz. Bu seçimlerde aday arkadaşlarımız, gerek yaptıkları konuşmalar gerekse hazırladıkları pankart ve broşürlerle yapacakları faaliyetler hakkında bize bilgiler veriyor. Biz de bu bilgilerden yararlanarak, kime oy vereceğimizi belirleyip seçimimizi yapıyoruz.

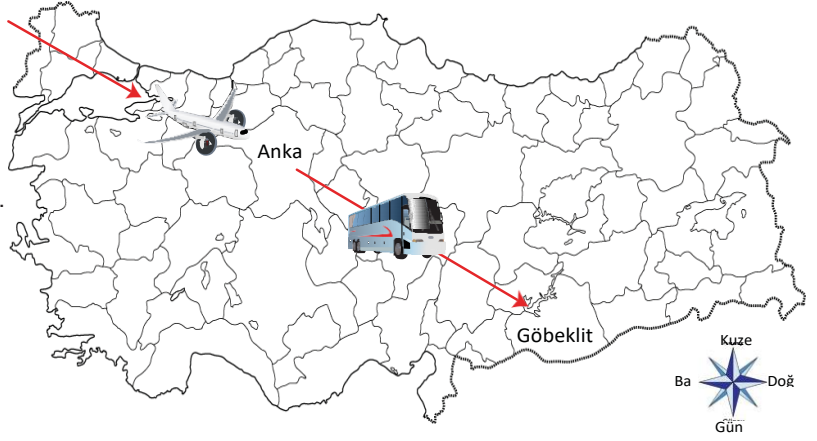
Bu faaliyetin, Sosyal Bilgiler dersinin amaçlarından olan hangi davranışı kazandırdığı söylenebilir?

- A) Okul kültürünü tanımak
- B) Çevre bilinci kazanmak
- C) Eğitimin önemini anlamak
- D) Demokrasi kültürünü benimsemek

19. Zehra; dağların arasında, suları çağlayarak akan, havası mis gibi yemyeşil bir köyde dedesi ve babaannesıyla yaşıyor, on- lara hayvanların bakımında ve bahçe işlerinde yardım ediyordu. Maddi sıkıntılar nedeniyle okula başlayamamıştı. Köyleri en yakın okula 5 km uzaklıktaydı. Dedesi bu yıl da okula gidemeyeceğini söylediğinde Zehra çok üzülmüştü.

Bu parçada aşağıdaki çocuk haklarının hangisinin ihlalden söz edilmektedir?

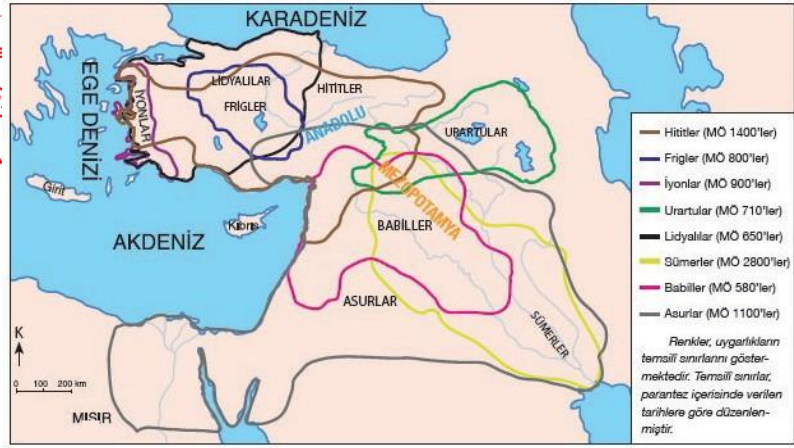
- A) Her çocuğun duygu ve düşüncelerini istediği şekilde açıklama hakkı vardır.
- B) Her çocuk eğitimi tam yapabilmek için desteklenir ve korunur.
- C) Her çocuğun sağlık hizmetinden yararlanma hakkı vardır.
- D) Her çocuk seyahat etme hakkına sahiptir.



20. UNESCO tarafından 2018 yılı Dünya Miras Listesi'nde yer alan dünyanın en büyük ve en eski ibadet yeri olan Göbeklitepe'yi görmek isteyen bir turist grubunun uçağı Ankara Esenboğa Havaalanına inmiştir.

Seyahatlerine karayolu ile devam edecek olan grubun otobüsleri bundan sonra Türkiye'nin hangi yönüne doğru hareket etmelidir?

- A) Kuzeydoğu B) Güneydoğu
- C) Kuzeybatı D) Güneybatı



Anadolu ve Mezopotamya Uygarlıkları Haritası

21. Yukarıda verilen Anadolu ve Mezopotamya uygarlıklarına ait haritaya bakılarak;

- I. Göç yolları üzerinde bulunması dolayısıyla birçok istilaya uğramıştır.
- II. Uygarlıklar farklı dönemlerde ve yerlerde hüküm sürmüşlerdir.
- III. Anadolu ve Mezopotamya birçok uygarlığa ev sahipliği yapmıştır.

yargılarından hangilerine ulaşılabilir?

- A) Yalnız IIB) I ve IIC) II ve III D) I, II ve III