

S-1) Aşağıdakilerden hangisi Akdeniz ve Ege kıyılarımızda etkili olan “Akdeniz İkliminin” özelliklerinden biri değildir? (DPY 1999)

- A) Yazlar sıcak ve kurak
- B) Kışlar ılık ve yağışlı
- C) Don ve kar olaylarına az rastlanır
- D) Her mevsim yağışlıdır

S-2) Kış mevsiminde ölçülen en düşük sıcaklıklar, hangi bölgemizde görülür? (DPY 1996)

- A) İç Anadolu
- B) Marmara
- C) Doğu Anadolu
- D) Güneydoğu Anadolu

S-3) Aşağıdaki plâtolardan hangisi İç Anadolu Bölgesi’nde yer almaz? (DPY 2000)

- A) Taşeli
- B) Obruk
- C) Bozok
- D) Uzunyayla

S-4) Ülkemizin üç tarafının denizlerle çevrili olması, aşağıdakilerden hangisi üzerinde etkili olmamıştır?(DPY 2000)

- A) İklimin çeşitlenmesinde
- B) Ormanların dağılışında
- C) Yer altı kaynaklarının zenginleşmesinde
- D) Turizm etkinliklerinde

S-5) Kara ikliminin en belirgin özelliği, aşağıda verilen bölge çiftlerinden hangisinde görülmektedir? (DPY 2001)

- A) Ege-İç Anadolu
- B) Karadeniz-Doğu Anadolu
- C) Güneydoğu Anadolu-Marmara
- D) Doğu Anadolu-İç Anadolu

S-6) Kıyı bölgelerimizdeki yağış miktarı, iç bölgelerden daha fazladır. Aşağıdakilerden hangisi bunun sebebi değildir? (DPY 2001)

- A) Denizden gelen nemli rüzgârların etkisi
- B) İç kesimlere gidildikçe yükseltinin artması
- C) Kuzey ve güneyde dağların kıyıya paralel uzanması
- D) İç kesimlere gidildikçe orman alanlarının azalması

S-7) Karadeniz ikliminin hakim olduğu alanlar için aşağıdakilerden hangisi söylenemez? (DPY 2002)

- A) Yaz ve kış mevsimleri arasında sıcaklık farkı çok fazladır.
- B) Ormanlık alanlar geniş yer kaplar.
- C) Türkiye’nin en çok yağış alan yerleridir.
- D) Bu alanlara her mevsim yağış düşer.

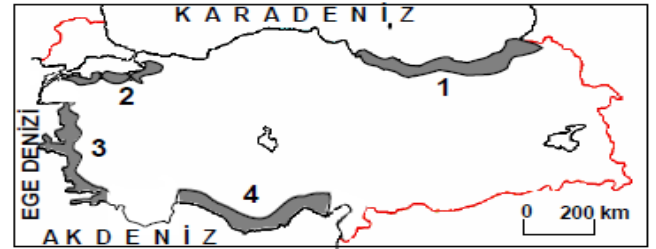
S-8) Aşağıdaki bilgilerden hangisi Akdeniz ikliminin görüldüğü yerler için söylenemez? (DPY 2003)

- A) Doğal bitki örtüsü makilerdir.
- B) Don olaylarına nadiren rastlanır.
- C) Her mevsim bol yağış alır.
- D) Ege ve Akdeniz kıyılarında görülür.

S-9) Aşağıdaki coğrafi bölgelerden hangisinde maki bitki topluluğuna rastlanmaz? (DPY 2003)

- A) Akdeniz
- B) Ege
- C) Marmara
- D) Doğu Anadolu

S-10) DPY 2004



Yukarıdaki Türkiye haritasında, taranarak gösterilmiş kaç numaralı yerin, karakteristik bitki örtüsünü maki alanlar oluşturmaz?

- A) 1
- B) 2
- C) 3
- D) 4

S-11) DPY 2005

Aşağıdakilerden hangisi, depremden önce alınacak tedbirlerden biri değildir?

- A) Ağaçlandırma çalışmalarına önem vermek.
- B) Binaları az katlı ve dayanıklı yapmak.
- C) Acil kurtarma ve yardım ekipleri kurmak.
- D) Halkı deprem konusunda bilgilendirmek.

S-12) DPY 2005

Türkiye’de çeşitli iklim tiplerinin görülmesinde aşağıdakilerden hangisi etkili değildir?

- A) Ortalama yükseltinin fazla olması
- B) Kıyılarının girintili – çıkıntılı olması
- C) 36° – 42° kuzey enlemleri arasında olması
- D) Etrafının denizlerle çevrili olması

S-13) DPY 2005

Türkiye’de arazinin yanlış kullanımı toprak erozyonunun oluşmasındaki en önemli sebeplerden biridir. Buna göre, aşağıdakilerden hangisi arazinin yanlış kullanımına örnektir?

- A) Tarım alanlarını suyun akışı yönünde sürmek.
- B) Eğimli yamaçları basamaklandırmak (teraslamak).
- C) Otlak ve meralarda aşırı otlatmayı engellemek.
- D) Eğimli arazilerde ağaçlandırma yapmak.

S-14) İklim; etkili olduğu yörede aşağıdaki özelliklerden hangisini en az etkiler? (DPY 2006)

- A) Yetiştirilen tarım ürünlerini
- B) Çıkarılan yeraltı kaynaklarını
- C) Halkın giyim biçimini
- D) Evlerin yapı malzemelerini

S-15) • Türkiye’nin büyük bir kısmı tehdidi altındadır.

• Çok fazla can ve mal kaybına sebep olabilir.
• Çok hızlı ve ani olarak gelişir.
• Deniz ve okyanuslarda tsunami denilen büyük dalgalara neden olabilir. Verilen özelliklerin tamamı aşağıdaki doğal afetlerden hangisine aittir? (DPY 2006)

- A) Deprem B) Çığ
- C) Erozyon D) Toprak kayması

S-16) Fiziki haritalarda karalarda yükselti arttıkça haritalarda kullanılan renkler koyulaşır. Buna göre hangi coğrafi bölgemizde koyu renkler daha çok kullanılmıştır? (DPY 2006)

- A) Marmara
- B) İç Anadolu
- C) Güneydoğu Anadolu
- D) Doğu Anadolu

S-17) Aşağıdaki doğal afetlerden hangisi Türkiye’de can ve mal kaybına daha çok sebep olur? (DPY 2007)

- A) Depremler B) Heyelanlar
- C) Çığ düşmeleri D) Şiddetli kuraklık

S-18) DPY 2007

Herhangi bir yerde bir günde meydana gelen hava olayları o yerin günlük hava durumudur.

Buna göre aşağıdaki ifadelerden hangisinde hava durumundan söz edilmemiştir?

- A) Pazar günü hava güneşliydi ailece pikniğe gittik.
- B) Dünkü rüzgârdan evimizin çatısı yıkılmış.
- C) Sabah havadaki sis trafik kazalarına neden oldu.
- D) Kış mevsimi için yeni botlar aldım.

S-19) DPY 2007

- I- Etrafının dağlarla çevrili olması
 - II- Bitki örtüsünde bozkırların yaygın olması
 - III- Denizlerden uzak olması
 - IV- Tarımsal ürün çeşitliliğinin az olması
- Yukarıda verilenlerden hangileri İç Anadolu Bölgesi’nde karasal iklim görülmesinin nedenlerindendir?

- A) I ve II B) I ve III
- C) II ve IV D) III ve IV

S-20) DPY 2008

Hasan’ın yaşadığı yörede yaz mevsiminin yağışlı geçmesi yetişmesine imkân sağlıyor. Böylece burada büyükbaş hayvancılık en önemli ekonomik faaliyet oluyor.

Paragrafta boş bırakılan yere aşağıdakilerden hangisi gelmelidir?

- A) Cılız bitkilerin B) Ormanların
- C) Gür otların D) Pamuğun

S-21) DPY 2008

İstanbul, ülkemizde nüfusun en sık ve en fazla olduğu ildir.

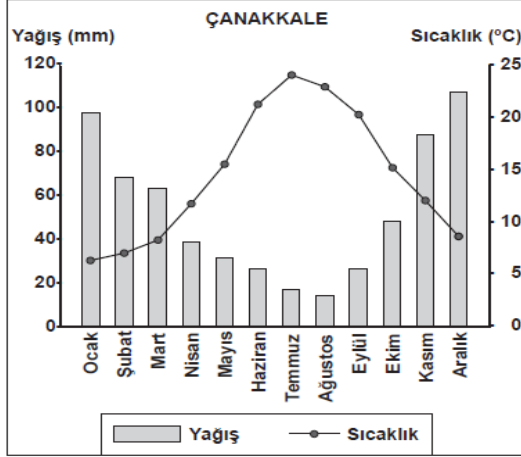
Bunda İstanbul’un hangi özelliğinin etkisi yoktur?

- A) Zengin bitki örtüsünün
- B) Yoğun sanayi kuruluşlarının
- C) Uygun iklim şartlarının
- D) Gelişmiş ulaşım sistemlerinin

S-22) Bitki örtüsünün cılız, eğimin fazla olduğu yamaçlarda aşırı kar yağışı aşağıdaki doğal afetlerden hangisine neden olur? (DPY 2008)

- A) Heyelan B) Çığ
C) Deprem D) Kuraklık

S-23) DPY 2009



Yukarıda Çanakkale'nin yağış ve sıcaklık grafiği verilmiştir. Buna göre en fazla yağış hangi mevsimde düşmektedir?

- A) Kış B) İlkbahar
C) Sonbahar D) Yaz

S-24) DPY 2009

Fiziki haritalarda kullanılan mavi renk ve tonları aşağıdakilerden hangisini gösterir?

- A) Dağ ve tepeleri
B) Ova ve platoları
C) Deniz, göl ve akarsuları
D) Orman, çayır ve meraları

S-25) DPY 2009

17 Ağustos 1999'da Marmara Bölgesi'nde meydana gelen, çok sayıda can ve mal kaybına neden olan doğal afet aşağıdakilerden hangisidir?

- A) Deprem B) Heyelan
C) Çığ D) Sel baskını

S-26) DPY 2009

Yağışın yetersiz olduğu kurak bölgelerdeki kırsal alanlarda görülen toprak evler aşağıdaki bölgelerimizden hangisinde daha yaygındır?

- A) Ege Bölgesi
B) Akdeniz Bölgesi
C) Marmara Bölgesi
D) Güneydoğu Anadolu Bölgesi

S-27) DPY 2009

İnsanların doğada yaptıkları değişiklikler sonu beşeri unsurlar ortaya çıkar.

Buna göre aşağıdakilerden hangisi beşeri unsura örnek gösterilir?

- A) Çoruh Nehri B) Atatürk Barajı
C) Van Gölü D) Erciyes Dağı

S-28) Aşağıdakilerin hangisi doğayı erozyondan korumaya yönelik bir çalışmadır? (PYBS 2010)

- A) Kırsalda küçükbaş hayvancılığı yaygınlaştırmak
B) Makineli tarımı yaygınlaştırmak
C) Tarım bitkilerini sık sık ilaçlamak
D) Çıplak arazileri ağaçlandırma

S-29) Türkiye'nin iklim özellikleri dikkate alındığında, aşağıdaki yerlerin hangisinde kış mevsiminin ılıman geçmesi yakıt masraflarını en aza indirir? (PYBS 2010)

- A) Ankara B) Kütahya
C) Erzurum D) Hatay

S-30) Ahmet: Anne biz de bahçemizde muz yetiştirebilir miyiz?

Anne : Tabi ki oğlum, bizim burada kış mevsimi ılık geçtiği için komşularımız gibi biz de bahçemizde muz yetiştirebiliriz.

Yukarıdaki konuşmalara göre Ahmet ve ailesi nerede yaşıyor olabilir? (PYBS 2010)

- A) Uşak B) Ankara
C) Antalya D) Erzurum

S-31) Türkiye fiziki haritasını inceleyen bir öğrenci aşağıdakilerden hangisiyle ilgili çıkarım yapamaz? (PYBS 2010)

- A) Denizlerin konumuyla
- B) Dağların uzanış yönüyle
- C) Nüfus hareketleriyle
- D) Akarsuların dağılışıyla

S-32) Aşağıdakilerden hangisi, Türkiye’de farklı iklim tiplerinin görülmesinin bir sonucudur? (PYBS 2010)

- A) Çok çeşitli sebze ve meyvelerin yetişmesi
- B) Yeraltı kaynaklarının çeşitlilik göstermesi
- C) Platoların geniş alanlar kaplaması
- D) Etrafının denizlerle çevrili olması

S-33) PYBS 2011

Mert’in yaşadığı yerde aşağıdaki doğal afetlerden hangisi görülür?

Yaşadığım yer dik yamaçlarla çevrili, engebeli bir yapıya sahiptir. Çok fazla yağış almaktadır. Toprağımız da killi, kaygan özelliğe sahip olduğu için ağaçlandırılmamış yamaçlardaki toprak, aşağıya doğru kütleler hâlinde kayıyor.



- A) Sel
- B) Erozyon
- C) Heyelan
- D) Deprem

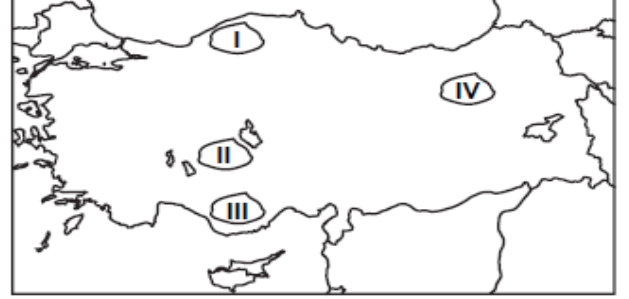
S-34) PYBS 2011

Aşağıdaki afetlerden hangisi oluşum nedeni açısından diğerlerinden farklıdır?

- A) Heyelan
- B) Deprem
- C) Sel
- D) Yangın

S-35) PYBS 2011

Kışın ısınma probleminin yaşanmadığı, yazların sıcak ve kurak geçtiği kırsal alanlarda görülen taş evler aşağıda numaralandırılarak verilen alanların hangisinde yaygındır?



- A) I
- B) II
- C) III
- D) IV

S-36) PYBS 2011

Yeryüzü şekilleri ve iklim koşullarının elverişli olduğu yerlerde genellikle nüfus yoğunluğu fazladır.



Buna göre, haritada verilen illerden hangisinde nüfus yoğunluğu daha azdır?

- A) Zonguldak
- B) Siirt
- C) Samsun
- D) İzmir

S-37) PYBS 2011

Antalya, yoğun nüfuslu illerimizden biridir. Özellikle yaz aylarında bu yoğunluk daha da artmaktadır.

Bu durumun ortaya çıkmasında Antalya’nın hangi özelliğinin etkisi yoktur?

- A) Çeşitli tarımsal faaliyetlerin olması
- B) Turistik değerlere sahip olması
- C) İklimin elverişli olması
- D) Bitki örtüsünün maki olması

S-38) PYBS 2011

- I- Bolu tünelinin yapılması
II- Fırat nehri üzerinde Atatürk barajının yapılması
III- Doğu Karadeniz’de balıkçılık yapılması
Yukarıdakilerden hangileri insanların doğal ortamı değiştirmesine kanıt olarak gösterilir?

- A) I - III B) I - II C) II - IV D) III - IV

S-39) PYBS 2011

Aşağıdakilerden hangisi erozyonu önlemek için alınan tedbirlerden biridir?

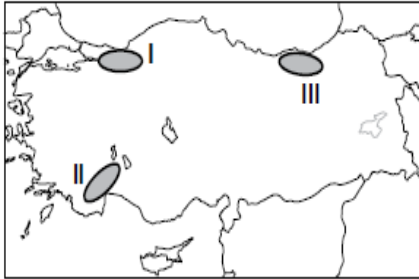
- A) Tarlaların eğim doğrultusunda sürülmesi
B) Meraların aşırı otlatılması
C) Bataklıkların kurutulması
D) Ağaçlandırma çalışmaları

S-40) PYBS 2012

Aşağıdakilerden hangisi depremin etkilerini azaltmak için yapılacak uygulamalardan biridir?

- A) Çok katlı binalar yapmak
B) Evleri gevşek zemine yapmak
C) Binalarda dayanıklı malzeme kullanmak
D) Fay hatları yakınlarına yerleşmek

S-41) PYBS 2012



Haritada numaralandırılarak verilen alanlarla burada görülen afetler, aşağıdakilerden hangisinde doğru olarak eşleştirilmiştir?

- | I. | II. | III. |
|------------------|---------------|---------|
| A) Orman yangını | Deprem | Heyelan |
| B) Deprem | Orman Yangını | Heyelan |
| C) Orman Yangını | Heyelan | Deprem |
| D) Heyelan | Orman Yangını | Deprem |

S-42) PYBS 2012

Ayşe okul ödevi için aşağıdaki tabloyu hazırlamıştır:

DOĞAL AFET	Etkilerini azaltmak için öneri
Deprem	Binaları az katlı yapmak
Kuraklık	Suyu tasarruflu kullanmak
Orman yangını	Ormanları yerleşime açmak
Erozyon	Ağaçlandırma çalışmaları yapmak

Bu tabloya göre hangi doğal afet için verdiği öneri uygun değildir?

- A) Deprem B) Kuraklık
C) Erozyon D) Orman yangını

S-43) PYBS 2012

Aşağıda verilenlerden hangisi kabartma haritaları üzerinde gösterilemez?

- A) Gediz Nehri B) Malatya Ovası
C) Ağrı Dağı D) Düden Şelalesi

S-44) PYBS 2012

Yaşadığımız bölgedeki köylerin en önemli sorunu erozyondur. Bu yüzden çayır ve meralarımız azaldı, tarım topraklarımız küçüldü ve gelirlerimiz düştü. Bütün bunların sonunda pek çok aile şehirlere göç etti.

Aşağıdakilerden hangisini yapmak bu bölgedeki soruna çözüm getirir?

- A) Ağaçlandırma çalışmaları
B) Sağlam konutlar yapmak
C) Su kaynaklarını aşırı kullanmak
D) Büyükbaş hayvancılığa önem vermek

S-45) PYBS 2012

Aşağıdakilerden hangisi Türkiye’de nüfus yoğunluğu yüksek olan yerlerin genel özelliklerinden biridir?

- A) Yer şekillerinin dağlık olması
B) Yeraltı kaynaklarının fakir olması
C) Ilıman iklim özelliklerine sahip olması
D) Tarım topraklarının verimsiz olması

S-46) PYBS 2013



Ülkemiz, riskli deprem kuşaklarının olduğu bir bölgede yer alıyor. Bunun için binalarımızı, Deprem Yönetmeliği'ne uygun olarak inşa etmeliyiz.

Sınıf arkadaşlarına bu bilgiyi veren Elif, acaba aşağıdaki öğrenci kulüplerinden hangisine üyedir?

- A) Sivil Savunma
- B) Çevre Koruma
- C) Kütüphanecilik
- D) Gezi, Tanıtma ve Turizm

S-47) PYBS 2013

Karasal iklimin etkili olduğu bir bölgede yaşayan kişi aşağıdakilerden hangisini söyler?

- A) Kışın çok kalın giyiniriz.
- B) Çevremizde makiler yaygındır.
- C) Yağışlar kışın genellikle kar şeklindedir.
- D) Buğday ve arpa çok ürettiğimiz ürünlerdendir.

S-48) PYBS 2013

İklim şartları ve yer şekillerinin uygun olduğu, ulaşım ağı ile iş imkânlarının geliştiği yerlerde nüfus yoğunluğu yüksektir.

Buna göre, aşağıdaki bölgelerimizin hangisinde nüfus yoğunluğu daha yüksektir?

- A) İç Anadolu Bölgesi
- B) Karadeniz Bölgesi
- C) Marmara Bölgesi
- D) Güneydoğu Anadolu Bölgesi

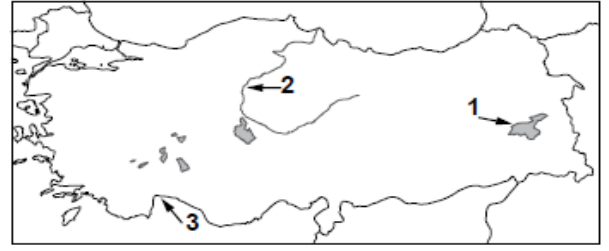
S-49) PYBS 2013

- Aşırı yağış
- Eğimli arazi
- Bitki örtüsünün tahribi

Verilenlerin tamamı bir araya gelince aşağıdaki doğal afetlerden hangisi gerçekleşir?

- A) Sel
- B) Deprem
- C) Yangın
- D) Kuraklık

S-50) PYBS 2013



Haritada numaralandırılarak verilen yeryüzü şekilleri aşağıdakilerin hangisinde doğru eşleştirilmiştir?

1	2	3
A) Akarsu	Göl	Körfez
B) Göl	Körfez	Akarsu
C) Körfez	Akarsu	Göl
D) Göl	Akarsu	Körfez

S-51) PYBS 2013

Aşağıdakilerin hangisinde iklimin etkisi yoktur?

- A) Turizm sezonunun başlangıcı ve bitişinde
- B) Yeraltı kaynaklarının dağılışında
- C) Tarımsal ürünlerin çeşitliliğinde
- D) Bitki türlerinin dağılışında

S-52) PYBS 2014

Türkiye'de yazların sıcak ve kurak kışların ılık ve yağışlı geçtiği bir bölge için aşağıdakilerden hangisi kesinlikle söylenebilir?

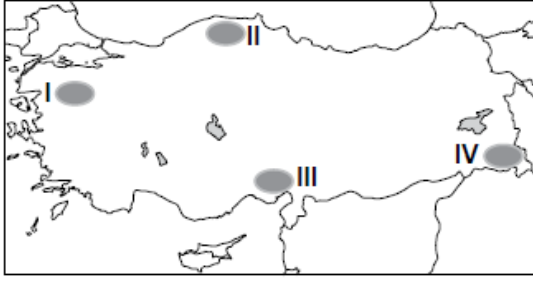
- A) Yaz turizminin gelişmiş olduğu
- B) Tarımsal üretimin düşük olduğu
- C) Maki bitki örtüsünün yaygın olduğu
- D) Ticari faaliyetlerin önemli olduğu

S-53) PYBS 2014

Türkiye fiziki haritasında aşağıdakilerden hangisi yeşil renk ile gösterilir?

- A) Antalya Ovası
- B) Konya Ovası
- C) Uzunyayla Platosu
- D) Küre Dağları

S-54) PYBS 2014



Haritada numaralandırılarak verilen alanlardan hangisinde çığ olayının görülme ihtimali daha fazladır?

- A) I B) II C) III D) IV

S-55) PYBS 2014

Ülkemizde nüfusun en yoğun olduğu yer Marmara Bölgesi'dir.

Bu duruma bölgenin hangi özelliğinin etkisi en azdır?

- A) İkliminin ılıman olması
B) Sanayisinin gelişmiş olması
C) Arazisinin düz ve verimli olması
D) Komşu ülkelere sınırının olması

S-56) PYBS 2014

Çay, ılıman iklim ve bol yağış isteyen bir tarım ürünüdür.

Buna göre, aşağıdaki yerlerin hangisi çay tarımı için elverişli şartlara sahiptir?

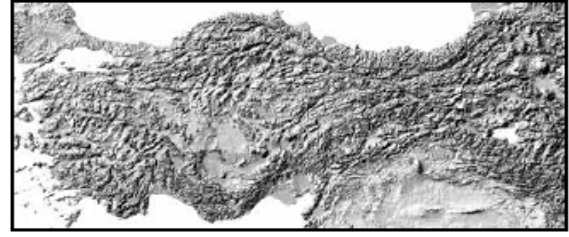
- A) Ege kıyı kuşağı
B) Tuz gölü çevresi
C) Çukurova ve çevresi
D) Doğu Karadeniz kıyı kuşağı

S-57) PYBS 2015

Bir fiziki haritada kahverengi rengin fazlaca kullanılması o bölgenin hangi özelliğini gösterir?

- A) Karasal iklim tipinin görüldüğünü
B) Ortalama yükseltisinin fazla olduğunu
C) Tarımsal faaliyetlerin yapıldığını
D) Orman örtüsünün zayıf olduğunu

S-58) PYBS 2015



Türkiye Kabartma Haritası

Bu haritaya bakıldığında aşağıdaki coğrafi özelliklerden hangisi tespit edilir?

- A) İklim özellikleri
B) Nüfus yoğunluğu
C) Yeryüzü şekilleri
D) Bitki örtüsü özellikleri

S-59) PYBS 2015

Çarşamba'yı sel aldı.
Bir yâr sevdim el aldı.
Keşke sevmez olaydım.
Elim koynumda kaldı.

Bu türküyeye konu olan doğal afetin sebebi aşağıdakilerden hangisidir?

- A) Aşırı yağış B) Yer sarsıntısı
C) Yer kayması D) Kuraklık

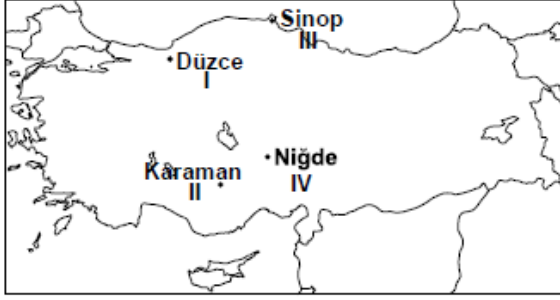
S-60) PYBS 2015

Ülkemizde ortalama yükseltinin en az olduğu bölge Marmara Bölgesi'dir.

Buna göre Marmara Bölgesi'ni gösteren fiziki haritada aşağıdaki renklerden hangisi daha çok kullanılır?

- A) Kahverengi B) Sarı
C) Turuncu D) Yeşil

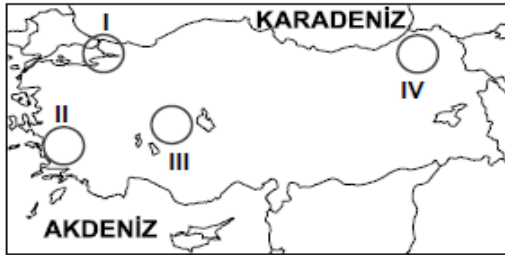
S-61) PYBS 2015



Haritada gösterilen şehirlerin hangisinde deprem olma ihtimali daha fazladır?

- A) I. B) II. C) III. D) IV.

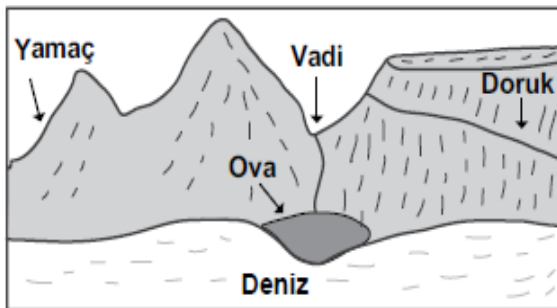
S-62) PYBS 2016



Haritada numaralandırılarak verilen alanlardan hangisinde nüfus yoğunluğu daha fazladır?

- A) I B) II C) III D) IV

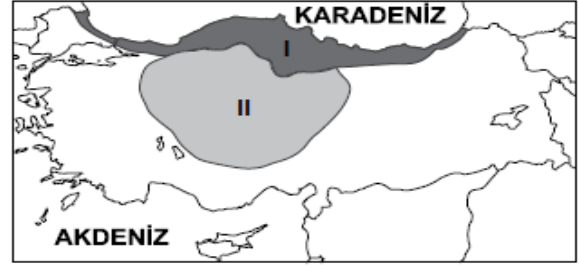
S-63) PYBS 2016



Yukarıdaki görsel üzerinde gösterilen yer şekillerinden hangisinin adı yanlış verilmiştir?

- A) Yamaç B) Doruk C) Vadi D) Ova

S-64) PYBS 2016



Haritada taranarak gösterilen alanlar karşılaştırıldığında aşağıdakilerden hangisi söylenemez?

- A) I. alanda yağışlar daha fazladır.
B) II. alanda kuraklık daha fazla hissedilir.
C) I. alan orman bakımından daha zengindir.
D) II. alanda turuncgiller yaygın olarak yetiştirilir.

S-65) PYBS 2016

Türkiye'de ovalar tarımsal faaliyetlerin yoğun olarak yapıldığı yerlerdir. Özellikle kıyı ovalarında bu durum daha belirgindir.

Buna göre, aşağıdaki ovalardan hangisi kıyı ovalarından biridir?

- A) Suruç ovası B) Muş ovası
C) Çukurova D) Erzincan ovası

S-66) PYBS 2016

Aşağıdakilerden hangisi depremin neden olduğu can ve mal kaybını azaltmak için alınacak önlemlerden biri değildir?

- A) İnsanları deprem konusunda bilinçlendirmek
B) Ağaçlandırma çalışmalarına öncelik vermek
C) Binaları sağlam zemin üzerine inşa etmek
D) Arama ve kurtarma ekipleri oluşturmak

S-67) DPY 2001

Yaz ve kış mevsimleri arasındaki sıcaklık farkı, aşağıdaki illerimizin hangisinde daha fazladır?

- A) Rize B) Konya C) Adana D) İzmir

S-68) Aşağıdakilerden hangisi delta ovası özelliği taşımaz? DPY 2003

- A) Bafra B) Altınbaşak (Harran)
C) Çukurova D) Çarşamba

S- 69) Aşağıdaki coğrafi bölgelerimizin hangisinde yıllık yağış miktarı diğerlerinden daha azdır? DPY 2003

- A) Marmara B) İç Anadolu
C) Ege D) Güneydoğu Anadolu

S-70) Aşağıdaki akarsulardan hangisi kaynağını Doğu Anadolu Bölgesi'nden almaz? DPY 2003

- A) Aras B) Fırat
C) Manavgat D) Dicle

S-71) Deniz seviyesinden yükseldikçe sıcaklık düşer. Buna göre aşağıdaki yerleşim birimlerinden hangisinde daha düşük sıcaklıklar kaydedilir? DPY 2004

- A) Adana B) Erzurum
C) İstanbul D) Çanakkale

S-72) Aşağıdakilerden hangisi Haymana, Obruk ve Cihanbeyli plâtolarının ortak özelliği değildir? DPY 2004

- A) Tuz Gölü'nün güneyinde yer alırlar.
B) İç Anadolu Bölgesi'nde yer alırlar.
C) Karasal iklim şartları altındadırlar.
D) Hakim bitki örtüleri bozkırdır.

S-73) DPY 2009



Türkiye’de buğdayın hasat edilme zamanı (sıcaklığın azalmasına bağlı olarak) batıdan doğuya gidildikçe gecikir.

Buna göre haritadaki illerden hangisinde buğday daha önce hasat edilir?

- A) Manisa B) Eskişehir
C) Sivas D) Ağrı

FAYDALI OLMASI DİLEĞİYLE

A. AKKAR

CEVAP ANAHTARI															
1	D	11	A	21	A	31	C	41	B	51	B	61	A	71	B
2	C	12	B	22	B	32	A	42	C	52	B	62	A	72	B
3	A	13	A	23	A	33	C	43	D	53	A	63	B	73	A
4	C	14	B	24	C	34	D	44	A	54	D	64	D		
5	D	15	A	25	A	35	C	45	C	55	D	65	C		
6	D	16	D	26	D	36	B	46	A	56	D	66	B		
7	A	17	A	27	B	37	D	47	B	57	B	67	B		
8	C	18	D	28	D	38	B	48	C	58	C	68	B		
9	D	19	B	29	D	39	D	49	A	59	C	69	D		
10	A	20	C	30	C	40	C	50	D	60	A	70	C		