

Ekonomik faaliyet alanlarının her birinin kendine has bir takım özellikleri ve etkilendikleri doğal coğrafi koşullar vardır. Bir bölgedeki ekonomik faaliyetleri o bölgenin coğrafi özellikleri belirler.

1) Buna göre hangisi ekonomiyi etkileyen coğrafi özelliklerden değildir?

- A) Sanayi
- B) İklim
- C) Ulaşım kolaylığı
- D) Yer şekilleri

Konya ve çevresinde etkili olan karasal iklim, tahıl üretimi için elverişli bir ortam oluşturmuştur. Verimli topraklara sahip çok sayıda ova ve plato bulunan Konya ve çevresinde, baraj ve göller bulunduğu için sulı tarım yapma imkânı da vardır. Bütün bu özellikler Konya'yı Türkiye'nin tahıl ambarı hâline getirmektedir. Türkiye'nin toplam tarım üretiminin yaklaşık %10'u Konya'da yapılmaktadır.



2) Yukarıda Konya ilimizdeki tarımsal üretim ile ilgili bilgiler bulunmaktadır. Buna hangisine ulaşamaz?

- A) Konya'nın coğrafi koşulları tarımsal üretime uygundur.
- B) Konya'da görülen iklim yetiştirilen tarım ürünlerini etkilemiştir.
- C) Konya, ülkemizde tahıl üretiminin en fazla olduğu illerimizdendir.
- D) Konya'da aşırı sulama toprakların verimini düşürmüştür.

Sanayide üretim yapılabilmesi için ham maddenin olması gerekir. Bu nedenle ham madde kaynakları ile sanayi kuruluşları arasında yoğun bir bağlantı vardır. Dolayısıyla bir yerin doğal kaynakları ve coğrafi özellikleri sanayi kuruluşlarının oluşması ve gelişmesi sürecinde belirleyici bir faktördür.

Konya - Un ve Bisküvi fabrikaları.



Erzurum - Et ve Süt ürünleri fabrikası.



Zonguldak - Demir-Çelik sanayisi.




Trabzon - Balık konserve fabrikası.



3) Yukarıdaki bilgilerden yola çıkarak hangisine ulaşamaz?

- A) Konya'da buğday üretimi fazla olduğu için ham maddesi buğday olan fabrikalar bulunmaktadır.
- B) Büyükbaş hayvancılık faaliyetleri yoğun olduğu için Erzurum'da Et ve Süt ürünleri üretilmektedir.
- C) Kömürün yer altından çıkarılışında demir ve çelik gibi ürünler kullanılır.
- D) Karadeniz bölgesi balıkçılığın yoğun olduğu bir yer olduğu için buna yönelik sanayi kuruluşları vardır.



İnsanların hayatlarını sürdürebilmesi, günlük yaşantılarını devam ettirebilmesi için karşılanması gereken ihtiyaçları vardır. Beslenme, giyinme, barınma, korunma, sağlık gibi çeşitli ihtiyaçları olan insanlar, bu ihtiyaçlarının tamamını kendi başına karşılayamaz. Bu nedenle insanlar hayatlarını devam ettirebilmek için çeşitli ekonomik faaliyetler gerçekleştirir.

4) Buna göre sağlık alanında ihtiyaçlarımızı karşılamak için hangi mesleğe ihtiyaç duymayız?

A) Doktor



B) Mühendis



C) Hemşire



D) Eczacı



Bir yerde üretim yoğun bir şekilde yapılıyorsa ve buna bağlı olarak o ürünün insanlara ulaştırılması yani alım-satım faaliyetlerinin de olması gerekir.

İnsanların temel ihtiyaçlarını (beslenme, barınma vb.) karşılayabilmek için yaptıkları üretim faaliyetlerine denir.

Tüketici nüfusun ve pazarlama olanaklarının fazla olmasından dolayı büyükşehirlerin etrafında gelişmiş bir hayvancılık faaliyetidir.

Bitki çeşitliliğinin fazla olduğu alanlarda yapılır. Erzurum, Kars, Rize, Hakkari ve Muğla bu ekonomik faaliyet dalının geliştiği illerimizdir.

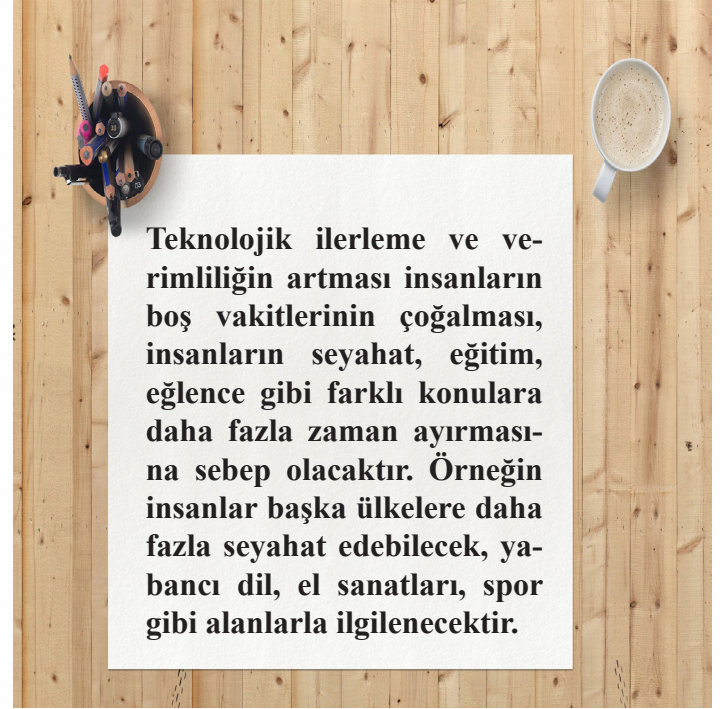
5) Yukarıdaki tanımlara bakıp,

- I. Ticaret
- II. Kümes hayvancılığı
- III. Ekonomik faaliyet
- IV. Arıcılık

bu kavramlarla sırasıyla eşleştirme yaparsak hangisi doğru olur?

- A) I, II, III, IV
- C) II, IV, I, II

- B) I, III, II, IV
- D) III, II, I, IV




6) Buna göre teknolojik ilerleme ve verimliliğin artması hangi ekonomik faaliyetin büyümesine neden olmuştur?

- A) Tarım
- B) Sanayi
- C) Hayvancılık
- D) Hizmet

Karadeniz’de Özellikle kıyı kesiminde yaşayan nüfusun önemli bir kesimi doğrudan veya dolaylı olarak bu faaliyetle uğraşmaktadır. Öyle ki bu işle bireysel olarak uğraşanların yanı sıra teknelerde tayfa olarak çalışanlar da göz önünde tutulduğunda ne derece önemli bir işkolu olduğu ortaya çıkmaktadır.

7) Yukarıdaki bilgilere göre bahsedilen ekonomik faaliyet hangisidir?

- A) Balıkçılık
- B) Küçükbaş hayvancılık
- C) Arıcılık
- D) İpek böcekçiliği



Konya Ovası

Dünyanın en bereketli topraklarına sahip yerlerden biridir. Akdeniz iklimine uyumlu olan turuncgiller, zeytin, incir, susam, turfanda sebzeler, çekirdeksiz üzüm, tütün gibi ürünler yetiştirilebilir.

Rize ve Çevresi

Ülkemizde çay üretimi için uygun olan tek yer Karadeniz kıyısının doğusudur. Bugün ülkemizde Doğu Karadeniz'den Gürcistan sınırına kadar olan kıyı kesimde çay tarımı yapılmaktadır.

Çukurova

Yarı kurak iklim şartları hâkimdir. Yarı kurak iklimin etkisine bağlı olarak doğal bitki örtüsü bozuktur. Toprak çeşidi kahverengi topraklardır. Bu doğal ortam özelliklerine bağlı olarak sahada en fazla tahıl tarımı yapılmaktadır.

Doğu Anadolu

Bölgedeki iklim karasal iklimdir. Sadece iki ilde, Elâzığ ve Malatya illerinde bozkır bitki örtüsü görülür. Van Gölü'nün etkisi sayesinde Van ve çevre iller ılıman bir iklime sahiptir. Erzurum ili kışları soğuk olmasına rağmen yazları yemyeşil bitki örtüsüne sahiptir.

- I. Konya Ovası
- II. Rize çevresi
- III. Çukurova
- IV. Doğu Anadolu

8) Yukarıdaki bilgilere göre eşleştirmenin düzeltilmesi için hangilerinin yer değiştirmesi gerekir?

- A) I ve II
- B) II ve III
- C) I ve III
- D) I ve IV

?

ESKİDEN	GÜNÜMÜZDE
TARIM	SANAYİ
HAYVANCILIK	BANKACILIK
TİCARET	İLETİŞİM

Eski çağlarda insanlar tarım, hayvancılık ve ticaret gibi ekonomik faaliyetlerde bulunurlarken günümüzde sanayi, bankacılık, ulaşım, güvenlik, iletişim gibi hizmet kollarını da kapsayan çok sayıda ekonomik faaliyet alanı ortaya çıkmıştır.

9) Yukarıdaki tabloya en uygun başlık aşağıdakilerden hangisi olurdu?

- A) Geçmişten Günümüze Ekonomik Faaliyetler
- B) Ekonomik Faaliyetler İnsan İçindir
- C) Eski ve Yeni Dünya Düzeni
- D) Ekonomik Faaliyetlerin Yolu

10) Ülkemizde tarım ürünü çeşitliliğinin fazla olmasında;

- 1.Farklı iklimlerin görülmesi
- 2.Farklı toprak tiplerinin bulunması
- 3.Tarımsal işçi gücünün fazla olması
- 4.Yeryüzü şekillerinin çeşitlilik göstermesi

hangileri etkili olmuştur?

- A) 2 ve 4
- B) 1 ve 2
- C) 1, 2, 4
- D) 1, 2, 3

Sosyal Bilgiler 5.Ünite
Yaşadığımız Yer ve Çevremizdeki Ekonomik F.
Deneme Sınavı
CEVAP ANAHTARI

1-A

6-D

2-D

7-A

3-C

8-C

4-B

9-A

5-B

10-C

Her türlü paylaşıma açıktır. Ticari amaçlı kullanılamaz. ©

Bu deneme sınavının hazırlanılmasında M.E.B. ders kitaplarındaki bilgilerden faydalanılmıştır.