

ÜNİTE 3 YAŞADIĞIMIZ YER

Konu: Afetler ve Çevre Sorunları

1.



Marmaris'teki orman yangını kontrol altına alınamadı

Son Depremler - İzmir'de 4.2 şiddetinde deprem meydana geldi!

Rize'de sel!

Çatak-Van karayolu çığ düşmesi sonucu ulaşım kapandı

Zonguldak ve Sinop'ta heyelan zararı büyük!

'Türkiye'de erozyonun yüzde 66'sı Konya'da meydana geliyor'

Görselde yer alan haber başlıklarıyla ilgili;

- I. Konusu doğal afetlerdir,
- II. Ülkemiz doğal afetlerden farklı şekillerde etkilenmektedir,
- III. Doğal afetlerin çıkmasında insanlar etkilidir,

yargılarından hangileri söylenebilir?

- | | |
|-----------|-------------|
| A) I-II | B) I-III |
| C) II-III | D) I-II-III |

2.



Duygu'nun yaşadığı yerde bitki örtüsü çok zayıftır. Su ve rüzgâr gibi dış etkenler verimli toprakları aşındırarak başka alanlara taşımaktadır.

Buna göre Duygu'nun bahsettiği afet haritadaki hangi ilimizde daha çok görülür?

- | | |
|--------------|----------|
| A) Çanakkale | B) Konya |
| C) Trabzon | D) Adana |

3.



Aşağıdaki afetlerden hangisi ile görseller arasında ilişki yoktur?

- | | |
|------------------|-----------|
| A) Çığ | B) Deprem |
| C) Orman Yangını | D) Sel |

4.

Eğimli yamaçlarda tutunamayan kar kütlelerinin yuvarlanarak büyümesiyle meydana gelir.

Yağışın fazla olduğu yerlerde dik yamaçlardan aşağıya doğru toprak örtüsünün kaymasıdır.

Yer kabuğundaki ani kırılmalar nedeniyle yeryüzünde hissedilen sarsıntılardır.

Yukarıdaki tanımlar ve seçenekler eşleştirildiğinde hangi seçenek dışta kalır?

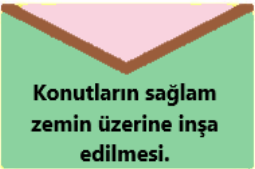
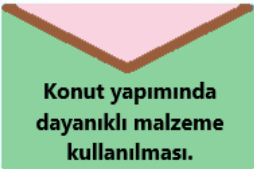


- | |
|------------|
| A) Deprem |
| B) Sel |
| C) Çığ |
| D) Heyelan |

ÜNİTE 3 YAŞADIĞIMIZ YER

Konu: Afetler ve Çevre Sorunları

5. Deprem, ani ve hızlı gelişen bir afet olduğu için ciddi can ve mal kayıplarına neden olmaktadır. Ancak önceden alınacak bazı tedbirler depremin insan yaşamı üstündeki olumsuz etkilerini azaltabilir.

Aşağıdakilerden hangisi depreme karşı alınabilecek tedbirler arasında değildir?

- A)  Konutların sağlam zemin üzerine inşa edilmesi.
- B)  Konut yapımında dayanıklı malzeme kullanılması.
- C)  Konutların içinde güvenlik önlemlerinin alınması.
- D)  Ağaçlandırma çalışmalarının yapılması.

6.



Ali Hikmet

Dedemin anlattığına göre eskiden, ilçemiz ormanlarla kaplıymış. Ancak insanlar bazen keserek, bazen de yangınlara sebep olarak ormanların azalmasına neden olmuş. Binaların büyük bölümünün dere yatağına yapıldığı ilçemiz?..... tehlikesiyle karşı karşıya.

Açıklamaya göre Ali Hikmet'in yaşadığı yerde hangi afetin tehdidi altındadır?

- A) Çığ
B) Deprem
C) Orman yangını
D) Sel

7.



Görseldeki afetle ilgili;

- Arazi eğiminin ve yağışın fazla olduğu alanlarda yaşanır,
- Ülkemizde en çok Karadeniz Bölgesi'nde görülür,
- Ülkemizde en çok can kaybına neden olan afettir,

bilgilerinden hangileri doğrudur?

- A) I-II
B) I-III
C) II-III
D) I-II-III

8.

Hava kirliliği bitkileri olumsuz etkiler. İnsanlarda solunum yolları hastalıklarına neden olabilir.

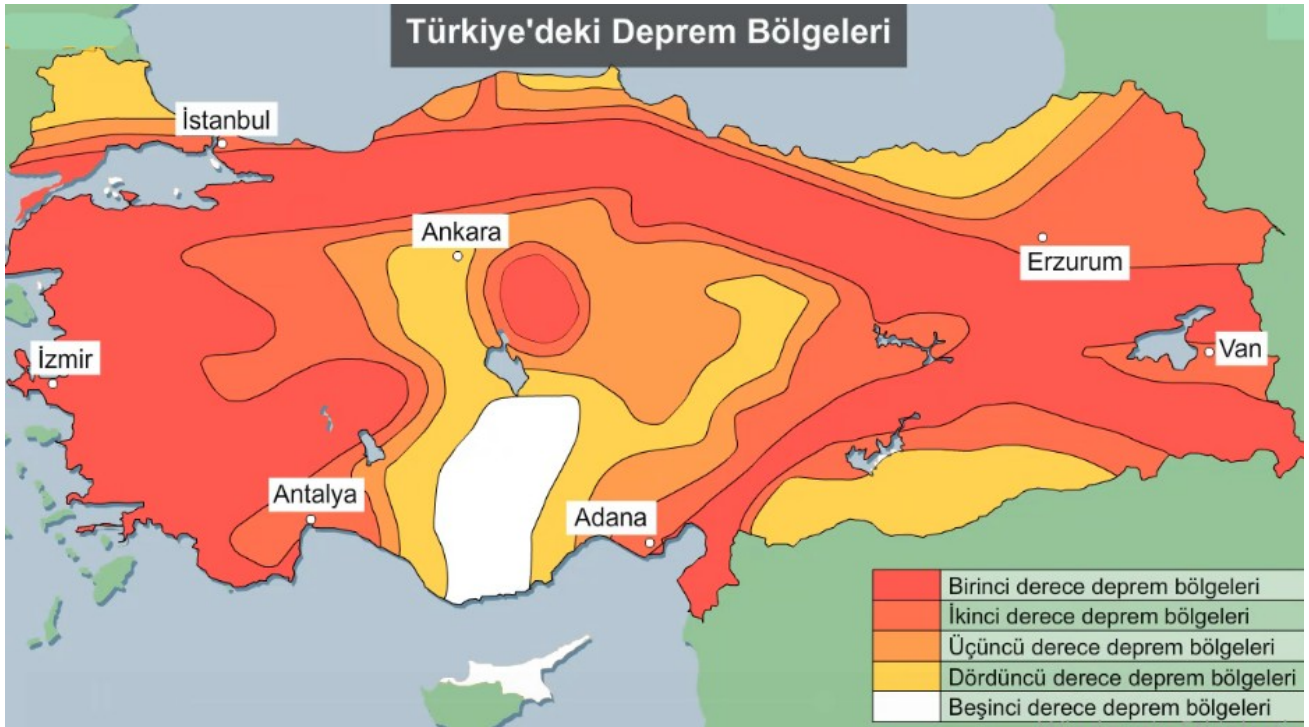
Su kirliliğinin olduğu yerlerde içme suyu sıkıntısı yaşanabilir, sularda balık ölümleri görülebilir.

Toprak kirliliğinin olduğu yerde tarım imkânları azalır, canlıların doğal yaşam alanı bozulur.

Buna göre hangisi söylenebilir?

- A) İnsanlar çevre kirliliğine neden olmaktadır.
B) Çevre kirliliği insan ve diğer canlıları olumsuz etkiler.
C) Çevre kirliliği ile mücadele etmek devletin görevidir.
D) Çevre kirliliği doğal etkenler sonucu ortaya çıkar.

9.



Türkiye Deprem Bölgeleri Haritasına göre;

- I. Ülkemizin büyük bölümü deprem tehlikesi altındadır,
 - II. Van ve Antalya'da birinci derece deprem kuşağındadır,
 - III. Ankara'da deprem olma ihtimali diğer illere göre daha azdır,
- yargılarından hangilerine ulaşılabilir?**

- A) I-II B) II-III C) I-III D) I-II-III

10. Aşağıda bazı çevre sorunlarının sebepleri örneklendirilmiştir.

- ➡ Fabrikaların atıklarının, kanalizasyon atıklarının ve konutlardaki atık suların kaynak sulara karışması sonucu gerçekleşir.
- ➡ Evsel atıkların doğaya bırakılması, tarımda aşırı gübre kullanımı ve sanayi atıkları en önemli sebepleridir.
- ➡ Fabrika bacalarında çıkan dumanlar, egzoz gazları, aşırı tüketilen deodorant ve spreylerin etkisiyle gerçekleşir.

Yukarıdaki sebepler ile aşağıdakilerden hangisi arasında ilişki kurulamaz?

- A) Gürültü kirliliği
B) Hava kirliliği
C) Toprak kirliliği
D) Su kirliliği

CEVAPLAR

1	<input checked="" type="radio"/>	B	C	D
2	A	<input checked="" type="radio"/>	C	D
3	A	B	<input checked="" type="radio"/>	D
4	A	<input checked="" type="radio"/>	C	D
5	A	B	C	<input checked="" type="radio"/>
6	A	B	C	<input checked="" type="radio"/>
7	<input checked="" type="radio"/>	B	C	D
8	A	<input checked="" type="radio"/>	C	D
9	A	B	<input checked="" type="radio"/>	D
10	<input checked="" type="radio"/>	B	C	D

ÖNEMLİ HATIRLARMA:

UZAKTAN EĞİTİM FAALİYETLERİ
KAPSAMINDA EBA VEYA
WHATSAPP PLATFORMLARINDA
PAYLAŞIMA AÇIKTIR.

TİCARİ AMAÇLI KULLANILAMAZ.