



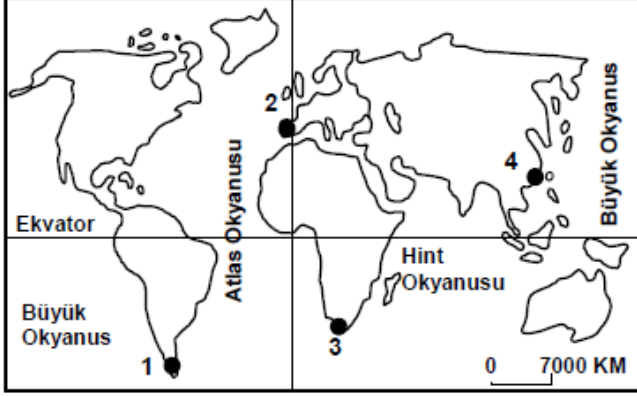
Küre Yatılı Bölge Ortaokulu/Kastamonu 6. Sınıf
(SBS ve İOKBS Soruları)

SOSYAL BİLGİLER
3. Ünite: Yeryüzünde Yaşam



Test 1-Coğrafi Konumu Öğreniyorum

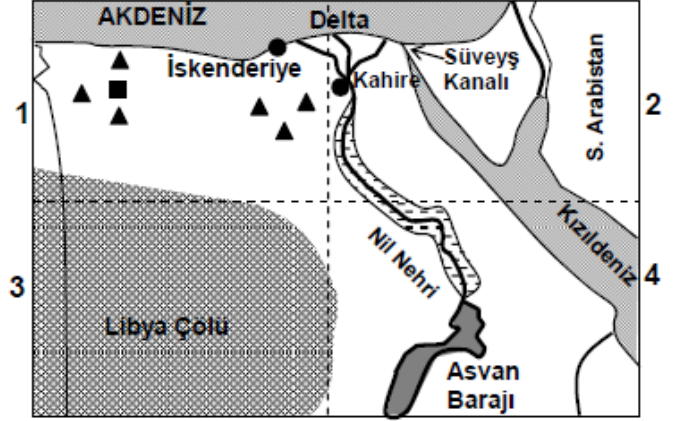
1. (2008 SBS)



Merhaba ben Zelda,
Ekvator'un kuzeyinde Büyük Okyanus-
sun kıyısında küçük bir sahil şehrinde
yaşıyorum. Yaşadığım yer haritada kaç
numaralı nokta ile gösterilmiştir?

- A) 1 B) 2 C) 3 D) 4

2. (2008 SBS)



----- Bölge sınırları

▲ ■ Petrol ve Doğalgaz

○ Tarım alanı

Yukarıda, Mısır ülkesinin haritası 4 bölgeye ayrılarak gösterilmiştir.

Nüfusu en az olan bölge ve bunun nedeni aşağıdakilerin hangisinde doğru verilmiştir?

- A) 1 numaralı bölgedir, çünkü zengin petrol ve doğalgaz üretim alanıdır.
B) 2 numaralı bölgedir, çünkü Nil Nehri'nin verimli deltası ve Süveyş Kanalı buradadır.
C) 3 numaralı bölgedir, çünkü büyük bir çölle kaplıdır.
D) 4 numaralı bölgedir, çünkü Nil Nehri ve Asvan barajının suladığı tarım alanları bulunmaktadır.

Mehmet ÖZKÜZ



Küre Yatılı Bölge Ortaokulu/Kastamonu 6. Sınıf
(SBS ve İOKBS Soruları)

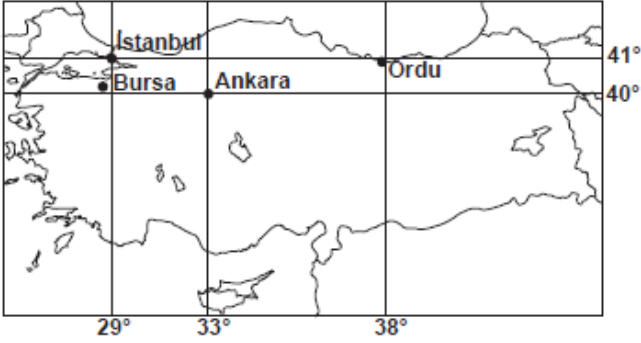


SOSYAL BİLGİLER
3. Ünite: Yeryüzünde Yaşam

Test 1-Coğrafi Konumu Öğreniyorum

3. (2009 SBS)

Bora: Yaz tatilini geçireceğim şehir, 29° doğu meridyeni ile 40° kuzey paralelinin kesiştiği yere en yakın konumdadır.



Bu şehir aşağıdakilerden hangisidir?

- A) Ordu B) İstanbul
C) Ankara D) Bursa

4. (2011 İOKBS)

Türkiye hangi **boylamlar** arasında yer alır?

- A) 26° - 45° doğu B) 36° - 42° batı
C) 19° - 26° doğu D) 40° - 45° batı

5. (2012 İOKBS)

Aşağıda verilenlerden hangisi **Avrupa Kıtası'nın konumuna** ait bir özelliktir?

- A) Güneyinde Akdeniz yer alır.
B) Güney Yarım Küre'de yer alır.
C) Amerika Kıtası ile sınır oluşturur.
D) Doğusunda Afrika Kıtası bulunur.

6. (2013 İOKBS)

Aşağıda verilenlerden hangisi **Türkiye'nin konumuna** ait bir özelliktir?

- A) Almanya ve İtalya sınır komşularıdır.
B) Yer şekilleri düz ve sadedir.
C) Büyük Okyanus kıyısındadır.
D) Kuzey Yarım Küre'de yer alır.

7. (2014 İOKBS)

Türkiye'nin **coğrafi konumu** ile ilgili olarak aşağıdakilerden hangisi söylenebilir?

- A) Afrika kıtasında toprakları vardır.
B) Atlas Okyanusu'na kıyısı vardır.
C) 26° - 45° kuzey paralelleri arasında yer alır.
D) Başlangıç meridyeninin doğusunda yer alır.

8. (2017 İOKBS)

Aşağıdakilerden hangisi Türkiye'nin bulunduğu bölgede önemini **artırmaz?**

- A) Asya ve Avrupa arasında köprü olması
B) Zengin yer altı ve yer üstü kaynaklarının olması
C) Yükseltinin batıdan doğuya doğru gidildikçe artması
D) Akdeniz ve Karadeniz'i bağlayan boğazlara sahip olması



Küre Yatılı Bölge Ortaokulu/Kastamonu 6. Sınıf
(SBS ve İOKBS Soruları)



SOSYAL BİLGİLER
3. Ünite: Yeryüzünde Yaşam

Test 1-Coğrafi Konumu Öğreniyorum

9. (2018 İOKBS)

Türkiye'nin boğazlara sahip olması aşağıdaki konulardan hangisinde önemini artırmıştır?

- A) Tarım B) Madencilik
C) Ulaşım D) Sanayi

10. (2019 İOKBS)

Ülkemiz 36°- 42° kuzey paralelleri ile 26°- 45° doğu meridyenleri arasında yer alır.

Yalnızca bu bilgiye dayanarak ülkemiz ile ilgili aşağıdaki çıkarımlardan hangisi yapılamaz?

- A) Üç tarafı denizlerle çevrilidir.
B) Ekvator, ülkemizin güneyinde yer alır.
C) Greenwich meridyeni batı yönümüzde bulunur.
D) Türkiye'nin güneyi ile kuzeyi arasında 6 paralel vardır.

11. (2020 İOKBS)

Aşağıdaki haritada bazı kıtalar numaralandırılarak gösterilmiştir.



Haritada I, II ve III olarak numaralanmış kıtaların isimleri aşağıdakilerin hangisinde doğru olarak verilmiştir?

- | I | II | III |
|-----------|--------|--------|
| A) Asya | Avrupa | Afrika |
| B) Avrupa | Asya | Afrika |
| C) Avrupa | Afrika | Asya |
| D) Asya | Afrika | Avrupa |

12. (2020 İOKBS)

Mutlak konum; bir yerin paralel ve meridyenler ile ifade edilen, yani ekvatora ve başlangıç meridyenine göre belirlenen konumudur.

Buna göre Türkiye'nin aşağıdaki özelliklerinden hangisi mutlak konum ile ilgilidir?

- A) Kuzey Yarımküre'de yer alması
B) Asya ve Avrupa kıtalarını birbirine bağlaması
C) Batısından doğusuna doğru dağların yükseltisinin artması
D) Üç tarafının denizlerle çevrili olması

13. (2020 İOKBS)

Yüz ölçümü en küçük olan kıta aşağıdakilerden hangisidir?

- A) Okyanusya B) Güney Amerika
C) Antarktika D) Avrupa

Test 1-Coğrafi Konumu Öğreniyorum Cevap Anahtarı (6. Sınıf)
(SBS ve İOKBS Soruları)
1.D 2.C 3.D 4.A 5.A 6.D 7.D 8.C 9.C 10.A 11.C 12.A 13.A



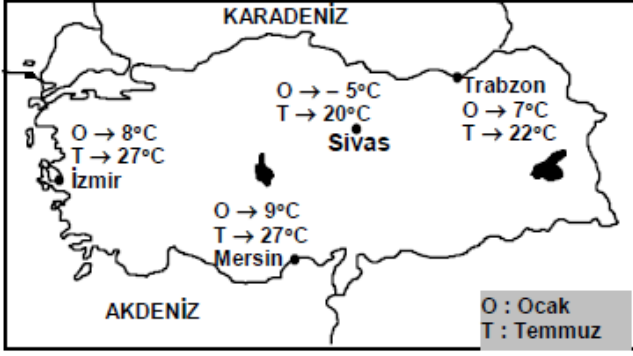
Küre Yatılı Bölge Ortaokulu/Kastamonu 6. Sınıf
(SBS ve İOKBS Soruları)



SOSYAL BİLGİLER
3. Ünite: Yeryüzünde Yaşam

Test 2-Türkiye'nin Fiziki Coğrafya Özellikleri

1. (2008 SBS)



Karasal iklimin özelliklerinden biri de yaz ve kış mevsimleri arasındaki sıcaklık farkının yüksek olmasıdır.

Buna göre, haritada gösterilen şehirlerden hangisi **karasal iklimin** etkisi altındadır?

- A) İzmir B) Sivas
C) Mersin D) Trabzon

2. (2009 SBS)

Dağ tırmanışı yapan bir araştırma grubu 3 gün boyunca aynı saatte yükselti ve sıcaklığı ölçmüşlerdir.

Günler	Yükselti (m)	Sıcaklık (°C)
1. Gün	2.000	5
2. Gün	3.000	0
3. Gün	4.000	-5

Tabloda verilen bu ölçümler göz önüne alınarak aşağıdaki yargılardan hangisine ulaşılabilir?

- A) Dağda bitki örtüsü yoktur.
B) Dağda ekonomik faaliyet yapılamaz.
C) Yükselti arttıkça hava sıcaklığı düşer.
D) Dağda kayak tesisleri bulunmaktadır.

3. (2010 SBS)

Merhaba Mustafa! Nasılsın? ①

İyiyim, sen nasılsın? Havalar nasıl? ②

Mesut (Adana) Mustafa (Erzurum)

Çok iyiyim. Buğdayı hasat ettik. Bu yıl verim yüksek oldu. Tarlayı ikinci ürün için hazırlıyoruz. ③

Ne güzel! Bizim burada buğdayların olgunlaşmasına daha çok var. Biz hâlâ sobayı yakıyoruz. Herhâlde sizin orada denize giriliyordur. ④

Mesut Mustafa

Verilen diyaloga bakarak **Mustafa'nın** yaşadığı yer için aşağıdakilerden hangisi söylenebilir?

- A) Kış mevsiminin soğuk ve uzun sürdüğü
B) Dağınık yerleşmelerin yaygın olduğu
C) Makineli tarımın gelişmiş olduğu
D) Bitki örtüsünün makilerden oluştuğu



Küre Yatılı Bölge Ortaokulu/Kastamonu 6. Sınıf
(SBS ve İOKBS Soruları)

SOSYAL BİLGİLER
3. Ünite: Yeryüzünde Yaşam



Test 2-Türkiye'nin Fiziki Coğrafya Özellikleri

4. (2011 İOKBS)

Denizden uzaklık ve yükseltinin fazla olması karasallığı artırır. Bu tür bölgelerde gece gündüz arasındaki sıcaklık farkı da fazladır.

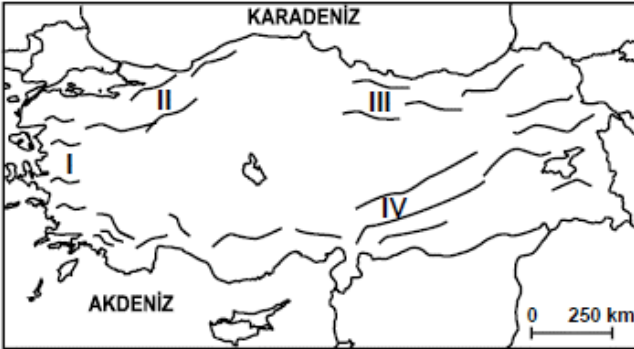
Buna göre verilen haritadaki yerleşim birimlerinin hangisinde gece-gündüz sıcaklık farkı **en fazladır?**



- A) İzmir B) Samsun
C) Ağrı D) Antalya

5. (2011 İOKBS)

Haritada, Türkiye'deki başlıca dağların kıyı çizgisine göre uzanış yönleri verilmiştir.



Buna göre numaralandırılmış alanlardan hangisinde deniz ikliminin içerilere sokulması beklenir?

- A) I B) II C) III D) IV

6. (2011 İOKBS)

Buğday, yazları sıcak ve kurak, kışları soğuk ve kar yağışlı bölgelerde yetiştirilen başlıca tarım ürünüdür.

Buna göre aşağıdaki iklim tiplerinden hangisinde buğday tarımı **daha yaygın** olarak yapılır?

- A) Akdeniz iklimi B) Karasal iklim
C) Karadeniz iklimi D) Marmara iklimi

7. (2012 İOKBS)



- Karasal İklim □ Karadeniz İklimi ■ Akdeniz İklimi

Türkiye'nin iklim haritası incelendiğinde, güneyde dar bir şerit hâlinde uzanan Akdeniz ikliminin batıda kıyından iç kesimlere daha çok sokulduğu görülmektedir.

Bu durum aşağıdakilerden hangisiyle açıklanabilir?

- A) Dağların uzanış şekliyle
B) Bitki örtüsünün dağılışıyla
C) Su kaynaklarının dağılışıyla
D) Doğuya doğru yükseltinin artmasıyla



Küre Yatılı Bölge Ortaokulu/Kastamonu 6. Sınıf
(SBS ve İOKBS Soruları)

SOSYAL BİLGİLER
3. Ünite: Yeryüzünde Yaşam



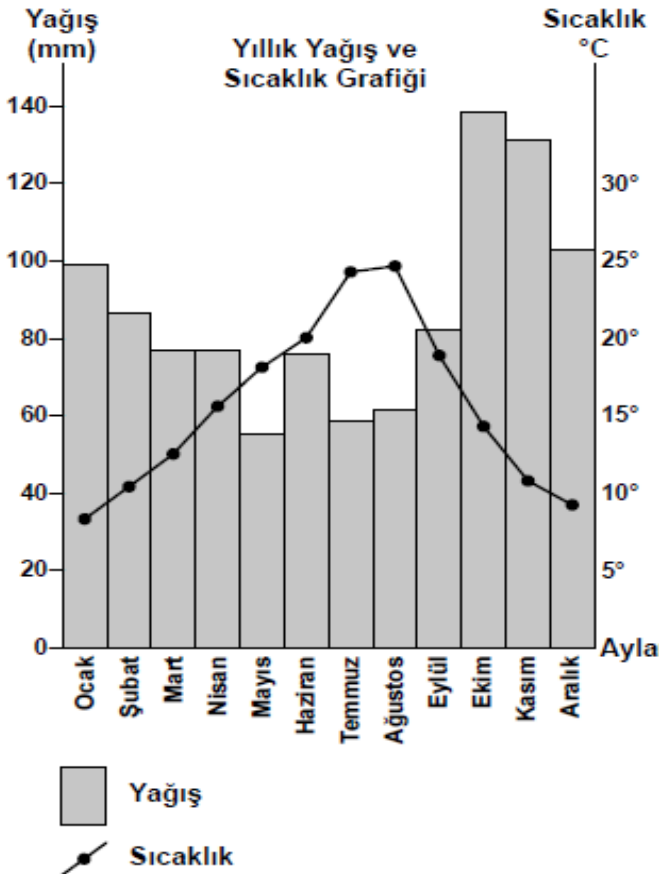
Test 2-Türkiye'nin Fiziki Coğrafya Özellikleri

8. (2012 İOKBS)

Karadeniz'de ahşap, iç bölgelerde kerpiç, Akdeniz'de taş evlerin yaygın oluşunda etkili olan faktör aşağıdakilerden hangisidir?

- A) Kültürel yapı
- B) Yeryüzü şekilleri
- C) Nüfus yoğunluğu
- D) Çevresindeki doğal malzemeler

9. (2012 İOKBS)

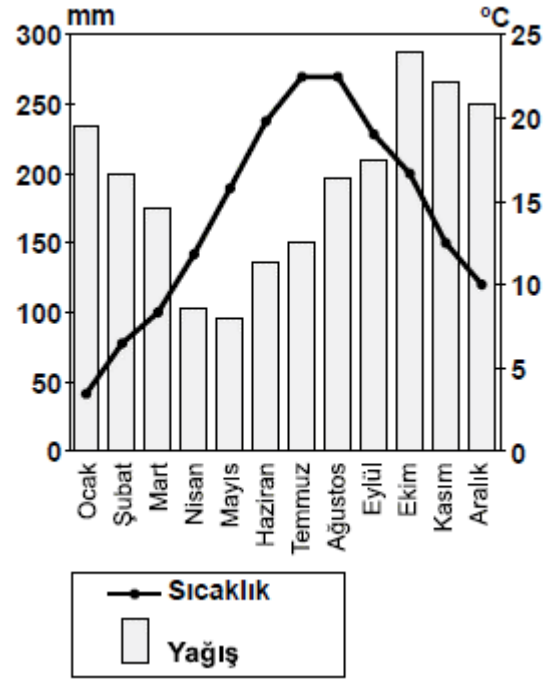


Yukarıdaki grafik Türkiye'de bir merkeze aittir.
Bu merkezde hangi iklimin görüldüğü söylenebilir?

- A) Karasal iklimin
- B) Akdeniz ikliminin
- C) Karadeniz ikliminin
- D) Şiddetli karasal iklimin

10 ve 11. Soru (2013 İOKBS)

10 ve 11. soruları, aşağıda verilen paragrafa göre cevaplayınız



10. Yağış ve sıcaklık grafiği verilen merkez için aşağıdakilerden hangisi söylenebilir?

- A) Şubat en soğuk aydır.
- B) Her mevsim yağış alır.
- C) En kurak ay ekimdir.
- D) Bazı aylarda yağış 400 mm'yi aşar.

11. Yağış ve sıcaklık grafiği verilen merkez aşağıdakilerden hangisi olabilir?

- A) Rize
- B) Kars
- C) Ankara
- D) Konya



Küre Yatılı Bölge Ortaokulu/Kastamonu 6. Sınıf
(SBS ve İOKBS Soruları)



SOSYAL BİLGİLER
3. Ünite: Yeryüzünde Yaşam

Test 2-Türkiye'nin Fiziki Coğrafya Özellikleri

12. (2013 İOKBS)



Yükselti faktörü göz önüne alındığında haritada verilen merkezlerden hangileri arasında, sıcaklık farkının **daha fazla** olması beklenir?

- A) Ordu-Ağrı
B) Ankara-Ağrı
C) Manisa-Ankara
D) Gaziantep-Ordu

13. (2014 İOKBS)

Ülkemizin iç kesimlerinde deniz etkilerinin görülmeşi aşağıdakilerden hangisiyle ilgilidir?

- A) Yer şekilleriyle
B) Enlem etkisiyle
C) Su kaynaklarıyla
D) Rüzgarların yönüyle

14 ve 15. Soru (2014 İOKBS)

14 ve 15. soruları, aşağıda verilen paragrafa göre cevaplayınız

Köyümüz yurdumuzun denizden uzak iç kesimlerindedir. Yaz döneminde kuraklık hakimdir, gündüz sıcaklıklar 35 °C'ye yaklaşırken gece 10 °C nin altına düşer. Kış mevsimi ise soğuk ve kar yağışlıdır. Köyümüzde çoğunlukla buğday tarımı ve küçük baş hayvancılık yapılır. Nisanda her tarafı saran yeşil otlar, Haziran da sararır ve kurur ...

14. Verilen bilgilere göre bu köy ve çevresinde aşağıdaki iklimlerden hangisi görülmektedir?

- A) Karadeniz
B) Akdeniz
C) Karasal
D) Muson

15. Köy aşağıdaki illerden hangisinin sınırları içinde olabilir?

- A) Nevşehir
B) Mersin
C) İstanbul
D) Rize

16. (2015 İOKBS)

Ege bölgesinde deniz kıyısında yetişen bir tarım ürünü, bölgenin iç kesimlerinde de yetişebilmektedir. Karadeniz bölgesinde ise bu durumun tam tersi yaşanmaktadır.

Ege ve Karadeniz bölgelerindeki bu farklılığın sebebi aşağıdakilerden hangisidir?

- A) Yükselti farkı
B) Kıyı uzunlukları
C) Dağların uzanışı
D) Deniz suyu sıcaklığı



Küre Yatılı Bölge Ortaokulu/Kastamonu 6. Sınıf
(SBS ve İOKBS Soruları)



SOSYAL BİLGİLER
3. Ünite: Yeryüzünde Yaşam

Test 2-Türkiye'nin Fiziki Coğrafya Özellikleri

17. (2015 İOKBS)

Bir bölgenin doğal bitki örtüsü ile hayvancılık faaliyetleri arasında yakın bir ilişki vardır.

Aşağıda verilen bitki örtüsü ve hayvancılık faaliyetleri eşleştirmelerinden hangisi yanlıştır?

Bitki örtüsü	Hayvan türü
A) Bozkır	Koyun
B) Çayır	Sığır
C) Maki	Kıl keçisi
D) Çam ormanları	İpek böceği

18. (2015 İOKBS)

Ankara ile Erzurum Ekvator çizgisine yaklaşık olarak aynı uzaklıktadır. Ancak Erzurum'da sıcaklık ortalaması daha düşüktür.

Bu durumun sebebi nedir?

- | | |
|--------------|---------------------|
| A) Yükselti | B) Bakı |
| C) Rüzgarlar | D) Dağların uzanışı |

19. (2016 İOKBS)

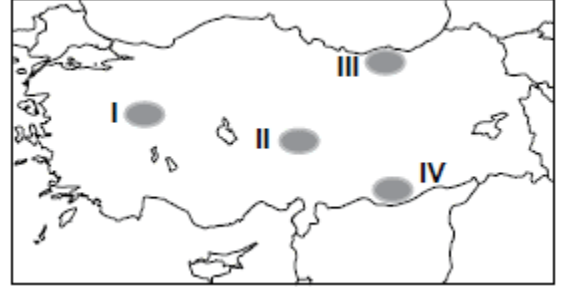
Hakan Bey: İlk görev yerimizde kışlar çok sert ve soğuk, yazlar ise serin ve yağışlı geçmekteydi. Şimdi yaşadığımız şehirde ise kışları ılık, bitki örtüsü gür ve her mevsim yağışlı geçmektedir.

Hakan Bey'in görev yaptığı şehirler sırasıyla aşağıdakilerden hangileri olabilir?

- | | |
|-------------------|---------------------|
| A) Kars-Rize | B) Van-Konya |
| C) Ordu-Gaziantep | D) Mersin-Eskişehir |

20. (2016 İOKBS)

Kurak ve yarı kurak bölgelerde ağaçlandırma yapıldıktan sonra fidanların sulanması zorunlu iken bu zorunluluk nemli bölgelerde daha azdır.

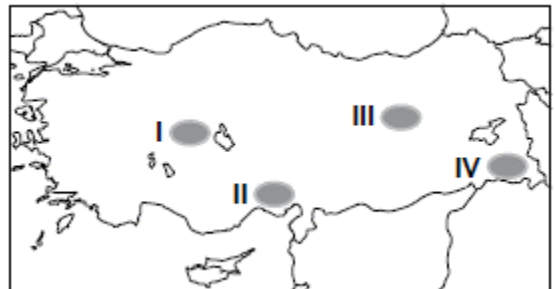


Buna göre, haritada taralı alanlardan hangisinde dikilen fidanların sulanmasına duyulan ihtiyaç daha azdır?

- A) I B) II C) III D) IV

21. (2016 İOKBS)

Toprak ve iklim koşullarının uygun olması yetiştirilen ürün miktarı ve çeşitliliği üzerinde etkili olmaktadır.



Buna göre, haritada verilen yerlerden hangisinde toprak ve iklim koşulları yetiştirilen ürün çeşitliliğini daha çok arttırmıştır?

- A) I B) II C) III D) IV



Küre Yatılı Bölge Ortaokulu/Kastamonu 6. Sınıf
(SBS ve İOKBS Soruları)

SOSYAL BİLGİLER
3. Ünite: Yeryüzünde Yaşam



Test 2-Türkiye'nin Fiziki Coğrafya Özellikleri

22. (2016 İOKBS)

Aşağıdakilerden hangisi Türkiye’de dağların kıyıya paralel uzanmasının sonuçlarındandır?

- A) Kuzeyden esen rüzgârların sıcaklığı düşürmesi
- B) Denizel etkilerin iç kesimlere sokulamaması
- C) Yükselti ortalamasının batıdan doğuya doğru artması
- D) Sıcaklık ortalamalarının güneyden kuzeye doğru azalması

23. (2017 İOKBS)

Aşağıdakilerden hangisi Akdeniz ikliminin özelliklerinden biri değildir?

- A) Bitki örtüsü bozkiyır.
- B) Kışlar ılık ve yağışlıdır.
- C) Yazlar sıcak ve kuraktır.
- D) Kar yağışı çok az görülür.

24. (2018 İOKBS)

Yazları sıcak ve kurak, kışları ılık ve yağışlıdır. Kar yağışı ve don olayı ender yaşanır. Bitki örtüsü makidir.



Yukarıda anlatılan iklim tipi harita üzerinde numaralandırılarak gösterilen yerlerin hangisinde görülür?

- A) I.
- B) II.
- C) III.
- D) IV.

25. (2018 İOKBS)

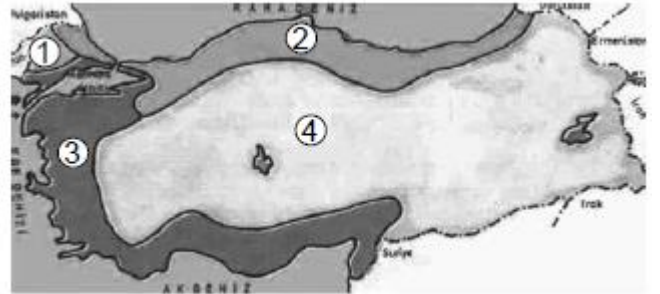
Kars ile Iğdır arasındaki mesafe yakın olmasına rağmen Iğdır’ın yıllık ortalama sıcaklığı yaklaşık 7°C daha fazladır.

Bu farklılığın nedeni aşağıdakilerden hangisidir?

- A) Bitki örtüsü
- B) Yükselti değerleri
- C) Toprak özellikleri
- D) Yağış miktarları

26. (2019 İOKBS)

Türkiye haritası üzerinde belirli bölgeler numaralandırılarak verilmiştir.



Buna göre, numaralanmış yerlerin hangilerinde **karasal iklim** görülmektedir?

- A) 1 ve 2.
- B) 2 ve 3.
- C) 1 ve 4.
- D) 2, 3 ve 4.

27. (2020 İOKBS)

Türkiye **fiziki haritasını** kullanarak aşağıdaki bilgilerden hangisine ulaşabiliriz?

- A) Eğitim durumu
- B) Sağlık hizmetleri
- C) Madenlerin dağılışı
- D) Yeryüzü şekilleri



Küre Yatılı Bölge Ortaokulu/Kastamonu 6. Sınıf
(SBS ve İOKBS Soruları)



SOSYAL BİLGİLER
3. Ünite: Yeryüzünde Yaşam

Test 2-Türkiye'nin Fiziki Coğrafya Özellikleri

28. (2020 İOKBS)

Ülkemizde yükselti ve engebenin fazla olduğu bölgelerle ilgili aşağıdakilerden hangisi söylenemez?

- A) Yıllık sıcaklık ortalaması düşüktür.
- B) Diğer bölgelerden göç alır.
- C) Tarım alanları dardır.
- D) Ulaşım olanakları zordur.

29. (2020 İOKBS)

Karadeniz iklimi ile ilgili aşağıdakilerden hangisi söylenemez?

- A) Pamuk üretimine uygundur.
- B) Yaz mevsimi sıcak ve kuraktır.
- C) Genel bitki örtüsü bozkırdır.
- D) Her mevsim yağışlıdır.

30. (2020 İOKBS)

Akarsular tarafından derince yarılmış çevresine göre yüksekte olan geniş düzlüklere ne ad verilir?

- A) Vadi
- B) Ova
- C) Plato
- D) Dağ

31. (2020 İOKBS)

Fiziki haritada kullanılan yeşil, sarı, kahverengi gibi renkler ve tonları aşağıdakilerden hangisini gösterir?

- A) İklim türlerini
- B) Yükselti basamaklarını
- C) Yeraltı kaynaklarını
- D) Bitki örtüsünü

Mehmet ÖZKÜZ

Test 2-Türkiye'nin Fiziki Coğrafya Özellikleri Cevap Anahtarı (6. Sınıf)

(SBS ve İOKBS Soruları)

1.B 2.C 3.A 4.C 5.A 6.B 7.A 8.D 9.C 10.B 11.A 12.A 13.A 14.C 15.A 16.C 17.D 18.A 19.A 20.C 21.B 22.B 23.A 24.C 25.B 26.C 27.D 28.B
29.D 30.C 31.B



Küre Yatılı Bölge Ortaokulu/Kastamonu 6. Sınıf
(SBS ve İOKBS Soruları)

SOSYAL BİLGİLER
3. Ünite: Yeryüzünde Yaşam



Test 3-Türkiye'nin Beşeri Özellikleri

1. (2008 SBS)

Babamın anlattıklarına hâlâ inanamıyorum. Bugün yaşadığımız şehir, 30 yıl önce balıkçılık ve hayvancılıkla geçinen, kendi ihtiyaçlarına yönelik sebze ve meyve yetiştiren küçük bir sahil kasabasıymış. Etrafı dağlık olduğu için yolu da yokmuş elektriği de. Çevresindeki dağlarda bakır yataklarının bulunmasıyla kaderi değişmiş! Bakırı işleyen tesisler, modern yollar yapılmış. Başka yerlerden de kasabaya çok sayıda insan yerleşmiş. Ticaret hayatı canlanmış. Eskiden 2.000 kişiyi aşmayan nüfusu bugün 200.000 kişiye yükselmiş.

Metne göre kasabanın gelişmesini sağlayan temel unsur aşağıdakilerden hangisidir?

- A) Bakır madeninin bulunması
- B) Modern yolların yapılması
- C) Kasabanın göç alması
- D) Ticaret hayatının gelişmesi

2. (2009 SBS)

Güneydoğu Anadolu Projesi (GAP), ülkemizi 15. zine güneydoğusunda yer alan illeri kapsayan büyük bir projedir. Proje kapsamında Fırat ve Dicle nehirleri üzerinde çok sayıda baraj ve hidroelektrik santrallerinin yapımı, 1.7 milyon hektar alanın sululu tarıma kavuşturulması planlanmaktadır. Bunun sonucunda bölgede, enerjide ve tarım alanlarında üretim artışı amaçlanmaktadır.

Metne göre GAP'ın temel hedefi aşağıdakilerden hangisidir?

- A) Bölgede enerji ve tarımsal üretimi arttırmak.
- B) Bölgenin haberleşme altyapısını geliştirmek.
- C) Bölgede ulaşım faaliyetlerinin gelişmesini sağlamak.
- D) Fırat ve Dicle nehirlerinin taşkın yapmasını engellemek.

3. (2017 İOKBS)

Ayşe sınıf arkadaşlarına tatilde Uzungöl'de bir pansiyonda kaldığını, Sümela Manastırı'nı gezdiğini, dünyaca ünlü Anzer balını tattığını söylemiştir.



Buna göre Ayşe, Türkiye haritasında numaralandırılmış yerlerden hangisine gitmiştir?

- A) I. B) II. C) III. D) IV.

4. (2019 İOKBS)

Beşerî coğrafya, insanların yeryüzünde yaptıkları değişimleri inceleyen bilimdir. Tarım, sanayi, ulaşım, turizm, nüfus, yerleşme ve kentleşme gibi insan faaliyetlerini inceler.

Buna göre aşağıdakilerden hangisi **beşerî coğrafyanın** konusu değildir?

- A) Bölgelerde görülen iklim türleri
- B) İnsanların geçim kaynakları
- C) Tarım faaliyetleri ve türleri
- D) Bölgelere göre nüfus dağılışı



Küre Yatılı Bölge Ortaokulu/Kastamonu 6. Sınıf
(SBS ve İOKBS Soruları)



SOSYAL BİLGİLER
3. Ünite: Yeryüzünde Yaşam

Test 3-Türkiye'nin Beşeri Özellikleri

5. (2019 İOKBS)

Ülkemizde büyükbaş hayvancılık faaliyetlerinin dağılımında yaz yağışlarının fazla olması, bitki örtüsünün gür çayır ve meralardan oluşması etkilidir.

Buna göre aşağıdaki yerlerin hangisinde **büyükbaş hayvancılığın** yaygın olması beklenir?

- A) Bursa
- B) İzmir
- C) Kars
- D) Aydın

6. (2020 İOKBS)

Aşağıdakilerden hangisi “beşerî coğrafya”nın inceleme konularından biridir?

- A) Karadeniz ormanlarındaki ağaç türleri
- B) Akdeniz kıyılarındaki turizm faaliyetleri
- C) Doğu Anadolu'nun iklim özellikleri
- D) Türkiye'deki yer altı kaynaklarının dağılışı

Mehmet ÖZKÜZ

Test 3-Türkiye'nin Beşeri Özellikleri Cevap Anahtarı (6. Sınıf)
(SBS ve İOKBS Soruları)
1.A 2.A 3.B 4.A 5.C 6.B



Küre Yatılı Bölge Ortaokulu/Kastamonu 6. Sınıf
(SBS ve İOKBS Soruları)

SOSYAL BİLGİLER
3. Ünite: Yeryüzünde Yaşam



Test 4-Türkiye'nin Beşeri Coğrafya Özellikleri

1. (2009 SBS)



Resimde gösterilen yerin aşağıdaki iklim bölgelerinden hangisinde yer aldığı söylenemez?

- A) Akdeniz iklimi B) Muson iklimi
C) Ekvatorial iklim D) Kutup iklimi

2. (2010 SBS)



Resimdeki eskimoların yaşadıkları yer hangi seçenekte doğru verilmiştir?

A)

B)



C)

D)



Mehmet ÖZKÜZ



Küre Yatılı Bölge Ortaokulu/Kastamonu 6. Sınıf
(SBS ve İOKBS Soruları)



SOSYAL BİLGİLER
3. Ünite: Yeryüzünde Yaşam

Test 4-Türkiye'nin Beşeri Coğrafya Özellikleri

3. (2012 İOKBS)

Aşağıda verilen resim, haritada numaralandırılarak gösterilen alanlardan hangisiyle ilişkilendirilebilir?



- A) 1 B) 2 C) 3 D) 4

4. (2013 İOKBS)

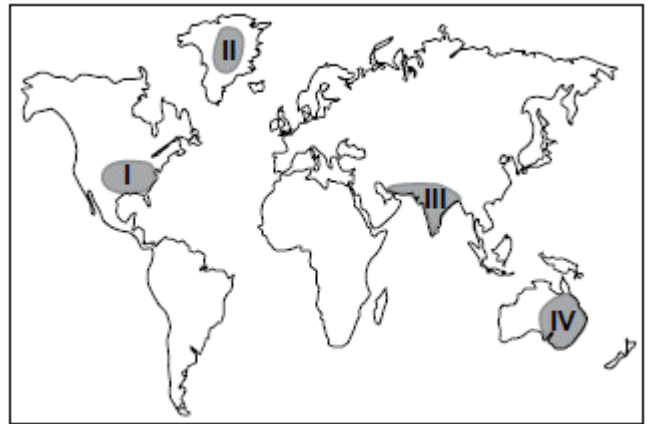
Rusya Federasyonu, Avrupa ve Asya kıtalarında toprakları olan bir devlettir. Yüzölçümü Türkiye'nin 22 katı büyüklüğünde olmasına rağmen nüfusu sadece 2 katıdır. Yüzölçümünün yarısına yakın kısmını kutup bölgesindeki donmuş topraklar oluştururken orta kısımlarında iklim sert karasal, güneybatısında ise ılımandır. Nüfusunun % 10'u tarımda çalışan ülke, dünya kereste rezervinin % 25'ine sahip ve enerji kaynakları (kömür, petrol, doğal gaz) bakımından da çok zengindir.

Rusya'da nüfus yoğunluğunun çok düşük olmasının **temel sebebi** aşağıdakilerden hangisidir?

- A) İki kıtada topraklarının olması
B) Maden bakımından zengin olması
C) Olumsuz iklim özelliklerine sahip olması
D) Tarımda çalışan nüfusun az olması

5. (2014 İOKBS)

- Sıcaklık yıl boyunca 0°C'nin altındadır.
- Yağışlar az ve kar şeklindedir.
- Toprak sürekli don olduğu için bitki örtüsü yoktur.



Yukarıda verilen özellikler haritada taranarak numaralandırılmış yerlerin hangisinde görülür?

- A) I B) II C) III D) IV



Küre Yatılı Bölge Ortaokulu/Kastamonu 6. Sınıf
(SBS ve İOKBS Soruları)



SOSYAL BİLGİLER
3. Ünite: Yeryüzünde Yaşam

Test 4-Türkiye'nin Beşeri Coğrafya Özellikleri

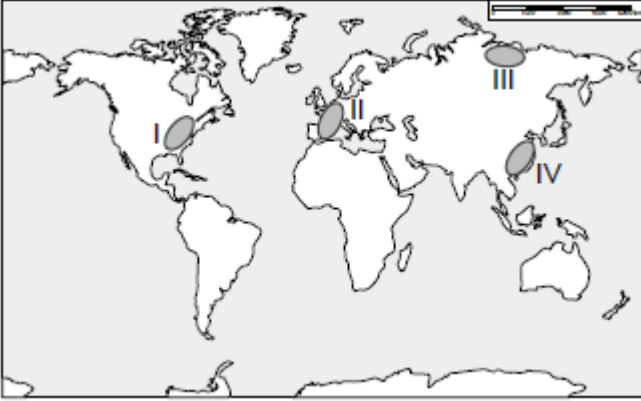
6. (2015 İOKBS)

Geçim kaynakları, ulaşım araçları, giyinme ve beslenme gibi özelliklerin tümü yaşama şekillerini oluşturur.

Yaşam şekli üzerinde **en belirleyici** olan coğrafi özellik aşağıdakilerden hangisidir?

- A) Yer şekilleri
- B) İklim özellikleri
- C) Bitki örtüsü
- D) Yer altı kaynakları

7. (2017 İOKBS)



Haritada numaralandırılmış alanlardan hangisi **seyrek** nüfusludur?

- A) I.
- B) II.
- C) III.
- D) IV.

8. (2017 İOKBS)

“Yaşadığımız yerde yılın her ayı yağışlı ve sıcaktır. Bitkiler gür ve uzun boylu olduğundan gökyüzü neredeyse görünmez hâledir. Bu nedenle etrafımızdaki ormanlara “balta girmemiş ormanlar” denir. Yabani hayvanların saldırısından ve selden korunmak için evlerimizi kazıklar üzerine inşa ederiz.”

Bunları söyleyen kişinin yaşadığı yerde hangi iklim tipi görülür?

- A) Muson
- B) Çöl
- C) Karasal
- D) Ekvatorial

9. (2018 İOKBS)

“Yaşadığım yerde insanlar eskiden beri ulaşım için develeri kullanırlar. Develer çok sıcak ve kurak hava şartlarında su içmeden uzun mesafe kat edebilirler. Yolculuk sırasında yaşanabilen kum fırtınaları yönümüzü bulmamızı zorlaştırır.”

Bu kişinin yaşadığı yerde hangi iklim tipi görülmektedir?

- A) Çöl
- B) Muson
- C) Kutup
- D) Ekvatorial

10. (2019 İOKBS)

“Yaşadığım bölgede toprak sürekli donmuş halde olduğu için bitki örtüsü yoktur. Bu yüzden tarım ürünleri yetiştirilemez. Avcılık ve balıkçılık önemli geçim kaynağıdır. Kış aylarında buzdan ve balina kemiklerinden yapılmış evlerde yaşarız.”

Buna göre yukarıdaki ifadeleri kullanan kişinin yaşadığı yerde görülen iklim tipi hangisidir?

- A) Çöl
- B) Kutup
- C) Muson
- D) Ekvatorial



Küre Yatılı Bölge Ortaokulu/Kastamonu 6. Sınıf
(SBS ve İOKBS Soruları)



SOSYAL BİLGİLER
3. Ünite: Yeryüzünde Yaşam

Test 4-Türkiye'nin Beşeri Coğrafya Özellikleri

11. (2020 İOKBS)

“Yaşadığım yer her gün sıcak ve bol yağışlıdır. Burada tropikal yağmur ormanları bulunmaktadır. Ormanların fazla olmasına bağlı olarak ahşap evler yaygındır. Ayrıca bu bölgede bol miktarda Hindistan cevizi, mango, kakao gibi tarım ürünleri yetiştirilmektedir.”

Bu kişinin yaşadığı yerde hangi iklim tipi görülmektedir?

- A) Ekvatorial
C) Kutup
- B) Çöl
D) Karasal

Mehmet ÖZKÜZ

Test 4-Türkiye'nin Beşeri Coğrafya Özellikleri Cevap Anahtarı (6. Sınıf)
(SBS ve İOKBS Soruları)
1.D 2.D 3.C 4.C 5.B 6.B 7.C 8.D 9.A 10.B 11.A