



SOSYAL BİLGİLER

3. Zümre: İnsan ve Çevre

Test 1-Haritaları Tanıyorum

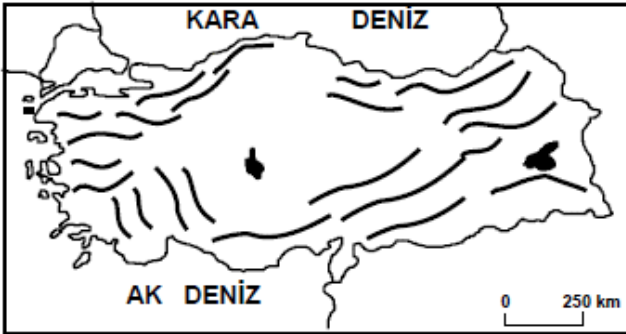
1. (2007 İOKBS)



Yukarıdaki haritaya bakıldığında **Mardin'den İstanbul'a** ok yönünde hareket eden pilot hangi yöne gitmiş olur?

- A) Güneydoğu
- B) Güneybatı
- C) Kuzeybatı
- D) Kuzeydoğu

2. (2008 İOKBS)



Türkiye'nin önemli sıradağlarının gösterildiği haritaya bakılarak yapılan aşağıdaki yargılardan hangisi **yanlıştır**?

- A) Dağlar Kuzey Anadolu kıyılarına paralel uzanır.
- B) Dağların genel uzanışı kuzey güney yönündedir.
- C) İç kesimlerde yeryüzü şekilleri daha sadedir.
- D) Batı Anadolu'da dağlar kıyıya dik uzanmaktadır.

3. (2009 İOKBS)

Fiziki haritalarda kullanılan **mavi renk ve tonları** aşağıdakilerden hangisini gösterir?

- A) Dağ ve tepeleri
- B) Ova ve platoları
- C) Deniz, göl ve akarsuları
- D) Orman, çayır ve meraları

4. (2009 İOKBS)

İnsanların doğada yaptıkları değişiklikler sonu **beşeri** unsurlar ortaya çıkar.

Buna göre aşağıdakilerden hangisi **beşeri** unsura örnek gösterilir?

- A) Çoruh Nehri
- B) Atatürk Barajı
- C) Van Gölü
- D) Erciyes Dağı

5. (2010 İOKBS)

Türkiye fiziki haritasını inceleyen bir öğrenci aşağıdakilerden hangisiyle ilgili çıkarım **yapamaz**?

- A) Denizlerin konumuyla
- B) Dağların uzanış yönüyle
- C) Nüfus hareketleriyle
- D) Akarsuların dağılışıyla



SOSYAL BİLGİLER
3. Ünite: İnsan ve Çevre

Test 1-Haritayı Tanıyorum

6. (2013 İOKBS)



Haritada numaralandırılarak verilen yeryüzü şekilleri aşağıdakilerin hangisinde **doğru** eşleştirilmiştir?

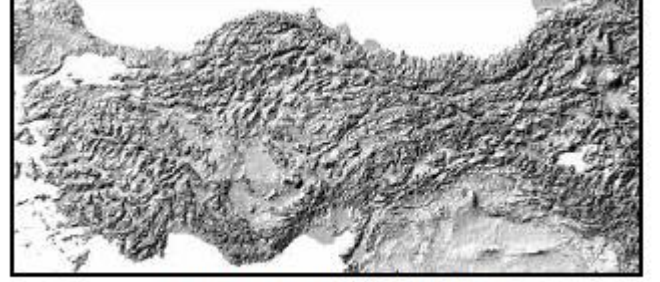
1	2	3
A) Akarsu	Göl	Körfez
B) Göl	Körfez	Akarsu
C) Körfez	Akarsu	Göl
D) Göl	Akarsu	Körfez

7. (2014 İOKBS)

Türkiye fiziki haritasında aşağıdakilerden hangisi **yeşil renk** ile gösterilir?

- | | |
|----------------------|-----------------|
| A) Antalya Ovası | B) Konya Ovası |
| C) Uzunyayla Platosu | D) Küre Dağları |

8. (2015 İOKBS)



Türkiye Kabartma Haritası

Bu haritaya bakıldığında aşağıdaki coğrafi özelliklerden hangisi tespit edilir?

- A) İklim özellikleri
- B) Nüfus yoğunluğu
- C) Yeryüzü şekilleri
- D) Bitki örtüsü özellikleri

9. (2015 İOKBS)

Bir fiziki haritada **kahverengi** rengin fazlaca kullanılması o bölgenin hangi özelliğini gösterir?

- A) Karasal iklim tipinin görüldüğünü
- B) Ortalama yükseltisinin fazla olduğunu
- C) Tarımsal faaliyetlerin yapıldığını
- D) Orman örtüsünün zayıf olduğunu

10. (2015 İOKBS)

Ülkemizde ortalama yükseltinin en az olduğu bölge Marmara Bölgesi'dir.

Buna göre Marmara Bölgesi'ni gösteren fiziki haritada aşağıdaki renklerden hangisi **daha çok** kullanılır?

- | | |
|---------------|----------|
| A) Kahverengi | B) Sarı |
| C) Turuncu | D) Yeşil |

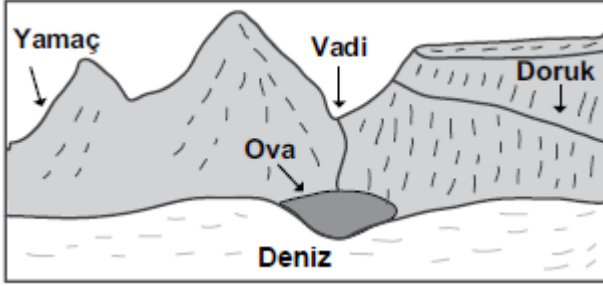


SOSYAL BİLGİLER

3. Ünite: İnsan ve Çevre

Test 1-Haritayı Tanıyorum

11. (2016 İOKBS)



Yukarıdaki görsel üzerinde gösterilen yer şekillerinden hangisinin adı yanlış verilmiştir?

- A) Yamaç B) Doruk C) Vadi D) Ova

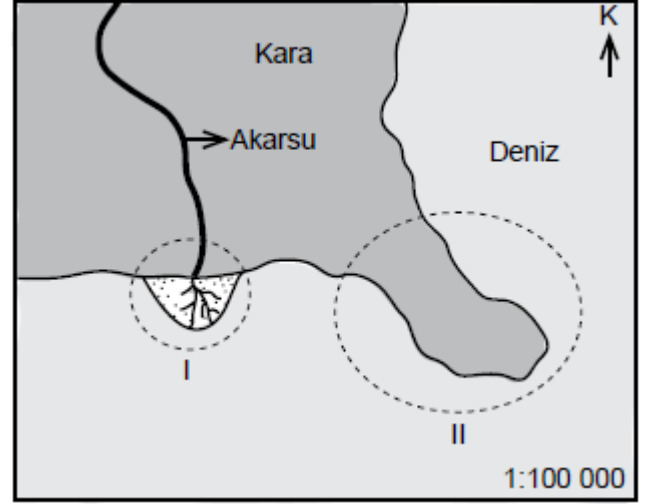
12. (2016 İOKBS)

Türkiye’de ovalar tarımsal faaliyetlerin yoğun olarak yapıldığı yerlerdir. Özellikle kıyı ovalarında bu durum daha belirgindir.

Buna göre, aşağıdaki ovalardan hangisi kıyı ovalarından biridir?

- A) Sıracık ovası B) Muş ovası
C) Çukurova D) Erzincan ovası

13. (2017 İOKBS)



Görselde I ve II numaralı daireler içinde gösterilen yer şekilleri aşağıdakilerden hangileridir?

- | | I | II |
|----|--------|----------|
| A) | Körfez | Burun |
| B) | Plato | Sıradağ |
| C) | Ova | Ada |
| D) | Delta | Yarımada |

14. (2017 İOKBS)

Türkiye kabartma haritasını inceleyen bir öğrenci aşağıdakilerden hangisini gözlemleyemez?

- A) Ege’de dağların denize dik uzandığını
B) Türkiye’de ormanların nerelerde yoğunlaştığını
C) Doğu Anadolu’da dağların çok olduğunu
D) İç Anadolu ile Güneydoğu’da ova ve platoların yaygın olduğunu



SOSYAL BİLGİLER

3. Ünite: İnsan ve Çevre

Test 1-Haritaları Tanıyorum

15. (2019 İOKBS)

Aşağıda bir yeryüzü şekline ait görsel verilmiştir:



Bu yeryüzü şekli aşağıdakilerden hangisidir?

- A) Ada B) Burun
C) Vadi D) Ova

16. (2019 İOKBS)

Haritalarda kullanılan özel işaretlerin anlamlarını gösteren, genellikle sağ alt köşede yer alan işaret tablosuna verilen isim aşağıdakilerden hangisidir?

- A) Ölçek B) Derinlik
C) Yükselti D) Lejant

17. (2020 İOKBS)

- Akarsuların yatağını aşındırarak oluşturduğu yeryüzü şeklidir.
- Ihlara ve Munzur bu yeryüzü şekline örnek gösterilebilir.

Tanımı ve örnekleri verilen yeryüzü şekli aşağıdakilerden hangisidir?

- A) Vadi B) Göl
C) Boğaz D) Koy

18. (2020 İOKBS)

Aşağıdakilerden hangisi bir çizimin harita olabilmesi için gerekli koşullardan biri değildir?

- A) Kuş bakışı görünüşüne göre çizilmesi
B) Bir düzlem üzerine aktarılması
C) Farklı renkler kullanılması
D) Belli bir ölçek dâhilinde küçültülmesi

19. (2020 İOKBS)

Aşağıda bazı yeryüzü şekillerinin tanımları yapılmıştır.

I. Çevresine göre alçakta kalan geniş düzlüklerdir.

II. Üç tarafı sularla çevrili, bir tarafı karayla bağlantılı yeryüzü şeklidir.

Buna göre I ve II olarak numaralanmış tanımlar aşağıdaki yeryüzü şekillerinden hangilerine aittir?

	I	II
A) Ova		yarımada
B) Plato		dağ
C) Ova		plato
D) Dağ		yarımada

20. (2021 İOKBS)

Çevresine göre yüksek olan ve tabandan zirveye doğru yamaçları eğimli, yeryüzü şekillerine ne ad verilir?

- A) Dağ B) Ova
C) Vadi D) Ada



Serinhisar Kocapınar Ortaokulu /Denizli-5. Sınıf
(İOKBS Soruları)



SOSYAL BİLGİLER

3. Ünite: İnsan ve Çevre

Test 1-Haritayı Tanıyorum

21. (2022 İOKBS)

Fiziki haritalarda deniz, göl, akarsu gibi su kütleleri mavi renkte gösterilir. Deniz seviyesine yakın, yükseltinin az olduğu yerler yeşil ve yeşilin tonları ile ifade edilir. Yükselti artmaya başladıkça yeşilin yerini sarı renk alır. Yükseltinin çok fazla olduğu yerler (1.000 metre ve üstü) kahverengi ile gösterilir.

Buna göre, Türkiye fiziki haritasında aşağıdakilerden hangisi **yeşil** renk ile gösterilir?

- A) Çukurova B) Kızılırmak
C) Nemrut Dağı D) Obruk Platosu

22. (2023 İOKBS)

Türkiye Fiziki Haritası aşağıda verilmiştir.



Buna göre, Türkiye'nin doğusunda kahverengi tonun **daha fazla** kullanılmasında aşağıdakilerden hangisi etkili olmuştur?

- A) Madenlerin dağılışı
B) Yükseltinin fazlalığı
C) Nüfusun dağılışı
D) Bitki örtüsünün çeşitliliği

23. (2023 İOKBS)

Yeryüzü şekillerinden bazılarının tanımları aşağıda verilmiştir.

- Akarsuyun yatağını aşındırarak oluşturduğu derin, uzun çukurdur.
- Etrafı tamamen sularla çevrili kara parçasıdır.
- Denizin karanın içine doğru sokulduğu büyük su girintisidir.

Buna göre, aşağıdakilerden hangisinin tanımı **yapılmamıştır**?

- A) Boğaz B) Körfez
C) Ada D) Vadi

Test 1-Haritayı Tanıyorum Cevap Anahtarı (5. Sınıf)
(iOKBS Soruları)

1.C 2.B 3.C 4.B 5.C 6.D 7.A 8.C 9.B 10.D 11.B 12.C 13.D 14.B 15.C 16.D 17.A 18.C 19.A 20.A 21.A 22.B 23.A



Serinhisar Kocapınar Ortaokulu /Denizli-5. Sınıf
(İOKBS Soruları)



SOSYAL BİLGİLER

3. Ünite: İnsan ve Çevre

Test 2-İklim ve Yaşamım

1. (2007 İOKBS)

Herhangi bir yerde bir günde meydana gelen hava olayları o yerin günlük hava durumudur.

Buna göre aşağıdaki ifadelerden hangisinde hava durumundan söz edilmemiştir?

- A) Pazar günü hava güneşliydi ailece pikniğe gittik.
- B) Dünkü rüzgârdan evimizin çatısı yıkılmıştır.
- C) Sabah havadaki sis trafik kazalarına neden oldu.
- D) Kış mevsimi için yeni botlar aldım.

2. (2007 İOKBS)

- I- Etrafının dağlarla çevrili olması
- II- Bitki örtüsünde bozkırların yaygın olması
- III- Denizlerden uzak olması
- IV- Tarımsal ürün çeşitliliğinin az olması

Yukarıda verilenlerden hangileri İç Anadolu Bölgesi'nde karasal iklim görülmesinin nedenlerindendir?

- A) I ve II
- B) I ve III
- C) II ve IV
- D) III ve IV

3. (2008 İOKBS)

Hasan'ın yaşadığı yörede yaz mevsiminin yağışlı geçmesi yetişmesine imkân sağlıyor. Böylece burada büyükbaş hayvancılık en önemli ekonomik faaliyet oluyor.

Paragrafta boş bırakılan yere aşağıdakilerden hangisi gelmelidir?

- A) Cılız bitkilerin
- B) Ormanların
- C) Gür otların
- D) Pamuğun

4. (2009 İOKBS)

Çok çeşitli iklim özelliklerine sahip bir ülke için aşağıdakilerden hangisi söylenebilir?

- A) Denize kıyısı olduğu
- B) Kuzey Yarım Küre'de yer aldığı
- C) Çok çeşitli bitki türüne sahip olduğu
- D) Hayvancılığın en önemli ekonomik faaliyet olduğu

5. (2009 İOKBS)



Türkiye'de buğdayın hasat edilme zamanı (sıcaklığın azalmasına bağlı olarak) batıdan doğuya gidildikçe gecikir.

Buna göre haritadaki illerden hangisinde buğday daha önce hasat edilir?

- A) Manisa
- B) Eskişehir
- C) Sivas
- D) Ağrı



Serinhisar Kocapınar Ortaokulu /Denizli-5. Sınıf
(İOKBS Soruları)



SOSYAL BİLGİLER

3. Ünite: İnsan ve Çevre

Test 2-İklim ve Yaşamım

Mehmet ÖZKÜZ

6. (2009 İOKBS)

Yağışın yetersiz olduğu kurak bölgelerdeki kırsal alanlarda görülen toprak evler aşağıdaki bölgelerimizden hangisinde **daha yaygındır**?

- A) Ege Bölgesi
- B) Akdeniz Bölgesi
- C) Marmara Bölgesi
- D) Güneydoğu Anadolu Bölgesi

7. (2009 İOKBS)

Karadeniz Bölgesi'ne ait aşağıdaki özelliklerden hangisinin oluşumunda bölgede görülen iklimin etkisi **yoktur**?

- A) Taşkömürü yataklarının yer almasında
- B) Çay üretilen tek bölge olmasında
- C) Heyelan olaylarının sık yaşanmasında
- D) Gür ve sık orman örtüsüne sahip olmasında

8. (2010 İOKBS)

Türkiye'nin iklim özellikleri dikkate alındığında, aşağıdaki yerlerin hangisinde kış mevsiminin ılıman geçmesi yakıt masraflarını **en aza** indirir?

- A) Ankara
- B) Kütahya
- C) Erzurum
- D) Hatay

9. (2010 İOKBS)

Ahmet: Anne biz de bahçemizde muz yetiştirebilir miyiz?

Anne: Tabi ki oğlum, bizim burada kış mevsimi ılık geçtiği için komşularımız gibi biz de bahçemizde muz yetiştirebiliriz.

Yukarıdaki konuşmalara göre Ahmet ve ailesi nerede yaşıyor olabilir?

- A) Uşak
- B) Ankara
- C) Antalya
- D) Erzincan

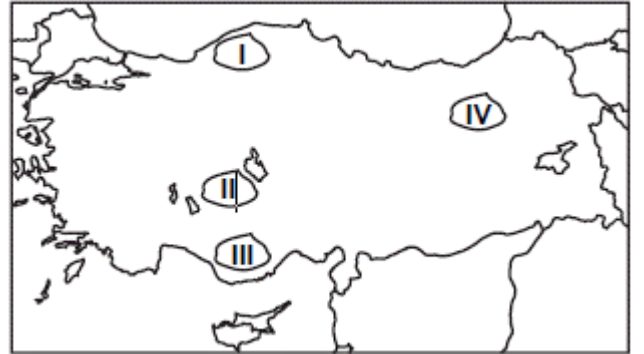
10. (2010 İOKBS)

Aşağıdakilerden hangisi, Türkiye'de farklı iklim tiplerinin görülmesinin bir sonucudur?

- A) Çok çeşitli sebze ve meyvelerin yetişmesi
- B) Yeraltı kaynaklarının çeşitlilik göstermesi
- C) Platoların geniş alanlar kaplaması
- D) Etrafının denizlerle çevrili olması

11. (2011 İOKBS)

Kışın ısınma probleminin yaşanmadığı, yazların sıcak ve kurak geçtiği kırsal alanlarda görülen taş evler aşağıda numaralandırılarak verilen alanların hangisinde **yaygındır**?



- A) I
- B) II
- C) III
- D) IV



SOSYAL BİLGİLER

3. Ünite: İnsan ve Çevre

Test 2-İklim ve Yaşamım

12. (2012 İOKBS)

Türkiye tahıl üretiminin yarısına yakın kısmının iç Anadolu'dan karşılanması, aşağıdakilerden açıklanabilir?

- A) İklim ve yer şekli özellikleriyle
- B) Pazarlama imkânlarının kolaylığıyla
- C) Bölge halkının tüketim alışkanlığıyla
- D) Sanayi ve ticaretin gelişmiş olmasıyla

13. (2013 İOKBS)

Karasal iklimin etkili olduğu bir bölgede yaşayan kişi aşağıdakilerden hangisini söyler?

- A) Kışın çok kalın giyiniriz.
- B) Çevremizde makiler yaygındır.
- C) Yağışlar kışın genellikle kar şeklindedir.
- D) Buğday ve arpa çok ürettiğimiz ürünlerdendir.

14. (2013 İOKBS)

Aşağıdakilerin hangisinde iklimin etkisi yoktur?

- A) Turizm sezonunun başlangıcı ve bitişinde
- B) Yeraltı kaynaklarının dağılışı
- C) Tarımsal ürünlerin çeşitliliğinde
- D) Bitki türlerinin dağılışı

15. (2014 İOKBS)

Türkiye'de yazların sıcak ve kurak kışların ılık ve yağışlı geçtiği bir bölge için aşağıdakilerden hangisi kesinlikle söylenemez?

- A) Yaz turizminin gelişmiş olduğu
- B) Tarımsal üretimin düşük olduğu
- C) Maki bitki örtüsünün yaygın olduğu
- D) Ticari faaliyetlerin önemli olduğu

16. (2014 İOKBS)

Çay, ılıman iklim ve bol yağış isteyen bir tarım ürünüdür.

Buna göre, aşağıdaki yerlerin hangisi çay tarımı için elverişli şartlara sahiptir?

- A) Ege kıyı kuşağı
- B) Tuz gölü çevresi
- C) Çukurova ve çevresi
- D) Doğu Karadeniz kıyı kuşağı

17. (2016 İOKBS)

"Ali turizm haftası için yaşadığı yer ile ilgili aşağıdaki bilgi notunu hazırlamıştır. "Yaşadığım yer Türkiye'nin orman bakımından en zengin alanlarından birisi ve son yıllarda yayla turizmi ve şenlikleriyle önem kazanmış bir alandır. Her mevsim yağışlı olduğundan gür akan derelere de sahiptir."

Buna göre Ali'nin yaşadığı il aşağıdakilerden hangisidir?

- A) Şanlıurfa
- B) Rize
- C) Kırşehir
- D) Edirne

18. (2016 İOKBS)



Haritada taranarak gösterilen alanlar karşılaştırıldığında aşağıdakilerden hangisi söylenemez?

- A) I. alanda yağışlar daha fazladır.
- B) II. alanda kuraklık daha fazla hissedilir.
- C) I. alan orman bakımından daha zengindir.
- D) II. alanda turuncgiller yaygın olarak yetiştirilir.



Serinhisar Kocapınar Ortaokulu /Denizli-5. Sınıf
(İOKBS Soruları)

SOSYAL BİLGİLER

3. Ünite: İnsan ve Çevre



Test 2-İklim ve Yaşamım

19. (2017 İOKBS)

İklim koşulları, bir yerin nüfusunu etkileyen önemli faktörlerden biridir.

Aşağıdakilerden hangisi bu yargının doğruluğunu ispatlayan bir durumdur?

- A) Çöl ve kutuplarda nüfusun çok seyrek olması
- B) Maden çıkarılan yerlerde nüfus miktarının fazla olması
- C) Sanayi şehirlerinde nüfus yoğunluğunun yüksek olması
- D) Ulaşım ağının gelişmediği yerlerde nüfus miktarının düşük olması

20. (2017 İOKBS)

Aşağıdaki tesislerden hangisinin kurulmasında iklim özelliği daha etkili olmuştur?

- A) Kırşehir'deki lastik fabrikasının
- B) Karabük demir-çelik fabrikasının
- C) İzmit'teki petrol arıtma rafinerisinin
- D) Palandöken Dağları'ndaki kayak tesislerinin

21. (2017 İOKBS)

Doğu Karadeniz'in kıyı kesimlerinde yaşayan çiftçiler çay, fındık, kivi ve mısır tarımıyla; iç kesimlerdeki ise çoğunlukla hayvancılık ve arıcılıkla geçimlerini sağlar.

Bu farklılığın temel sebebi aşağıdakilerden hangisidir?

- A) Tüketim alışkanlıkları
- B) İklim ve yer şekli özellikleri
- C) Su kaynaklarının dağılışı
- D) Nüfus yoğunluğundaki farklılık

22. (2018 İOKBS)

Hava durumu, kısa süreli hava olayları iken iklim, uzun süreli hava olaylarının ortalamasıdır.

Buna göre aşağıdaki ifadelerden hangisi iklime bir örnektir?

- A) Antalya'da aniden bastıran yağmur sel olup taşıtı.
- B) Güneşi gören Ankaralılar parklara hücum etti.
- C) İzmir'de sıcak ve kurak bir yaz daha yaşandı.
- D) Bursa'da kuvvetli esen rüzgâr çatıları uçurdu.

23. (2018 İOKBS)



Haritada taranmış alanlar için aşağıdakilerden hangisi söylenemez?

- A) I'de çay tarımı yapılır.
- B) II'de seracılık gelişmiştir.
- C) I'de ahşap evler bulunur.
- D) II'de her mevsim yağışlı geçer.

24. (2019 İOKBS)

Çay ve fındık üretiminde yağış ve neme ihtiyaç duyulmaktadır.

Buna göre aşağıdaki yerlerden hangisinin çay ve fındık üretimine uygun olduğu söylenebilir?

- A) Giresun
- B) Yozgat
- C) Siirt
- D) Burdur



Serinhisar Kocapınar Ortaokulu /Denizli-5. Sınıf
(İOKBS Soruları)

SOSYAL BİLGİLER

3. Ünite: İnsan ve Çevre



Test 2-İklim ve Yaşamım

25. (2019 İOKBS)

Aşağıdakilerden hangisi iklimin konut tipine etkisine örnek olarak gösterilebilir?

- A) Şehir merkezlerinde yüksek betonarme binaların yapılması
- B) Erzurum-Kars yöresinde büyükbaş hayvancılığın yaygın olması
- C) Karadeniz'de ormanın bol olduğu yerlerde ahşap evlerin yapılması
- D) Akdeniz ve Ege kıyılarında yaz turizminin gelişmesi

26. (2020 İOKBS)

İklim uzun süreli hava olaylarının ortalaması iken, hava durumu kısa süreli hava olaylarıdır.

Buna göre aşağıdaki ifadelerden hangisi iklime bir örnektir?

- A) Çarşamba günü Ankara'da yağmur bekleniyor.
- B) İzmir'deki şiddetli fırtınanın etkisi hâlâ sürüyor.
- C) Erzurum'da kışlar soğuk ve kar yağışlı geçer.
- D) İstanbul'da yoğun sis, trafiği aksattı.

27. (2020 İOKBS)

İklim insan faaliyetleri üzerinde etkilidir.

Aşağıdakilerden hangisi bu bilgiye uygun bir örnek değildir?

- A) İç Anadolu Bölgesi'nde yaygın olan bitki örtüsü bozkırdır.
- B) Erzurum-Kars yöresinde büyükbaş hayvancılık yaygındır.
- C) Ege kıyılarında turizm gelişmiştir.
- D) Karadeniz'de ahşap malzemeye yapılan evler görülmektedir.

28. (2021 İOKBS)

İç Anadolu'nun özellikle kırsal kesimlerinde evlerin kerpiçten, Akdeniz Bölgesi'nde taştan, Karadeniz'de ise ahşaptan yapılmasında etkili olan faktör aşağıdakilerden hangisidir?

- A) İklim
- B) Yeraltı kaynakları
- C) Ekonomik faaliyetler
- D) Yeryüzü şekilleri

29. (2021 İOKBS)

İklim, bir yerde hava olaylarının uzun yıllar boyunca gösterdiği ortalama durumdur.

Buna göre aşağıdakilerden hangisi iklime örnek gösterilebilir?

- A) Mersin'de yarın sisli bir hava bekleniyor.
- B) Ağrı'da yoğun kar yağışı trafiği aksattı.
- C) Rize'de dün yağın yağmur sele neden oldu.
- D) Kayseri'de yazlar sıcak ve kurak geçer.

30. (2022 İOKBS)

Genel ağda 2020 yılında verilen bir habere göre, Trakya'da son yılların en kurak mevsimi yaşandı. Meteoroloji, geçen yıla oranla Edirne, Tekirdağ ve Kırklareli'de yağışların yüzde elli azaldığına dikkat çekti. Yaşanan kuraklık tarımda beklenen verimin düşmesine neden oldu.

Bu durum, aşağıdakilerden hangisine örnek gösterilebilir?

- A) Sanayi faaliyetlerinin sonuçlarına
- B) Maden kaynaklarının dağılışına
- C) Nüfusun özelliklerine
- D) İklimin üretim faaliyetlerine etkisine



Serinhisar Kocapınar Ortaokulu /Denizli-5. Sınıf
(İOKBS Soruları)



SOSYAL BİLGİLER

3. Ünite: İnsan ve Çevre

Test 2-İklim ve Yaşamım

31. (2022 İOKBS)

Aşağıdakilerden hangisi Akdeniz ikliminin bir sonucudur?

- A) Kırsal kesimde evlerin kerpiçten yapılması
- B) Her mevsimin yağışlı olması
- C) Fındık üretiminin fazla yapılması
- D) Bitki örtüsünü kızılçam ve makilerin oluşturması

32. (2023 İOKBS)

Türkiye'ye ait bir günlük hava tahmin haritası aşağıda verilmiştir.



Bu haritaya göre, Türkiye'nin çeşitli yerlerinde aynı gün içerisinde farklı hava olaylarının yaşanması aşağıdakilerden hangisiyle açıklanabilir?

- A) Tarımsal faaliyetler
- B) Nüfus yoğunluğu
- C) İklim farklılığı
- D) Çevre sorunları

33. (2023 İOKBS)

"Ben İlhan, Kayseri'nin küçük bir köyünde yaşıyorum. Biz, kerpiçten yapılmış tek katlı ve bahçeli bir evde yaşıyoruz. Babam ve dedem her yıl tarlalarımıza buğday ekiyor. Yaşadığımız yerde yazlar sıcak ve kurak, kışlar soğuk ve kar yağışlıdır."

Buna göre, İlhan'ın yaşadığı yerde aşağıdaki iklim türlerinden hangisi görülmektedir?

- A) Akdeniz
- B) Karadeniz
- C) Çöl
- D) Karasal

34. (2023 İOKBS)

Buğday; yetiştirme döneminde yağışa, başakların olgunlaşma döneminde ise sıcaklığa ihtiyaç duyar.

Bu bilgide, buğday tarımında etkili olan hangi faktör vurgulanmıştır?

- A) Yeryüzü şekilleri
- B) İklim
- C) Bitki örtüsü
- D) Toprak

35. (2023 İOKBS)

Bazı iller numaralanmış olarak aşağıda verilmiştir.

1. Konya
2. Ordu
3. İzmir

Bu illerde yaygın olan bitki örtüsü aşağıdakilerin hangisinde doğru olarak verilmiştir

	1	2	3
A)	Maki	Orman	Bozkır
B)	Maki	Bozkır	Orman
C)	Bozkır	Orman	Maki
D)	Bozkır	Maki	Orman

Test 2-İklim ve Yaşamım Cevap Anahtarı (5. Sınıf)
(İOKBS Soruları)

1.D 2.B 3.C 4.C 5.A 6.D 7.A 8.D 9.C 10.A 11.C 12.A 13.B 14.B 15.C 16.D 17.B 18.D 19.A 20.D 21.B 22.C 23.D 24.A 25.C 26.C 27.A 28.A
29.D 30.D 31.D 32.C 33.D 34.B 35.C



Serinhisar Kocapınar Ortaokulu /Denizli-5. Sınıf
(İOKBS Soruları)

SOSYAL BİLGİLER

3. Ünite: İnsan ve Çevre



Test 3-Nerede Yaşanır?

1. (2007 İOKBS)

Türkiye’de kırsal ve kentsel yerleşmeler karşılaştırıldığında aşağıdaki ifadelerden hangisi yanlış olur?

- A) Kentsel yerleşmelerde nüfus yoğunluğu daha düşüktür.
- B) Kırsal yerleşmelerde ekonomik faaliyetlerde çeşitlilik daha azdır.
- C) Kentsel yerleşmelerde eğitim-sağlık hizmetleri daha gelişmiştir.
- D) Kırsal yerleşmelerde tarımın önemi daha fazladır.

2. (2007 İOKBS)

Aşağıdaki şehirlerden hangisinin gelişmesi öncelikle yer altı kaynaklarına dayanır?

- A) Konya
- B) Zonguldak
- C) Edirne
- D) Adana

3. (2008 İOKBS)

İstanbul, ülkemizde nüfusun en sık ve en fazla olduğu ildir.

Bunda İstanbul’un hangi özelliğinin etkisi yoktur?

- A) Zengin bitki örtüsünün
- B) Yoğun sanayi kuruluşlarının
- C) Uygun iklim şartlarının
- D) Gelişmiş ulaşım sistemlerinin

4. (2011 İOKBS)

Yeryüzü şekilleri ve iklim koşullarının elverişli olduğu yerlerde genellikle nüfus yoğunluğu fazladır.



Buna göre, haritada verilen illerden hangisinde nüfus yoğunluğu daha azdır?

- A) Zonguldak
- B) Siirt
- C) Samsun
- D) İzmir

5. (2011 İOKBS)

Antalya, yoğun nüfuslu illerimizden biridir. Özellikle yaz aylarında bu yoğunluk daha da artmaktadır.

Bu durumun ortaya çıkmasında Antalya’nın hangi özelliğinin etkisi yoktur?

- A) Çeşitli tarımsal faaliyetlerin olması
- B) Turistik değerlere sahip olması
- C) İklimin elverişli olması
- D) Bitki örtüsünün maki olması



Serinhisar Kocapınar Ortaokulu /Denizli-5. Sınıf
(İOKBS Soruları)



SOSYAL BİLGİLER

3. Ünite: İnsan ve Çevre

Test 3-Nerede Yaşanır?

6. (2012 İOKBS)

Aşağıdakilerden hangisi Türkiye’de nüfus yoğunluğu yüksek olan yerlerin özelliklerinden biridir?

- A) Yer şekillerinin dağlık olması
- B) Yeraltı kaynaklarınca fakir olması
- C) Ilıman iklim özelliklerine sahip olması
- D) Tarım topraklarının verimsiz olması

7. (2013 İOKBS)

İklim şartları ve yer şekillerinin uygun olduğu, ulaşım ağı ile iş imkânlarının geliştiği yerlerde nüfus yoğunluğu yüksektir.

Buna göre, aşağıdaki bölgelerimizin hangisinde nüfus yoğunluğu **daha** yüksektir?

- A) İç Anadolu Bölgesi
- B) Karadeniz Bölgesi
- C) Marmara Bölgesi
- D) Güneydoğu Anadolu Bölgesi

8. (2014 İOKBS)

Ülkemizde nüfusun en yoğun olduğu yer Marmara Bölgesi’dir.

Bu duruma bölgenin hangi özelliğinin etkisi **en azdır**?

- A) İkliminin ılıman olması
- B) Sanayisinin gelişmiş olması
- C) Arazisinin düz ve verimli olması
- D) Komşu ülkelere sınırının olması

9. (2018 İOKBS)

Yaşadığım bölge ülkemizin ticaret, bankacılık, ulaşım ve turizm merkezidir. Eğitim, sağlık ve sosyal hizmetler gelişmiştir. İş imkânlarının fazla olması nedeniyle sürekli göç alır. Ülkemizin en kalabalık nüfusa sahip bölgesidir.

Bu metinde hangi bölgeden söz edilmiştir?

- A) Ege
- B) Marmara
- C) Akdeniz
- D) Karadeniz

10. (2019 İOKBS)

Ova ve plato gibi düz alanlar tarım, sanayi ve ulaşım gibi ekonomik faaliyetleri yapmak için daha uygundur. Engebeli ve dağlık alanlar ise insanların ekonomik faaliyet yapmasını zorlaştırır. Bu nedenle ova ve platoların bulunduğu yerlerin nüfusu dağlık ve engebeli alanlardan fazladır.

Bu bilgide nüfusun dağılışını etkileyen **doğal** faktörlerden hangisinin önemi vurgulanmaktadır?

- A) İklim
- B) Yeryüzü şekilleri
- C) Su kaynakları
- D) Toprağın yapısı

11. (2020 İOKBS)

Aşağıdakilerden hangisi “sanayi tesislerinin yoğunluğu” ve “iş imkânlarının fazla olması” nedeniyle göç alan şehirlerimize örnek gösterilebilir?

- A) Ağrı
- B) Şırnak
- C) Artvin
- D) Bursa



Serinhisar Kocapınar Ortaokulu /Denizli-5. Sınıf
(İOKBS Soruları)

SOSYAL BİLGİLER

3. Zümre: İnsan ve Çevre



Test 3-Nerede Yaşanır?

12. (2020 İOKBS)

Ormanların gür olduğu yerlerde yerleşme az görülür. Örneğin, Karadeniz Bölgesi'nin bazı kesimlerinde nüfusun seyrek olmasında etkili olan faktörlerden biri ormanların fazlalığıdır.

Bu bilgide nüfusun dağılışını etkileyen **doğal** özelliklerden hangisi vurgulanmıştır?

- A) Toprak yapısı B) Bitki örtüsü
C) Su kaynakları D) Yeryüzü şekilleri

13. (2020 İOKBS)

Düzlük alanlarda nüfus fazlalaşırken, dağlık ve engebeli arazilerde nüfus daha azdır.

Bu bilgide nüfusun dağılışını etkileyen **doğal** özelliklerden hangisi anlatılmıştır?

- A) İklim tipi B) Toprak yapısı
C) Yeryüzü şekilleri D) Bitki örtüsü

14. (2021 İOKBS)

Emre: "Yaşadığım yerde yükselti azdır. Bu nedenle ulaşım kolaydır. Burada sanayi çok gelişmiştir. Buna bağlı olarak ticaret, bankacılık, ulaşım gibi ekonomik faaliyetler de gelişme göstermiştir. İş imkanlarının fazlalığı nedeniyle sürekli göç alan şehrimizin nüfusu da artmıştır."

Buna göre Emre aşağıdaki şehirlerden hangisinde yaşamaktadır?

- A) Artvin B) Kars
C) İstanbul D) Sinop

15. (2022 İOKBS)

Yükseltinin az olduğu, ova ve platoların geniş yer kapladığı Bursa, Adana, Konya ve Samsun gibi illerimizde nüfus fazladır. Dağlık ve engebeli alanlar ise ekonomik faaliyetleri zorlaştırdığı için Hakkari ve Artvin gibi illerimizde nüfus azdır.

Bu bilgide, nüfusun dağılışını etkileyen **doğal** faktörlerden hangisi vurgulanmıştır?

- A) Toprak yapısı B) Yeryüzü şekilleri
C) Bitki örtüsü D) Su kaynakları

16. (2023 İOKBS)

İnsanlar; doğal çevredeki kaynakları kullanarak ekonomik faaliyetler yaparlar, doğadan daha fazla yararlanmak ve ihtiyaçlarını karşılamak üzere doğal çevreyi değiştirirler.

Buna göre, aşağıdakilerden hangisi bu değişiklikler sonucu ortaya çıkan unsurlardan biri **değildir**?

- A) Deniz B) Köprü
C) Baraj D) Fabrika

17. (2023 İOKBS)

Aşağıdaki öğrencilerden hangisi nüfus ve yerleşmeyi etkileyen **doğal** bir faktöre örnek vermiştir?

A) Belgin: "Dayımın yaşadığı Zonguldak'ta madencilikle geçinen nüfus oldukça fazladır."

B) Beril: "Ben Kocaeli'de yaşıyorum. Yaşadığım şehirde sanayi faaliyetleri fazla olduğu için sürekli işçi göçü alıyor."

C) Bengü: "Bu turizm döneminde de çok sayıda kişi Antalya'daki otellerde çalışmaya gitmiş."

D) Begüm: "Rize'de evler, engebeli araziye ve su kaynaklarına bağlı olarak genellikle dağınık bir şekilde inşa edilmiştir."



Serinhisar Kocapınar Ortaokulu /Denizli-5. Sınıf
(İOKBS Soruları)

SOSYAL BİLGİLER

3. Zümre: İnsan ve Çevre



Test 3-Nerede Yaşanır?

18. (2023 İOKBS)

Gökçe: “Yaşadığım şehir olan Antalya’da güneşli gün sayısı ve sıcaklık fazla olduğu için deniz turizmi gelişmiştir.”

Kubilay: “Ben Erzurum’da yaşamaktayım. Kar yağışına bağlı olarak Palandöken Dağı’nda kış turizmi gelişmiştir.”

Buna göre, Gökçe ve Kubilay’ın yaşadığı illerdeki turizm faaliyetleri aşağıdakilerden hangisine bağlı olarak değişmiştir?

- A) Ulaşım B) Sanayiye
C) İklim D) Tarıma

Mehmet ÖZKÜZ

Test 3-Nerede Yaşanır? Cevap Anahtarı (5. Sınıf)
(İOKBS Soruları)

1.A 2.B 3.A 4.B 5.D 6.C 7.C 8.D 9.B 10.B 11.D 12.B 13.C 14.C 15.B 16.A 17.D 18.C



SOSYAL BİLGİLER

3. Ünite: İnsan ve Çevre

Test 4-Afetler ve Çevre Sorunları-Afetlerin İnsan Üzerinde Etkileri

1. (2007 İOKBS)

Aşağıdaki doğal afetlerden hangisi Türkiye’de can ve mal kaybına **daha çok** sebep olur?

- A) Depremler
B) Heyelanlar
C) Çığ düşmeleri
D) Şiddetli kuraklık

2. (2008 İOKBS)

Bitki örtüsünün cılız, eğimin fazla olduğu yamaçlarda aşırı kar yağışı aşağıdaki doğal afetlerden hangisine neden olur?

- A) Heyelan
B) Çığ
C) Deprem
D) Kuraklık

3. (2009 İOKBS)

17 Ağustos 1999’da Marmara Bölgesi’nde meydana gelen, çok sayıda can ve mal kaybına neden olan doğal afet aşağıdakilerden hangisidir?

- A) Deprem
B) Heyelan
C) Çığ
D) Sel baskını

4. (2010 İOKBS)

Aşağıdakilerin hangisi doğayı erozyondan korumaya yönelik bir çalışmadır?

- A) Kırsalda küçükbaş hayvancılığı yaygınlaştırmak
B) Makineli tarımı yaygınlaştırmak
C) Tarım bitkilerini sık sık ilaçlamak
D) Çıplak arazileri ağaçlandırmak

5. (2011 İOKBS)

Mert’in yaşadığı yerde aşağıdaki doğal afetlerden hangisi görülür?

Yaşadığım yer dik yamaçlarla çevrili, engebeli bir yapıya sahiptir. Çok fazla yağış almaktadır. Toprağımız da killi, kaygan özelliğe sahip olduğu için ağaçlandırılmamış yamaçlardaki toprak, aşağıya doğru kütleler hâlinde kayıyor.



- A) Sel
B) Erozyon
C) Heyelan
D) Deprem

6. (2011 İOKBS)

Aşağıdaki afetlerden hangisi oluşum nedeni açısından diğerlerinden farklıdır?

- A) Heyelan
B) Deprem
C) Sel
D) Yangın

7. (2011 İOKBS)

- I- Bolu tünelinin yapılması
II- Fırat nehri üzerinde Atatürk barajının yapılması
III- Doğu Karadeniz’de balıkçılık yapılması

Yukarıdakilerden hangileri insanların doğal ortamı değiştirmesine kanıt olarak gösterilir?

- A) Yalnız I
B) I ve II
C) II ve III
D) I, II ve III



Serinhisar Kocapınar Ortaokulu /Denizli-5. Sınıf
(İOKBS Soruları)



SOSYAL BİLGİLER

3. Ünite: İnsan ve Çevre

Test 4-Afetler ve Çevre Sorunları-Afetlerin İnsan Üzerinde Etkileri

8. (2011 İOKBS)

Aşağıdakilerden hangisi erozyonu önlemek için alınan tedbirlerden biridir?

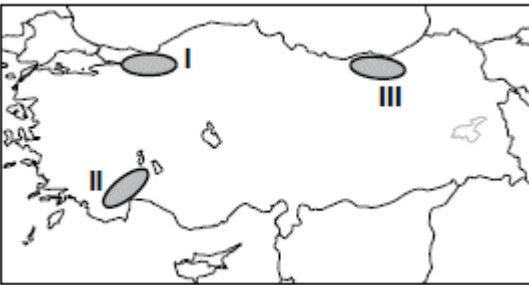
- A) Tarlaların eğim doğrultusunda sürülmesi
- B) Meraların aşırı otlatılması
- C) Bataklıkların kurutulması
- D) Ağaçlandırma çalışmaları

9. (2012 İOKBS)

Aşağıdakilerden hangisi depremin etkilerini azaltmak için yapılacak uygulamalardan biridir?

- A) Çok katlı binalar yapmak
- B) Evleri gevşek zemine yapmak
- C) Binalarda dayanıklı malzeme kullanmak
- D) Fay hatları yakınlarına yerleşmek

10. (2012 İOKBS)



Haritada numaralandırılarak verilen alanlarla burada görülen afetler, aşağıdakilerden hangisinde doğru olarak eşleştirilmiştir?

- | I. | II. | III. |
|------------------|---------------|---------|
| A) Orman yangını | Deprem | Heyelan |
| B) Deprem | Orman Yangını | Heyelan |
| C) Orman Yangını | Heyelan | Deprem |
| D) Heyelan | Orman Yangını | Deprem |

11. (2012 İOKBS)

Ayşe okul ödevi için aşağıdaki tabloyu hazırlamıştır:

DOĞAL AFET	Etkilerini azaltmak için öneri
Deprem	Binaları az katlı yapmak
Kuraklık	Suyu tasarruflu kullanmak
Orman yangını	Ormanları yerleşime açmak
Erozyon	Ağaçlandırma çalışmaları yapmak

Bu tabloya göre hangi doğal afet için verdiği öneri uygun değildir?

- A) Deprem
- B) Kuraklık
- C) Erozyon
- D) Orman yangını

12. (2012 İOKBS)

Yaşadığımız bölgedeki köylerin en önemli sorunu erozyondur. Bu yüzden çayır ve meralarımız azaldı, tarım topraklarımız küçüldü ve gelirlerimiz düştü. Bütün bunların sonunda pek çok aile şehirlere göç etti.

Aşağıdakilerden hangisini yapmak bu bölgedeki soruna çözüm getirir?

- A) Ağaçlandırma çalışmaları
- B) Sağlam konutlar yapmak
- C) Su kaynaklarını aşırı kullanmak
- D) Büyükbaş hayvancılığa önem vermek

13. (2013 İOKBS)

- Aşırı yağış
- Eğimli arazi
- Bitki örtüsünün tahribi

Verilenlerin tamamı bir araya gelince aşağıdaki doğal afetlerden hangisi gerçekleşir?

- A) Sel
- B) Deprem
- C) Yangın
- D) Kuraklık



SOSYAL BİLGİLER
3. Ünite: İnsan ve Çevre

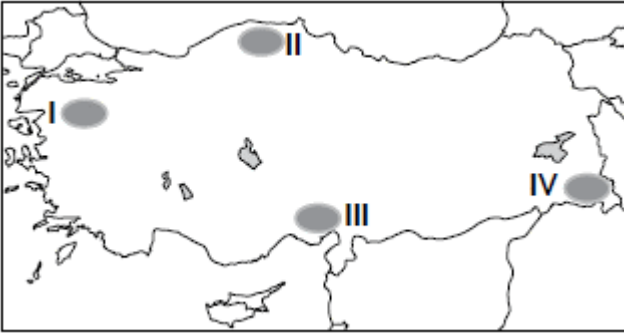
Test 4-Afetler ve Çevre Sorunları-Afetlerin İnsan Üzerinde Etkileri

14. (2014 İOKBS)

Aşağıdakilerden hangisi insanların doğal ortamda yaptığı değişikliklere örnek gösterilebilir?

- A) Peribacalarının önünde sergi açılması
- B) Göksu Nehri üzerine baraj yapılması
- C) Manyas Gölü'ndeki kuşların korunması
- D) Ormanlık alanlardaki çöplerin toplanması

15. (2014 İOKBS)



Haritada numaralandırılarak verilen alanlardan hangisinde çığ olayının görülme ihtimali daha fazladır?

- A) I
- B) II
- C) III
- D) IV

16. (2015 İOKBS)

Aşağıdakilerden hangisi doğal çevreyi olumsuz yönde etkileyebilecek bir uygulamadır?

- A) Fabrika bacalarına filtre kurulması
- B) Atıkların doğal kaynaklara karışmasının önlenmesi
- C) Plastik, cam ve kağıt çöplerinin geri dönüşüme gönderilmesi
- D) Doğal bitki örtüsünün tahrip edilmesi

17. (2015 İOKBS)

“Çarşamba'yı sel aldı.
Bir yâr sevdim el aldı.
Keşke sevmez olaydım.
Elim koynumda kaldı.”

Bu türküyü konu olan doğal afetin sebebi aşağıdakilerden hangisidir?

- A) Aşırı yağış
- B) Yer sarsıntısı
- C) Yer kayması
- D) Kuraklık

18. (2015 İOKBS)



Haritada gösterilen şehirlerin hangisinde deprem olma ihtimali daha fazladır?

- A) I.
- B) II.
- C) III.
- D) IV.

19. (2016 İOKBS)

Aşağıdakilerden hangisi depremin neden olduğu can ve mal kaybını azaltmak için alınacak önlemlerden biri değildir?

- A) İnsanları deprem konusunda bilinçlendirmek
- B) Ağaçlandırma çalışmalarına öncelik vermek
- C) Binaları sağlam zemin üzerine inşa etmek
- D) Arama ve kurtarma ekipleri oluşturmak



SOSYAL BİLGİLER

3. Ünite: İnsan ve Çevre

Test 4-Afetler ve Çevre Sorunları-Afetlerin İnsan Üzerinde Etkileri

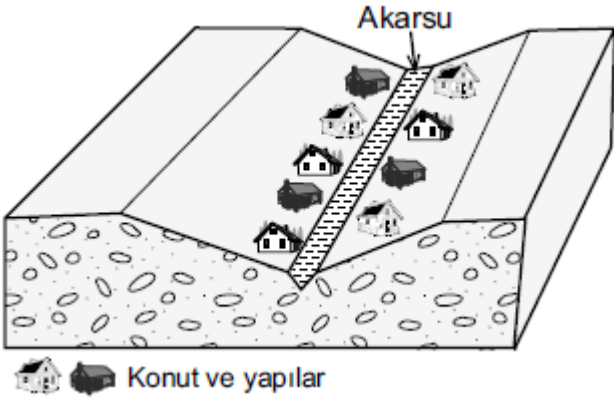
20. (2017 İOKBS)

İç Anadolu, yeryüzü şekillerinin fazla dağlık olmadığı; ova ve platolarla kaplı bir bölgedir. Orman örtüsü bakımından fakirdir. Özellikle ilkbahar aylarında sağanak yağışların etkisi altındadır.

Bu parçaya göre İç Anadolu Bölgesi'nde aşağıdaki doğal afetlerden hangisinin daha etkili olması beklenir?

- A) Çığ B) Deprem
C) Erozyon D) Heyelan

21. (2017 İOKBS)



Bu görseldeki vadide yer alan konut ve yapılar belli dönemlerde sel ve taşkınlarla uğramakta bunun sonucunda maddi ve manevi kayıplar yaşanmaktadır.

Bu soruna karşı alınabilecek en etkili yöntem aşağıdakilerden hangisidir?

- A) Vadi yamaçlarını ağaçlandırmak
B) Konutları daha sağlam ve yüksek yapmak
C) Akarsu yatağındaki moloz ve atıkları temizlemek
D) Konut ve yapıları vadi üstündeki düzlüğe taşımak

22. (2017 İOKBS)

Havaalanı yapılması planlanan ve birbirine komşu olan Ordu ile Giresun illerimizin arazisinin dağlık ve ormanlık olması önemli bir sorundu. Havaalanı yapmak için bu illerin arasındaki deniz doldurularak arazi elde edilmiş, günümüzdeki havaalanı da buraya kurulmuştur.

Bu metne göre aşağıdakilerden hangisi söylenebilir?

- A) İnsanlar ihtiyaçları doğrultusunda doğada değişiklik yapar.
B) Deniz doldurularak arazi üretmek eski bir yöntemdir.
C) Her şehrin, havaalanına ihtiyacı bulunmaktadır.
D) Karadeniz kıyıları deniz yolu ulaşımına elverişlidir.

23. (2018 İOKBS)

İnsan ihtiyaçlarını karşılamak için doğal çevrede değişiklikler yapar. Yol yaparken önüne çıkan engelleri aşmak için - - - -I - - - - açar. Su ve enerji ihtiyaçlarını karşılamak için akarsu önlerine - - - -I - - - - kurar.

Yukarıdaki metinde numaralı yerlere sırasıyla yazılması gerekenler seçeneklerin hangisinde doğru olarak verilmiştir?

	I	II
A)	Tünel	Baraj
B)	Köprü	Viyadük
C)	Baraj	Köprü
D)	Tünel	Köprü



Serinhisar Kocapınar Ortaokulu /Denizli-5. Sınıf
(İOKBS Soruları)



SOSYAL BİLGİLER

3. Ünite: İnsan ve Çevre

Test 4-Afetler ve Çevre Sorunları-Afetlerin İnsan Üzerinde Etkileri

24 ve 25. Sorular (2018 İOKBS)

24. ve 25. Soruları aşağıdaki metne göre cevaplayınız.

Aşırı yağışlar ve eriyen karların neden olduğu afetler yurdumuzun hemen her bölgesinde görülmektedir. Ayrıca dere yataklarına moloz dökülmesi ve dere yataklarının yerleşime açılması bu afetlerin artmasına neden olmaktadır.

24. Yukarıdaki metinde hangi doğal afetten bahsedilmektedir?

- A) Çığ B) Sel
C) Heyelan D) Erozyon

25. Metinde bahsedilen doğal afetin zararlarını azaltmak için dere yataklarında aşağıdakilerden hangisi yapılmalıdır?

- A) Fabrikalar kurulmalıdır.
B) Atıklardan temizlenerek açılmalıdır.
C) Çevresindeki ağaçlar kesilmelidir.
D) Doldurularak yol yapılmalıdır.

26. (2018 İOKBS)

Aşağıdakilerden hangisi doğal etkenlerin nüfus dağılışı üzerindeki etkisine örnektir?

- A) Dağlık alanlarda nüfusun seyrek olması
B) Sanayi bölgelerinde nüfusun kalabalık olması
C) Ulaşımın gelişmediği yerlerde nüfusun seyrek olması
D) Turizmin geliştiği bölgelerde nüfusun kalabalık olması

27. (2019 İOKBS)

Eren ve ailesi Rize’de yaşamaktadır. Yaşadığı köy dik yamaçlı bir arazide yer almaktadır. Yağışın fazla olduğu ve karların erimeye başladığı dönemde ailesi doğal afet tehlikesinden dolayı tedirgin olmaktadır.

Buna göre Eren ve ailesinin aşağıdaki doğal afetlerden hangisinin gerçekleşme olasılığından dolayı tedirgin oldukları söylenebilir?

- A) Heyelan B) Deprem
C) Erozyon D) Orman yangını

28. (2020 İOKBS)

Küresel ısınmanın etkisiyle Dünya’nın ortalama sıcaklığındaki artış aşağıdakilerden hangisine sebep olmaktadır?

- A) Nüfusun artmasına
B) Toprak kirliliğine
C) Buzulların erimesine
D) Su ihtiyacının azalmasına

29. (2020 İOKBS)

- Boş arazilerin ağaçlandırılması
- Besi hayvancılığına önem verilmesi
- Tarım arazilerinin eğime dik sürülmesi

Bu tedbirler aşağıdakilerden hangisini önlemeye yöneliktir?

- A) Hava kirliliğini B) Erozyonu
C) Orman yangınlarını D) Sel baskınlarını



SOSYAL BİLGİLER

3. Ünite: İnsan ve Çevre

Test 4-Afetler ve Çevre Sorunları-Afetlerin İnsan Üzerinde Etkileri

30. (2020 İOKBS)

Karların erimesi ve yağmurun fazla yağması sonucunda su kaynaklarının seviyesi yükselir. Bu suların geçtiği yerlere zarar vermesiyle - - - meydana gelir. Bu afet sonucunda akarsular ve barajlar taşabilir.

Bu metinde boş bırakılan yere aşağıdakilerden hangisi getirilmelidir?

- A) sel
C) heyelan
B) erozyon
D) çığ

31. (2021 İOKBS)

Aşağıdakilerden hangisi insanların doğayı şekillendirerek yaptığı değişikliklerden biri değildir?

- A) Köprü
C) Tünel
B) Baraj
D) Ova

32. (2022 İOKBS)

Ulaşım araçları, sanayi kuruluşları ve inşaat çalışmalarından kaynaklanan sesler aşağıdaki çevre kirliliklerinden hangisine neden olmaktadır?

- A) Hava
C) Toprak
B) Su
D) Gürültü

33. (2023 İOKBS)

Doğal kaynakların aşırı ölçüde ve bilinçsizce kullanılması sonucu doğal dengenin bozulmasıyla çevre sorunları ortaya çıkar.

Bu açıklamaya göre, aşağıdakilerden hangisi insan kaynaklı bir çevre sorunudur?

- A) Heyelan
C) Su kirliliği
B) Volkanik patlama
D) Çığ

34. (2023 İOKBS)

Heyelan, yamaç eğiminin fazla olduğu yerlerde aşırı yağışlara bağlı olarak toprak tabakasının aşağıya doğru kaymasıdır. Örneğin Karadeniz kıyılarında sıkça heyelan meydana gelmektedir. Bunun nedeni burada eğimin ve yağışın fazla olmasının yanında toprağın killi olmasıdır.

Bu bilgiye göre, aşağıdaki illerin hangisinde heyelan görülmesi beklenmez?

- A) Konya
C) Rize
B) Trabzon
D) Artvin

35. (2023 İOKBS)



Bu görseller aşağıdakilerden hangisine örnek olarak gösterilebilir?

- A) Tarımsal sulamaya
B) Çevre kirliliğine
C) Geri dönüşüm uygulamalarına
D) Doğal afetlere

Test 4-Afetler ve Çevre Sorunları-Afetlerin İnsan Üzerinde Etkileri Cevap Anahtarı (5. Sınıf)
(İOKBS Soruları)

1.A 2.B 3.A 4.D 5.C 6.D 7.B 8.D 9.C 10.B 11.D 12.A 13.A 14.B 15.D 16.D 17.A 18.A 19.B 20.C 21.D 22.A 23.A 24.B 25.B 26.A 27.A
28.C 29.B 30.A 31.D 32.D 33.C 34.A 35.B