

|                           |  |             |
|---------------------------|--|-------------|
| Öğrencinin Adı ve Soyadı: | 2024-2025 EĞİTİM ÖĞRETİM YILI<br>..... 5. SINIF SOSYAL BİLGİLER<br>1. DÖNEM 1. ORTAK YAZILI SINAVI | ALDIĞI NOT: |
| Sınıfı ve Numarası:       |  |             |

### SORULAR

**SB.5.1.1. Dâhil olduğu gruplar ve bu gruplardaki rolleri arasındaki ilişkileri çözümleyebilme**

**SORU-1-** Leyla Hanım okuldayken öğretmen, evde anne, hastanede hasta rolünde bulunur.



**Bu cümlede grup ve rollerle ilgili hangi özellik üzerinde durulmuştur? Yazınız.**

CEVAP:

**SB.5.1.2. Kültürel özelliklere saygı duymanın birlikte yaşamaya etkisini yorumlayabilme**

**SORU-2-** Kültür ile ilgili bazı kavramlarla ilgili aşağıdaki resfelerleri çözünüz.

CEVAP:

|  |  |
|--|--|
| <b>G</b>  <b>ENEK</b> | <b>SAN</b>  |
| .....  | .....  |

**SB.5.1.2. Kültürel özelliklere saygı duymanın birlikte yaşamaya etkisini yorumlayabilme**

**SORU-3-**

**Kuzey Kıbrıs Türk Cumhuriyeti Geleneksel Kıyafetler:** Gömlek üstüne giyilen işlemeli cepken (yelek) geleneksel kıyafetlerindendir.

**Türkiye Cumhuriyeti Geleneksel Kıyafetler:** Cepken ve gömlek ile beraber giyilen işlemeli kıyafetler.

**Verilen bilgilere göre Türkiye ve Kuzey Kıbrıs Türk Cumhuriyeti kültürünün hangi yönü karşılaştırılmıştır? Yazınız.**

CEVAP:

**SB.5.1.3. Toplumsal birliği sürdürmeye yönelik yardımlaşma ve dayanışma faaliyetlerine katkı sağlayabilme**

**SORU-4-** Kırsal kesimlerde ortak ya da kişisel işlerin el birliğiyle ve sırayla yapılmasına dayanan geleneksel yardımlaşmaya ne denir? Yazınız.

**SB.5.1.3. Toplumsal birliği sürdürmeye yönelik yardımlaşma ve dayanışma faaliyetlerine katkı sağlayabilme**

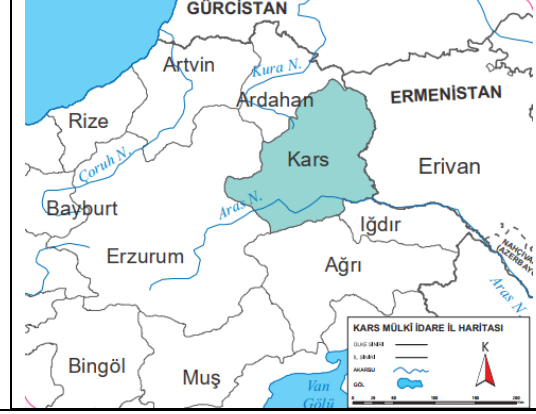
**SORU-5-**



**Milli Mücadele yıllarında Türk milletinin orduya desteğini ortaya koyduğu ve görselde belirtilen Tekalif-i Milliye Emirleri hangi kavramla ifade edilir? Yazınız.**

CEVAP:



**SB.5.2.1. Yaşadığı ilin göreceli konum özelliklerini belirleyebilme****SORU-6-**

Haritaya göre Kars ilinin göreceli konumu ile ilgili hangi bilgilere ulaşılabilir?

CEVAP:

**SB.5.1.1. Dâhil olduğu gruplar ve bu gruplardaki rolleri arasındaki ilişkileri çözümleyebilme****Soru-7--**

- Ayşe'nin sınıfta düşüncelerini ifade etmesi
- Faruk'un elindeki kâğıtları geri dönüşüm kutusuna atması
- Bayram'ın teneffüslerde bahçede oyun oynaması
- Otomobil sürücüsü Müge hanımın yaya geçidinde yayalara yol vermesi

Yukarıda verilen örnekleri hak ve özgürlük olma durumlarına göre cevaptaki kutuya numaralarını yazınız.

CEVAP:

| Hak | Sorumluluk |
|-----|------------|
|     |            |

**SB.5.2.1. Yaşadığı ilin göreceli konum özelliklerini belirleyebilme****SORU-8-**

Adana'nın batısında, Antalya'nın doğusunda'yım.  
Sertavul Geçidi ile Orta Anadolu'ya bağlanırım.  
Akdenizliyim, severim güneşi.  
Kış gelip kapıyı çalsa da aralar, lakin açmam kapıyı.  
Uzun sahil şeridimde kurulu seralarım.  
Limanım ile dünya ticaretine açılırım.

Verilen bilgiler hangi ilin göreceli konumunu ifade etmektedir? Yazınız.

CEVAP:

**SORU-9-**

Okul futbol takımının lideri olan Ali, takım arkadaşlarıyla birlikte futbol sahasında antrenmanlara sürekli katılır. İlçede düzenlenen futbol turnuvasında takımın kalesini koruyan Ali başarılı kurtarımlarıyla okul takımını birinciliğe taşımıştır.

Verilen metinde Ali'nin sahip olduğu rolleri yazınız.

CEVAP:

**SB.5.1.3. Toplumsal birliği sürdürmeye yönelik yardımlaşma ve dayanışma faaliyetlerine katkı sağlayabilme****SORU-10- Osmanlı dönemine ait yardımlaşma ve dayanışmayla ilgili iki örnek yazınız.**

CEVAP:

NOT: Her soru 10'ar puandan toplam 100 puandır.

Sosyal Bilgiler Öğretmeni

Sosyal Bilgiler Öğretmeni

Sosyal Bilgiler Öğretmeni

Sosyal Bilgiler Öğretmeni



taktiksosyal