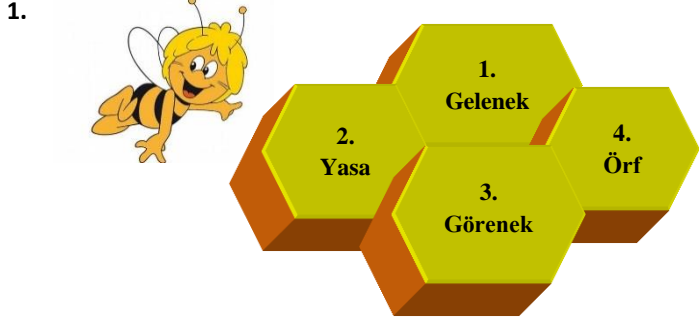
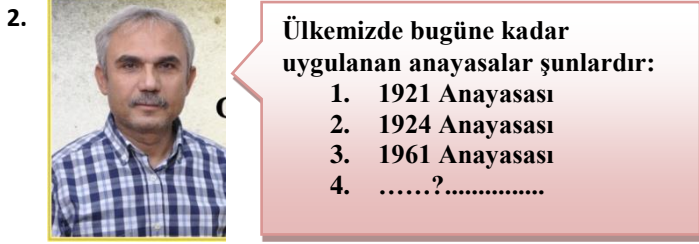


Adı:	2015-2016EĞİTİM ÖĞRETİM YILI	5.SINIF
Soyadı:	İZMİR BAYRAKLI KAYMAKAM ÖZGÜR AZER KURAK OO	12MAYIS 2016
Sınıf:5/ No:	SOSYAL BİLGİLER 5 II. DÖNEM II. ORTAK SINAVI	



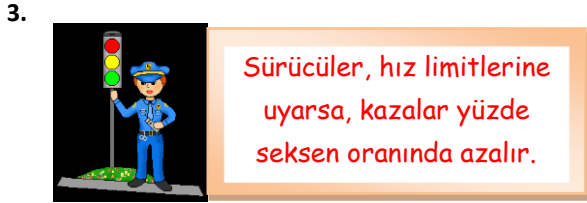
Buna göre, Arı, hangi peteğe konarsa toplum hayatını düzenleyen yazılı kuralları bulunduğu peteğe konmuş olabilir?

- A) 1 B) 2 C) 3 D) 4



Yukarıda Mehmet Emin Öğretmenin verdiği bilgiye göre boş bırakılan yere aşağıdakilerden hangisi yazılmalıdır?

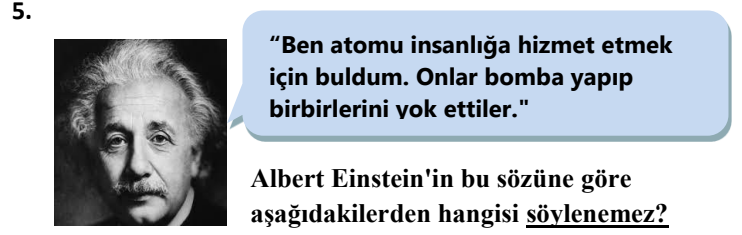
- A) 1982 Anayasası B) 1998 Anayasası
C) 2000 Anayasası D) 2003 Anayasası



Bu öngörü ile aşağıdakilerden hangisine dikkat çekilmek istenmektedir?

- A) Saygılı davranmaya
B) Kurallara uymaya
C) Dikkatli olmaya
D) Eğitimli olmaya

4. Kan merkezleri kurmak, doğal afetlerde insanlara yardım etmek için kurulmuş olan kurum aşağıdakilerden hangisidir?



- A) Bilim insanlık yararına kullanılmalıdır.
B) Bazı buluşlar kötü niyetli kullanılırsa felaketlere neden olur.
C) Buluşlar kullanım şekline göre insanlığa faydalı ya da zararlı hale dönüşür.
D) Buluşlar tek bir kullanım amacına yönelik oluşturulur.



Ayşe Teyze bu sorununu çözmek için ilk önce aşağıdakilerden hangisine başvurmalıdır?

- A) Karakola B) Okula
C) Belediyeye D) Hastaneye



Verilen diyagramda “?” ile gösterilen yere aşağıdakilerden hangisi getirilebilir?

- A) Vali B) Muhtar
C) Büyükşehir Belediye Başkanı D) Kaymakam



Boş bırakılan yere aşağıdakilerden hangisinin yazılması daha uygundur?

- A) Eğitim B) Zenginlik
C) Gönüllülük D) Çevre

9. 1.üyeyi olarak doğal afetlerin yaşandığı ilk anlarda arama kurtarma çalışmaları yaparız.
2. insanların sigarayı bırakmalarını istiyorum. Bu nedenleüyeyim
3. Erozyonla elimizden kayıp giden ülke topraklarına dikkat çekmek içinüyeyi oldum.

Verilen cümlelerdeki boşluklara yazılması gereken sivil toplum kuruluşları hangi seçenekte doğru olarak verilmiştir?

	1	2	3
A)	AKUT	Yeşilay	TEMA
B)	Kızılay	TEGEV	ÇEVKO
C)	AKUT	Yeşilay	LÖSEV
D)	AKUT	Kızılay	TEMA

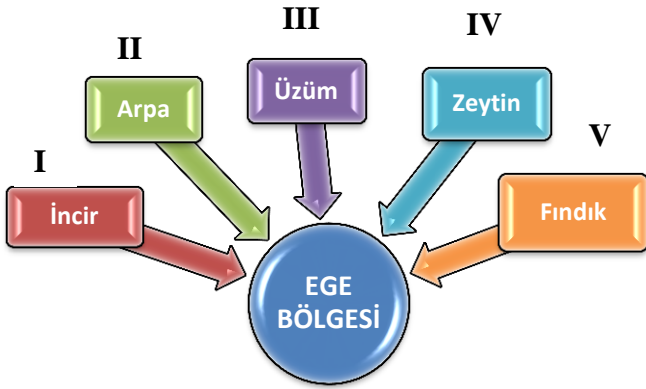
10.



Bir bilim insanı çalışmalarında aşağıdakilerden hangisini kullanmaz?

- A) Gözlem B) Rüya
C) Deney D) Laboratuvar

11.



Yukarıdaki şemada verilen ürünlerden hangileri Ege Bölgesi'nde daha çok yetiştirilen ürünlerden değildir?

- A) I ve III B) III ve IV
C) II ve V D) I ve IV

12.



Ben Mert. Biz sanayinin en çok geliştiği, ayçiçeğinin en çok üretildiği ve İpekböcekçiliğinin yapıldığı bölgede yaşıyoruz.

Buna göre Mert hangi bölgede yaşamaktadır?

- A) Marmara Bölgesi B) Ege Bölgesi
C) Akdeniz Bölgesi D) Karadeniz Bölgesi

13. Aşağıda verilen ürünlerden hangisi İç Anadolu Bölgesi'nde yetistirilmez?

A)



BUĞDAY

B)



ŞEKER PANCARI

C)



ARPA

D)



ÇAY

14.



Akdeniz bölgesinde yazlar sıcak ve uzun geçer. Bu yüzden özellikle Antalya çevresinde yaygınlaşmıştır. Kış ayları ise bölgede ılık geçtiği içinyapılmaktadır.

Ebru Öğretmenin vermiş olduğu bilgilerdeki boşluklara aşağıda verilen cevapların hangileri gelmelidir?

- A) Tarım Sanayi
B) Turizm Seracılık
C) Ticaret Madencilik
D) Seracılık Ormancılık

15.



Yukarıdaki tabloya verilebilecek en güzel başlık hangisidir?

- A) Atatürk'ün Bilime Verdiği Önem
B) Bilim Teknik Kitaplarının Özellikleri
C) Bilim Adamlarının Ortak Özellikleri
D) Hayatımızı Kolaylaştıran İcatlar

16.

	BULUŞ	BİLİM ADAMI
1	Telefon	SamuelMorse
2	Ampul	Thomas Edison
3	Radyo	Marconi
4	Telgraf	GrahamBell

Yukarıdaki tabloda bazı bilim adamları ve buluşlar eşleştirilmiştir.

Buna göre tablonun doğru olabilmesi için hangi iki rakamın yer değiştirmesi gerekmektedir?

- A) 1 ve 4 B) 2 ve 3
C) 1 ve 2 D) 3 ve 4

17.



**Yeşilli yok
etmeyelim.**



**Erozyonla
toprağı yok
etmeyelim.**

Bir sivil toplum kuruluşu yukarıda verilen pankartları düzenlemiştir.

Buna göre, pankartlar halkın hangi konuda duyarlı olması için yapılmıştır?

- A) Eğitime destek olmak
B) Tabiatı korumak
C) İnsan haklarını korumak
D) Dünya barışına katkı sağlamak

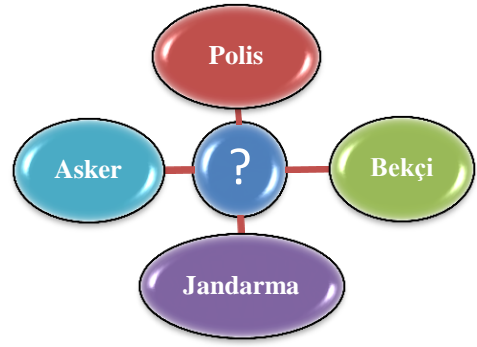
18.



Yukarıda belirtilen resmi kurum çalışanların özelliklerine “?” yerine aşağıdakilerden hangisi gelmelidir?

- A) Çalışma saatleri önceden belirlenmiştir.
B) Roller gönüllülük esasına göre belirlenmiştir.
C) Çalışma saatleri belli değildir.
D) Görevlerini yapmadıklarında haklarında yasal işlem yapılamaz.

19.



Yukarıdaki tabloda “?” ile gösterilen yere hangi toplumsal ihtiyacın adı yazılmalıdır?

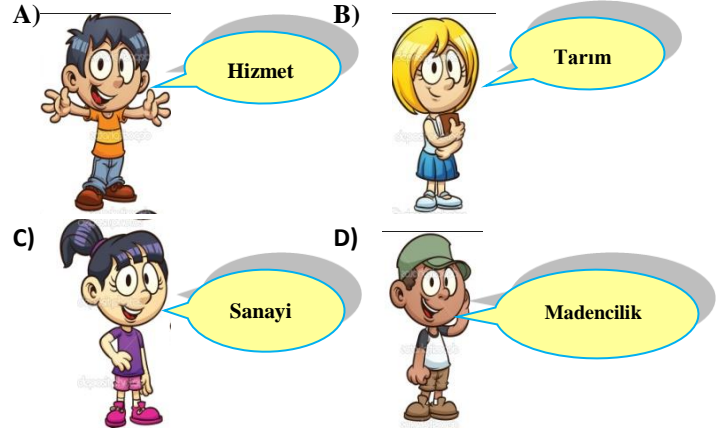
- A) Ulaşım B) Eğitim
C) Barınma D) Güvenlik

20.



Nüfusun önemli bir kısmı ticaret, turizm ve eğitim kuruluşlarında çalışan bir ilde hangi sektörün daha çok geliştiği söylenebilir?

Aşağıdakilerden hangisi Kenan Öğretmen'in sorusuna doğru yanıt vermiştir?



21.



MEHMET

Atatürk'ün askerî hayatı ile ilgili bir araştırma ödevi hazırladım. Ödevimde, hangi bilgiyi hangi kaynaktan aldığımı özellikle belirttim.

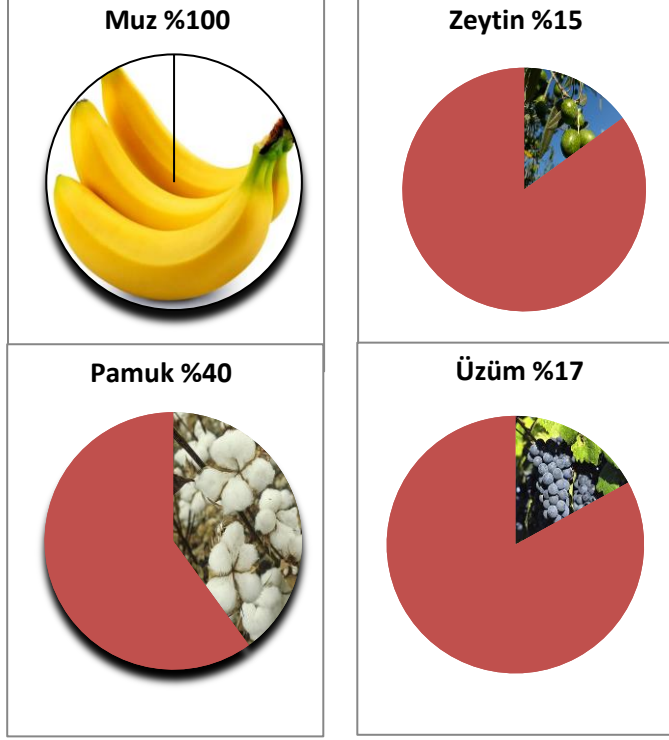
Mehmet'in, araştırma ödevini hazırlarken kaynak belirtmede öncelikle gösterdiği bu hassas davranışını, aşağıdaki yargılardan hangisiyle açıklayabiliriz?

- A) Bandrollü eserlerden yararlanmıştır.
B) Çalışmasını planlı bir şekilde yürütmüştür.
C) Kütüphanedeki çalışma kurallarına uymuştur.
D) Eser sahiplerinin emeğine saygı göstermiştir.

22. Aşağıdakilerden hangisi yazılı olmayan kurallardan biridir?

A)	Taşıt kullanırken kurallara uygun davranmalıyız
B)	Okul kurallarına uymalıyız
C)	Büyüklerimize karşı saygılı olmalıyız
D)	Hırsızlık yapmamalıyız

23. Aşağıda Akdeniz Bölgesi'nde yetişen bazı ürünlerin Türkiye üretimindeki payı grafiklerle gösterilmiştir.



Grafikler incelendiğinde aşağıdakilerden hangisi söylenebilir?

- A) Bölgede pamuk ipliği ihracatı fazladır.
- B) Akdeniz'de yeşil zeytin üretimi fazladır.
- C) Üretilen üzümün hepsi bölge içinde tüketilir.
- D) Muzun tamamı Akdeniz Bölgesi'nde yetiştirilir.

24.



“Hayatta en hakiki mürşit ilimdir, fendir”

Atatürk'ün yukarıdaki sözü aşağıdakilerden hangisini gösterir?

- A) Atatürk'ün bilime önem verdiğini
- B) Atatürk'ün bilim insanı olduğunu
- C) Atatürk'ün yeniliklerini bilim sayesinde yaptığını
- D) Okullarda fen ve bilim derslerinin okutulması gerektiğini

25.

Eski Mısır'da tarım faaliyetleri Nil Nehri'nin su düzeyine bağlıydı. Sular yılın belirli dönemlerinde artmakta, belirli dönemlerinde ise azalmaktaydı. Çiftçiler hasat ve ekimi ne zaman yapacaklarını iyi bilmeliydiler. Bunun için sel, tarım ve kuraklık zamanlarını gösteren bir takvim geliştirdiler.



Verilen bilgiye göre, aşağıdakilerden hangisi söylenebilir?

- A) Bölge halkı ticarete ileri gitmiştir.
- B) Buluşlar ihtiyaçlardan doğmuştur.
- C) Bütün buluşların çıkış yeri Mısır'dır.
- D) Ay takvimi Mısır'da geliştirilmiştir.

Başarılar!

Burçin KUDİLLİ
Sos. Bil. Öğrt.

Kenan AYDIN
Sos. Bil. Öğrt.

M.Emin GAYRETLİ
Sos. Bil. Öğrt.

Ayşen COŞKUN
Sos. Bil. Öğrt.

Ebru METİN
Sos. Bil. Öğrt.