

Adı:	KAYMAKAM ÖZGÜR AZER KURAK OO	5.SINIF 31 ARALIK 2015
Soyadı:	2015-2016 EĞİTİM ÖĞRETİM YILI	
Sınıf: No:	SOSYAL BİLGİLER DERSİ 5 1. DÖNEM 2. ORTAK SINAV	

1.

**Türkiye fiziki haritasına bakarak aşağıdaki bilgilerden hangisi edinilemez?**



- A) İllerin nüfus özellikleri
- B) Dağların yerleri
- C) Göl ve akarsular
- D) Tarıma uygun ovalar

2. Mustafa Kemal, 1928'de Harf İnkılabının yapılmasını sağlamıştır.



**Yalnızca verilen fotoğraf ve bilgilere bakılarak Atatürk'ün aşağıdaki alanların hangisi ile ilgili bir inkılap yaptığı söylenebilir?**

- A) Siyasi
- B) Hukuk
- C) Ekonomi
- D) Eğitim ve kültür

3.



**Şemada verilenler aşağıdaki hangi bölgemizde bulunmaktadır?**

- A) Akdeniz
- B) Karadeniz
- C) Ege
- D) Güneydoğu Anadolu

4.

Kadınlara da boşanma hakkı verildi.

Miras hakları düzenlendi.

?

Resmi nikâh ve tek eşle evlilik zorunlu hale geldi.

Kadınlara istediği mesleği seçebilme hakkı verildi.

**Şemaya verilebilecek en uygun başlık aşağıdakilerden hangisidir?**

- A) Teşkilat-ı Esasiye Kanunu'nun Kabulü
- B) Türk Medeni Kanunu'nun Kabulü
- C) Kabotaj Kanunu'nun Kabulü
- D) Tevhid-i Tedrisat Kanunu'nun Kabulü

5. Aşağıdakilerden hangisi Atatürk ilkelerinin özellikleri arasında gösterilemez?



- A) İnsan sevgisi
- B) Evrenselcilik
- C) Akılcılık
- D) Grup üstünlüğü

6.

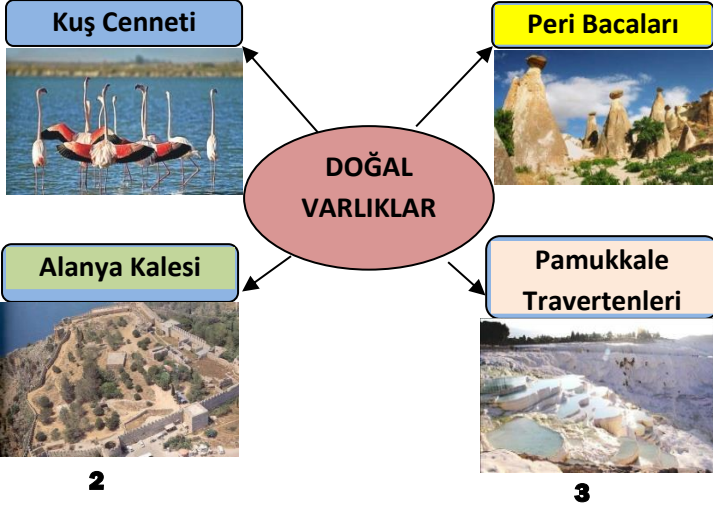


Sosyal Bilgiler dersinde, İzmirli olan Deniz, Ege Bölgesi'nin yüzeysel özellikleri hakkında bilgiler vermiştir.

**Buna göre aşağıdakilerden hangisi Deniz'in verdiği bilgilerden biri olamaz?**

- A) Dağları denize dik uzanmaktadır.
- B) Akarsuların denize döküldüğü yerde delta ovaları vardır.
- C) Ülkemizin en yüksek dağı bu bölgededir.
- D) Kıyı boyunca çok fazla koy ve körfez vardır.

7. 1



Şemada verilen bilgilerden hangisi yanlıştır?

- A) 1 B) 2 C) 3 D) 4

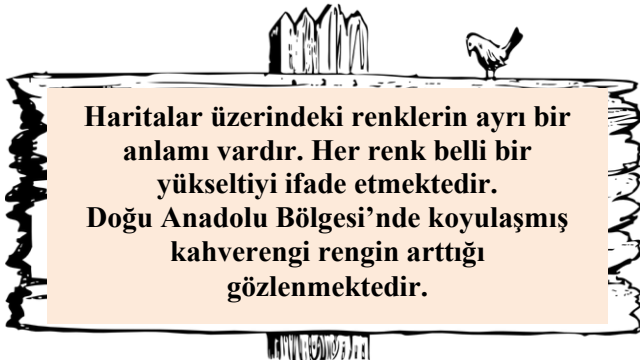
8.



Yukarıdaki İnkıplar, Atatürk'ün hangi ilkesi doğrultusunda yapılmıştır?

- A) Laiklik B) Milliyetçilik  
C) Halkçılık D) Devletçilik

9.



Buna göre, kahverengi rengin koyulaşması aşağıdakilerden hangisini ifade etmektedir?

- A) Yükseltinin daha az olduğunu  
B) Yükseltinin arttığını  
C) Tarıma uygun alanların arttığını  
D) Deniz ve göllerin bulunduğunu

10.

1	Efes Harabeleri İzmir'de bulunmaktadır.	
2	Horozlarıyla tanınmış ilimiz Denizli'dir.	
3	Çinileriyle ünlü ilimiz Kütahya'dır.	

Yukarıda verilen bilgilerden hangileri doğrudur?

- A) Yalnız 1 B) 1 ve 2  
C) 2 ve 3 D) 1, 2 ve 3

11.

1	Laiklik; din ve devlet işlerinin birbirinden ayrılmasıdır.
2	Türk Tarih Kurumu, milliyetçilik ilkesi doğrultusunda açılmıştır.
3	Türk Medeni Kanunu, kadınlara toplumsal alanda tanıdığı haklarla devletçilik ilkesini destekler.

Yukarıda verilen bilgilerden hangisi ya da hangileri yanlıştır?

- A) Yalnız 1 B) 2 ve 3  
C) Yalnız 3 D) 1 ve 2

12. Aşağıdaki resimleri verilen dağlardan hangisi ülkemize ait değildir?

A)	B)
C)	D)

13. Karadeniz evleri ağaçtan yapılırken, İç Anadolu evleri topraktan ve kerpiçten yapılır. Doğu Anadolu'da et yemekleri öne çıkarken, Ege'de zeytinyağlılar meşhurdur.

Parçada verilen bilgilerle ilgili olarak aşağıdaki yargılardan hangisine ulaşılabilir?

- A) İklim farklılıkları ev mimarisini etkilemiştir.
- B) İklim yemek kültüründe de etkili olmuştur.
- C) Kültürel farklılıklar coğrafi farklılıkları doğurmuştur.
- D) Beslenme ve barınma şekillerinde coğrafi şartların etkisi vardır.

14. Sosyal Bilgiler öğretmeni "Adım Adım Türkiye" ünitesini anlatırken öğrencilere;



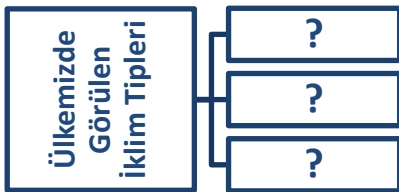
Her şehri hatırlatan kendine ait bazı özellikleri vardır.

demiş ve öğrencilerden bunlara örnek vermelerini istemiştir.

Aşağıdaki öğrencilerden hangisi yanlış bir örnek vermiştir?

- A)  Erzurum'un zeytinyağlı yemekleri
- B)  Trabzon'un hamsisi
- C)  Antep'in baklavası
- D)  Kayseri'nin mantısı

15. Ülkemiz iklim çeşitliliği bakımından zengin bir ülkedir.



Yukarıdaki şemaya aşağıdaki iklim tiplerinden hangisi yazılamaz?

- A) Karadeniz İklimi
- B) Akdeniz İklimi
- C) Karasal İklim
- D) Ekvatorial İklim

16. Ülkemizde evlerin şekilleri ve kullanılan malzemeler bölgelere göre farklılıklar göstermektedir.



Bu durumun nedeni aşağıdakilerden hangisidir?

- A) Yer altı kaynaklarının zengin olması
- B) İklimin çeşitlilik göstermesi
- C) Köyden kente göçlerin fazlalığı
- D) Ulaşım faaliyetlerinin gelişmiş olması

17. 24 Kasım 1928 günü Millet Mekteplerinin açılması ile ilgili talimat yayınlanmıştır. Bu talimatla 14-45 yaş arasındaki her Türk vatandaşının Millet Mekteplerine devam etmesi zorunlu hale getirilmiştir.

Aşağıdakilerden hangisi Millet Mekteplerinin açılmasının sonuçlarından biri değildir?

- A) Okuma-yazma oranı artmıştır.
- B) Toplumun eğitim seviyesi yükselmiştir.
- C) Batı dünyası ile aramızdaki dil sorunu ortadan kalkmıştır.
- D) Eğitimde kadınlar ve erkekler arasında fırsat eşitliği sağlanmıştır.

18. Aşağıda verilenlerden hangisi kabartma haritaları üzerinde gösterilemez?



Gediz Nehri



Malatya Ovası



Ağrı Dağı



Düden Şelalesi





Aşağıdakilerden hangisi haritadaki boyalı bölgenin özelliklerinden biri değildir?

- A) Ülkemizin en geniş ovaları bulunur.
- B) Her mevsim yağış görülür
- C) Evleri genellikle ahşaptır.
- D) Karadeniz'e kıyısı vardır.

20.

	Grubun Adı	Rol	Beklenen Davranış
1	Sınıf	Efe	Ekip ile uyum içinde oynama
2	Futbol Kulübü	Kaleci	Gol yememe
3	Folklor Ekibi	Öğrenci	Okul kurallarına uyma
4	Aile	Çocuk	Büyüklerine saygılı olmak

Yukarıdaki tabloda yanlışlığı düzeltmek için hangi numaralardaki grup adları yer değişmesi gerekmektedir?

- A) 1-3
- B) 2-4
- C) 3-4
- D) 1-4

21.



Öyle bir yere gitmek istiyoruz ki her mevsim yağış görülsün.

Öğrenciler, aşağıdaki bölgelerden hangisine giderse söylediği özellikleri görebilir?

- A) Güneydoğu Anadolu Bölgesi
- B) Akdeniz Bölgesi
- C) Doğu Anadolu Bölgesi
- D) Karadeniz Bölgesi

22.



Şemada, numaralandırılmış ifadelerden hangisi kullanılamaz?

- A) I
- B) II
- C) III
- D) IV

23. Aşağıdakilerden hangisi milliyetçilik ilkesi doğrultusunda yapılan inkılaplardan biri değildir?

- A) Türk Tarih Kurumunun kurulması
- B) Türk Dil Kurumu'nun kurulması
- C) Medeni Kanunu'nun kabulü
- D) Kabotaj Kanunu'nun çıkarılması

24. Ülkemizde ortalama yükseltinin en az olduğu bölge Marmara Bölgesi'dir.



Buna göre Marmara Bölgesi'ni gösteren fiziki haritada aşağıdaki renklerden hangisi daha çok kullanılır?

- A) Kahverengi
- B) Sarı
- C) Turuncu
- D) Yeşil

25.

**CUMHURİYET**

Verilen kavram ile aşağıdakilerden hangisi aynı doğrultuda değildir?

- A) TBMM
- B) Padişah
- C) Oy
- D) Seçim

**SOSYAL BİLGİLER 5**  
**(31 ARALIK 2015)**

**BU DOSYADAKİ SORULARIN DOĞRU YANITLARI AŞAĞIDADIR.SORU SAYISI: 25**

<b>Doğru Yanıtlar Tablosu</b>		<b>Sorunun İçeriği ve Özü</b>
<b>1-</b>	<b>A</b>	<b>Haritaların Dili</b>
<b>2-</b>	<b>D</b>	<b>Atatürk İlkeleri</b>
<b>3-</b>	<b>C</b>	<b>Ege Bölgesi</b>
<b>4-</b>	<b>B</b>	<b>Türk Medeni Kanunu</b>
<b>5-</b>	<b>D</b>	<b>Atatürk İlkelerinin Özellikleri</b>
<b>6-</b>	<b>C</b>	<b>Bölgelerimizin Özellikleri</b>
<b>7-</b>	<b>B</b>	<b>Doğal Varlık-Tarihi Eser</b>
<b>8-</b>	<b>A</b>	<b>Laiklik</b>
<b>9-</b>	<b>B</b>	<b>Doğu Anadolu Bölgesi</b>
<b>10-</b>	<b>D</b>	<b>Bölgelerimiz</b>
<b>11-</b>	<b>C</b>	<b>Atatürk İlkeleri</b>
<b>12-</b>	<b>B</b>	<b>Yeryüzü Şekilleri</b>
<b>13-</b>	<b>C</b>	<b>Kültürümüz</b>
<b>14-</b>	<b>A</b>	<b>Adım adım Türkiye</b>
<b>15-</b>	<b>D</b>	<b>İklimler</b>
<b>16-</b>	<b>B</b>	<b>İklimler</b>
<b>17-</b>	<b>C</b>	<b>Millet Mektepleri</b>
<b>18-</b>	<b>D</b>	<b>Kabartma Haritaları</b>
<b>19-</b>	<b>A</b>	<b>Karadeniz Bölgesi</b>
<b>20-</b>	<b>A</b>	<b>Grup-Rol İlişkisi</b>
<b>21-</b>	<b>D</b>	<b>Karadeniz Bölgesi</b>
<b>22-</b>	<b>A</b>	<b>Tarihi Eserlerimiz</b>
<b>23-</b>	<b>C</b>	<b>Milliyetçilik</b>
<b>24-</b>	<b>D</b>	<b>Marmara Bölgesi</b>
<b>25-</b>	<b>B</b>	<b>Cumhuriyet</b>

**SORULARI HAZIRLAYANLAR.**

<b>SIRA</b>	<b>ADI SOYADI</b>
<b>1</b>	