

Adı:	İZMİR BAYRAKLI KAYMAKAM ÖZGÜR AZER KURAK İÖÖ	5. SINIF 31 ARALIK 2013
Soyadı:	2013-2014 EĞİTİM ÖĞRETİM YILI	
Sınıf:	SOSYAL BİLGİLER 5 I. DÖNEM II. ORTAK SINAV	

1-)

Din, vicdani bir mesele olduğundan, cumhuriyet din fikrini, devlet ve dünya işlerinden ve siyasetten ayrı tutmayı başlıca ilke edinmiştir.



Atatürk'ün yukarıdaki sözleri aşağıdaki ilkelerden hangisini açıklamaktadır?

- A) Halkçılık B) Milliyetçilik
C) Laiklik D) Cumhuriyetçilik

2-)



Şemada kadınlara verilen haklar gösterilmiştir.

Bu hakların aşağıdaki alanların hangisi ile ilgili olduğu söylenebilir?

- A) Sosyal
B) Siyasi
C) Hukuk
D) Eğitim

3-) İnkılap, toplum düzenini ve yapısını daha iyi duruma getirmek için yapılan köklü değişiklik ve iyileştirmelerdir.

Atatürk'ün yapmış olduğu inkılaplarda birçok alanda gelişmeler olmuştur.

Buna göre, aşağıdakilerden hangisi Atatürk'ün yapmış olduğu inkılapların sonucu değildir?

- A) Kadın toplum içinde hak ettiği yere ulaşmaya başlamıştır.
B) Eğitimde ayrıcalık ortaya çıkmıştır.
C) Ülkede okuryazar oranı artmıştır.
D) Diğer ülkelerle ticaret kolaylaşmıştır.

4-)

Maalesef mümkün değil. Soyadı Kanunu ile bu yasaklandı. Sen de herkes gibi sıradan bir soyadı alabilirsin.

Soyadımın Paşa olmasını istiyorum.



Görselde anlatılan durum Atatürk ilkelerinden hangisi ile ilgilidir?

- A) Halkçılık
B) Devletçilik
C) Cumhuriyetçilik
D) Milliyetçilik

5-) * Saltanatın kaldırılması
* TBMM'nin açılması

Yukarıda verilen devrimler Atatürk ilkelerinden hangisiyle doğrudan ilişkilidir?

- A) Cumhuriyetçilik
B) Laiklik
C) Milliyetçilik
D) Halkçılık

6-)

Misak-ı Milli kararlarına göre "Milli sınırlar içinde vatan bir bütündür, bölünemez"

Alınan bu kararlar Türk milleti Kurtuluş Savaşı sırasında vatanın parçalanmasını önlemek için birlik ve beraberlik içinde büyük bir mücadele örneği sergiledi ve zafer kazandı.

Yukarıdaki anlatımda Kurtuluş Savaşı'nın kazanılmasında aşağıdaki ilkelerden hangisinin rolü vurgulanmaktadır?

- A) Devletçilik
B) Halkçılık
C) Cumhuriyetçilik
D) Milliyetçilik

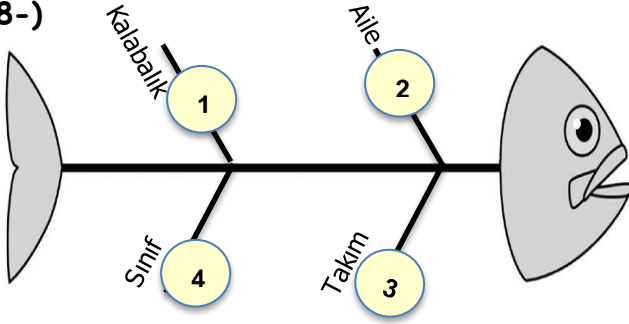
7-)

- Resmî nikah ve tek eşle evlilik esası getirildi.
- Aile hukukunda kadın erkek eşitliği sağlandı.
- Boşanma hakkı kadına da tanındı.

Türk kadını bu haklarını aşağıdaki kanunlardan hangisi ile kazanmıştır?

- A) Medeni Kanun
- B) Kabotaj Kanunu
- C) Harf İnkılabı Kanunu
- D) Tevhid-i Tedrisat Kanunu

8-)



Balık kılçığındaki kaç numaralı ifade grup değildir?

- A) 1
- B) 2
- C) 3
- D) 4

9-)



..... Türk ulusunun verdiği mücadeleleri kanıtlayan, milletçe coşku içinde kutladığımız kültürel özelliklerimizdendir.

Zeynep'in açıklamasındaki noktalı yere hangisi yazılmalıdır?

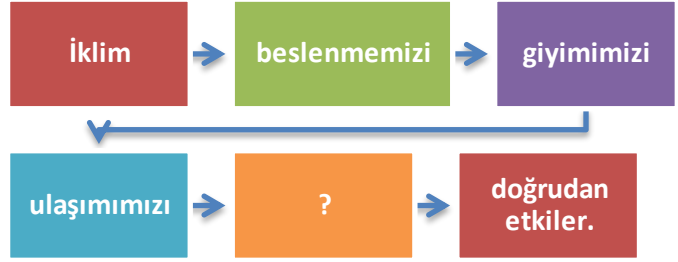
- A) Düğünlerimiz
- B) Mevsimlik bayramlarımız
- C) Milli bayramlarımız
- D) Asker uğurlamalarımız

10-) Yurdumuz yedi coğrafi bölgeye ayrılmıştır.

Hangi bölgemizin başka bir ülkeye kara veya deniz sınırı yoktur?

- A) Doğu Anadolu Bölgesi
- B) Karadeniz Bölgesi
- C) Ege Bölgesi
- D) İç Anadolu Bölgesi

11-)



Şemada "?" ile gösterilen kutucuğa aşağıdakilerden hangisi yazılamaz?

- A) Konut tipimizi
- B) Tarım ürünlerimizi
- C) Bitki örtüsünü
- D) Meslek seçimimizi

12-) Cem ve Ece bu yaz ailesi ile birlikte Selimiye Camisi'ni ve Nemrut Heykelleri'ni gezdi.

Buna göre iki kardeş yaz tatilinde sırasıyla hangi şehre gitmişlerdir?

- A) Edirne - Adıyaman
- B) Antalya - Edirne
- C) İzmir - Trabzon
- D) İstanbul - Van

13-)

- ❖ Ülkemizin en çok yağış alan bölgesidir.
- ❖ Gür ormanlarla kaplıdır.
- ❖ Balıkçılık yaygındır.
- ❖ Dağlar denize paralel uzanır.

Yukarıda özellikleri belirtilen bölgemiz aşağıdakilerden hangisidir?

- A) Karadeniz Bölgesi
- B) Akdeniz Bölgesi
- C) Doğu Anadolu Bölgesi
- D) İç Anadolu Bölgesi

14-) Yurdumuzdaki nüfus yoğunluğuna baktığımızda aşağıdaki yerlerden hangisinde nüfusun az olduğunu görürüz?

- A) Fabrikaların bulunduğu yerler
- B) Yükseltisi fazla olan yerler
- C) Denize kıyısı olan yerler
- D) Sulanabilen ovaların olduğu yerler

15-) Aşağıdakilerden hangisi ülkemize ait halk oyunlarımızdan biri değildir?




- A) Horon B) Misket
C) Atabarı D) Sirtaki

16-) Öğretmen olmak isteyen Ayşe, babası tarafından 4. sınıftan sonra okula gönderilmemiştir. Babası Ayşe'nin bir işte çalışarak para kazanmasını istemektedir.

Bu durum Ayşe'nin aşağıdaki haklarından hangisinin ihlal edildiğini gösterir?

- A) Eğitim görme
B) Düşüncelerini açıklama
C) Yaşama
D) Seyahat etme

17-)

1	Ahşap ev		Karadeniz iklimi
2	Taş ev		Akdeniz iklimi
3	Kerpiç ev		Karasal iklim

Verilen ev tipleri ve yaygın olarak görüldüğü iklimlerden hangileri doğru eşleştirilmiştir?

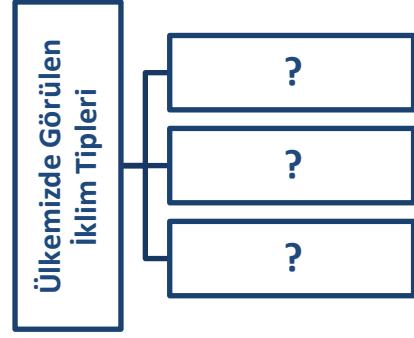
- A) Yalnız 1 B) 1 ve 2
C) 2 ve 3 D) 1, 2 ve 3

18-) Karadeniz Bölgesinde çay, fındık ve mısır yetiştirilirken, Akdeniz ve Ege Bölgesi'nde turuncgiller ve zeytin yetiştirilir. İç bölgelerimizde ise en çok buğday yetiştirilmektedir.

Yetiştirilen ürünlerin bölgelere göre farklılık göstermesinde aşağıdakilerden hangisinin etkisinden daha fazla söz edilebilir?

- A) Pazarlama olanakları
B) Tarımla uğraşan insan sayısı
C) İklimin etkisi
D) İnsanların beslenme ihtiyacı

19-)



Ülkemiz iklim çeşitliliği bakımından zengin bir ülkedir. Buna göre aşağıdakilerden hangisi ülkemizde görülen iklim tipleri arasında gösterilemez?

- A) Karadeniz İklimi B) Akdeniz İklimi
C) Karasal İklim D) Ekvatorial İklim

20-)



I. Efes Antik Kenti



II. Düden Şelalesi



III. Kız Kulesi



IV. Malabadi Köprüsü

Yukarıdakilerden hangileri tarihi varlıklarımız arasında yer alır?

- A) I, II ve III B) I, II ve IV
C) I, III ve IV D) II, III ve IV

21-)

Ülkemizin en fazla nüfus yoğunluğuna sahip bölgesidir. Önemli ticaret yolları bu bölgeden geçer. Ayrıca Asya ve Avrupa'yı birbirine bağlar.

Yukarıda sözü edilen bölgemiz hangisidir?

- A) Karadeniz Bölgesi
B) Güneydoğu Anadolu Bölgesi
C) Marmara Bölgesi
D) Doğu Anadolu Bölgesi

22-) Verilen Türkiye haritalarından hangisinde yer şekilleri hakkında bilgi sahibi olunabilir?

A)

TURİZM HARİTASI



B)

MADENLER HARİTASI



C)

FİZİKİ HARİTA



D)

SİYASİ HARİTA



23-)

Nüfus, ülkemizin her tarafına eşit olarak dağılmamıştır. Nüfus dağılımını doğal ve insan kaynaklı faktörler etkilemektedir.

Buna göre, aşağıdakilerden hangisi doğal kaynaklı faktörlerden biri değildir?

- A) Yüzey şekilleri B) Sanayi
C) İklim D) Bitki Örtüsü

24-)



Akarsular tarafından derin yarılmış yüksek düzlükler haritalarda sarı renk ve tonlarında gösterilir.

Buna göre verilen haritada numaralandırılmış yer şekillerinden hangisinin sarı renkle gösterildiği söylenebilir?

- A) 4 B) 3 C) 2 D) 1

25-)



Yaz kış mevsimleri arasındaki sıcaklık farkının yüksek olması karasal iklimin özelliklerinden biridir.

Buna göre, yukarıdaki haritada gösterilen illerimizden hangisi karasal iklimin etkisi altındadır?

- A) Samsun B) Sivas
C) İzmir D) Antalya

Başarılar...

Ayşen Coşkun

Ebru Metin

Sosyal Bilgiler Öğretmenleri

Mehmet Emin Gayretli

Kenan Aydın

5.SINIF SOSYAL BİLGİLER
(31 ARALIK 2013 SALI)

BU DOSYADAKİ SORULARIN DOĞRU YANITLARI AŞAĞIDADIR. SORU SAYISI: 25

Doğru Yanıtlar Tablosu		Sorunun İçeriği ve Özü
1-	C	LAİKLİK
2-	B	KADINLARIN SİYASİ HAKLARI
3-	B	İNKILAPLARIN SONUÇLARI
4-	A	HALKÇILIK
5-	A	CUMHURİYETÇİLİK
6-	D	MİLLİYETÇİLİK
7-	A	MEDENİ KANUN
8-	A	GRUP
9-	C	MİLLİ BAYRAMLARIMIZ
10-	D	BÖLGELER
11-	D	İKLİMİN ETKİLERİ
12-	A	TARİHİ VARLIKLARIMIZ
13-	A	KARADENİZ BÖLGESİ
14-	B	NÜFUS
15-	D	HALK OYUNLARI
16-	A	TEMEL HAKLAR
17-	D	İKLİM VE EV TİPLERİ
18-	C	İKLİMİN ETKİLERİ
19-	D	TÜRKİYE İKLİMLERİ
20-	C	TARİHİ VARLIKLARIMIZ
21-	C	MARMARA BÖLGESİ
22-	C	FİZİKİ HARİTA
23-	B	BEŞERİ FAKTÖRLER
24-	C	HARİTA VE RENKLER
25-	B	KARASAL İKLİM