

Adı:	KAYMAKAM ÖZGÜR AZER KURAK ORTAOKULU	5.SINIF 17 ARALIK 2012
Soyadı:	2012-2013 EĞİTİM ÖĞRETİM YILI	
Sınıf: No:	SOSYAL BİLGİLER 5 I. DÖNEM II. ORTAK SINAVI	


- 1-) Öğretmenimiz “Kültürel zenginliğimize örnek olarak neler verilebilir?” sorusuna cevap olarak bizden bir liste hazırlamamızı istedi. Öğrencilerin hazırladığı aşağıdaki listelerden hangisi öğretmenin sorusuna cevap olur?

A) * Bilgisayarlarımız
* Arabalarımız
* Evlerimiz
* Marketlerimiz

B) * Kitaplarımız
* Defterlerimiz
* Kalemimiz
* Çantalarımız

C) * Yemeklerimiz
* Türkülerimiz
* Halk Oyunlarımız
* Düşünlerimiz

D) * Oyuncaklarımız
* Komşularımız
* Okulumuz
* Milli Bayramlarımız



Yukarıda verilen tarihi yer – şehir eşleştirmelerinden hangileri doğru eşleştirilmiştir?

- A) Yalnız 1 B) 2, 3 ve 4
C) 1, 2 ve 3 D) 1, 2, 3 ve 4

3-)

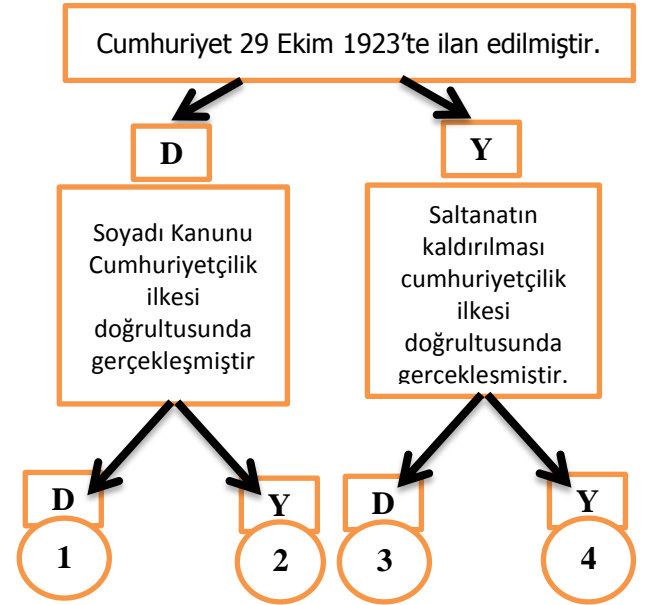
Türk Medeni Kanunu ile ailede kadın erkek eşitliği sağlandı, mahkemede miras ve boşanma gibi konularda kadın-erkek eşit hale getirildi.



Yukarıdaki bilgilere göre, Türk Medeni Kanunu hangi ilkeyle ilişkilidir?

- A) Halkçılık B) Devletçilik
C) Milliyetçilik D) Cumhuriyetçilik

4-)



Yukarıdaki etkinlikte verilen bilgi doğruysa “D” oku, yanlışsa “Y” oku takip edilecektir.

Buna göre yeterli bilgiye sahip bir öğrenci kaç numaralı çıkışa ulaşır?

- A) 1 B) 2 C) 3 D) 4

5-)



İnkılaplardan önceki ölçü birimleriyle ilgili çalışma kartları hazırladım


Ahmet çalışma kartlarına aşağıdakilerden hangisini yazmış olamaz?

- A) Okka B) Endaze
C) Metre D) Arşın

6-) Aşağıdakilerden hangisi Türkiye'nin coğrafi özelliklerini tanıtan doğru bir bilgi değildir?

- A) Üç tarafı denizlerle çevrilidir.
- B) İç ve kıyı bölgeleri çöllerle kaplıdır.
- C) Doğudan batıya doğru gidildikçe yükseltisi azalır.
- D) Doğal göllere ve ırmaklara sahiptir.

7-)



Sevgili çocuklar, bizler sizlerin geleceğinizi düşünerek birçok yenilik yaptık. Bu yeniliklerden biri de Harf Devrimini yapmaktı. Ayrıca Türk Dil Kurumunu da kurduk.

Atatürk'ün konuşmasında sözünü ettiği inkılap hangi ilke ile ilişkilidir?

- A) Milliyetçilik
- B) Halkçılık
- C) Devletçilik
- D) Laiklik

8-)



Verilen ilkenin uygulamaya geçmesiyle;

- I. Din ve devlet işleri birbirinden ayrılmıştır.
 - II. Herkese din ve vicdan özgürlüğü sağlanmıştır.
 - III. Yönetim şekli belirlenmiştir.
- durumlarından hangileri gerçekleştirmiştir?

- A) Yalnız III
- B) I ve II
- C) II ve III
- D) I, II ve III

- 9-) I. Türk Tarih Kurumu'nun açılması
- II. Soyadı Kanunu ile ağa, paşa, bey gibi unvanların yasaklanması
- III. Halifeliğin kaldırılması

Yukarıda verilen inkılapların ilgili oldukları ilkelerle eşleştirilmiş şekli aşağıdakilerden hangisinde doğru olarak verilmiştir?

	Halkçılık	Milliyetçilik	Laiklik
A)	II	III	I
B)	III	I	II
C)	I	II	III
D)	II	I	III


10-) – Yükseltisi en fazla olan bölgedir.

- _ En büyük gölümüz bu bölgededir.
- _ Fiziki haritalarda kahverengi ağırlıklı olarak gösterilir.

Bu özelliklerin hepsini taşıyan coğrafi bölgemiz hangisidir?

- A) Akdeniz Bölgesi
- B) İç Anadolu Bölgesi
- C) Doğu Anadolu Bölgesi
- D) Güneydoğu Anadolu Bölgesi

11-)



Paşa Hamamı



Yeşilirmak



Kız Kulesi



Abant Gölü

Yukarıda verilenlerden hangileri doğal varlıklara örnek gösterilebilir?

- A) 1 ve 2
- B) 2 ve 4
- C) Yalnız 4
- D) 1, 2 ve 3

12-)



Yukarıdaki diyagramda halk oyunlarımız verilmiştir. Hangisi Ege Bölgesi'nde oynanan halk oyunudur?

- A) Zeybek
- B) Horon
- C) Misket
- D) Halay

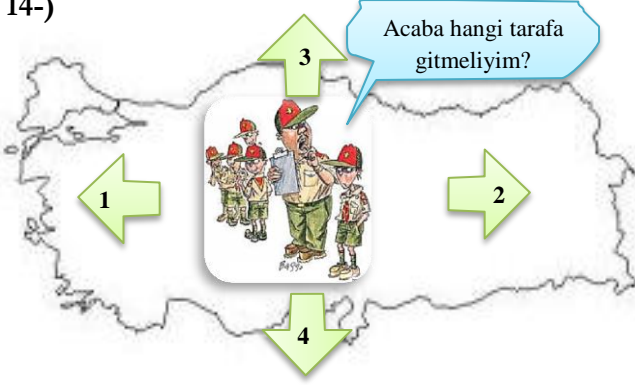
13-)

**Taşeli Platosu
Çukurova
Seyhan ve Ceyhan Nehirleri**

Verilen yer şekilleri aşağıdaki bölgelerin hangisinde yer alır?

- A) Akdeniz B) Ege
C) Karadeniz D) İç Anadolu

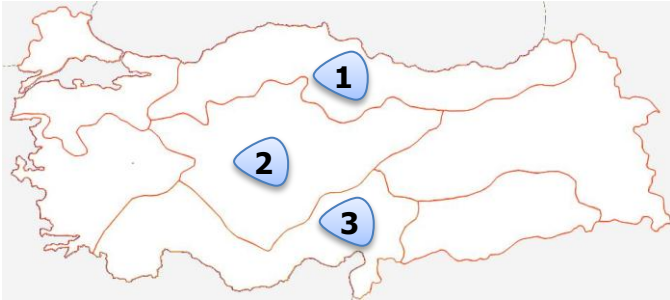
14-)



Yukarıdaki izci gurubu hangi yöne giderse dağların denize dik uzandığını görür?

- A) Kuzeye B) Doğuya
C) Batıya D) Güneye

15-) Türkiye, taşıdığı belirli coğrafi özellikler bakımından birbirinden ayrılan, kendi içinde benzerlikler gösteren 7 coğrafi bölgeye ayrılmıştır.



Buna göre yukarıdaki harita üzerinde numaralandırılmış olarak gösterilen bölgelerimiz sırasıyla aşağıdaki seçeneklerin hangisinde gösterilmiştir?

	1	2	3
A)	Ege Bölgesi	Karadeniz Bölgesi	İç Anadolu Bölgesi
B)	Akdeniz Bölgesi	Marmara Bölgesi	İç Anadolu Bölgesi
C)	Karadeniz Bölgesi	İç Anadolu Bölgesi	Akdeniz Bölgesi
D)	Karadeniz Bölgesi	Ege Bölgesi	Akdeniz Bölgesi

16-) Ülkemizde Atatürk inkılaplarının öncesi ve sonrası günlük yaşamla ilgili aşağıda verilen örneklerden hangisi yanlıştır?

- A) Önceden ülkemizi padişah yönetiyordu sonra cumhuriyet kuruldu.
B) Önceden insanlar babalarının adlarıyla anılıyordu sonra herkese bir soyadı verildi.
C) Önceden hicri takvim kullanılıyordu sonra rumi takvim kullanılmaya başlandı.
D) Önceden çok eşlilik vardı sonra tek eşlilik ve resmi nikah kabul edildi.

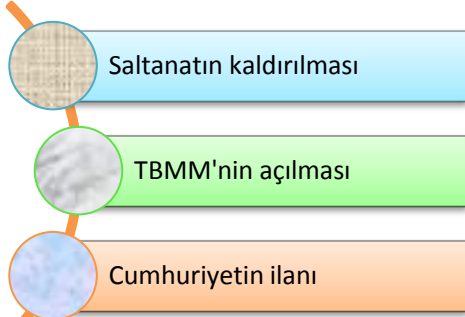
17-) Aşağıda gruplara ait özelliklerle ilgili verilen bilgilerden hangisi yanlıştır?

- A) İçinde bulunduğumuz grup ortak amaçları gerçekleşince dağılır.
B) Grup üyeleri arasında bir ilişki ve dayanışma yoktur.
C) Bir grubun oluşması için en az iki kişi gereklidir.
D) Aynı anda birden fazla grubun üyesi olabiliriz.

18-) Aşağıdaki gelişmelerden hangisi köylünün ekonomik durumunun iyileşmesine katkı sağlamıştır?

- A) Tevhid-i Tedrisat Kanunu'nun çıkarılması
B) Teşvik-i Sanayi Kanunun Çıkarılması
C) Etibank'ın kurulması
D) Tarım ürünlerinden alınan Aşar Vergisinin kaldırılması

19-) Atatürk,



Atatürk'ün bu çalışmaları aşağıdaki ilkelerden daha çok hangisi ile ilgilidir?

- A) Laiklik B) Halkçılık
C) Milliyetçilik D) Cumhuriyetçilik

20-)

Sorular

- ✓ Türkiye'nin en büyük gölü:
- ✓ Türkiye'nin en uzun ırmağı:
- ✓ Türkiye'nin en yüksek dağı:

Bölgemizi tanıyalım ünitesi ile ilgili etkinlik yapan öğrencilerden hangisinin yanıtı doğrudur?

A)
 * Tuz Gölü
 * Yeşilirmak
 * Hasan Dağı

B)
 * Van Gölü
 * Kızılırmak
 * Ağrı Dağı

C)
 * Van Gölü
 * Asi nehri
 * Erciyes Dağı

D)
 * Akşehir Gölü
 * Sakarya nehri
 * Uludağ

21-)



Türkiye fiziki haritasına baktığımızda doğuya doğru gidildikçe dağların renginin koyulaştığı görülür.

Bu durum aşağıdakilerden hangisi ile açıklanabilir?

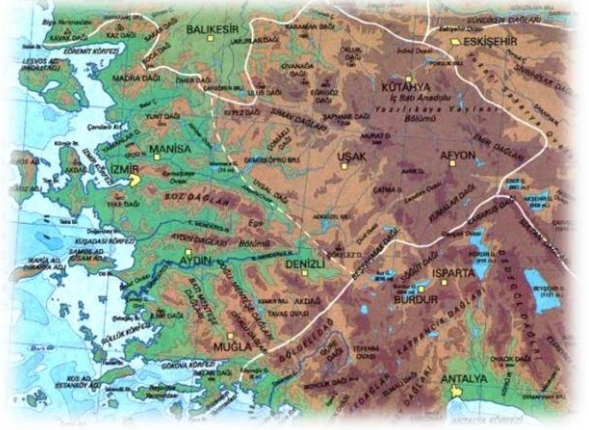
- A) Yüksekliğin artmasıyla
- B) Sıcaklığın azalmasıyla
- C) Ovaların çok olmasıyla
- D) Ormanların fazla olmasıyla

22-) Fiziki haritalarda karalar üzerindeki deniz eviyesinden fazla yüksekte olmayan yerler ... I ... , yüksek yerler ise ... II ... tonlarıyla gösterilir.

Bu cümledeki noktalı yerlere sırasıyla hangi seçenektekiler yazılmalıdır?

	I	II
A)	mavinin	yeşilin
B)	yeşilin	sarının
C)	yeşilin	kahverenginin
D)	kahverenginin	yeşilin

23-)



Yukarıdaki haritada Ege Bölgesi yeryüzü şekilleri gösterilmektedir.

Bu haritaya göre aşağıdakilerden hangisi doğrudur?

- A) Dağlar denize dik uzanır. Aydın Dağları, Bozdağlar önemli yükseltileri, Gediz, Büyük ve Küçük Menderes önemli akarsularıdır.
- B) Türkiye'nin en büyük platolarından Cihanbeyli ve Obruk Platoları bu bölgededir.
- C) Ülkemizin tuz ihtiyacını karşılayan Tuz Gölü bu bölgede yer almaktadır.
- D) Ülkemizde koy ve körfezin bulunmadığı tek bölgedir.

24-) Cumhuriyet döneminde;

- 1 •Etibank ve Sümerbank gibi devlete ait bankalar kurulmuştur.
- 2 •Devlet tarafından çeşitli fabrikalar açılmıştır.
- 3 •Devlet ekonomik faaliyetlerin içinde aktif olarak yer almıştır.

Bu gelişmeler aşağıdaki Atatürk ilkelerinden hangisi ile ilgilidir?

- A) Devletçilik
- B) Cumhuriyetçilik
- C) Milliyetçilik
- D) Halkçılık

25-)



Arkadaşlar! Burası akarsular tarafından derince yarılmış, çevresine göre yüksekte yer alan geniş bir düzlüktür.

Yukarıdaki çocuğun açıklamasında aşağıdakilerden hangisinin tanımı verilmiştir?

- A) Dağın
- B) Gölün
- C) Ovanın
- D) Platonun

5.SINIF SOSYAL BİLGİLER
(17 ARALIK 2012 PAZARTESİ)

BU DOSYADAKİ SORULARIN DOĞRU YANITLARI AŞAĞIDADIR. SORU SAYISI: 25

Doğru Yanıtlar Tablosu		Sorunun İçeriği ve Özü
1-	C	KÜLTÜREL ZENGİNLİĞİMİZ
2-	D	TARİHİ YERLERİMİZ
3-	A	TÜRK MEDENİ KANUNU-HALKÇILIK
4-	B	İLKELER VE İNKILAPLAR
5-	C	ÖLÇÜ BİRİMLERİNDE DEĞİŞİKLİK
6-	B	TÜRKİYE’NİN COĞRAFI ÖZELLİKLERİ
7-	A	TÜRK DİL KURUMU-MİLLİYETÇİLİK
8-	B	LAİKLİK İLKESİ
9-	D	İLKELER VE İNKILAPLAR
10-	C	DOĞU ANADOLU BÖLGESİ YERYÜZÜ ŞEKİLLERİ
11-	B	DOĞAL VARLIKLARIMIZ
12-	A	HALK OYUNLARIMIZ
13-	A	AKDENİZ BÖLGESİ YERYÜZÜ ŞEKİLLERİ
14-	C	TÜRKİYE YERYÜZÜ ŞEKİLLERİ- DAĞLARIN UZANIŞI
15-	C	BÖLGELER
16-	C	İNKILAPLARIN ÖNCESİ VE SONRASI
17-	B	GRUP VE ÖZELLİKLERİ
18-	D	AŞAR VERGİSİ
19-	D	CUMHURİYETÇİLİK
20-	B	DOĞU ANADOLU BÖLGESİ YERYÜZÜ ŞEKİLLERİ
21-	A	TÜRKİYE FİZİKİ HARİTASI
22-	C	FİZİKİ HARİTADA RENKLER
23-	A	EGE BÖLGESİ YÜZEY ŞEKİLLERİ
24-	A	DEVLETÇİLİK
25-	D	PLATO