



Küre Yatılı Bölge Ortaokulu/Kastamonu 7. Sınıf
(İOKBS Soruları)



SOSYAL BİLGİLER
2. Ünite: Türk Tarihinde Yolculuk

Test 1-Osmanlı Devleti'nin Kuruluşu

1. (2008 SBS)

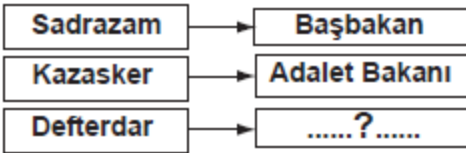


Yukarıda verilen şemada “?” ile gösterilen yere, aşağıdakilerden hangisi yazılabilir?

- A) Maltepe (Pelekanon) Savaşı
- B) Varna Savaşı
- C) Ankara Savaşı
- D) Otlukbeli Savaşı

2. (2009 SBS)

Aşağıdaki şemada bazı divan üyelerinin günümüzde hangi bakanlıklarla benzerlik gösterdiği belirtilmiştir.



Buna göre şemadaki boş yere, aşağıdakilerden hangisi yazılabilir?

- A) Hazine ve Maliye Bakanı
- B) İçişleri Bakanı
- C) Millî Eğitim Bakanı
- D) Millî Savunma Bakanı

3. (2009 SBS)

Osmanlı Beyliği'nin kısa sürede genişlemesinin sebeplerinden bazıları şunlardır:

- ① Moğollardan kaçan birçok Oğuz boyunun Osmanlılara katılması
- ② Komşu Türk beylikleriyle barış içinde kalmaya önem vermesi
- ③ Yöneticilerinin yetenekli olması
- ④ Taht kavgaları ve iç karışıklıklar içinde bulunan Bizans sınırında kurulması

Kaç numaralı kutuda verilen bilgi ile Osmanlı Beyliği'nin kısa sürede genişlemesinde coğrafi konumunun önemi belirtilmiştir?

- A) 1
- B) 2
- C) 3
- D) 4

4. (2010 SBS)

Aşağıdakilerden hangisi, tımar sisteminin Osmanlı Devleti'ne sağladığı faydalardan biri değildir?

- A) Esnaflar arasındaki mesleki dayanışmanın artırılması
- B) Devlet hazinesine yük olmadan atlı asker yetiştirilmesi
- C) Taşrada devlet otoritesinin ve güvenliğinin sağlanması
- D) Tarımsal üretimde devamlı bir verimlilik sağlanması

NOT: Seçeneklerde güncelleme yapılmıştır.



Küre Yatılı Bölge Ortaokulu/Kastamonu 7. Sınıf
(İOKBS Soruları)



SOSYAL BİLGİLER
2. Ünite: Türk Tarihinde Yolculuk

Test 1-Osmanlı Devleti'nin Kuruluşu

5. (2011 SBS)



Osmanlılar, Kuruluş
Döneminde büyük askeri
zaferler kazanmışlardır.

diyen Ayşe, aşağıdakilerden hangisini bu görüşüne
örnek gösteremez?

- A) Niğbolu Savaşı B) Ankara Savaşı
C) Varna Savaşı D) I. Kosova Savaşı

6. (2010 SBS)

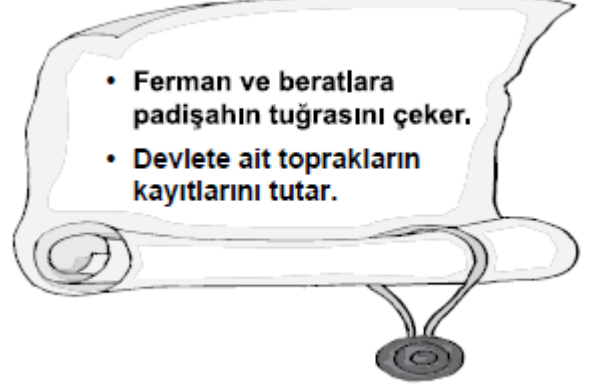


Devşirme sistemine göre
alınıp eğitilen, doğrudan
padişaha bağlı, maaşlı
ve sürekli askerleriz.

Bu konuşma ile kendini tanıtan **Osmanlı askeri**,
aşağıdakilerden hangisidir?

- A) Akıncı B) Yeniçeri
C) Levent D) Tımarlı sipahi

7. (2011 SBS)



- Ferman ve beratlarla
padişahın tuğrasını çeker.
- Devlete ait toprakların
kayıtlarını tutar.

Yukarıda görevi tanımlanan **divan üyesi**
aşağıdakilerden hangisidir?

- A) Nişancı B) Kazasker
C) Defterdar D) Sadrazam

8. (2012 İOKBS)

Aşağıdakilerden hangisi, Tımar (İkta) sisteminin
yararları arasında gösterilemez?

- A) Özel mülkiyetin gelişmesi
B) Taşrada güvenliğin sağlanması
C) Üretimin, denetim altına alınması
D) Hazineye yük olmadan donanımlı bir ordu
oluşturulması

Mehmet ÖZKÜZ



Küre Yatılı Bölge Ortaokulu/Kastamonu 7. Sınıf
(İOKBS Soruları)



SOSYAL BİLGİLER

2. Ünite: Türk Tarihinde Yolculuk

Test 1-Osmanlı Devleti'nin Kuruluşu

9. (2012 İOKBS)

Osmanlı Beyliği'nin Bizans sınırında kurulması, aşağıdakilerden hangisi üzerinde **doğrudan** etkili olmuştur?

- A) Haçlı Seferlerinin yapılmasında
- B) Bizans'la iyi ilişkiler kurulmasında
- C) Anadolu Türk birliğinin sağlanmasında
- D) Osmanlıların batı yönünde genişlemesinde

10. (2012 İOKBS)

Aşağıdakilerden hangisi, **atlı askerlerden** oluşan askerî sınıftır?

- A) Yeniçeriler
- B) Leventler
- C) Tımarlı sipahiler
- D) Humbaracılar

11. (2013 İOKBS)

"Osmanlı toprak yönetiminde uygulanan Tımar Sistemi'nin işleyişinde görevli olan tımarlı sipahi, bulunduğu bölgede devletin kanunlarını da uygulardı."

Parçada, Tımar Sistemi'nin hangi **aland**a rol oynadığına vurgu yapılmaktadır?

- A) Ticaret
- B) Tarım
- C) Kültür
- D) Yönetim

12. (2014 İOKBS)



Verilen durum, Osmanlı Beyliği'nin güçlenmesini sağlayan aşağıdaki faktörlerden hangisiyle ilişkilendirilebilir?

- A) Adalet anlayışıyla
- B) Hoşgörü fikriyle
- C) İskân politikasıyla
- D) Yöneticilerin yeteneğiyle

13. (2016 İOKBS)

Osmanlı toprak yönetiminde uygulanan tımar sisteminde tımarlı sipahiler, bölgelerinde huzur ve güveni sağlayarak jandarma görevini üstleniyorlardı. Böylece devlet otoritesi, ülkenin en uç noktalarına kadar ulaşıyordu.

Yukarıda verilen bilgide tımar sisteminin hangi **aland**a rol oynadığı belirtilmiştir?

- A) Ticari ilişkilerde
- B) Ülke yönetiminde
- C) Kültürel etkinliklerde
- D) Tarımsal faaliyetlerde



Küre Yatılı Bölge Ortaokulu/Kastamonu 7. Sınıf
(İOKBS Soruları)



SOSYAL BİLGİLER

2. Ünite: Türk Tarihinde Yolculuk

Test 1-Osmanlı Devleti'nin Kuruluşu

14. (2016 İOKBS)

Osmanlı Devleti'nde devlet işleri Divanühümayun adı verilen bir kurulda görüşülüp karara bağlanırdı. Divanda devlet işleriyle ilgili alınan kararların İslam dinine uygun olup olmadığına divan üyelerinden Şeyhülislam karar verirdi.

Bu bilgilere göre **Osmanlı devlet yönetimiyle ilgili** olarak aşağıdaki sonuçlardan hangisi çıkarılabilir?

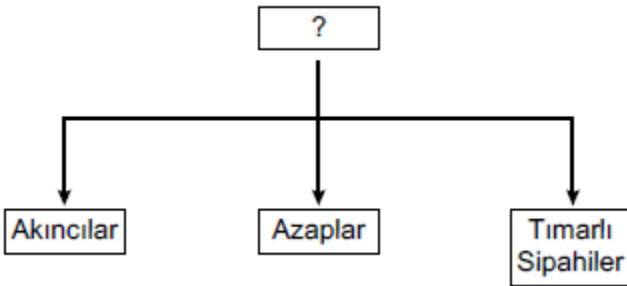
- A) Yargıda örfi hukuk geçerlidir.
- B) Devlet yönetiminde din kuralları etkilidir.
- C) Divana bütün halkın başvurma hakkı vardır.
- D) Devlet yönetiminde padişah tek başına hareket etmektedir.

15. (2017 İOKBS)

Aşağıdakilerden hangisi Orhan Bey dönemi (1324-1362) olaylarından **değildir**?

- A) Bursa'nın fethi
- B) Fetret Devri'nin başlaması
- C) Türklerin Rumeli'ye geçmesi
- D) Orduda yaya ve müsellemler birliğinin oluşturulması

16. (2017 İOKBS)



Şemaya hangi **başlık** verilmelidir?

- A) Deniz Kuvvetleri
- B) Cebeci Ocağı
- C) Topçu Ocağı
- D) Eyalet Askerleri

17. (2018 İOKBS)

Osman Bey, oğlu Orhan Gazi'ye; "İlim ehli insanlara **rağbet et, askerine ve malına güvenip âlimlerden uzaklaşma!**" diye vasiyet etmiştir.

Osman Bey'in bu sözleriyle **önemini vurguladığı erdem**, aşağıdakilerden hangisidir?

- A) Bilgi
- B) Hoşgörü
- C) Cesaret
- D) İyilikseverlik

18. (2018 İOKBS)

Aşağıdakilerden hangisi Osmanlı hükümdarlarından **biri değildir**?

- A) Yıldırım Beyazıt
- B) Orhan Bey
- C) Alaaddin Keykubat
- D) II. Murat

19. (2019 İOKBS)

Aşağıdakilerden hangisi Osmanlı Beyliği'nin Söğüt ve çevresini yurt edinmesinin sağladığı **siyasi** avantajlardan biri **değildir**?

- A) Kurulduğu dönemde çevresinde güçlü bir devletin olmayışı
- B) Ticari açıdan gelişmiş şehir ve kasabalara komşu bulunması
- C) Etrafındaki tekfurlarının birbiriyle mücadele hâlinde olması
- D) Bizans İmparatorluğu'nun iç karışıklıklarla uğraşması



Küre Yatılı Bölge Ortaokulu/Kastamonu 7. Sınıf
(İOKBS Soruları)



SOSYAL BİLGİLER

2. Ünite: Türk Tarihinde Yolculuk

Test 1-Osmanlı Devleti'nin Kuruluşu

20. (2019 İOKBS)

- Gelibolu Yarımadası'ndadır.
- Batı seferlerinde üs olarak kullanılmıştır.
- Osmanlı'nın Rumeli'deki ilk toprağıdır.

Bu bilgiler aşağıdakilerden hangisi ile ilgilidir?

- A) Rumeli Hisarı
- B) Çimpe Kalesi
- C) Yarhisar Kalesi
- D) Anadolu Hisarı

21. (2019 İOKBS)

Osmanlı nüfusunun önemli bir kısmı köylerde yaşarlardı. Konargöçerler çoğunlukla hayvancılıkla, köylüler ise daha çok tarım ile uğraşırlardı. Köylülerin büyük çoğunluğu devletin kendilerine tahsis ettiği çiftlikleri işleten ailelerden oluşmaktaydı.

Bu metindeki bilgiye getirilebilecek uygun başlık aşağıdakilerden hangisidir?

- A) Osmanlı Devleti'nin Askerî Yapısı
- B) Osmanlı Divan Teşkilatı
- C) Osmanlı Devleti'nin Toplumsal ve Ekonomik Yapısı
- D) Osmanlı İskân Politikası

22. (2020 İOKBS)

Osmanlı Devleti'nde toplum, yönetenler ve yönetilenler olmak üzere ikiye ayrılmaktaydı. Yönetenler; askerî, idari, siyasi ve dinî yetkilere sahip devlet görevlileriydi.

Bu bilgilere göre aşağıdakilerden hangisi **yönetenler** arasında yer almaz?

- A) Sancak beyi
- B) Kadı
- C) Tımarlı sipahi
- D) Esnaf

23. (2020 İOKBS)

Osmanlı Beyliği'nin kısa sürede güçlenmesini sağlayan aşağıdaki nedenlerden hangisi **kurulduğu bölgenin sağladığı avantajlardan** biridir?

- A) Yetenekli padişahların iş başına gelmesi
- B) Bizans'ın ve Balkanların karışıklık içinde olması
- C) Adaletli bir yönetim uygulanması
- D) Merkezîyetçi bir devlet anlayışının benimsenmesi

23. (2020 İOKBS)

Aşağıdakilerden hangisi Osmanlı Devleti'nin **Haçlılarla yaptığı savaşlardan biri değildir**?

- A) Ankara Savaşı
- B) I. Kosova Savaşı
- C) Varna Savaşı
- D) Niğbolu Savaşı

Test 1-Osmanlı Devleti'nin Kuruluşu Cevap Anahtarı (7. Sınıf)
(İOKBS Soruları)

1.B 2.A 3.D 4.A 5.B 6.B 7.C 8.A 9.D 10.C 11.D 12.A 13.B 14.B 15.B 16.D 17.A 18.C 19.B 20.B 21.C 22.D 23.B 24.A




Küre Yatılı Bölge Ortaokulu/Kastamonu 7. Sınıf
(İOKBS Soruları)



SOSYAL BİLGİLER
2. Ünite: Türk Tarihinde Yolculuk

Test 2-Osmanlı Devleti'nin Fetih Siyaseti

1. (2008 SBS)

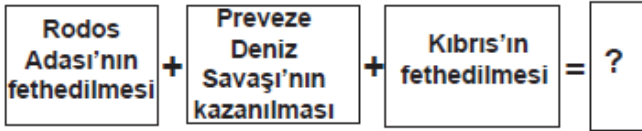


Yukarıda Osmanlı Döneminden günümüze kadar varlığını devam ettiren değişik dinlere ait bazı ibadet yerlerinin temsilî resimleri verilmiştir.

Bu resimlerden yola çıkarak Osmanlı toplumu için aşağıdakilerden hangisi söylenemez?

- A) Farklı kültürler bir arada yaşamıştır.
- B) İnanç ve ibadet hürriyeti sağlanmıştır.
- C) Adaletli ve hoşgörülü bir yönetim uygulanmıştır.
- D) İbadet hayatı yalnızca İslamiyet'e göre yaşanmıştır.

2. (2009 SBS)



Verilen diyagramda “?” ile gösterilen yere aşağıdakilerden hangisi getirilebilir?

- A) Boğazlar Türk egemenliğine girmiştir.
- B) Haçlılar Türkleri yenilgiye uğratmıştır.
- C) Akdeniz'de Türk egemenliği güçlenmiştir.
- D) Barbaros Hayrettin Paşa Kaptan-ı Derya olmuştur.

3. (2009 SBS)

Osmanlılar, Rumeli ve Balkanlarda fethet-
tikleri yerlere Anadolu'dan getirdikleri ko-
nar göçer Türkmenleri yerleştirmişlerdir.
Size göre Osmanlıların bu uygulamasının
amacı ne olabilir?



A)

Balkanlı ulusları
Müslüman olmaya
zorlamak



Erdoğan

B)

Rumeli ile Anadolu
arasında sosyal ilişki-
leri geliştirmek



Yasemin

C)

Fethedilen yerlerde
kalıcı egemenlik
kurmak



Ömer

D)

Türlere karşı Haçlı
ordusu oluşturulma-
sını önlemek



Nurgül

Mehmet ÖZKÜZ



Küre Yatılı Bölge Ortaokulu/Kastamonu 7. Sınıf
(İOKBS Soruları)



SOSYAL BİLGİLER

2. Ünite: Türk Tarihinde Yolculuk

Test 2-Osmanlı Devleti'nin Fetih Siyaseti

4. (2010 SBS)

Aşağıdakilerden hangisi İstanbul'un fethiyle Osmanlı Devleti'nin **ekonomik** kazanç elde ettiğinin göstergesi **olamaz**?

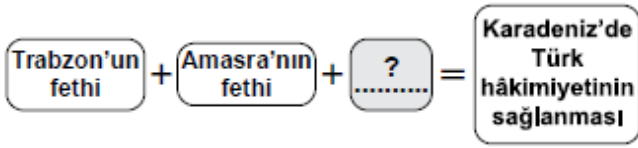
I- Önemli ticaret yollarının İstanbul ve Çanakkale boğazlarından geçmesi

II- Bizans'ın Karadeniz ticaret yolundan vergi alması

III- İstanbul'daki Hristiyan bilim adamlarının İtalya'ya göç etmesi

- A) Yalnız I
B) Yalnız III
C) I ve II
D) II ve III

5. (2011 SBS)



Şemada “?” ile boş bırakılan yere aşağıdakilerden hangisi yazılabilir?

- A) Rodos'un fethi
B) Belgrat'ın fethi
C) Mısır'ın fethi
D) Kırım'ın fethi

6. (2012 İOKBS)

Aşağıdakilerden hangilerinin fethi, **Karadeniz'de** ticaretin Osmanlıların denetimine girmesini sağlamıştır?

- I- Amasra
II- Kıbrıs
III- Trabzon

- A) I ve II
B) I ve III
C) II ve III
D) I, II ve III

7. (2013 İOKBS)

Fatih Sultan Mehmet;

- Cenevizlilerden Amasra'yı almış,
- Trabzon İmparatorluğu'na son vermiş,
- Kırım'ı Osmanlı'ya bağlamıştır.

Fatih Sultan Mehmet'in bu faaliyetleri, Osmanlı Devleti'nin **en çok** hangi alanda gelişmesine katkı sağlamıştır?

- A) Sanat
B) Tarım
C) Bilim
D) Ticaret

8. (2013 İOKBS)

Orhan Bey, Bursa'nın fethinden sonra Rumlara şehri teslim etmelerinin sebebini sorduğu zaman onlardan şu cevabı aldı:

“-Sizin devletinizin günden güne büyüdüğünü ve bizim devletimizin zayıfladığını anladık. Babanızın idaresine geçen köylülerin memnun kalıp bizi anmadıklarını gördük. Biz de bu rahatlığa heves ettik.”

Rumların cevabı, Osmanlı'nın kısa zamanda büyümesini sağlayan aşağıdaki nedenlerden hangisi ile ilişkilendirilebilir?

- A) Kurulduğu bölgenin coğrafi konumu
B) Adaletli ve hoşgörülü politika izlenmesi
C) Güçlü bir merkezî yönetime sahip olması
D) Başarılı bir iskân siyasetinin uygulanması



Küre Yatılı Bölge Ortaokulu/Kastamonu 7. Sınıf
(İOKBS Soruları)



SOSYAL BİLGİLER
2. Ünite: Türk Tarihinde Yolculuk

Test 2-Osmanlı Devleti'nin Fetih Siyaseti

9. (2013 İOKBS)

"Tarih boyunca İstanbul, önemli kara ve deniz ticaret yolları üzerinde bulunuyordu."

Verilen bu bilgi doğrultusunda, İstanbul'un fethi Osmanlı Devleti'ne **daha çok** hangi alanda katkı sağlamıştır?

- A) İdari B) Siyasi
C) Ekonomik D) Askerî

10. (2014 İOKBS)

Osmanlı Devleti; Anadolu, Suriye ve Mısır bölgelerine egemen olduğunda, bu bölgeler için stratejik ve merkezî bir üs konumunda olan Kıbrıs Adası, Venedik'in idaresinde bulunuyordu. Bu yıllarda ada, Doğu Akdeniz'de Hristiyanların kalesi durumundaki tek yerleşim yeri idi. Ayrıca Kıbrıs kralı zaman zaman, Osmanlı aleyhine kurulan ittifaklara da yardımlarda bulunuyordu.

Verilen bilgiden hareketle Kıbrıs'ın fethinin, Osmanlı Devleti'ne;

- I-dinî
II-iktisadi
III-siyasi
IV-askerî

alanların hangilerinde katkı sağladığı söylenebilir?

- A) I ve II B) II ve III
C) III ve IV D) I, III ve IV

11. (2015 İOKBS)

Osmanlı Devleti içinde farklı etnik ve dinî unsurlar bulunmaktaydı. Örfi hukuk, bu farklı unsurların duyarlılıklarını gözetten bir hukuk sistemiydi.

Osmanlı Devleti'nde bu **örfi hukukun uygulanması** aşağıdakilerden hangisinin kanıtıdır?

- A) Osmanlı Devleti'nde hukuk birliğinin sağlandığının
B) Osmanlı Devleti'nin farklı kültürlerden etkilendiğinin
C) Farklı unsurların Osmanlı Devleti üzerinde etkili olduğunun
D) Osmanlı Devleti'nde hoşgörü ve birlikte yaşama fikrinin geliştiğini

12. (2015 İOKBS)

"Devletli sultanımın yardımıyla Rumeli fethedilmeye başlandı. Düşman zayıftır. Bu tarafta fethedilen hisarlara koymaya çok adam gerek. Lütfedip bana yarar yoldaş gönderiniz."

Süleyman Paşa

Orhan Bey'in oğlu Süleyman Paşa, babasından bu isteğiyle aşağıdakilerden hangisini **amaçlamış** olabilir?

- A) Fethedilen toprakların kalıcı olmasını sağlamayı
B) Rumeli'deki Türk nüfus yoğunluğunu azaltmayı
C) Osmanlı ordusunu güçlendirmeyi
D) Devletin ekonomisini geliştirmeyi



Küre Yatılı Bölge Ortaokulu/Kastamonu 7. Sınıf
(İOKBS Soruları)



SOSYAL BİLGİLER
2. Ünite: Türk Tarihinde Yolculuk

Test 2-Osmanlı Devleti'nin Fetih Siyaseti

13. (2015 İOKBS)

Yapılan fetihler sonunda önemli kara ve deniz ticaret yollarının Osmanlı Devleti'nin eline geçmesi, aşağıdaki alanlardan hangisine katkı sağlamamıştır?

- A) Ekonomi B) Siyaset
C) Askeriye D) Din

14. (2016 İOKBS)

Osmanlı Devleti'nin fethettiği şehirlerde farklı dinlere ait ibadet yerleri varlığını devam ettirmiştir. Egemenliği altındaki gayrimüslimler dinlerini serbestçe yaşamışlardır.

Bu durum, Osmanlıların aşağıdakilerden hangisine önem verdiğine kanıt olarak gösterilebilir?

- A) Din birliğine
B) Farklı dinleri tanımaya
C) Kültürlerini kabul ettirmeye
D) İnançlara hoşgörü ile yaklaşıtlarına

15. (2017 İOKBS)

- I. Trabzon
II. Kırım
III. Kıbrıs

Numaralanmış yerlerden hangilerinin fethi, Karadeniz'de Türk hâkimiyetini güçlendirmiştir?

- A) Yalnız I. B) Yalnız II.
C) I ve II. D) II ve III.

16. (2018 İOKBS)

- I. Rodos Adasının Fethi
II. Ridaniye Savaşı
III. İstanbul'un Fethi

16. soruda ve seçeneklerde değişiklik yapılmıştır.

Verilen olayların kronolojik sıralaması aşağıdakilerden hangisidir?

- A) I-II-III B) I-III-II
C) III-I-II D) III-II-I

17. (2018 İOKBS)

Osmanlılarda "Kaptan-ı Derya" unvanı verilen ilk denizci aşağıdakilerden hangisidir?

- A) Kemal Reis
B) Oruç Reis
C) Barbaros Hayrettin Paşa
D) Kılıç Ali Paşa

18. (2020 İOKBS)

Aşağıdakilerden hangisi Osmanlı Devleti'nin uyguladığı "İskân Politikası"nın askerî amaçlarından biridir?

- A) İssız ve terk edilmiş yerlerde Türk şehirleri oluşturmak
B) Rumeli'deki boş arazileri ekilip biçilen tarlalar hâline dönüştürmek
C) Fethedilen yerlere Türk nüfusu yerleştirerek yeni fetihlere zemin hazırlamak
D) İskân edilen topraklardan vergi geliri elde etmek

19. (2020 İOKBS)

Aşağıdakilerden hangisi İstanbul'un Fethi'nin "ekonomik" nedenlerindendir?

- A) Bizans'ın Osmanlı Devleti'nin batıda ilerleyişine engel olması
B) İstanbul'un kara ve deniz ticaret yolları üzerinde önemli bir konumda bulunması
C) Bizans'ın, Avrupa devletlerini Osmanlı Devleti'ne karşı kışkırtması
D) Osmanlı Devleti'nin Anadolu ve Rumeli toprakları arasındaki bağlantıyı sağlamak istemesi

Test 2-Osmanlı Devleti'nin Fetih Siyaseti Cevap Anahtarı (7. Sınıf)
(iOKBS Soruları)

1.D 2.C 3.C 4.B 5.D 6.B 7.D 8.B 9.C 10.D 11.D 12.A 13.D 14.D 15.C 16.D 17.C 18.C 19.B



Küre Yatılı Bölge Ortaokulu/Kastamonu 7. Sınıf
(İOKBS Soruları)



SOSYAL BİLGİLER
2. Ünite: Türk Tarihinde Yolculuk

Test 3-Avrupa'daki Gelişmeler ve Osmanlı Devleti'ne Etkileri

1. (2008 SBS)

Aşağıdaki diyagramda Sanayi İnkılabı sonucunda üretim teknolojisindeki gelişmelerin sosyal hayata etkileriyle ilgili bir süreç yer almaktadır:

1. Üretimde insan ve hayvan gücünün yerini makineler almıştır.
2. Üretim artmış ve insanların refah seviyesi yükselmiştir.
3. Yaşam koşullarının iyileşmesi ölüm oranını düşürmüştür.
4. ...?...

Diyagramdaki süreci tamamlayan en uygun ifade, aşağıdakilerden hangisidir?

- A) Nüfus artmış, işsizlik sorunu doğmuştur.
- B) Devletler arasında sömürgecilik yarışı başlamıştır.
- C) İşçi sınıfı ortaya çıkmış, sendikacılık girişimleri başlamıştır.
- D) Ham madde ve pazar bulma önemli sorun hâline gelmiştir.

2. (2009 SBS)

Ben Martin Luther!
Matbaanın icat edilmesiyle
çok sayıda İncil basıldı ve
birçok dile çevrildi. İncil'i
okuyunca rahiplerin bize dayattığı
birçok inancın İncil'de olmadığını
öğrendik.



Martin Luther'in sözünü ettiği durum, Avrupa'da meydana gelen;

- I- Coğrafi keşifler
- II- Reform
- III- Rönesans
- IV- Sanayi İnkılabı

gibi gelişmelerden hangisinin ya da hangilerinin ortaya çıkmasında doğrudan etkili olmuştur?

- A) Yalnız I
- B) Yalnız II
- C) III-IV
- D) I-II-IV

3. (2010 SBS)

Osmanlı Devleti'nin Fransız İhtilali sonucunda ortaya çıkan milliyetçilik akımından etkilenmesinin temel nedeni aşağıdakilerden hangisidir?

- A) Yeniliklere kapalı olması
- B) Ekonomisinin zayıf olması
- C) Yöneticilerinin yetersiz olması
- D) Çok uluslu bir yapıya sahip olması



Küre Yatılı Bölge Ortaokulu/Kastamonu 7. Sınıf
(İOKBS Soruları)



SOSYAL BİLGİLER
2. Ünite: Türk Tarihinde Yolculuk

Test 3-Avrupa'daki Gelişmeler ve Osmanlı Devleti'ne Etkileri

4. (2010 SBS)

OLAY	SONUCU
Coğrafi Keşifler	Yeni ticaret yollarının bulunması
Reform	Kiliseye güvenin azalması
Rönesans ?

Yukarıdaki tabloda 15 ve 19. yüzyıllar arasında Avrupa'da yaşanan gelişmelere ait olay ve sonuçları eşleştirilerek verilmiştir.

Verilen eşleştirme tablosunda (?) ile belirtilen yere, aşağıdakilerden hangisi yazılmalıdır?

- A) Milliyetçilik hareketlerinin başlaması
- B) İşçi sınıfının ortaya çıkması
- C) Gözlem ve deneye dayalı bilginin önem kazanması
- D) Kol gücünün yerini makine gücünün alması

5. (2011 SBS)

Sanayi İnkılabının ortaya çıkardığı işçi sınıfının haklarını korumak amacıyla oluşturulan kuruluş, aşağıdakilerden hangisidir?

- A) Sendika
- B) Kooperatif
- C) Lonca
- D) Ahilik

6. (2012 İOKBS)

Sanayi İnkılabı sonucunda Avrupa'da fabrikalaşma başladı ve hızlı üretim artışı yaşandı.

Bu durumun Avrupa'da aşağıdakilerden hangisine yol açtığı söylenebilir?

- A) Sömürgecilğe
- B) Coğrafi Keşiflere
- C) Demokratikleşmeye
- D) Rönesans Hareketlerine

7. (2012 İOKBS)

15 ve 17. yüzyıl boyunca Avrupa'da görülen reform hareketleri, öncelikle hangi alanda değişikliğe yol açmıştır?

- A) Din
- B) Sanat
- C) Ticaret
- D) Yönetim

8. (2014 İOKBS)

Avrupa'da sanayinin gelişmesiyle fabrikalar kurulmaya başladı. Sanayileşen ülkeler, üretimlerini artırmak için hem ham maddeye hem de yeni pazarlara ihtiyaç duydular. Bu nedenle geri kalmış Asya ve Afrika ülkelerini denetim altına almaya çalıştılar. Bu da sanayileşen ülkeler arasında rekabete neden oldu. Sömürge arayışı da denilen bu yarış, daha sonraki yıllarda I. Dünya Savaşı'nın çıkış nedenlerinden biri olmuştur.

Bu bilgide, I. Dünya Savaşı'nın çıkmasında etkili olan aşağıdaki nedenlerden hangisi vurgulanmıştır?

- A) Sosyal
- B) Dinî
- C) Kültürel
- D) Ekonomik

9. (2015 İOKBS)

Aşağıdakilerden hangisi Sanayi İnkılabı'yla ortaya çıkan işçi sınıfının sorunlarını çözmek ve haklarını korumak amacıyla kurulmuştur?

- A) Şirketler
- B) Sendikalar
- C) Kooperatifler
- D) Üniversiteler



Küre Yatılı Bölge Ortaokulu/Kastamonu 7. Sınıf
(İOKBS Soruları)



SOSYAL BİLGİLER
2. Ünite: Türk Tarihinde Yolculuk

Test 3-Avrupa'daki Gelişmeler ve Osmanlı Devleti'ne Etkileri

10. (2015 İOKBS)

17.yy'da tarıma dayalı olan dünya ekonomisi yerini sanayileşme olgusuna bırakmaya başladı. Bu olgu ile birlikte siyasi, sosyal ve ekonomik alanda gelişmeler yaşandı.

Aşağıdakilerden hangisi bu gelişmelerden biri değildir?

- A) Üretimin hızlanması
- B) Kentlerde işçi sınıfının oluşması
- C) Ulaşım imkanlarının azalması
- D) Sanayileşmiş ülkelerin zenginleşmesi

11. (2016 İOKBS)

I. Tarım sektöründe insan gücüne dayalı üretimin yerini makineler alırken şehirlerde yeni kurulan fabrikalarda iş gücü ihtiyacı doğmuştur.

II. Şehirlerde nüfus hızla artmış ve günümüzün metropol denilen büyük şehirleri oluşmuştur.

III. Köylerde çalışan insanlar hızla şehirlere doğru göç etmişlerdir.

IV. Şehirlerde altyapı sorunları, çevre kirliliği ve çarpık kentleşme gibi sorunlar ortaya çıkmıştır.

Sanayi İnkılabı'nın ortaya çıkardığı yukarıdaki gelişmelerin neden-sonuç ilişkisine göre sıralaması aşağıdakilerin hangisinde doğru verilmiştir?

- A) I - II - III - IV
- B) II - III - I - IV
- C) I - III - II - IV
- D) III - IV - I - II

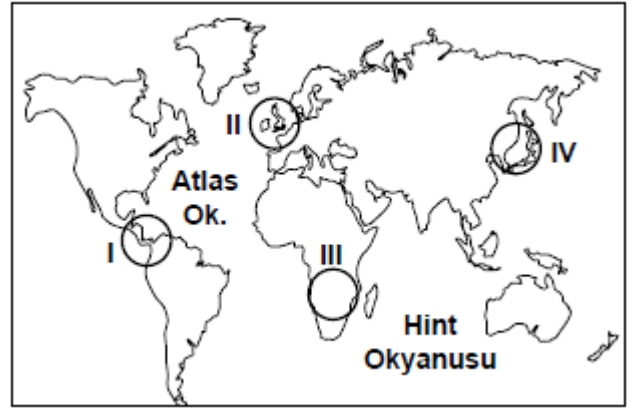
12. (2016 İOKBS)

Reform hareketleri sonucunda bazı Avrupa ülkelerinde Katolik Kilisesi'nden ayrılan din adamları yeni mezhepler kurmuşlardır.

Bu bilgiye göre aşağıdaki yargılardan hangisine ulaşamaz?

- A) Kilisenin otoritesi sarsılmıştır.
- B) Kiliseye duyulan güven azalmıştır.
- C) Avrupa'da mezhep birliği bozulmuştur.
- D) Eğitim kilisenin denetiminden çıkmıştır.

13. (2016 İOKBS)



- Ham madde ihtiyacı arttı.
- Sanayi ürünlerinin üretimi arttı.
- İhtiyaç fazlası ürünleri satacak Pazar arayışları başladı.

Sanayi İnkılabı'nın sonucunda gerçekleşen yukarıdaki durumlar haritada numaralandırılarak verilen taralı alanlardan hangisinde ilk önce yaşanmıştır?

- A) I
- B) II
- C) III
- D) IV



Küre Yatılı Bölge Ortaokulu/Kastamonu 7. Sınıf
(İOKBS Soruları)



SOSYAL BİLGİLER
2. Ünite: Türk Tarihinde Yolculuk

Test 3-Avrupa'daki Gelişmeler ve Osmanlı Devleti'ne Etkileri

14. (2016 İOKBS)

Milliyetçilik akımının etkisiyle her milletin kendi devletini kurma çabası içine girmesi, bütün dünyada ve özellikle Avrupa'da siyasi ve sosyal düzenin değişmesine neden olmuştur.

Bu gelişme, aşağıdakilerden hangisinin sonucudur?

- A) Fransız İhtilalinin
- B) Coğrafi keşiflerin
- C) Sanayi İnkılabının
- D) Rönesans Hareketlerinin

15. (2016 İOKBS)

Aşağıdakilerden hangisi Avrupa'da yaşanan Rönesans Dönemi'nin özelliğini yansıtmaz?

- A) Sanat alanında gelişmelerin yaşanması
- B) Din adamlarına duyulan güvenin artması
- C) Özgür düşüncenin ön plana çıkması
- D) Bilimsel düşüncenin önem kazanması

16. (2017 İOKBS)

Coğrafi Keşifler sonucunda Baharat ve İpek Yolları önemini yitirdi.

Bu durum Osmanlıları daha çok hangi alanda olumsuz etkilemiştir?

- A) Dinî
- B) Sanatsal
- C) Kültürel
- D) Ekonomik

17. (2018 İOKBS)

Sanayi İnkılabı ilk kez aşağıdaki ülkelerden hangisinde ortaya çıkmıştır?

- A) İngiltere
- B) Fransa
- C) İtalya
- D) Almanya

18. (2019 İOKBS)

Aşağıdakilerden hangisi Avrupalıların Coğrafi Keşifleri başlatmalarının dini sebeplerinden biridir?

- A) Coğrafya bilgisinin artması
- B) Gemi yapım tekniklerinde ilerlemeleri
- C) Yeni ticaret yolu aramak istemeleri
- D) Hristiyanlığı yaymak istemeleri

19. (2019 İOKBS)

Aşağıdakilerden hangisi Sanayi İnkılabının sosyal alandaki sonuçlarından biridir?

- A) Üretim alanı genişlemiştir.
- B) Üretilen ürün miktarı artmıştır.
- C) Çekirdek aile yaygınlaşmıştır.
- D) Bilime dayalı teknikler geliştirilmiştir.

20. (2020 İOKBS)

Aşağıdakilerden hangisi Coğrafi Keşiflerin başlamasında etkili olan "bilimsel" sebeplerdendir?

- A) Pusulanın kullanılmaya başlanması
- B) Avrupalıların Hristiyanlığı yaymak istemesi
- C) Avrupa'da altın ihtiyacının ortaya çıkması
- D) İpek ve Baharat yollarının Osmanlı hâkimiyetinde olması



Küre Yatılı Bölge Ortaokulu/Kastamonu 7. Sınıf
(İOKBS Soruları)



SOSYAL BİLGİLER
2. Ünite: Türk Tarihinde Yolculuk

Test 3-Avrupa'daki Gelişmeler ve Osmanlı Devleti'ne Etkileri

21. (2020 İOKBS)

Sanayi İnkılabı sonucunda şehirlerde çok sayıda fabrika kuruldu. Şehirler hızla artan fabrikaların işçi ihtiyacı nedeniyle göç alarak büyüdü. Daha iyi şartlarda yaşamak isteyen köylüler şehirlere göç etmeye başlayınca köylerde nüfus azalırken şehirlerde nüfus artışı gerçekleşti.

Bu metinde Sanayi İnkılabının aşağıdaki alanlardan hangisine etkisi vurgulanmıştır?

- A) Sosyal B) Dinî
C) Bilimsel D) Siyasi

Mehmet ÖZKÜZ

Test 3-Avrupa'daki Gelişmeler ve Osmanlı Devleti'ne Etkileri Cevap Anahtarı (7. Sınıf)
(iOKBS Soruları)

1.A 2.B 3.D 4.C 5.A 6.A 7.A 8.D 9.B 10.C 11.C 12.D 13.B 14.A 15.B 16.D 17.A 18.D 19.C 20.A 21.A



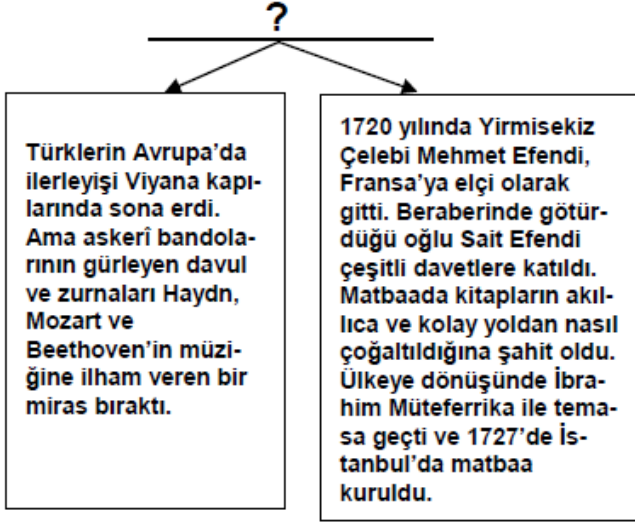
Küre Yatılı Bölge Ortaokulu/Kastamonu 7. Sınıf
(İOKBS Soruları)



SOSYAL BİLGİLER
2. Ünite: Türk Tarihinde Yolculuk

Test 4-Osmanlı Devleti'nde İslahat Hareketleri

1. (2008 SBS)



Bu diyagrama verilebilecek aşağıdakilerden hangisidir? en iyi başlık

- A) Yenilikler ve Osmanlı Devleti
- B) Etkiledik, Etkilendik
- C) Farklı Kültürler Bir Arada Yaşadı
- D) Buluşların Serüveni

2. (2008 SBS)

Osmanlı Devleti'nde yapılan ıslahat hareketleri sonucunda;

- Matbaa kuruldu,
- Ziraat Bankası açıldı,
- Posta teşkilatı kuruldu.

Bu ıslahatlar, aşağıdaki alanların hangisinde değişim yaşandığına kanıt olamaz?

- A) Askerlik
- B) Ekonomi
- C) Kültür
- D) Haberleşme

3. (2009 SBS)



Sosyal Bilgiler öğretmeninin bu sorusuna yukarıdaki öğrencilerden hangisi ya da hangileri doğru cevap vermiştir?

- A) Yalnız Betül
- B) Veli ve Betül
- C) Ayşegül ve Murat
- D) Veli ve Ayşegül



Küre Yatılı Bölge Ortaokulu/Kastamonu 7. Sınıf
(İOKBS Soruları)



SOSYAL BİLGİLER
2. Ünite: Türk Tarihinde Yolculuk

Test 4-Osmanlı Devleti'nde İslahat Hareketleri

4. (2010 SBS)

Lale Devrinde, Osmanlı Devleti'nin Viyana, Paris ve Londra gibi başkentlere ilk kez elçi göndermesinin gerekçesi aşağıdakilerden hangisidir?

- A) Batı'dan borç para alabilmek
- B) Avrupa ülkeleri ile iyi ilişkiler kurmak
- C) Avusturya ile yapılan savaflara son vermek
- D) Avrupa'daki gelişmeleri yakından izlemek

5. (2011 SBS)

19. yüzyılda Osmanlı Devleti'nde;

- Divan-ı Hümayun'un kaldırılarak Bakanlıkların kurulması
- İzmir-Aydın demiryolunun yapılması
- Ziraat Bankası'nın açılması

gibi yenilikler yapılmıştır.

Bu bilgilere göre, hangi alanda yenilik yapıldığı söylenemez?

- A) Ulaştırma
- B) Yönetim
- C) Eğitim
- D) Ekonomi

6. (2011 SBS)

Aşağıdakilerden hangileri Osmanlı Devleti'nde görülen yönetim kurumlarıdır?

- I-Kurultay
- II-Divan-ı Hümayun
- III-TBMM

- A) Yalnız I
- B) Yalnız II
- C) I ve III
- D) II ve III

7. (2012 İOKBS)

Aşağıdakilerden hangisi, Osmanlı Devleti'nde görülen yönetim kurumları arasında gösterilebilir?

- A) Kurultay
- B) Divan-ı Hümayun
- C) TBMM
- D) Şirket-i Hayriye

6. ve 7. Soruların seçeneklerinde değiştirme yapılmıştır.

8. (2012 İOKBS)

II. Mahmut Dönemi'nde Divan-ı Hümayun'un kaldırılarak bakanlıkların kurulması hangi alanda değişiklik yaşandığını gösterir?

- A) Hukuk
- B) Yönetim
- C) Ekonomi
- D) Din

9. (2012 İOKBS)

- Lale Devrinde matbaanın kurulması
- II. Mahmut Döneminde ilk resmî gazete olan Takvim-i Vekâyî'nin yayımlanması

Yapılan bu ıslahatların, Osmanlı'da ortaya çıkaracağı değişim, aşağıdakilerden hangisidir?

- A) Fikir hayatının gelişmesi
- B) Askerî yapının değişmesi
- C) Merkezî otoritenin güçlenmesi
- D) Ekonomik büyümenin gerçekleşmesi

Mehmet ÖZKÜZ



Küre Yatılı Bölge Ortaokulu/Kastamonu 7. Sınıf
(İOKBS Soruları)



SOSYAL BİLGİLER
2. Ünite: Türk Tarihinde Yolculuk

Test 4-Osmanlı Devleti'nde İslahat Hareketleri

10. (2015 İOKBS)

Aşağıdakilerden hangisi Osmanlı Devleti ile Avrupa'nın **kültürel etkileşim** içine girdiğine **örnek gösterilemez**?

- A) Matbaanın kurulması
- B) Divan teşkilatının oluşturulması
- C) Avrupa'da daimî elçiliklerin açılması
- D) Avrupa'dan askerî uzmanların getirilmesi

11. (2016 İOKBS)

Osmanlı ıslahat hareketleri sonucunda;

- Posta Nezareti kuruldu.
- Memleket Sandıkları oluşturuldu.
- Şirketihayriye kurularak İstanbul'da düzenli vapur seferleri başladı.

Bu ıslahatlarla;

- I. Eğitim
- II. Ulaşım
- III. Ekonomi
- IV. Haberleşme

alanlarından hangilerinde ülkenin ilerlemesi amaçlanmıştır?

- A) I ve IV
- B) I, II ve III
- C) II, III ve IV
- D) I, II, III ve IV

12. (2017 İOKBS)

18. yüzyılda yapılan

- I. Telgrafın kullanılması
- II. Şirketi Hayriyenin kurulması
- III. İzmir-Aydın arasında ilk demir yolu hattının Yapılması

ıslahatlarından hangileri **haberleşme ile ilgilidir?**

- A) Yalnız I.
- B) Yalnız II.
- C) I ve II.
- D) II ve III.

13. (2018 İOKBS)

Geleneksel Osmanlı ordu bandosuna - - - - - adı verilir.

Cümle aşağıdakilerden hangisiyle tamamlanmalıdır?

- A) Koro
- B) Orkestra
- C) Senfoni
- D) Mehter

14. (2018 İOKBS)

Aşağıdakilerden hangisi II. Mahmut dönemi ıslahatlarından biri değildir?

- A) İlk nüfus sayımının yapılması
- B) Ziraat Bankası'nın kurulması
- C) İlköğretimin zorunlu olması
- D) İlk resmî gazete olan Takvimivekayî'nin çıkarılması

Mehmet ÖZKÜZ



Küre Yatılı Bölge Ortaokulu/Kastamonu 7. Sınıf
(İOKBS Soruları)



SOSYAL BİLGİLER
2. Ünite: Türk Tarihinde Yolculuk

Test 4-Osmanlı Devleti'nde İslahat Hareketleri

15. (2019 İOKBS)

Aşağıdakilerden hangisi Lale Devri'nde eğitim ve kültür alanında yapılan yeniliklerden biridir?

- A) İlk matbaanın kurulması
- B) Çini fabrikasının açılması
- C) İtfaiye teşkilatının kurulması
- D) İlk kez çiçek aşısının uygulanması

16. (2020 İOKBS)

Osmanlı Devleti'nde;

- Takvim-i Vekâyi Gazetesi'nin çıkarılması,
- İlk Türkçe eser basan matbaanın kurulması,

gelişmeleri aşağıdaki alanların hangisi ile ilgilidir?

- A) Ekonomik
- B) Askerî
- C) Kültürel
- D) Mimar

Mehmet ÖZKÜZ

Test 4-Osmanlı Devleti’nde Islahat Hareketleri Cevap Anahtarı (7. Sınıf)
(İOKBS Soruları)

1.B 2.A 3.B 4.D 5.C 6.B 7.B 8.D 9.A 10.B 11.C 12.A 13.D 14.B 15.A 16.C



Küre Yatılı Bölge Ortaokulu/Kastamonu 7. Sınıf (İOKBS Soruları)



SOSYAL BİLGİLER 2. Ünite: Türk Tarihinde Yolculuk

Test 5-Seyyahların Gözüyle Osmanlı

1. (2009 SBS)

Türkler, Hristiyan ve Müslüman farkı gözetmeksizin adaleti herkese eşit olarak uygularlar. Kadılar, Hristiyanları İncil, Yahudileri Tevrat üzerine yemin ettirirler.

Buna göre Osmanlı yönetiminin farklı dinden vatandaşlarına karşı tutumu ile ilgili olarak, aşağıdakilerden hangisi söylenemez?

- A) Hoşgörülü
- B) Eşitlikçi
- C) Baskıcı
- D) Adil

2. (2013 İOKBS)

19. yüzyılda Osmanlı topraklarından geçen seyyah Sanz, gördüklerini şu şekilde anlatmıştır:

“... Adalet ve hukuk yoluyla toplum düzenini sağlayan Türkler, Hristiyan ve Müslüman farkı gözetmeksizin adaleti herkese eşit olarak tatbik ederler. Belli başlı kadıların masalarında İncil ve Tevrat birlikte bulunur. Hristiyanları İncil, Yahudileri Tevrat üzerine yemin ettirirler...”

(Sanz, Türkiye'nin Dört Yılı, sf: 93)

Seyyah Sanz'ın anlatımından hareketle, Osmanlı toplum yaşamı ile ilgili olarak aşağıdakilerden hangisi söylenemez?

- A) Farklı inanç ve kültürler bir arada yaşamıştır.
- B) Osmanlı toplumu Türklerden oluşmuştur.
- C) Adalet ve hoşgörü anlayışı gelişmiştir.
- D) İnanç hürriyeti sağlanmıştır.

3. (2013 İOKBS)

“ ...İzmir'i, İstanbul'u, Suriye'yi, Lübnan'ı gezin; manastırlara, Hristiyan misafirhanelerine, mabetlere, erkekler ve kadınlar tarafından yönetilen hastane veya din okullarına girin ve içlerinden birinin imparatorluğa karşı saygı duyup duymadığını sorun. Hepsi birden, imparatorlukta uygulanan tarafsızlığı ve Sultan'ın adını takdis edeceklerdir...”

(Lemartine; Aşiretten Devlete; sf:20)

Parçada verilen bilgiden, aşağıdakilerden hangisine ulaşılabilir?

- A) Osmanlı halkının Hristiyanlardan oluştuğuna
- B) Ülkede adil bir yönetimin uygulandığına
- C) Farklılıklara saygı gösterildiğine
- D) Padişaha saygı duyulduğuna

4. (2014 İOKBS)

“Yahudilerin toptan öldürüldüğü, Engizisyon Mahkemelerinin ölüm saçtığı bir devirde Osmanlılar, idareleri altındaki çeşitli dinlere bağlı kimseleri barış ve uyum içinde yaşıyorlardı.”

(Gibbons Osmanlı Devleti'nin Kuruluşu, s.22)

Gibbons'un sözlerinden hareketle, Osmanlı toplumu hakkında, aşağıdakilerden hangisi söylenemez?

- A) Hoşgörü kültürü gelişmiştir.
- B) İnanç birliği kurulmuştur.
- C) Din hürriyeti hayat bulmuştur.
- D) Birlikte yaşama fikri oluşmuştur.



Küre Yatılı Bölge Ortaokulu/Kastamonu 7. Sınıf
(İOKBS Soruları)

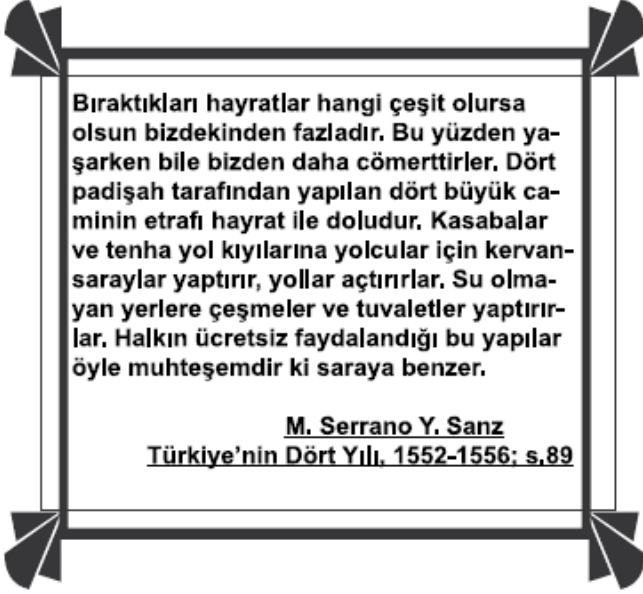


SOSYAL BİLGİLER

2. Ünite: Türk Tarihinde Yolculuk

Test 5-Seyyahların Gözüyle Osmanlı

5. (2014 İOKBS)



Seyyah Sanz'ın, Osmanlı ile ilgili bu anlatımından Türk kültürüne ait aşağıdaki unsurlardan hangisi çıkarılabilir?

- A) İyilikseverlik
B) Adaletlilik
C) Mütevazılık
D) Eşitlik

6. (2015 İOKBS)

Osmanlı Devleti'nden kalan bazı yapıların günümüzde de kullanılıyor olmasını aşağıdakilerden hangisiyle açıklayabiliriz?

- A) Yenileşme çabalarına önem verilmesiyle
B) Yerli malı kullanımının teşvik edilmesiyle
C) Türk mimari eserlerinin sağlam ve kullanışlı olmalarıyla
D) Osmanlı mimarisinde kullanılan süslemelerin canlılığıyla

7. (2020 İOKBS)

Konuşan sözünü pek kısa tutar, dinleyen de söz bitene kadar güzel bir dikkat hâlinindedir. Yaşlı ve büyüklere karşı hürmet ile onların haklarına riayet, hayal edilemeyecek bir nezaket içindedir.

Bu metinde Osmanlı kültürünün özelliklerinden hangisi vurgulanmıştır?

- A) Dayanışma
B) Saygı
C) Temizlik
D) Çalışkanlık

Test 5-Seyyahların Gözüyle Osmanlı Cevap Anahtarı (7. Sınıf)
(İOKBS Soruları)
1.C 2.B 3.A 4.B 5.A 6.C 7.B