



SOSYAL BİLGİLER

2. Ünite: Türk Tarihinde Yolculuk

Test 1-Bir Devlet Doğuyor

1. (2009 SBS)

Osmanlılar, Rumeli ve Balkanlarda fethet-  
tikleri yerlere Anadolu'dan getirdikleri ko-  
nar göçer Türkmenleri yerleştirmişlerdir.  
Size göre Osmanlıların bu uygulamasının  
amacı ne olabilir?



A)

Balkanlı ulusları  
Müslüman olmaya  
zorlamak



Erdoğan

B)

Rumeli ile Anadolu  
arasında sosyal ilişki-  
leri geliştirmek



Yasemin

C)

Fethedilen yerlerde  
kalıcı egemenlik  
kurmak



Ömer

D)

Türlere karşı Haçlı  
ordusu oluşturulma-  
sını önlemek



Nurgül

2. (2009 SBS)

Osmanlı Beyliği'nin kısa sürede genişlemesinin  
sebeplerinden bazıları şunlardır:

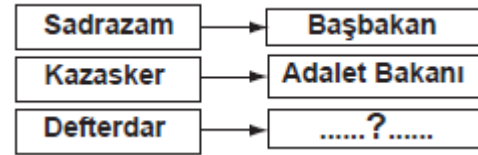
- ① Moğollardan kaçan birçok Oğuz boyunun  
Osmanlılara katılması
- ② Komşu Türk beylikleriyle barış içinde  
kalmaya önem vermesi
- ③ Yöneticilerinin yetenekli olması
- ④ Taht kavgaları ve iç karışıklıklar içinde  
bulunan Bizans sınırında kurulması

Kaç numaralı kutuda verilen bilgi ile Osmanlı  
Beyliği'nin kısa sürede genişlemesinde **coğrafi  
konumunun önemi** belirtilmiştir?

- A) 1 B) 2 C) 3 D) 4

3. (2009 SBS)

Aşağıdaki şemada bazı divan üyelerinin günümüzde  
hangi bakanlıklarla benzerlik gösterdiği belirtilmiştir.



Buna göre şemadaki **boş yere**, aşağıdakilerden  
hangisi yazılabilir?

- A) Hazine ve Maliye Bakanı  
B) İçişleri Bakanı  
C) Millî Eğitim Bakanı  
D) Millî Savunma Bakanı

**NOT:** Seçeneklerde güncelleme yapılmıştır.



Serinhisar Kocapınar Ortaokulu/DENİZLİ -7. Sınıf  
(SBS ve İOKBS Soruları)



SOSYAL BİLGİLER

2. Ünite: Türk Tarihinde Yolculuk

Test 1-Bir Devlet Doğuyor

4. (2010 SBS)



Bu konuşma ile kendini tanıtan **Osmanlı askeri**, aşağıdakilerden hangisidir?

- A) Akıncı B) Yeniçeri  
C) Levent D) Tımarlı sipahi

5. (2011 SBS)



Yukarıda görevi tanımlanan **divan üyesi** aşağıdakilerden hangisidir?

- A) Nişancı B) Kazasker  
C) Defterdar D) Sadrazam

6. (2012 İOKBS)

Aşağıdakilerden hangisi, Tımar (İkta) sisteminin yararları arasında **gösterilemez**?

- A) Özel mülkiyetin gelişmesi  
B) Taşrada güvenliğin sağlanması  
C) Üretimin, denetim altına alınması  
D) Hazineye yük olmadan donanımlı bir ordu oluşturulması

7. (2012 İOKBS)

Osmanlı Beyliği'nin Bizans sınırında kurulması, aşağıdakilerden hangisi üzerinde **doğrudan** etkili olmuştur?

- A) Haçlı Seferlerinin yapılmasında  
B) Bizans'la iyi ilişkiler kurulmasında  
C) Anadolu Türk birliğinin sağlanmasında  
D) Osmanlıların batı yönünde genişlemesinde

8. (2012 İOKBS)

Aşağıdakilerden hangisi, **atlı askerlerden** oluşan askerî sınıftır?

- A) Yeniçeriler B) Leventler  
C) Tımarlı sipahiler D) Humbaracılar

9. (2013 İOKBS)

"Osmanlı toprak yönetiminde uygulanan Tımar Sistemi'nin işleyişinde görevli olan tımarlı sipahi, bulunduğu bölgede devletin kanunlarını da uygulardı."

Parçada, Tımar Sistemi'nin hangi **alandan** rol oynadığına vurgu yapılmaktadır?

- A) Ticaret B) Tarım  
C) Kültür D) Yönetim



Serinhisar Kocapınar Ortaokulu/DENİZLİ -7. Sınıf  
(SBS ve İOKBS Soruları)



SOSYAL BİLGİLER  
2. Ünite: Türk Tarihinde Yolculuk

Test 1-Bir Devlet Doğuyor

10. (2013 İOKBS)

Orhan Bey, Bursa'nın fethinden sonra Rumlara şehri teslim etmelerinin sebebini sorduğu zaman onlardan şu cevabı aldı:

“-Sizin devletinizin günden güne büyüdüğünü ve bizim devletimizin zayıfladığını anladık. Babanızın idaresine geçen köylülerin memnun kalıp bizi anmadıklarını gördük. Biz de bu rahatlığa heves ettik.”

Rumların cevabı, Osmanlı'nın kısa zamanda büyümesini sağlayan aşağıdaki nedenlerden hangisi ile ilişkilendirilebilir?

- A) Kurulduğu bölgenin coğrafi konumu
- B) Adaletli ve hoşgörülü politika izlenmesi
- C) Güçlü bir merkezî yönetime sahip olması
- D) Başarılı bir iskân siyasetinin uygulanması

11. (2014 İOKBS)



Verilen durum, Osmanlı Beyliği'nin güçlenmesini sağlayan aşağıdaki faktörlerden hangisiyle ilişkilendirilebilir?

- A) Adalet anlayışıyla
- B) Hoşgörü fikriyle
- C) İskân politikasıyla
- D) Yöneticilerin yeteneğiyle

12. (2015 İOKBS)

“Devletli sultanımın yardımıyla Rumeli fethedilmeye başlandı. Düşman zayıftır. Bu tarafta fethedilen hisarlara koymaya çok adam gerek. Lütfedip bana yarar yoldaş gönderiniz.”

**Süleyman Paşa**

Orhan Bey'in oğlu Süleyman Paşa, babasından bu isteğiyle aşağıdakilerden hangisini amaçlamış olabilir?

- A) Fethedilen toprakların kalıcı olmasını sağlamayı
- B) Rumeli'deki Türk nüfus yoğunluğunu azaltmayı
- C) Osmanlı ordusunu güçlendirmeyi
- D) Devletin ekonomisini geliştirmeyi

13. (2016 İOKBS)

Osmanlı toprak yönetiminde uygulanan tımar sisteminde tımarlı sipahiler, bölgelerinde huzur ve güveni sağlayarak jandarma görevini üstleniyorlardı. Böylece devlet otoritesi, ülkenin en uç noktalarına kadar ulaşıyordu.

Yukarıda verilen bilgide tımar sisteminin hangi alanda rol oynadığı belirtilmiştir?

- A) Ticari ilişkilerde
- B) Ülke yönetiminde
- C) Kültürel etkinliklerde
- D) Tarımsal faaliyetlerde

14. (2016 İOKBS)

Osmanlı Devleti'nde devlet işleri Divanıhümayun adı verilen bir kurulda görüşülüp karara bağlanırdı. Divanda devlet işleriyle ilgili alınan kararların İslam dinine uygun olup olmadığına divan üyelerinden Şeyhülislam karar verirdi.

Bu bilgilere göre Osmanlı devlet yönetimiyle ilgili olarak aşağıdaki sonuçlardan hangisi çıkarılabilir?

- A) Yargıda örfi hukuk geçerlidir.
- B) Devlet yönetiminde din kuralları etkilidir.
- C) Divana bütün halkın başvurma hakkı vardır.
- D) Devlet yönetiminde padişah tek başına hareket etmektedir.



Serinhisar Kocapınar Ortaokulu/DENİZLİ -7. Sınıf  
(SBS ve İOKBS Soruları)

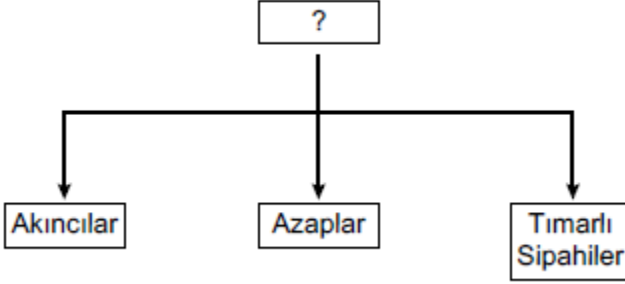


SOSYAL BİLGİLER

2. Ünite: Türk Tarihinde Yolculuk

Test 1-Bir Devlet Doğuyor

15. (2017 İOKBS)



Şemaya hangi **başlık** verilmelidir?

- A) Deniz Kuvvetleri  
C) Topçu Ocağı  
B) Cebeci Ocağı  
D) Eyalet Askerleri

16. (2018 İOKBS)

Aşağıdakilerden hangisi Osmanlı hükümdarlarından **biri değildir**?

- A) Yıldırım Beyazıt  
C) Alaaddin Keykubat  
B) Orhan Bey  
D) II. Murat

17. (2019 İOKBS)

Aşağıdakilerden hangisi Osmanlı Beyliği'nin Söğüt ve çevresini yurt edinmesinin sağladığı **siyasi** avantajlardan biri **değildir**?

- A) Kurulduğu dönemde çevresinde güçlü bir devletin olmayışı  
B) Ticari açıdan gelişmiş şehir ve kasabalara komşu bulunması  
C) Etrafındaki tekfurlarının birbiriyle mücadele hâlinde olması  
D) Bizans İmparatorluğu'nun iç karışıklıklarla uğraşması

18. (2019 İOKBS)

Osmanlı nüfusunun önemli bir kısmı köylerde yaşarlardı. Konargöçerler çoğunlukla hayvancılıkla, köylüler ise daha çok tarım ile uğraşırlardı. Köylülerin büyük çoğunluğu devletin kendilerine tahsis ettiği çiftlikleri işleten ailelerden oluşmaktaydı.

Bu metindeki bilgiye getirilebilecek **uygun başlık** aşağıdakilerden hangisidir?

- A) Osmanlı Devleti'nin Askerî Yapısı  
B) Osmanlı Divan Teşkilatı  
C) Osmanlı Devleti'nin Toplumsal ve Ekonomik Yapısı  
D) Osmanlı İskân Politikası

19. (2020 İOKBS)

Osmanlı Devleti'nde toplum, yönetenler ve yönetilenler olmak üzere ikiye ayrılmaktaydı. Yönetenler; askerî, idari, siyasi ve dinî yetkilere sahip devlet görevlileriydi.

Bu bilgilere göre aşağıdakilerden hangisi **yönetenler** arasında **yer almaz**?

- A) Sancak beyi  
C) Tımarlı sipahi  
B) Kadı  
D) Esnaf

20. (2020 İOKBS)

Osmanlı Beyliği'nin kısa sürede güçlenmesini sağlayan aşağıdaki nedenlerden hangisi **kurulduğu bölgenin** sağladığı avantajlardan biridir?

- A) Yetenekli padişahların iş başına gelmesi  
B) Bizans'ın ve Balkanların karışıklık içinde olması  
C) Adaletli bir yönetim uygulanması  
D) Merkeziyetçi bir devlet anlayışının benimsenmesi



Serinhisar Kocapınar Ortaokulu/DENİZLİ -7. Sınıf  
(SBS ve İOKBS Soruları)



SOSYAL BİLGİLER

2. Ünite: Türk Tarihinde Yolculuk

Test 1-Bir Devlet Doğuyor

21. (2020 İOKBS)

Aşağıdakilerden hangisi Osmanlı Devleti'nin uyguladığı "İskân Politikası"nın askerî amaçlarından biridir?

- A) İssız ve terk edilmiş yerlerde Türk şehirleri oluşturmak
- B) Rumeli'deki boş arazileri ekilip biçilen tarlalar hâline dönüştürmek
- C) Fethedilen yerlere Türk nüfusu yerleştirerek yeni fetihlere zemin hazırlamak
- D) İskân edilen topraklardan vergi geliri elde etmek

22. (2021 İOKBS)

Osmanlı Devleti'nde tımar sistemi ile toprağın kullanımı halka, denetimi ise tımarlı sipahilere verilmiştir. Bu sistemde üretimde devamlılık sağlanmıştır. Halk, ürettiği ürünün vergisini tımarlı sipahiye vermiştir. Sipahiler ise çiftçilerin ve tımarların asayişinden sorumlu tutulmuştur.

Bu bilgilere göre aşağıdakilerden hangisi tımar sisteminin faydalarından biri değildir?

- A) Toprağın mülkiyetinin halka verilmesi
- B) Vergilerin düzenli olarak toplanması
- C) Tarımsal üretime süreklilik kazandırması
- D) Bölgenin güvenliğinin sağlanması

23. (2021 İOKBS)

Osmanlı Devleti'nde yönetici ve askerî sınıf dışında kalan kesime "reaya" denilirdi.

Bu bilgiye göre aşağıdakilerden hangisi reaya sınıfında yer almaz?

- A) Tüccarlar
- B) Vezirler
- C) Esnaf
- D) Konargöçerler

24. (2022 İOKBS)

Türkiye Selçuklu Devleti'nin Moğollara Köseadağ Savaşı'nda yenilmesi, Selçukluların otoritesini sarsmış ve bundan dolayı Anadolu'da birçok Türkmen beyliği bağımsızlığını ilan etmiştir.

Bu durum, aşağıdakilerden hangisinin göstergesidir?

- A) Bizans'ın Anadolu'daki hâkimiyetinin zayıfladığının
- B) Anadolu Türk siyasi birliğinin bozulduğunun
- C) Moğol ilerleyişine karşı Haçlı birliğinin kurulduğunun
- D) Türkmenler arasında gaza ve cihat anlayışının sona erdiğinin

25. (2023 İOKBS)

Halil İnalçık, Osmanlı Beyliği'nin kuruluşu ile ilgili şunları söylemiştir:

"Koyunhisar Zaferi ile Osman Bey, bütün bölgedeki alplerin, ahilerin, bütün Türkmen halkın gözünde karizmatik bir gazi, bey durumuna yükselmiştir. Bu sebeple biz, beyliğin gerçek kuruluş tarihini 27 Temmuz 1302 olarak kabul edebiliriz."

Buna göre, Halil İnalçık Osmanlı Beyliği'nin kuruluşunun aşağıdakilerden hangisine bağlı olduğunu savunmaktadır?

- A) Askerî alandaki başarısına
- B) Jeopolitik konumuna
- C) Ekonomik bağımsızlığına
- D) Diplomatik ilişkilerine

26. (2023 İOKBS)

Orhan Bey zamanında Karesioğulları Beyliği'nin, Osmanlı topraklarına katılmasıyla, Osmanlı Devleti ilk kez bir donanmaya sahip olmuş ve zamanla donanmasını geliştirerek askerî gücünü artırmıştır.

Bu gelişmeler, Osmanlı Devleti'nin hangi alanda ilerlediğini gösterir?

- A) Mimari
- B) Denizcilik
- C) Ticaret
- D) Sanat

Mehmet ÖZKÜZ





Serinhisar Kocapınar Ortaokulu/DENİZLİ -7. Sınıf  
(SBS ve İOKBS Soruları)



SOSYAL BİLGİLER  
2. Ünite: Türk Tarihinde Yolculuk

Test 1-Bir Devlet Doğuyor

27. (2023 İOKBS)

Osmanlı Devleti'nde yönetilenlere "reaya" adı verilirdi. **Buna göre, aşağıdakilerden hangisi reaya sınıfından değildir?**

- A) Tüccar B) Esnaf  
C) Köylü D) Yeniçeri

28. (2023 İOKBS)

Osman Bey, Anadolu'daki diğer Türkmen beyleriyle mücadeleye girişmeyerek akıllıca bir politika izlemiştir. Bu davranışının olumlu neticesini Koyunhisar Savaşı (1302) sırasında görmüştür. Osman Bey, Bizans kuvvetlerine karşı çevresindeki Türkmen beylerinden yardım istediği zaman Türkmen beyleri onun yardım isteğine olumlu cevap vermişler ve yardım göndermişlerdir.

**Buna göre, Osmanlı Beyliği ile ilgili aşağıdakilerden hangisi söylenebilir?**

- A) Bizans'ın Anadolu'daki siyasi varlığına son vermiştir.  
B) Bizans'a karşı komşu beyliklerle ortak hareket etmiştir.  
C) Anadolu'daki Türk beyliklerini kendi topraklarına katmıştır.  
D) Düzenli bir ordu teşkilatı kurmayı başarmıştır.

Mehmet ÖZKÜZ

**Test 1-Bir Devlet Doğuyor Cevap Anahtarı (7. Sınıf)**  
**(SBS ve İOKBS Soruları)**

1.C 2.D 3.A 4.B 5.A 6.A 7.D 8.C 9.D 10.C 11.A 12.A 13.B 14.B 15.D 16.C 17.B 18.C 19.D 20.B 21.C 22.A 23.B 24.B 25.A 26.B 27.D 28.B




Serinhisar Kocapınar Ortaokulu/DENİZLİ -7. Sınıf  
(SBS ve İOKBS Soruları)



**SOSYAL BİLGİLER**  
2. Ünite: Türk Tarihinde Yolculuk

Test 2-Osmanlı Fetih Siyaseti

1. (2008 SBS)



Yukarıda Osmanlı Döneminden günümüze kadar varlığını devam ettiren değişik dinlere ait bazı ibadet yerlerinin temsilî resimleri verilmiştir.

Bu resimlerden yola çıkarak Osmanlı toplumu için aşağıdakilerden hangisi söylenemez?

- A) Farklı kültürler bir arada yaşamıştır.
- B) İnanç ve ibadet hürriyeti sağlanmıştır.
- C) Adaletli ve hoşgörülü bir yönetim uygulanmıştır.
- D) İbadet hayatı yalnızca İslamiyet'e göre yaşanmıştır.

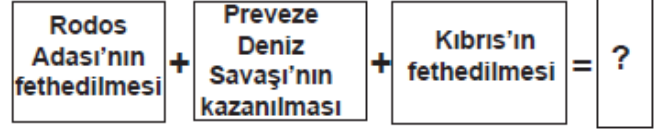
2. (2008 SBS)



Yukarıda verilen şemada “?” ile gösterilen yere, aşağıdakilerden hangisi yazılabilir?

- A) Maltepe (Pelekanon) Savaşı
- B) Varna Savaşı
- C) Ankara Savaşı
- D) Otlukbeli Savaşı

3. (2009 SBS)



Verilen diyagramda “?” ile gösterilen yere aşağıdakilerden hangisi getirilebilir?

- A) Boğazlar Türk egemenliğine girmiştir.
- B) Haçlılar Türkleri yenilgiye uğratmıştır.
- C) Akdeniz'de Türk egemenliği güçlenmiştir.
- D) Barbaros Hayrettin Paşa Kaptan-ı Derya olmuştur.

4. (2010 SBS)

Aşağıdakilerden hangisi İstanbul'un fethiyle Osmanlı Devleti'nin ekonomik kazanç elde ettiğinin göstergesi olamaz?

I- Önemli ticaret yollarının İstanbul ve Çanakkale boğazlarından geçmesi

II- Bizans'ın Karadeniz ticaret yolundan vergi alması

III- İstanbul'daki Hristiyan bilim adamlarının İtalya'ya göç etmesi

- A) Yalnız I
- B) Yalnız III
- C) I ve II
- D) II ve III

5. (2011 SBS)



diyen Aykız, aşağıdakilerden hangisini bu görüşüne örnek gösteremez?

- A) Niğbolu Savaşı
- B) Ankara Savaşı
- C) Varna Savaşı
- D) I. Kosova Savaşı





Serinhisar Kocapınar Ortaokulu/DENİZLİ -7. Sınıf  
(SBS ve İOKBS Soruları)

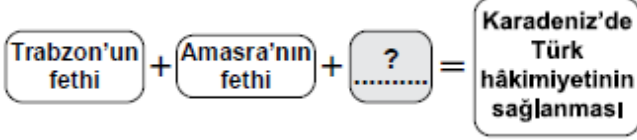


SOSYAL BİLGİLER

2. Ünite: Türk Tarihinde Yolculuk

Test 2-Osmanlı Fetih Siyaseti

6. (2011 SBS)



Şemada “?” ile boş bırakılan yere aşağıdakilerden hangisi yazılabilir?

- A) Rodos'un fethi B) Belgrad'ın fethi  
C) Mısır'ın fethi D) Kırım'ın fethi

7. (2012 İOKBS)

Aşağıdakilerden hangilerinin fethi, Karadeniz'de ticaretin Osmanlıların denetimine girmesini sağlamıştır?

- I. Amasra  
II. Kıbrıs  
III. Trabzon

- A) I ve II B) I ve III  
C) II ve III D) I, II ve III

8. (2013 İOKBS)

Fatih Sultan Mehmet;

- Cenevizlilerden Amasra'yı almış,
- Trabzon İmparatorluğu'na son vermiş,
- Kırım'ı Osmanlı'ya bağlamıştır.

Fatih Sultan Mehmet'in bu faaliyetleri, Osmanlı Devleti'nin en çok hangi alanda gelişmesine katkı sağlamıştır?

- A) Sanat B) Tarım  
C) Bilim D) Ticaret

9. (2013 İOKBS)

“Tarih boyunca İstanbul, önemli kara ve deniz ticaret yolları üzerinde bulunuyordu.”

Verilen bu bilgi doğrultusunda, İstanbul'un fethi Osmanlı Devleti'ne daha çok hangi alanda katkı sağlamıştır?

- A) İdari B) Siyasi  
C) Ekonomik D) Askerî

10. (2014 İOKBS)

Osmanlı Devleti; Anadolu, Suriye ve Mısır bölgelerine egemen olduğunda, bu bölgeler için stratejik ve merkezî bir üs konumunda olan Kıbrıs Adası, Venedik'in idaresinde bulunuyordu. Bu yıllarda ada, Doğu Akdeniz'de Hristiyanların kalesi durumundaki tek yerleşim yeri idi. Ayrıca Kıbrıs kralı zaman zaman, Osmanlı aleyhine kurulan ittifaklara da yardımlarda bulunuyordu.

Verilen bilgidен hareketle Kıbrıs'ın fethinin, Osmanlı Devleti'ne;

- I. dinî II. iktisadi  
III. siyasi IV. askerî

alanların hangilerinde katkı sağladığı söylenebilir?

- A) I ve II B) II ve III  
C) III ve IV D) I, III ve IV

11. (2015 İOKBS)

Osmanlı Devleti içinde farklı etnik ve dinî unsurlar bulunmaktaydı. Örfi hukuk, bu farklı unsurların duyarlılıklarını gözeten bir hukuk sistemiydi.

Osmanlı Devleti'nde bu örfi hukukun uygulanması aşağıdakilerden hangisinin kanıtıdır?

- A) Osmanlı Devleti'nde hukuk birliğinin sağlandığının  
B) Osmanlı Devleti'nin farklı kültürlerden etkilendiğinin  
C) Farklı unsurların Osmanlı Devleti üzerinde etkili olduğunun  
D) Osmanlı Devleti'nde hoşgörü ve birlikte yaşama fikrinin geliştiğinin



Serinhisar Kocapınar Ortaokulu/DENİZLİ -7. Sınıf  
(SBS ve İOKBS Soruları)



SOSYAL BİLGİLER

2. Ünite: Türk Tarihinde Yolculuk

Test 2-Osmanlı Fetih Siyaseti

12. (2015 İOKBS)

Yapılan fetihler sonunda önemli kara ve deniz ticaret yollarının Osmanlı Devleti'nin eline geçmesi, aşağıdaki alanlardan hangisine katkı sağlamamıştır?

- A) Ekonomi B) Siyaset  
C) Askeriye D) Din

13. (2016 İOKBS)

Osmanlı Devleti'nin fethettiği şehirlerde farklı dinlere ait ibadet yerleri varlığını devam ettirmiştir. Egemenliği altındaki gayrimüslimler dinlerini serbestçe yaşamışlardır.

Bu durum, Osmanlıların aşağıdakilerden hangisine önem verdiğine kanıt olarak gösterilebilir?

- A) Din birliğine  
B) Farklı dinleri tanımaya  
C) Kültürlerini kabul ettirmeye  
D) İnançlara hoşgörü ile yaklaştıklarına

14. (2017 İOKBS)

- I. Trabzon  
II. Kırım  
III. Kıbrıs

Numaralanmış yerlerden hangilerinin fethi, Karadeniz'de Türk hâkimiyetini güçlendirmiştir?

- A) Yalnız I. B) Yalnız II.  
C) I ve II. D) II ve III.

15. (2017 İOKBS)

Aşağıdakilerden hangisi Orhan Bey dönemi (1324-1362) olaylarından değildir?

- A) Bursa'nın fethi  
B) Fetret Devri'nin başlaması  
C) Türklerin Rumeli'ye geçmesi  
D) Orduda yaya ve müselleme birliklerinin oluşturulması

16. (2018 İOKBS)

- I. Rodos Adasının Fethi  
II. Ridaniye Savaşı  
III. İstanbul'un Fethi

15. soruda ve seçeneklerde değiştirme yapılmıştır.

Verilen olayların kronolojik sıralaması aşağıdakilerden hangisidir?

- A) I-II-III B) I-III-II  
C) III-I-II D) III-II-I

17. (2018 İOKBS)

Osman Bey, oğlu Orhan Gazi'ye; "İlim ehli insanlara rağbet et, askerine ve malına güvenip âlimlerden uzaklaşma!" diye vasiyet etmiştir.

Osman Bey'in bu sözleriyle önemini vurguladığı erdem, aşağıdakilerden hangisidir?

- A) Bilgi B) Hoşgörü  
C) Cesaret D) İyilikseverlik

18. (2018 İOKBS)

Osmanlılarda "Kaptan-ı Derya" unvanı verilen ilk denizci aşağıdakilerden hangisidir?

- A) Kemal Reis  
B) Oruç Reis  
C) Barbaros Hayrettin Paşa  
D) Kılıç Ali Paşa

19. (2019 İOKBS)

- Gelibolu Yarımadası'ndadır.  
-Batı seferlerinde üs olarak kullanılmıştır.  
-Osmanlı'nın Rumeli'deki ilk toprağıdır.

Bu bilgiler aşağıdakilerden hangisi ile ilgilidir?

- A) Rumeli Hisarı B) Çimpe Kalesi  
C) Yarhisar Kalesi D) Anadolu Hisarı



**SOSYAL BİLGİLER**  
**2. Ünite: Türk Tarihinde Yolculuk**

Test 2-Osmanlı Fetih Siyaseti

20. (2020 İOKBS)

Aşağıdakilerden hangisi İstanbul'un Fethi'nin "ekonomik" nedenlerindendir?

- A) Bizans'ın Osmanlı Devleti'nin batıda ilerleyişine engel olması
- B) İstanbul'un kara ve deniz ticaret yolları üzerinde önemli bir konumda bulunması
- C) Bizans'ın, Avrupa devletlerini Osmanlı Devleti'ne karşı kışkırtması
- D) Osmanlı Devleti'nin Anadolu ve Rumeli toprakları arasındaki bağlantıyı sağlamak istemesi

21. (2020 İOKBS)

Aşağıdakilerden hangisi Osmanlı Devleti'nin Haçlılarla yaptığı savaşlardan biri değildir?

- A) Ankara Savaşı
- B) I. Kosova Savaşı
- C) Varna Savaşı
- D) Niğbolu Savaşı

22. (2021 İOKBS)

Eskişehir'de kurulan bir pazarda bir Türk'ün Bizanslı tüccardan aldığı bardağın parasını ödememesi üzerine Osman Bey o kişiyi cezalandırarak Bizanslı tüccarın mağduriyetini gidermiştir.

Bu olay Osman Bey'in aşağıdakilerden hangisine verdiği önemi gösterir?

- A) Hoşgörüye
- B) Vatanseverliğe
- C) Cömertliğe
- D) Adaletle

23. (2022 İOKBS)

Aşağıdakilerden hangisi İstanbul'un Fethi'nin siyasi nedenlerinden biridir?

- A) İstanbul'un önemli ticaret yolları üzerinde olması
- B) Bizans'ın Osmanlı taht mücadelelerine karışması
- C) İstanbul'un Ortodoks mezhebinin merkezi olması
- D) Hazreti Muhammed (sav)'in hadisi

24. (2022 İOKBS)

Şeyh Edebali, Osmanlı Devleti'nin kurucusu olan Osman Gazi'ye "İnsanı yaşat ki devlet yaşasın." diyerek nasihatte bulunmuştur.

Aşağıdakilerden hangisi Osmanlıların bu nasihat doğrultusundaki uygulamalarından biri değildir?

- A) İrk ve din farkı gözetmeksizin adaletle dayalı bir yönetimin olması
- B) Gayrimüslim halka karşı hoşgörü politikasının benimsenmesi
- C) Fethedilen yerlere hastane, çeşme ve yol gibi yapıların inşa edilmesi
- D) Veraset sistemine göre Osmanlı şehzadelerine hükümdar olma hakkının verilmesi

25. (2023 İOKBS)

Kanuni Sultan Süleyman'ın Semendire kadısına gönderdiği fermanndan bir bölüm aşağıda verilmiştir. "Halktan kanuna aykırı vergi alındığı bana arz olundu. Bundan sonra halktan her kim olursa olsun, hangi makam sahibi olursa olsun kanuna aykırı bir nesne dahi alırtmayın. Sizin bu uygulamalara son vermediğiniz ve bu gibi olayları tarafıma bildirmediğinizi de duydum. Bu hükmüm size ulaştığında hemen sicil defterine kaydedin ve uygulamaya koyun."

Bu ferman, Kanuni Sultan Süleyman'ın aşağıdakilerden hangisine verdiği öneme kanıt olarak gösterilebilir?

- A) Eğitim-öğretime
- B) Din ve vicdan özgürlüğüne
- C) Adalet anlayışına
- D) Ordu gücüne



**SOSYAL BİLGİLER**

**2. Ünite: Türk Tarihinde Yolculuk**

**Test 2-Osmanlı Fetih Siyaseti**

**26. (2023 İOKBS)**

Osmanlı Devleti'nde sınırların genişlemesiyle birlikte farklı dil, din ve kültürden milletler bir arada yaşamaya başladı. Birbirinden farklı bu milletler 19. yüzyıla kadar barış ve huzur içinde beraberce yaşadılar.

**Buna göre, Osmanlı Devleti ile ilgili aşağıdakilerden hangisi söylenebilir?**

- A) Devşirme sistemini uyguladığı
- B) İskân politikasını uyguladığı
- C) Divan teşkilatını oluşturduğu
- D) Çok uluslu bir yapıya sahip olduğu

**27. (2023 İOKBS)**

**Yavuz Sultan Selim'in 1517 yılında gerçekleştirdiği Mısır Seferi sonucunda,**

- Osmanlı, İslam dünyasının koruyucusu oldu. Kutsal emanetler İstanbul'a getirildi.
- Baharat Yolu'nun önemli bir bölümü Osmanlı hâkimiyetine girdi.
- Memlûk Devleti'nin varlığına son verildi ve Osmanlı Devleti'nin sınırları Afrika'ya kadar genişledi.

**Bu bilgide, Mısır Seferi'nin aşağıdaki alanlardan hangisi ile ilgili sonucundan söz edilmemiştir?**

- A) Siyasi
- B) Dinî
- C) Ekonomik
- D) Bilimsel

**28. (2023 İOKBS)**

Osmanlı Devleti, Rumeli topraklarında yaptığı fetihler sonrasında verimli ve boş arazilere Türkleri yerleştirerek ekilip biçilen tarlalar oluşturdu. Bölgeye göç edenlerden bir süre vergi almazken gayrimüslimlerin de inançlarına, dinine ve geleneklerine müdahale etmedi. Ayrıca bu bölgelerde cami, medrese, han ve hamam gibi yapılar inşa etti.

**Bu metin, aşağıdakilerden hangisi ile ilişkilendirilemez?**

- A) Devşirme sistemi
- B) İskân politikası
- C) İstimalet politikası
- D) Hoşgörü anlayışı

**Test 2-Osmanlı Fetih Siyaseti Cevap Anahtarı (7. Sınıf)**

**(SBS ve İOKBS Soruları)**

**1.D 2.B 3.C 4.B 5.B 6.D 7.B 8.D 9.C 10.D 11.D 12.D 13.D 14.C 15.B 16.D 17.A 18.C 19.B 20.B 21.A 22.D 23.B 24.D 25.C 26.D 27.D  
28.A**



Serinhisar Kocapınar Ortaokulu/DENİZLİ -7. Sınıf  
(SBS ve İOKBS Soruları)



**SOSYAL BİLGİLER**  
2. Ünite: Türk Tarihinde Yolculuk

Test 3-Avrupa Geliyor, Osmanlı ve Diğer Devletler Etkileniyor

1. (2008 SBS)

Aşağıdaki diyagramda Sanayi İnkılabı sonucunda üretim teknolojisindeki gelişmelerin sosyal hayata etkileriyle ilgili bir süreç yer almaktadır:

1. Üretimde insan ve hayvan gücünün yerini makineler almıştır.
2. Üretim artmış ve insanların refah seviyesi yükselmiştir.
3. Yaşam koşullarının iyileşmesi ölüm oranını düşürmüştür.
4. ...?...

Diyagramdaki süreci tamamlayan en uygun ifade, aşağıdakilerden hangisidir?

- A) Nüfus artmış, işsizlik sorunu doğmuştur.
- B) Devletler arasında sömürgecilik yarışı başlamıştır.
- C) İşçi sınıfı ortaya çıkmış, sendikacılık girişimleri başlamıştır.
- D) Ham madde ve pazar bulma önemli sorun hâline gelmiştir.

2. (2009 SBS)

Ben Martin Luther!  
Matbaanın icat edilmesiyle  
çok sayıda İncil basıldı ve  
birçok dile çevrildi. İncil'i  
okuyunca rahiplerin bize dayattığı  
birçok inancın İncil'de olmadığını  
öğrendik.



Martin Luther'in sözünü ettiği durum, Avrupa'da meydana gelen;

- I. Coğrafi keşifler
- II. Reform
- III. Rönesans
- IV. Sanayi İnkılabı

gibi gelişmelerden hangisinin ya da hangilerinin ortaya çıkmasında doğrudan etkili olmuştur?

- A) Yalnız I
- B) Yalnız II
- C) III ve IV
- D) I, II ve IV

3. (2010 SBS)

Osmanlı Devleti'nin Fransız İhtilali sonucunda ortaya çıkan milliyetçilik akımından etkilenmesinin temel nedeni aşağıdakilerden hangisidir?

- A) Yeniliklere kapalı olması
- B) Ekonomisinin zayıf olması
- C) Yöneticilerinin yetersiz olması
- D) Çok uluslu bir yapıya sahip olması





Serinhisar Kocapınar Ortaokulu/DENİZLİ -7. Sınıf  
(SBS ve İOKBS Soruları)



SOSYAL BİLGİLER

2. Ünite: Türk Tarihinde Yolculuk

Test 3--Avrupa Gelişiyor, Osmanlı ve Diğer Devletler Etkileniyor

4. (2010 SBS)

OLAY	SONUCU
Coğrafi Keşifler	Yeni ticaret yollarının bulunması
Reform	Kiliseye güvenin azalması
Rönesans	..... ? .....

Yukarıdaki tabloda 15 ve 19. yüzyıllar arasında Avrupa'da yaşanan gelişmelere ait olay ve sonuçları eşleştirilerek verilmiştir.

Verilen eşleştirme tablosunda (?) ile belirtilen yere, aşağıdakilerden hangisi yazılmalıdır?

- A) Milliyetçilik hareketlerinin başlaması
- B) İşçi sınıfının ortaya çıkması
- C) Gözlem ve deneye dayalı bilginin önem kazanması
- D) Kol gücünün yerini makine gücünün alması

5. (2011 SBS)

Sanayi İnkılabının ortaya çıkardığı işçi sınıfının haklarını korumak amacıyla oluşturulan kuruluş, aşağıdakilerden hangisidir?

- A) Sendika
- B) Kooperatif
- C) Lonca
- D) Ahilik

6. (2012 İOKBS)

Sanayi İnkılabı sonucunda Avrupa'da fabrikalaşma başladı ve hızlı üretim artışı yaşandı.

Bu durumun Avrupa'da aşağıdakilerden hangisine yol açtığı söylenebilir?

- A) Sömürgeciliğe
- B) Coğrafi Keşiflere
- C) Demokratikleşmeye
- D) Rönesans Hareketlerine

7. (2012 İOKBS)

15 ve 17. yüzyıl boyunca Avrupa'da görülen reform hareketleri, öncelikle hangi alanda değişikliğe yol açmıştır?

- A) Din
- B) Sanat
- C) Ticaret
- D) Yönetim

8. (2014 İOKBS)

Avrupa'da sanayinin gelişmesiyle fabrikalar kurulmaya başladı. Sanayileşen ülkeler, üretimlerini artırmak için hem ham maddeye hem de yeni pazarlara ihtiyaç duydular. Bu nedenle geri kalmış Asya ve Afrika ülkelerini denetim altına almaya çalıştılar. Bu da sanayileşen ülkeler arasında rekabete neden oldu. Sömürge arayışı da denilen bu yarış, daha sonraki yıllarda I. Dünya Savaşı'nın çıkış nedenlerinden biri olmuştur.

Bu bilgide, I. Dünya Savaşı'nın çıkmasında etkili olan aşağıdaki nedenlerden hangisi vurgulanmıştır?

- A) Sosyal
- B) Dinî
- C) Kültürel
- D) Ekonomik

9. (2015 İOKBS)

Aşağıdakilerden hangisi Sanayi İnkılabı'yla ortaya çıkan işçi sınıfının sorunlarını çözmek ve haklarını korumak amacıyla kurulmuştur?

- A) Şirketler
- B) Sendikalar
- C) Kooperatifler
- D) Üniversiteler



**SOSYAL BİLGİLER**  
**2. Ünite: Türk Tarihinde Yolculuk**

Test 3-Avrupa Gelişiyor, Osmanlı ve Diğer Devletler Etkileniyor

**10. (2015 İOKBS)**

17.yüzyılda tarıma dayalı olan dünya ekonomisi yerini sanayileşme olgusuna bırakmaya başladı. Bu olgu ile birlikte siyasi, sosyal ve ekonomik alanda gelişmeler yaşandı.

**Aşağıdakilerden hangisi bu gelişmelerden biri değildir?**

- A) Üretimin hızlanması
- B) Kentlerde işçi sınıfının oluşması
- C) Ulaşım imkanlarının azalması
- D) Sanayileşmiş ülkelerin zenginleşmesi

**11. (2016 İOKBS)**

I. Tarım sektöründe insan gücüne dayalı üretimin yerini makineler alırken şehirlerde yeni kurulan fabrikalarda iş gücü ihtiyacı doğmuştur.

II. Şehirlerde nüfus hızla artmış ve günümüzün metropol denilen büyük şehirleri oluşmuştur.

III. Köylerde çalışan insanlar hızla şehirlere doğru göç etmişlerdir.

IV. Şehirlerde altyapı sorunları, çevre kirliliği ve çarpık kentleşme gibi sorunlar ortaya çıkmıştır.

**Sanayi İnkılabı'nın ortaya çıkardığı yukarıdaki gelişmelerin neden-sonuç ilişkisine göre sıralaması aşağıdakilerin hangisinde doğru verilmiştir?**

- A) I, II, III, IV
- B) II, III, I, IV
- C) I, III, II, IV
- D) III, IV, I, II

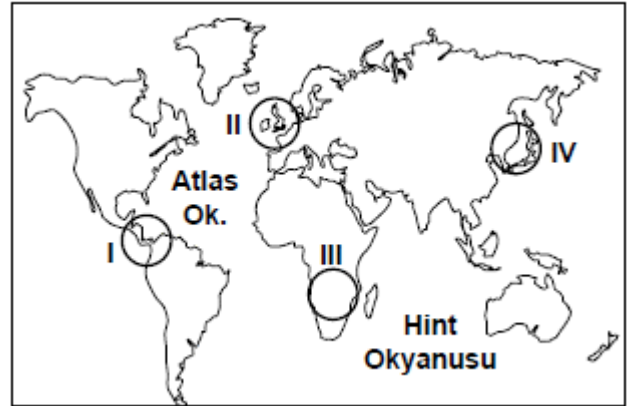
**12. (2016 İOKBS)**

Reform hareketleri sonucunda bazı Avrupa ülkelerinde Katolik Kilisesi'nden ayrılan din adamları yeni mezhepler kurmuşlardır.

**Bu bilgiye göre aşağıdaki yargılardan hangisine ulaşılamaz?**

- A) Kilisenin otoritesi sarsılmıştır.
- B) Kiliseye duyulan güven azalmıştır.
- C) Avrupa'da mezhep birliği bozulmuştur.
- D) Eğitim kilisenin denetiminden çıkmıştır.

**13. (2016 İOKBS)**



- Ham madde ihtiyacı arttı.
- Sanayi ürünlerinin üretimi arttı.
- İhtiyaç fazlası ürünleri satacak pazar arayışları başladı.

**Sanayi İnkılabı'nın sonucunda gerçekleşen yukarıdaki durumlar haritada numaralandırılarak verilen taralı alanlardan hangisinde ilk önce yaşanmıştır?**

- A) I
- B) II
- C) III
- D) IV



Serinhisar Kocapınar Ortaokulu/DENİZLİ -7. Sınıf  
(SBS ve İOKBS Soruları)



**SOSYAL BİLGİLER**  
2. Ünite: Türk Tarihinde Yolculuk

Test 3-Avrupa Geliyor, Osmanlı ve Diğer Devletler Etkileniyor

**14. (2016 İOKBS)**

Milliyetçilik akımının etkisiyle her milletin kendi devletini kurma çabası içine girmesi, bütün dünyada ve özellikle Avrupa'da siyasi ve sosyal düzenin değişmesine neden olmuştur.

**Bu gelişme, aşağıdakilerden hangisinin sonucudur?**

- A) Fransız İhtilalinin
- B) Coğrafi keşiflerin
- C) Sanayi İnkılabının
- D) Rönesans Hareketlerinin

**15. (2016 İOKBS)**

**Aşağıdakilerden hangisi Avrupa'da yaşanan Rönesans Dönemi'nin özelliğini yansıtmaz?**

- A) Sanat alanında gelişmelerin yaşanması
- B) Din adamlarına duyulan güvenin artması
- C) Özgür düşüncenin ön plana çıkması
- D) Bilimsel düşüncenin önem kazanması

**16. (2017 İOKBS)**

Coğrafi Keşifler sonucunda Baharat ve İpek Yolları önemini yitirdi.

**Bu durum Osmanlıları daha çok hangi alanda olumsuz etkilemiştir?**

- A) Dinî
- B) Sanatsal
- C) Kültürel
- D) Ekonomik

**17. (2018 İOKBS)**

**Sanayi İnkılabı ilk kez aşağıdaki ülkelerden hangisinde ortaya çıkmıştır?**

- A) İngiltere
- B) Fransa
- C) İtalya
- D) Almanya

**18. (2019 İOKBS)**

**Aşağıdakilerden hangisi Avrupalıların Coğrafi Keşifleri başlatmalarının dinî sebeplerinden biridir?**

- A) Coğrafya bilgisinin artması
- B) Gemi yapım tekniklerinde ilerlemeleri
- C) Yeni ticaret yolu aramak istemeleri
- D) Hristiyanlığı yaymak istemeleri

**19. (2019 İOKBS)**

**Aşağıdakilerden hangisi Sanayi İnkılabının sosyal alandaki sonuçlarından biridir?**

- A) Üretim alanı genişlemiştir.
- B) Üretilen ürün miktarı artmıştır.
- C) Çekirdek aile yaygınlaşmıştır.
- D) Bilime dayalı teknikler geliştirilmiştir.

**20. (2020 İOKBS)**

**Aşağıdakilerden hangisi Coğrafi Keşiflerin başlamasında etkili olan "bilimsel" sebeplerdendir?**

- A) Pusulanın kullanılmaya başlanması
- B) Avrupalıların Hristiyanlığı yaymak istemesi
- C) Avrupa'da altın ihtiyacının ortaya çıkması
- D) İpek ve Baharat yollarının Osmanlı hâkimiyetinde olması



Serinhisar Kocapınar Ortaokulu/DENİZLİ -7. Sınıf  
(SBS ve İOKBS Soruları)



SOSYAL BİLGİLER

2. Ünite: Türk Tarihinde Yolculuk

Test 3-Avrupa Geliyor, Osmanlı ve Diğer Devletler Etkileniyor

21. (2020 İOKBS)

Sanayi İnkılabı sonucunda şehirlerde çok sayıda fabrika kuruldu. Şehirler hızla artan fabrikaların işçi ihtiyacı nedeniyle göç alarak büyüdü. Daha iyi şartlarda yaşamak isteyen köylüler şehirlere göç etmeye başlayınca köylerde nüfus azalırken şehirlerde nüfus artışı gerçekleşti.

**Bu metinde Sanayi İnkılabının aşağıdaki alanlardan hangisine etkisi vurgulanmıştır?**

- A) Sosyal B) Dinî  
C) Bilimsel D) Siyasi

22. (2021 İOKBS)

Her konuda akla öncelik tanıyan düşünce sisteminin etkisiyle XVII. ve XVIII. Yüzyıllarda Avrupa'da bilim, sanat, felsefe ve siyaset alanlarında gelişmelerin yaşandığı döneme "Aydınlanma Çağı" denir. Bu dönemde bilimsel araştırmalara önem verilmiştir.

**Bu bilgilere göre Aydınlanma Çağı'nda yaşanan gelişmelerin aşağıdakilerden hangisinin temelini oluşturduğu söylenebilir?**

- A) Sanayi İnkılabı'nın  
B) Haçlı Seferleri'nin  
C) Reform Hareketleri'nin  
D) Coğrafi Keşifler'in

23. (2021 İOKBS)

**Fransız İhtilali'nin aşağıdaki sonuçlarından hangisi dünya siyasi haritasının değişmesinde etkisi olmuştur?**

- A) Soylulara tanınmış ayrıcalıklara son verilmesi  
B) Çok uluslu devletlerin yıkılıp yerine yeni devletlerin kurulması  
C) İnsan ve Yurttaş Hakları Bildirgesi'nin yayımlanması  
D) Vatandaşlar arasında eşitlik ilkesinin benimsenmesi

24. (2021 İOKBS)

**Aşağıdakilerden hangisi Sanayi İnkılabı'nın ekonomik alandaki sonuçlarından?**

- A) Köyden kente göçlerin artması  
B) İnsan ilişkilerinin zayıflaması  
C) Çekirdek aile yapısının yaygınlaşması  
D) Seri üretime geçilmesi

25. (2022 İOKBS)

**Aşağıdakilerden hangisi Coğrafi Keşiflerin başlamasında etkili olan ekonomik sebeplerdendir?**

- A) Avrupalıların yeni ticaret yolları bulmak istemeleri  
B) Avrupalıların Hristiyanlığı yaymak istemeleri  
C) Coğrafya bilgisinin artması ve pusulanın geliştirilmesi  
D) Okyanus şartlarına dayanıklı gemilerin yapılması

26. (2023 İOKBS)

On altıncı yüzyılda Avrupa'nın çeşitli ülkelerindeki Katolik Kilisesinde yapılan yenilik hareketlerine "Reform" adı verilir. Reform Hareketleri ilk olarak Almanya'da başlayıp daha sonra tüm Avrupa'ya yayıldı. Bunun sonucunda Osmanlı Devleti, Avrupa içlerine kadar kolaylıkla ilerleyebildi.

**Buna göre, Osmanlı Devleti'nin Avrupa'da ilerleyişinde aşağıdakilerden hangisi doğrudan etkili olmuştur?**

- A) Mezhep ayrılıklarının Haçlı birliğini parçalaması  
B) Soyluların kilise topraklarına el koyması  
C) Skolastik düşüncenin önemini kaybetmesi  
D) Din adamlarına duyulan güvenin azalması

**Test 3-Avrupa Gelişiyor, Osmanlı ve Diğer Devletler Etkileniyor Cevap Anahtarı (7. Sınıf)**  
**(SBS ve İOKBS Soruları)**

1.A 2.B 3.D 4.C 5.A 6.A 7.A 8.D 9.B 10.C 11.C 12.D 13.B 14.A 15.B 16.D 17.A 18.D 19.C 20.A 21.A 22.A 23.B 24.D 25.A 26.A

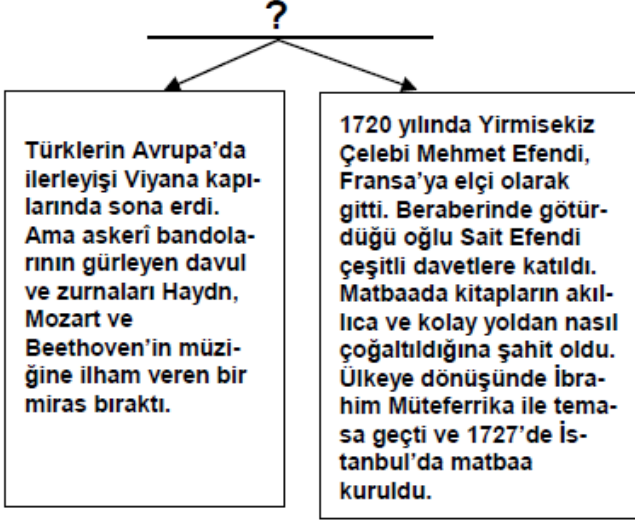


**SOSYAL BİLGİLER**

**2. Ünite: Türk Tarihinde Yolculuk**

Test 4-Osmanlı Devleti'nde İslahat Hareketleri

**1. (2008 SBS)**



Bu diyagrama verilebilecek en iyi başlık aşağıdakilerden hangisidir?

- A) Yenilikler ve Osmanlı Devleti
- B) Etkiledik, Etkilendik
- C) Farklı Kültürler Bir Arada Yaşadı
- D) Buluşların Serüveni

**2. (2008 SBS)**

Osmanlı Devleti'nde yapılan ıslahat hareketleri sonucunda;

- Matbaa kuruldu,
- Ziraat Bankası açıldı,
- Posta teşkilatı kuruldu.

Bu ıslahatlar, aşağıdaki alanların hangisinde değişim yaşandığına kanıt olamaz?

- A) Askerlik
- B) Ekonomi
- C) Kültür
- D) Haberleşme

**3. (2009 SBS)**



Sosyal Bilgiler öğretmenin bu sorusuna yukarıdaki öğrencilerden hangisi ya da hangileri doğru cevap vermiştir?

- A) Yalnız Betül
- B) Veli ve Betül
- C) Ayşegül ve Murat
- D) Veli ve Ayşegül





Serinhisar Kocapınar Ortaokulu/DENİZLİ -7. Sınıf  
(SBS ve İOKBS Soruları)



SOSYAL BİLGİLER

2. Ünite: Türk Tarihinde Yolculuk

Test 4-Osmanlı Devleti'nde İslahat Hareketleri

4. (2010 SBS)

Lale Devrinde, Osmanlı Devleti'nin Viyana, Paris ve Londra gibi başkentlere ilk kez elçi göndermesinin gerekçesi aşağıdakilerden hangisidir?

- A) Batı'dan borç para alabilmek
- B) Avrupa ülkeleri ile iyi ilişkiler kurmak
- C) Avusturya ile yapılan savaşlara son vermek
- D) Avrupa'daki gelişmeleri yakından izlemek

5. (2011 SBS)

19. yüzyılda Osmanlı Devleti'nde;

- Divan-ı Hümayun'un kaldırılarak Bakanlıkların kurulması
- İzmir-Aydın demiryolunun yapılması
- Ziraat Bankasının açılması

gibi yenilikler yapılmıştır.

Bu bilgilere göre, hangi **alanda** yenilik yapıldığı söylenemez?

- A) Ulaşım
- B) Yönetim
- C) Eğitim
- D) Ekonomi

6. ve 7. Soruların seçeneklerinde değiştirme yapılmıştır.

6. (2011 SBS)

Aşağıdakilerden hangileri Osmanlı Devleti'nde görülen **yönetim** kurumlarıdır?

- I. Kurultay
- II. Divan-ı Hümayun
- III. TBMM

- A) Yalnız I
- B) Yalnız II
- C) I ve III
- D) II ve III

7. (2012 İOKBS)

Aşağıdakilerden hangisi, Osmanlı Devleti'nde görülen **yönetim** kurumları arasında gösterilebilir?

- A) Kurultay
- B) Divan-ı Hümayun
- C) TBMM
- D) Şirket-i Hayriye

8. (2012 İOKBS)

II. Mahmut Dönemi'nde **Divan-ı Hümayun'un kaldırılarak bakanlıkların kurulması** hangi alanda **değişiklik** yaşandığını gösterir?

- A) Hukuk
- B) Yönetim
- C) Ekonomi
- D) Din

9. (2012 İOKBS)

- Lale Devrinde matbaanın kurulması
- II. Mahmut Döneminde ilk resmî gazete olan Takvim-i Vekâyî'nin yayımlanması

Yapılan bu ıslahatların, Osmanlı'da ortaya çıkaracağı **değişim**, aşağıdakilerden hangisidir?

- A) Fikir hayatının gelişmesi
- B) Askerî yapının değişmesi
- C) Merkezî otoritenin güçlenmesi
- D) Ekonomik büyümenin gerçekleşmesi

Mehmet ÖZKÜZ



Serinhisar Kocapınar Ortaokulu/DENİZLİ -7. Sınıf  
(SBS ve İOKBS Soruları)



SOSYAL BİLGİLER

2. Ünite: Türk Tarihinde Yolculuk

Test 4-Osmanlı Devleti'nde İslahat Hareketleri

10. (2015 İOKBS)

Aşağıdakilerden hangisi Osmanlı Devleti ile Avrupa'nın kültürel etkileşim içine girdiğine örnek gösterilemez?

- A) Matbaanın kurulması
- B) Divan teşkilatının oluşturulması
- C) Avrupa'da daimî elçiliklerin açılması
- D) Avrupa'dan askerî uzmanların getirilmesi

11. (2016 İOKBS)

Osmanlı ıslahat hareketleri sonucunda;

- Posta Nezareti kuruldu.
- Memleket Sandıkları oluşturuldu.
- Şirketihayriye kurularak İstanbul'da düzenli vapur seferleri başladı.

Bu ıslahatlarla;

- I. Eğitim
- II. Ulaşım
- III. Ekonomi
- IV. Haberleşme

alanlarından hangilerinde ülkenin ilerlemesi amaçlanmıştır?

- A) I ve IV
- B) I, II ve III
- C) II, III ve IV
- D) I, II, III ve IV

12. (2017 İOKBS)

18. yüzyılda yapılan

- I. Telgrafın kullanılması
- II. Şirketi Hayriyenin kurulması
- III. İzmir-Aydın arasında ilk demir yolu hattının Yapılması

ıslahatlarından hangileri haberleşme ile ilgilidir?

- A) Yalnız I.
- B) Yalnız II.
- C) I ve II.
- D) II ve III.

13. (2018 İOKBS)

Geleneksel Osmanlı ordu bandosuna - - - - - adı verilir.

Cümle aşağıdakilerden hangisiyle tamamlanmalıdır?

- A) Koro
- B) Orkestra
- C) Senfoni
- D) Mehter

14. (2018 İOKBS)

Aşağıdakilerden hangisi II. Mahmut dönemi ıslahatlarından biri değildir?

- A) İlk nüfus sayımının yapılması
- B) Ziraat Bankası'nın kurulması
- C) İlköğretimin zorunlu olması
- D) İlk resmî gazete olan Takvimivekayî'nin çıkarılması

15. (2019 İOKBS)

Aşağıdakilerden hangisi Lale Devri'nde eğitim ve kültür alanında yapılan yeniliklerden biridir?

- A) İlk matbaanın kurulması
- B) Çini fabrikasının açılması
- C) İtfaiye teşkilatının kurulması
- D) İlk kez çiçek aşısının uygulanması

16. (2020 İOKBS)

Osmanlı Devleti'nde;

- Takvim-i Vekâyi Gazetesi'nin çıkarılması,
- İlk Türkçe eser basan matbaanın kurulması,

gelişmeleri aşağıdaki alanların hangisi ile ilgilidir?

- A) Ekonomik
- B) Askerî
- C) Kültürel
- D) Mimar



**SOSYAL BİLGİLER**

**2. Ünite: Türk Tarihinde Yolculuk**

Test 4-Osmanlı Devleti'nde Islahat Hareketleri

**17. (2021 İOKBS)**

Aşağıdakilerden hangisi Osmanlı Devleti'nde matbaanın kurulmasıyla birlikte ortaya çıkan sonuçlardan biri değildir?

- A) Bilginin yayılmasının kolaylaşması
- B) Daha çok sayıda insanın kitaplardan yararlanması
- C) Kitap fiyatlarının ucuzlaması
- D) Avrupa başkentlerinde elçilikler açılması

**18. (2021 İOKBS)**

- I. Takvim- i Vekây-i gazetesinin çıkarılması
- II. Osmanlı Bankasının kurulması
- III. Viyana, Paris, Varşova, Moskova gibi Avrupa başkentlerinde geçici elçiliklerin açılması

Osmanlı Devleti'ndeki bu gelişmeler ile ilgili olduğu alanlar aşağıdakilerden hangisinde doğru eşleştirilmiştir?

- |             | I        | II       | III |
|-------------|----------|----------|-----|
| A) Kültürel | Ekonomik | Siyasi   |     |
| B) Siyasi   | Ekonomik | Kültürel |     |
| C) Kültürel | Siyasi   | Ekonomik |     |
| D) Ekonomik | Kültürel | Siyasi   |     |

Mehmet ÖZKÜZ

**19. (2023 İOKBS)**

Osmanlı Devleti, Lale Devri ile birlikte Batı kültürü ve kurumlarına ilgi duymaya başladı. Viyana, Paris, Varşova, Londra ve Moskova gibi şehirlerde geçici elçilikler açtı.

**Bu uygulamayla, Osmanlı Devleti aşağıdakilerden hangisini amaçlamıştır?**

- A) Yabancı devletlerden borç almayı
- B) Ülke sınırlarını genişletmeyi
- C) Avrupa'daki gelişmeleri yakından takip etmeyi
- D) Geleneksel devlet yönetimi anlayışını korumayı

**Test 4-Osmanlı Devleti'nde Islahat Hareketleri Cevap Anahtarı (7. Sınıf)**  
**(SBS ve İOKBS Soruları)**

**1.B 2.A 3.B 4.D 5.C 6.B 7.B 8.B 9.A 10.B 11.C 12.A 13.D 14.B 15.A 16.C 17.D 18.A 19.C**



**SOSYAL BİLGİLER**

**2. Ünite: Türk Tarihinde Yolculuk**

**Test 5-Kültürümle Varım**

**1. (2009 SBS)**

Türkler, Hristiyan ve Müslüman farkı gözetmeksizin adaleti herkese eşit olarak uyguladılar. Kadılar, Hristiyanları İncil, Yahudileri Tevrat üzerine yemin ettirirler.

Buna göre Osmanlı yönetiminin farklı dinden vatandaşlarına karşı tutumu ile ilgili olarak, aşağıdakilerden hangisi söylenemez?

- A) Hoşgörülü B) Eşitlikçi  
C) Baskıcı D) Adil

**2. (2013 İOKBS)**

19. yüzyılda Osmanlı topraklarından geçen seyyah Sanz, gördüklerini şu şekilde anlatmıştır:

“... Adalet ve hukuk yoluyla toplum düzenini sağlayan Türkler, Hristiyan ve Müslüman farkı gözetmeksizin adaleti herkese eşit olarak tatbik ederler. Belli başlı kadıların masalarında İncil ve Tevrat birlikte bulunur. Hristiyanları İncil, Yahudileri Tevrat üzerine yemin ettirirler...”

**(Sanz, Türkiye'nin Dört Yılı, sf: 93)**

Seyyah Sanz'ın anlatımından hareketle, Osmanlı toplum yaşamı ile ilgili olarak aşağıdakilerden hangisi söylenemez?

- A) Farklı inanç ve kültürler bir arada yaşamıştır.  
B) Osmanlı toplumu Türklerden oluşmuştur.  
C) Adalet ve hoşgörü anlayışı gelişmiştir.  
D) İnanç hürriyeti sağlanmıştır.

**3. (2013 İOKBS)**

“...İzmir'i, İstanbul'u, Suriye'yi, Lübnan'ı gezin; manastırlara, Hristiyan misafirhanelerine, mabetlere, erkekler ve kadınlar tarafından yönetilen hastane veya din okullarına girin ve içlerinden birinin imparatorluğa karşı saygı duyup duymadığını sorun. Hepsi birden, imparatorlukta uygulanan tarafsızlığı ve Sultan'ın adını takdis edeceklerdir...”

**(Lemartine; Aşiretten Devlete; sf:20)**

Parçada verilen bilgiden, aşağıdakilerden hangisine ulaşılabilir?

- A) Osmanlı halkının Hristiyanlardan oluştuğuna  
B) Ülkede adil bir yönetimin uygulandığına  
C) Farklılıklara saygı gösterildiğine  
D) Padişaha saygı duyulduğuna

**4. (2014 İOKBS)**

“Yahudilerin toptan öldürüldüğü, Engizisyon Mahkemelerinin ölüm saçtığı bir devirde Osmanlılar, idareleri altındaki çeşitli dinlere bağlı kimseleri barış ve uyum içinde yaşıyorlardı.”

**Gibbons Osmanlı Devleti'nin Kuruluşu, s.22**

Gibbons'un sözlerinden hareketle, Osmanlı toplumu hakkında, aşağıdakilerden hangisi söylenemez?

- A) Hoşgörü kültürü gelişmiştir.  
B) İnanç birliği kurulmuştur.  
C) Din hürriyeti hayat bulmuştur.  
D) Birlikte yaşama fikri oluşmuştur.

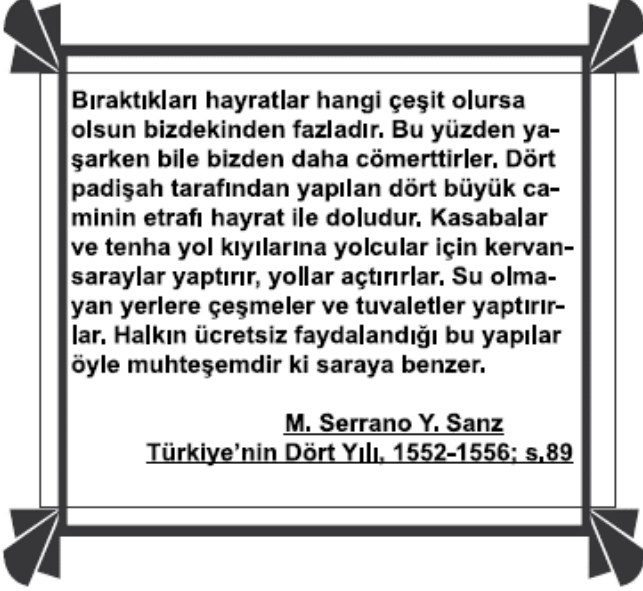


**SOSYAL BİLGİLER**

**2. Ünite: Türk Tarihinde Yolculuk**

Test 5-Kültürümle Varım

**5. (2014 İOKBS)**



Seyyah Sanz'ın, Osmanlı ile ilgili bu anlatımından Türk kültürüne ait aşağıdaki unsurlardan hangisi çıkarılabilir?

- A) İyilikseverlik
- B) Adaletlilik
- C) Mütevazılık
- D) Eşitlik

**6. (2015 İOKBS)**

Osmanlı Devleti'nden kalan bazı yapıların günümüzde de kullanılıyor olmasını aşağıdakilerden hangisiyle açıklayabiliriz?

- A) Yenileşme çabalarına önem verilmesiyle
- B) Yerli malı kullanımının teşvik edilmesiyle
- C) Türk mimari eserlerinin sağlam ve kullanışlı olmalarıyla
- D) Osmanlı mimarisinde kullanılan süslemelerin canlılığıyla

**7. (2020 İOKBS)**

Konuşan sözünü pek kısa tutar, dinleyen de söz bitene kadar güzel bir dikkat hâlinindedir. Yaşlı ve büyüklere karşı hürmet ile onların haklarına riayet, hayal edilemeyecek bir nezaket içindedir.

**Bu metinde Osmanlı kültürünün özelliklerinden hangisi vurgulanmıştır?**

- A) Dayanışma
- B) Saygı
- C) Temizlik
- D) Çalışkanlık

**8. (2022 İOKBS)**

Ünlü seyyah İbn-i Batuta, arkadaşlarıyla birlikte Denizli'den geçerken dükkânlarından çıkan bir ahi grubu, yollarını keserek kendileriyle beraber gelmelerini ister. Başka bir ahi grubunun da aynı yönde istekte bulunması üzerine gruplar arasında tartışma çıkar. İbn-i Batuta ve arkadaşları, ahilerin kendilerini misafir etmek için tartıştıklarını anlayınca çok şaşırırlar.

**Bu bilgide, ahilerin hangi özelliği vurgulanmıştır?**

- A) Çalışkanlık
- B) Tokgözlülük
- C) Dürüstlük
- D) Konukseverlik



**Test 5-Kültürümle Varım Cevap Anahtarı (7. Sınıf)**  
**(SBS ve İOKBS Soruları)**  
**1.C 2.B 3.A 4.B 5.A 6.C 7.B 8.D**