




Küre Yatılı Bölge Ortaokulu/Kastamonu 7. Sınıf  
(İOKBS Soruları)



SOSYAL BİLGİLER  
2. Ünite: Türk Tarihinde Yolculuk

Test 2-Osmanlı Devleti'nin Fetih Siyaseti

1. (2008 SBS)

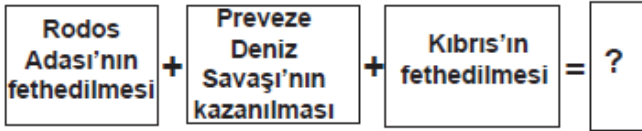


Yukarıda Osmanlı Döneminden günümüze kadar varlığını devam ettiren değişik dinlere ait bazı ibadet yerlerinin temsilî resimleri verilmiştir.

Bu resimlerden yola çıkarak Osmanlı toplumu için aşağıdakilerden hangisi söylenemez?

- A) Farklı kültürler bir arada yaşamıştır.
- B) İnanç ve ibadet hürriyeti sağlanmıştır.
- C) Adaletli ve hoşgörülü bir yönetim uygulanmıştır.
- D) İbadet hayatı yalnızca İslamiyet'e göre yaşanmıştır.

2. (2009 SBS)



Verilen diyagramda “?” ile gösterilen yere aşağıdakilerden hangisi getirilebilir?

- A) Boğazlar Türk egemenliğine girmiştir.
- B) Haçlılar Türkleri yenilgiye uğratmıştır.
- C) Akdeniz'de Türk egemenliği güçlenmiştir.
- D) Barbaros Hayrettin Paşa Kaptan-ı Derya olmuştur.

3. (2009 SBS)

Osmanlılar, Rumeli ve Balkanlarda fethet-  
tikleri yerlere Anadolu'dan getirdikleri ko-  
nar göçer Türkmenleri yerleştirmişlerdir.  
Size göre Osmanlıların bu uygulamasının  
amacı ne olabilir?



A)

Balkanlı ulusları  
Müslüman olmaya  
zorlamak



Erdoğan

B)

Rumeli ile Anadolu  
arasında sosyal ilişki-  
leri geliştirmek



Yasemin

C)

Fethedilen yerlerde  
kalıcı egemenlik  
kurmak



Ömer

D)

Türklerle karşı Haçlı  
ordusu oluşturulma-  
sını önlemek



Nurgül

Mehmet ÖZKÜZ



Küre Yatılı Bölge Ortaokulu/Kastamonu 7. Sınıf  
(İOKBS Soruları)



SOSYAL BİLGİLER

2. Ünite: Türk Tarihinde Yolculuk

Test 2-Osmanlı Devleti'nin Fetih Siyaseti

4. (2010 SBS)

Aşağıdakilerden hangisi İstanbul'un fethiyle Osmanlı Devleti'nin **ekonomik** kazanç elde ettiğinin göstergesi **olamaz**?

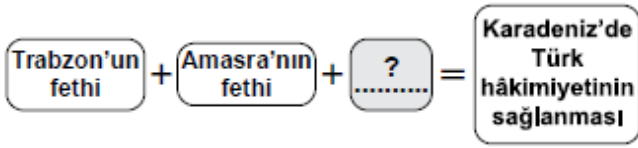
I- Önemli ticaret yollarının İstanbul ve Çanakkale boğazlarından geçmesi

II- Bizans'ın Karadeniz ticaret yolundan vergi alması

III- İstanbul'daki Hristiyan bilim adamlarının İtalya'ya göç etmesi

- A) Yalnız I  
B) Yalnız III  
C) I ve II  
D) II ve III

5. (2011 SBS)



Şemada “?” ile boş bırakılan yere aşağıdakilerden hangisi yazılabilir?

- A) Rodos'un fethi  
B) Belgrat'ın fethi  
C) Mısır'ın fethi  
D) Kırım'ın fethi

6. (2012 İOKBS)

Aşağıdakilerden hangilerinin fethi, **Karadeniz'de** ticaretin Osmanlıların denetimine girmesini sağlamıştır?

- I- Amasra  
II- Kıbrıs  
III- Trabzon

- A) I ve II  
B) I ve III  
C) II ve III  
D) I, II ve III

7. (2013 İOKBS)

Fatih Sultan Mehmet;

- Cenevizlilerden Amasra'yı almış,
- Trabzon İmparatorluğu'na son vermiş,
- Kırım'ı Osmanlı'ya bağlamıştır.

Fatih Sultan Mehmet'in bu faaliyetleri, Osmanlı Devleti'nin **en çok** hangi alanda gelişmesine katkı sağlamıştır?

- A) Sanat  
B) Tarım  
C) Bilim  
D) Ticaret

8. (2013 İOKBS)

Orhan Bey, Bursa'nın fethinden sonra Rumlara şehri teslim etmelerinin sebebini sorduğu zaman onlardan şu cevabı aldı:

“-Sizin devletinizin günden güne büyüdüğünü ve bizim devletimizin zayıfladığını anladık. Babanızın idaresine geçen köylülerin memnun kalıp bizi anmadıklarını gördük. Biz de bu rahatlığa heves ettik.”

**Rumların cevabı, Osmanlı'nın kısa zamanda büyümesini sağlayan aşağıdaki nedenlerden hangisi ile ilişkilendirilebilir?**

- A) Kurulduğu bölgenin coğrafi konumu  
B) Adaletli ve hoşgörülü politika izlenmesi  
C) Güçlü bir merkezî yönetime sahip olması  
D) Başarılı bir iskân siyasetinin uygulanması



Küre Yatılı Bölge Ortaokulu/Kastamonu 7. Sınıf  
(İOKBS Soruları)



**SOSYAL BİLGİLER**  
2. Ünite: Türk Tarihinde Yolculuk

Test 2-Osmanlı Devleti'nin Fetih Siyaseti

9. (2013 İOKBS)

"Tarih boyunca İstanbul, önemli kara ve deniz ticaret yolları üzerinde bulunuyordu."

Verilen bu bilgi doğrultusunda, İstanbul'un fethi Osmanlı Devleti'ne **daha çok** hangi alanda katkı sağlamıştır?

- A) İdari B) Siyasi  
C) Ekonomik D) Askerî

10. (2014 İOKBS)

Osmanlı Devleti; Anadolu, Suriye ve Mısır bölgelerine egemen olduğunda, bu bölgeler için stratejik ve merkezî bir üs konumunda olan Kıbrıs Adası, Venedik'in idaresinde bulunuyordu. Bu yıllarda ada, Doğu Akdeniz'de Hristiyanların kalesi durumundaki tek yerleşim yeri idi. Ayrıca Kıbrıs kralı zaman zaman, Osmanlı aleyhine kurulan ittifaklara da yardımlarda bulunuyordu.

Verilen bilgiden hareketle Kıbrıs'ın fethinin, Osmanlı Devleti'ne;

- I-dinî  
II-iktisadi  
III-siyasi  
IV-askerî

**alanların** hangilerinde katkı sağladığı söylenebilir?

- A) I ve II B) II ve III  
C) III ve IV D) I, III ve IV

11. (2015 İOKBS)

Osmanlı Devleti içinde farklı etnik ve dinî unsurlar bulunmaktaydı. Örfi hukuk, bu farklı unsurların duyarlılıklarını gözetten bir hukuk sistemiydi.

Osmanlı Devleti'nde bu **örfi hukukun uygulanması** aşağıdakilerden hangisinin kanıtıdır?

- A) Osmanlı Devleti'nde hukuk birliğinin sağlandığının  
B) Osmanlı Devleti'nin farklı kültürlerden etkilendiğinin  
C) Farklı unsurların Osmanlı Devleti üzerinde etkili olduğunun  
D) Osmanlı Devleti'nde hoşgörü ve birlikte yaşama fikrinin geliştiğini

12. (2015 İOKBS)

"Devletli sultanımın yardımıyla Rumeli fethedilmeye başlandı. Düşman zayıftır. Bu tarafta fethedilen hisarlara koymaya çok adam gerek. Lütfedip bana yarar yoldaş gönderiniz."

**Süleyman Paşa**

Orhan Bey'in oğlu Süleyman Paşa, babasından bu isteğiyle aşağıdakilerden hangisini **amaçlamış** olabilir?

- A) Fethedilen toprakların kalıcı olmasını sağlamayı  
B) Rumeli'deki Türk nüfus yoğunluğunu azaltmayı  
C) Osmanlı ordusunu güçlendirmeyi  
D) Devletin ekonomisini geliştirmeyi



Küre Yatılı Bölge Ortaokulu/Kastamonu 7. Sınıf  
(İOKBS Soruları)



SOSYAL BİLGİLER  
2. Ünite: Türk Tarihinde Yolculuk

Test 2-Osmanlı Devleti'nin Fetih Siyaseti

13. (2015 İOKBS)

Yapılan fetihler sonunda önemli kara ve deniz ticaret yollarının Osmanlı Devleti'nin eline geçmesi, aşağıdaki alanlardan hangisine katkı sağlamamıştır?

- A) Ekonomi B) Siyaset  
C) Askeriye D) Din

14. (2016 İOKBS)

Osmanlı Devleti'nin fethettiği şehirlerde farklı dinlere ait ibadet yerleri varlığını devam ettirmiştir. Egemenliği altındaki gayrimüslimler dinlerini serbestçe yaşamışlardır.

Bu durum, Osmanlıların aşağıdakilerden hangisine önem verdiğine kanıt olarak gösterilebilir?

- A) Din birliğine  
B) Farklı dinleri tanımaya  
C) Kültürlerini kabul ettirmeye  
D) İnançlara hoşgörü ile yaklaşıtlarına

15. (2017 İOKBS)

- I. Trabzon  
II. Kırım  
III. Kıbrıs

Numaralanmış yerlerden hangilerinin fethi, Karadeniz'de Türk hâkimiyetini güçlendirmiştir?

- A) Yalnız I. B) Yalnız II.  
C) I ve II. D) II ve III.

16. (2018 İOKBS)

- I. Rodos Adasının Fethi  
II. Ridaniye Savaşı  
III. İstanbul'un Fethi

16. soruda ve seçeneklerde değişiklik yapılmıştır.

Verilen olayların kronolojik sıralaması aşağıdakilerden hangisidir?

- A) I-II-III B) I-III-II  
C) III-I-II D) III-II-I

17. (2018 İOKBS)

Osmanlılarda "Kaptan-ı Derya" unvanı verilen ilk denizci aşağıdakilerden hangisidir?

- A) Kemal Reis  
B) Oruç Reis  
C) Barbaros Hayrettin Paşa  
D) Kılıç Ali Paşa

18. (2020 İOKBS)

Aşağıdakilerden hangisi Osmanlı Devleti'nin uyguladığı "İskân Politikası"nın askerî amaçlarından biridir?

- A) İssız ve terk edilmiş yerlerde Türk şehirleri oluşturmak  
B) Rumeli'deki boş arazileri ekilip biçilen tarlalar hâline dönüştürmek  
C) Fethedilen yerlere Türk nüfusu yerleştirerek yeni fetihlere zemin hazırlamak  
D) İskân edilen topraklardan vergi geliri elde etmek

19. (2020 İOKBS)

Aşağıdakilerden hangisi İstanbul'un Fethi'nin "ekonomik" nedenlerindendir?

- A) Bizans'ın Osmanlı Devleti'nin batıda ilerleyişine engel olması  
B) İstanbul'un kara ve deniz ticaret yolları üzerinde önemli bir konumda bulunması  
C) Bizans'ın, Avrupa devletlerini Osmanlı Devleti'ne karşı kışkırtması  
D) Osmanlı Devleti'nin Anadolu ve Rumeli toprakları arasındaki bağlantıyı sağlamak istemesi

**Test 2-Osmanlı Devleti'nin Fetih Siyaseti Cevap Anahtarı (7. Sınıf)**  
**(iOKBS Soruları)**

**1.D 2.C 3.C 4.B 5.D 6.B 7.D 8.B 9.C 10.D 11.D 12.A 13.D 14.D 15.C 16.D 17.C 18.C 19.B**