



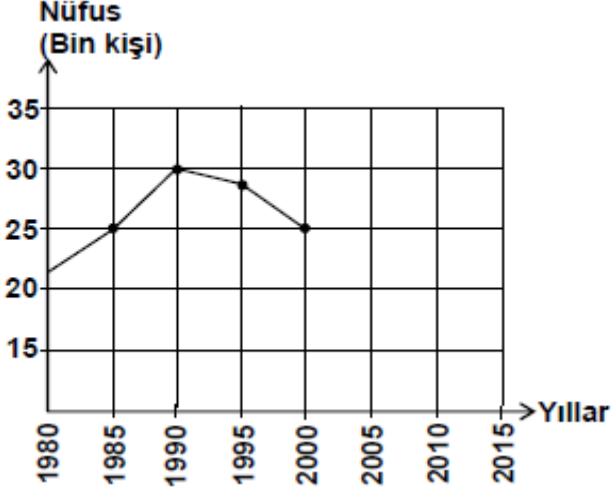
Küre Yatılı Bölge Ortaokulu/Kastamonu 7. Sınıf
(İOKBS Soruları)



SOSYAL BİLGİLER
3. Ünite: Yeryüzünde Yaşam

Test 2-Nüfusumuz

1. (2008 SBS)

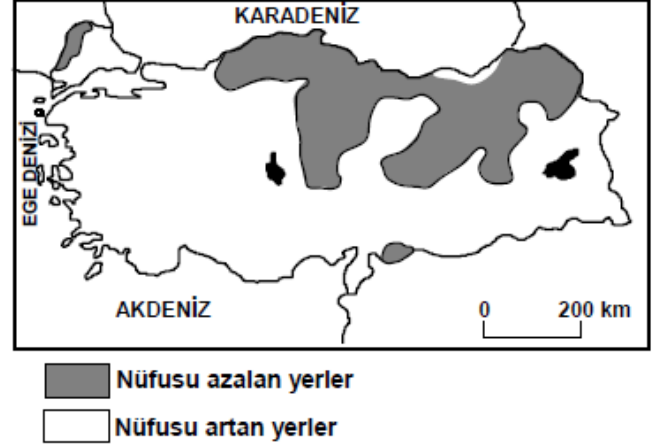


Yukarıdaki grafikte ülkemizdeki bir kentin nüfus miktarındaki değişim gösterilmiştir.

Son sayımdan itibaren (2000 yılı) kentin nüfusu her yıl 500 kişi azalırsa **2010 yılında** nüfusu kaç kişi olur?

- A) 15.000 B) 20.000 C) 22.500 D) 27.500

2. (2008 SBS)



Nüfusu hızla artan yerlerde işsizlik, gecekondulaşma, alt yapı hizmetlerinin yetersizliği, tarım ve yeşil alanların yapılaşması, çevre kirliliği gibi sorunlar yaşanmaktadır.

Buna göre; Türkiye haritasında gösterilen yerlerin hangisinde bu sorunlar **daha az** yaşanmaktadır?

- A) Kuzeydoğu Anadolu
B) Ege Denizi kıyıları
C) Marmara Denizi çevresi
D) Türkiye'nin güney kıyıları



Küre Yatılı Bölge Ortaokulu/Kastamonu 7. Sınıf
(İOKBS Soruları)



SOSYAL BİLGİLER

3. Ünite: Yeryüzünde Yaşam

Test 2-Nüfusumuz

3. (2009 SBS)

İller	Nüfus	Nüfus artış hızı (%)	Yüzölçüm (km ²)
Ağrı	529.000	-1	11.315
Antalya	1.719.000	4.2	20.599
Kocaeli	1.206.000	2.7	3.635
Konya	2.192.000	2.2	40.824



Dilay'ın ev ödevi, bilgisayardaki tabloda yer alan bilgilerden yararlanarak illerin nüfus yoğunluklarını bulmaktır.

Bunun için aşağıdakilerden hangisini yapmalıdır?

- A) İlleri nüfus büyüklüklerine göre sıralamalıdır.
- B) Nüfus artış hızı ile il nüfusunu çarpmalıdır.
- C) İlin nüfusunu yüzölçümüne bölmelidir.
- D) İl nüfusundan yüzölçümünü çıkarmalıdır.

4. (2009 SBS)

Yüzümüz kara ama içimiz pırıl pırıl. Çünkü; eskiden bir köy olan Zonguldak'ın bugün on binlerce nüfuslu kocaman bir şehir hâline gelmesini sağlayan kara elması çıkarıyoruz. Biliyor musunuz, kara elmas Türkiye sanayisinin can damarı olan demir-çelik fabrikalarının enerji kaynağıdır.



Zonguldak'ın gelişmesini sağlayan sektör aşağıdakilerden hangisidir?

- A) Tarım
- B) Madencilik
- C) Ormancılık
- D) Ulaştırma

5. (2009 SBS)

Nüfus Sayım Formu

Adınız - Soyadınız?.....
Cinsiyetiniz?.....
Bitirdiğiniz yaş nedir?.....
Okuma ve yazma biliyormusunuz?.....
En son hangi okulu bitirdiniz?.....
Medeni durumunuz nedir?.....
Doğum yeriniz?.....

Yukarıda Türkiye'de yapılan Genel Nüfus Sayımlarında yöneltilen sorulardan bazıları verilmiştir.

Bu sorulardan yararlanarak aşağıdakilerden hangisine ulaşamaz?

- A) Türkiye'deki kadın-erkek sayısına
- B) Kişilerin aylık gelir miktarına
- C) Türkiye'deki okur-yazar oranına
- D) Nüfusun yaş gruplarına göre dağılımına



Küre Yatılı Bölge Ortaokulu/Kastamonu 7. Sınıf
(İOKBS Soruları)

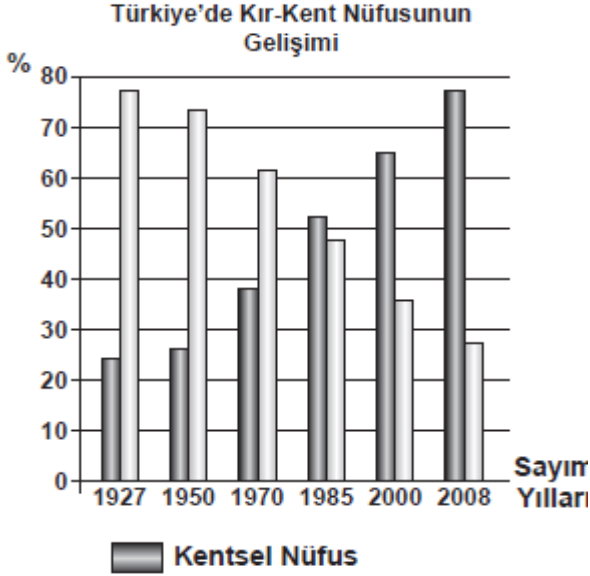


SOSYAL BİLGİLER
3. Ünite: Yeryüzünde Yaşam

Test 2-Nüfusumuz

6. (2010 SBS)

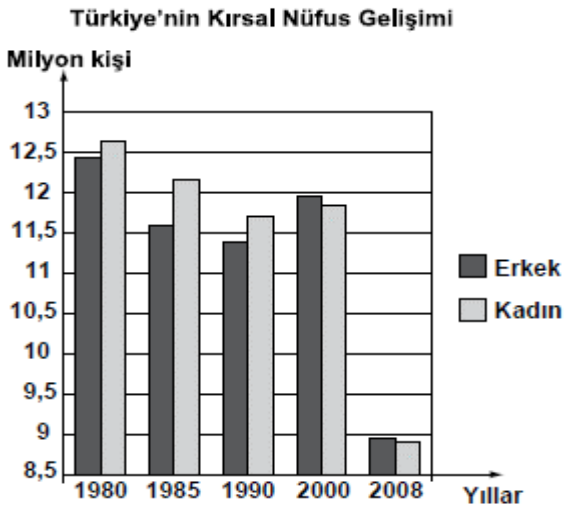
Tabloda bazı nüfus sayımı yıllarına göre kır-kent nüfus oranları verilmiştir.



Buna göre, kentsel nüfus oranı, ilk kez hangi sayım yılında kırsal nüfusu geçmiştir?

- A) 1927 B) 1970 C) 1985 D) 2000

7. (2011 SBS)



Grafiğe göre, ilk kez hangi yılda erkek nüfusu kadın nüfusunu geçmiştir?

- A) 1980 B) 1990 C) 2000 D) 2008

8. (2012 İOKBS)

Aşağıda verilen, il ve o ilin nüfusunun artmasında etkili olan en önemli ekonomik faaliyet eşleştirmelerinden hangisi yanlıştır?

İl Ekonomik faaliyet

- A) Adana → Balıkçılık
B) Ankara → Hizmet
C) Antalya → Turizm
D) Zonguldak → Madencilik

9 ve 10. (2012 İOKBS)

9 ve 10. soruları, aşağıda verilen paragrafa göre cevaplayınız.

Kasabamız artık eskisi gibi değil, bahçeli tek katlı evlerimizin yakınlarına fabrika ve apartmanlar yapılıyor. Kasaba dışındaki tarım arazilerine sanayi tesisleri kuruluyor. Memleketimizin değişik bölgelerinden insanlar kasabamıza âdeta akın etti. Sokakta artık tanıdıklara daha az rastlıyorum. Son dönemlerde arazi fiyatları da oldukça arttı.

9. Kasaba nüfusunun artmasının sebebi aşağıdakilerden hangisidir?

- A) Arazi fiyatlarının artması
B) Tarım alanlarının daralması
C) Büyük apartmanların yapılması
D) Sanayi tesislerinin yaygınlaşması

10. Kasabada, aşağıdakilerden hangisinin gerçekleşmesi beklenemez?

- A) Yerleşim alanlarının genişlemesi
B) Ekonomik ve ticari hayatın gerilemesi
C) Kültürel yapının zenginleşmesi
D) Nüfus yoğunluğunun artması



Küre Yatılı Bölge Ortaokulu/Kastamonu 7. Sınıf
(İOKBS Soruları)



SOSYAL BİLGİLER
3. Ünite: Yeryüzünde Yaşam

Test 2-Nüfusumuz

11. (2012 İOKBS)

**Türkiye Nüfusunun Yaş Gruplarına
Göre Dağılımı (2010)**

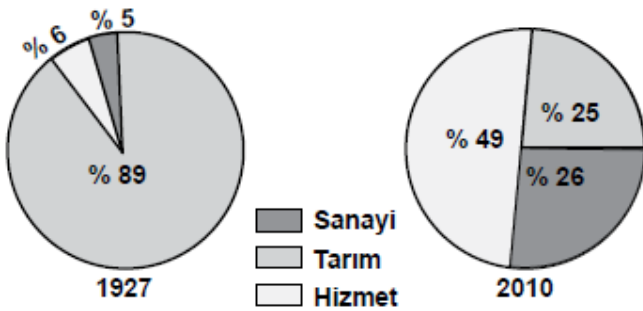
Yaş grubu	Toplam nüfus içindeki oranı (%)
0 - 14	24,6
15 - 64	67,2
65 ve üzeri	8,2

Tablodaki verilere bakarak aşağıdakilerden hangisi söylenebilir?

- A) Genç nüfus oranı düşmektedir.
- B) Yaşlı nüfusu artmaktadır.
- C) Erkek sayısı kadın sayısından fazladır.
- D) Nüfusun yaklaşık 4/1 'i 15 yaşın altındadır

12. (2013 İOKBS)

Aşağıdaki grafiklerde Türkiye’de çalışan nüfusun iş kollarına dağılımı gösterilmiştir.



Bu grafiklere bakarak aşağıdakilerden hangisi söylenebilir?

- A) Hizmet, en az gelişen sektördür.
- B) Tarımın ekonomideki önemi artmıştır.
- C) Sanayi sektöründe istihdam oranı artmıştır.
- D) Turizm, hizmet sektörünün gelişmesini sağlamıştır.

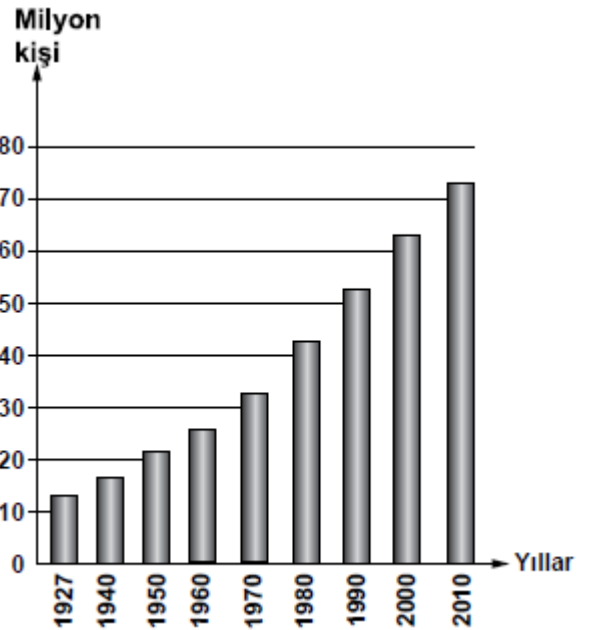
13. (2013 İOKBS)

Türkiye Nüfus Haritası'nı inceleyen bir öğrenci, nüfusun öncelikle Marmara Denizi çevresinde yer alan illerde (İstanbul-Bursa-Kocaeli) yoğunlaştığını görür.

Bu durumda bölgenin hangi özelliğinin etkisi olduğu söylenemez?

- A) Olumlu iklim özelliklerinin
- B) Coğrafi konum özelliklerinin
- C) Gelişmiş bir sanayiye sahip olmalarının
- D) Fay hatlarının yakınında yer almalarının

14. (2014 İOKBS)



Yukarıdaki grafikte bazı sayım yıllarına göre Türkiye nüfusu gösterilmiştir.

Grafığe bakarak aşağıdakilerden hangisi söylenebilir?

- A) Her yıl nüfus artış miktarı aynıdır.
- B) Nüfus sürekli olarak artış göstermiştir.
- C) 2010'da nüfusumuz 80 milyondan fazladır.
- D) 1940-1950 arası nüfusumuz 15 milyon artmıştır.



Küre Yatılı Bölge Ortaokulu/Kastamonu 7. Sınıf
(İOKBS Soruları)

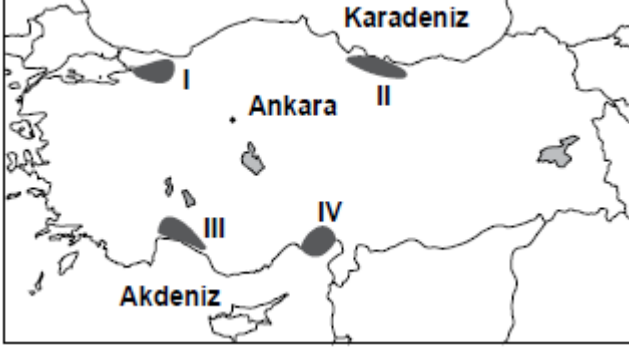


SOSYAL BİLGİLER

3. Ünite: Yeryüzünde Yaşam

Test 2-Nüfusumuz

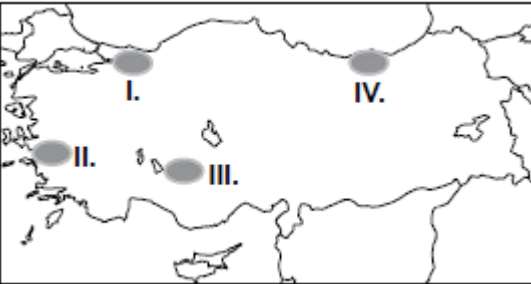
15. (2014 İOKBS)



Haritada numaralandırılarak verilen alanların hangisinde nüfusun artmasında turizm sektörünün etkisi daha fazla olmuştur?

- A) I B) II C) III D) IV

16. (2015 İOKBS)



Haritada numaralandırılmış alanlardan hangisinde temel geçim kaynağı tahıl tarımı olan köylerin sayısı daha fazladır?

- A) I. B) II. C) III. D) IV.

17. (2015 İOKBS)

Ülkemizde aritmetik nüfus yoğunluğunun en fazla olduğu il İstanbul'dur.

İstanbul'da nüfusunun yoğun olmasında aşağıdaki ekonomik faaliyetlerden hangisi daha az etkili olmuştur?

- A) Sanayi B) Tarım
C) Ticaret D) Ulaşım

18. (2015 İOKBS)

Ankara, İstanbul ve İzmir gibi büyükşehirlerde nüfusunun hızla artmasında aşağıdakilerden hangisi etkili olmuştur?

- A) Ölüm oranlarının azalması
B) Doğurganlık oranının fazla olması
C) Yoğun bir şekilde göç alması
D) Yeni yerleşim alanlarının açılması

19. (2015 İOKBS)

Aşağıdakilerden hangisi kırsal nüfus oranının azalmasında etkili değildir?

- A) Tarımda makineleşme
B) Şehirlerde sanayi faaliyetlerinin gelişmesi
C) Tarımsal sulama projelerinin tamamlanması
D) Tarım arazilerinin miras yoluyla parçalanması



Küre Yatılı Bölge Ortaokulu/Kastamonu 7. Sınıf
(İOKBS Soruları)



SOSYAL BİLGİLER
3. Ünite: Yeryüzünde Yaşam

Test 2-Nüfusumuz

20. (2016 İOKBS)



Haritada noktalanarak gösterilen alan Türkiye ortalamasının üzerinde nüfus yoğunluğuna sahiptir.

Aşağıdakilerden hangisi haritada gösterilen alandaki yerleşim merkezlerinden biridir?

- A) İzmit B) Çanakkale
C) Edirne D) Zonguldak

21. (2016 İOKBS)

- I. Okuryazar nüfus oranı
II. Tarımda çalışan nüfus oranı
III. Şehirde yaşayan nüfus oranı

Ülkemiz nüfusunda 1950 yılından günümüze kadar olan sürede yukarıdakilerin hangilerinde **artış** olmuştur?

- A) Yalnız I B) Yalnız II
C) I ve III D) II ve III

22. (2017 İOKBS)

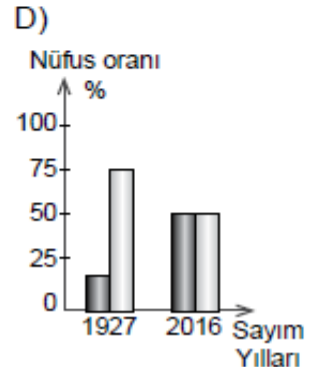
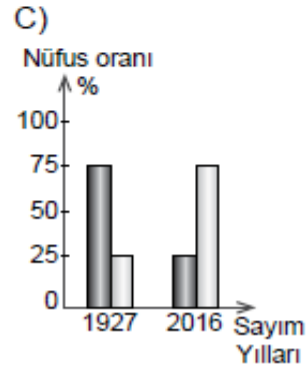
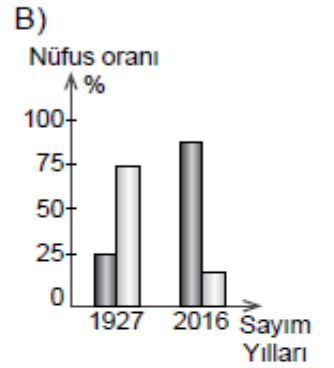
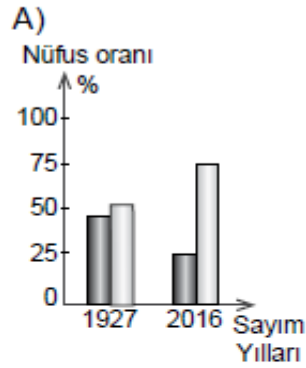
Ülkemizde kent nüfusunun **en az** olduğu bölge aşağıdakilerden hangisidir?

- A) Akdeniz B) Ege
C) Marmara D) Doğu Anadolu

23. (2017 İOKBS)

1927 yılında kentsel nüfus oranı %25 civarında iken günümüzde bu değer %80'nin üzerine çıkmıştır.

Bu bilgiye ait olan grafik aşağıdakilerden hangisidir? (■ Kentsel Nüfus, □ Kırsal Nüfus)





Küre Yatılı Bölge Ortaokulu/Kastamonu 7. Sınıf
(İOKBS Soruları)



SOSYAL BİLGİLER

3. Ünite: Yeryüzünde Yaşam

Test 2-Nüfusumuz

24 ve 25. (2017 İOKBS)

24 ve 25. soruları, aşağıda verilen paragrafa göre cevaplayınız.



Haritada numaralanmış taralı alanlar ülkemizde sanayi, ticaret, turizm ve ulaştırma hizmetlerinin yoğun ve gelişmiş olduğu yerlerin başında gelmektedir.

24. Taralı alanlarla ilgili aşağıdakilerden hangisi söylenemez?

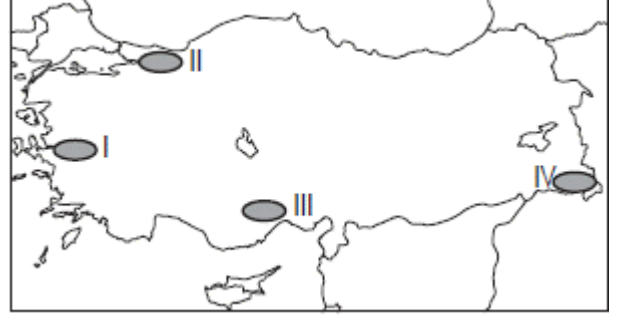
- A) İş imkânları fazladır.
- B) Nüfus yoğunlukları fazladır.
- C) Sağlık-egitim hizmetleri gelişmiştir.
- D) Kömür yatakları bakımından zengindir.

25. Taralı alanların hangisinde kentsel nüfus miktarı en fazladır?

- A) I.
- B) II.
- C) III.
- D) IV.

26. (2018 İOKBS)

Ülkemizin yüksek ve engebeli alanlarında ulaşımın zor, ekonomik faaliyetlerin kısıtlı oluşu nüfus yoğunluğunun düşük olmasına neden olmuştur.



Buna göre harita üzerinde numaralandırılan yerlerin hangisi bu duruma örnektir?

- A) I.
- B) II.
- C) III.
- D) IV.

27. (2019 İOKBS)

Türkiye'de doğal ve beşerî şartların bölgeden bölgeye farklı özellikler sunması, yerleşmeye uygun olan veya olmayan alanların ortaya çıkmasına neden olmuştur.

Aşağıdakilerden hangisi ülkemizin bu özelliğinin sonucu olarak ortaya çıkan bir durumdur?

- A) Nüfus dağılışıının düzensiz olması
- B) Yer altı kaynaklarının belli alanlarda toplanması
- C) Karasal iklimin yaygın olarak görülmesi
- D) Doğal bitki örtüsünün farklılıklar göstermesi



Küre Yatılı Bölge Ortaokulu/Kastamonu 7. Sınıf
(İOKBS Soruları)



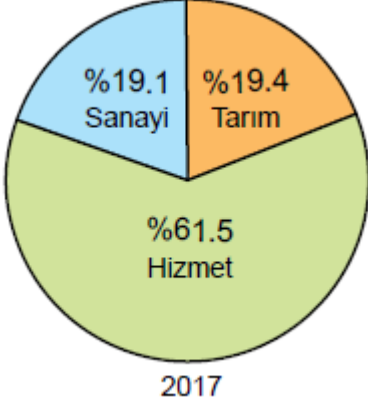
SOSYAL BİLGİLER

3. Ünite: Yeryüzünde Yaşam

Test 2-Nüfusumuz

28. (2020 İOKBS)

Aşağıda Türkiye'ye ait bir grafik verilmiştir.



Bu grafiğin başlığı aşağıdakilerden hangisi olabilir?

- A) Türkiye nüfusunun yaş ortalaması
- B) Türkiye'nin eğitim durumu
- C) Türkiye'nin kırsal-kent nüfus oranları
- D) Türkiye nüfusunun ekonomik faaliyetlere göre dağılışı

29. (2020 İOKBS)

Aşağıdakilerden hangisi nüfus artışının hızlı olduğu yerlerde yaşanan sorunlardan biri değildir?

- A) Okul ihtiyacının artması
- B) Plansız yapılaşma
- C) Çevre kirliliği
- D) Konut ihtiyacının azalması

30. (2020 İOKBS)

Ülkemizde nüfus, sanayi tesislerinin çevresinde daha çok yoğunlaşmıştır.

Bu durumun nedeni aşağıdakilerden hangisidir?

- A) Sanayi tesislerinin yoğun enerji tüketmesi
- B) Sanayi tesislerinin genelde kıyı şehirlerinde yer alması
- C) Fabrikaların fazla sayıda insana iş imkânı sağlaması
- D) Fabrikaların ulaşımına uygun alanlara kurulması

Test 2-Nüfusumuz Cevap Anahtarı (7. Sınıf)
(İOKBS Soruları)

1.A 2.A 3.C 4.B 5.B 6.C 7.D 8.A 9.D 10.B 11.D 12.C 13.D 14.B 15.C 16.C 17.B 18.C 19.C 20.A 21.C 22.D 23.B 24.D 25.A 26.D 27.A 28.D
29.D 30.C