



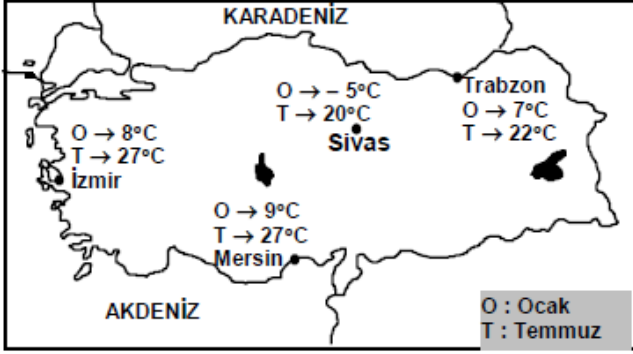
Küre Yatılı Bölge Ortaokulu/Kastamonu 6. Sınıf  
(SBS ve İOKBS Soruları)



SOSYAL BİLGİLER  
3. Ünite: Yeryüzünde Yaşam

Test 2-Türkiye'nin Fiziki Coğrafya Özellikleri

1. (2008 SBS)



Karasal iklimin özelliklerinden biri de yaz ve kış mevsimleri arasındaki sıcaklık farkının yüksek olmasıdır.

Buna göre, haritada gösterilen şehirlerden hangisi **karasal iklimin** etkisi altındadır?

- A) İzmir B) Sivas  
C) Mersin D) Trabzon

2. (2009 SBS)

Dağ tırmanışı yapan bir araştırma grubu 3 gün boyunca aynı saatte yükselti ve sıcaklığı ölçmüşlerdir.

Günler	Yükselti (m)	Sıcaklık (°C)
1. Gün	2.000	5
2. Gün	3.000	0
3. Gün	4.000	-5

Tabloda verilen bu ölçümler göz önüne alınarak aşağıdaki yargılardan hangisine ulaşılabilir?

- A) Dağda bitki örtüsü yoktur.  
B) Dağda ekonomik faaliyet yapılamaz.  
C) Yükselti arttıkça hava sıcaklığı düşer.  
D) Dağda kayak tesisleri bulunmaktadır.

3. (2010 SBS)

Merhaba Mustafa! Nasılsın? ①

İyiyim, sen nasılsın? Havalar nasıl? ②

Mesut (Adana) Mustafa (Erzurum)

Çok iyiyim. Buğdayı hasat ettik. Bu yıl verim yüksek oldu. Tarlayı ikinci ürün için hazırlıyoruz. ③

Ne güzel! Bizim burada buğdayların olgunlaşmasına daha çok var. Biz hâlâ sobayı yakıyoruz. Herhâlde sizin orada denize giriliyordur. ④

Mesut Mustafa

Verilen diyaloga bakarak **Mustafa'nın** yaşadığı yer için aşağıdakilerden hangisi söylenebilir?

- A) Kış mevsiminin soğuk ve uzun sürdüğü  
B) Dağınık yerleşmelerin yaygın olduğu  
C) Makineli tarımın gelişmiş olduğu  
D) Bitki örtüsünün makilerden oluştuğu



Küre Yatılı Bölge Ortaokulu/Kastamonu 6. Sınıf  
(SBS ve İOKBS Soruları)

SOSYAL BİLGİLER  
3. Ünite: Yeryüzünde Yaşam



Test 2-Türkiye'nin Fiziki Coğrafya Özellikleri

4. (2011 İOKBS)

Denizden uzaklık ve yükseltinin fazla olması karasallığı artırır. Bu tür bölgelerde gece gündüz arasındaki sıcaklık farkı da fazladır.

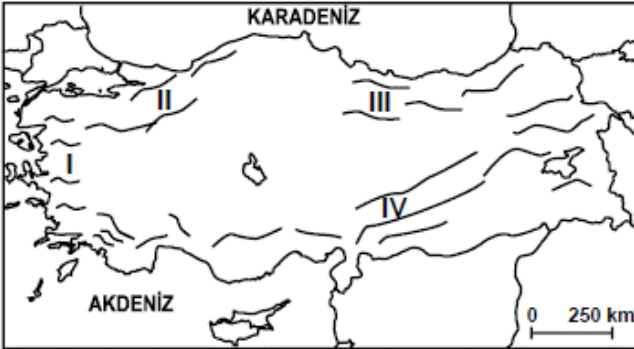
Buna göre verilen haritadaki yerleşim birimlerinin hangisinde gece-gündüz sıcaklık farkı **en fazladır?**



- A) İzmir B) Samsun  
C) Ağrı D) Antalya

5. (2011 İOKBS)

Haritada, Türkiye'deki başlıca dağların kıyı çizgisine göre uzanış yönleri verilmiştir.



Buna göre numaralandırılmış alanlardan hangisinde deniz ikliminin içerilere sokulması beklenir?

- A) I B) II C) III D) IV

6. (2011 İOKBS)

Buğday, yazları sıcak ve kurak, kışları soğuk ve kar yağışlı bölgelerde yetiştirilen başlıca tarım ürünüdür.

Buna göre aşağıdaki iklim tiplerinden hangisinde buğday tarımı **daha yaygın** olarak yapılır?

- A) Akdeniz iklimi B) Karasal iklim  
C) Karadeniz iklimi D) Marmara iklimi

7. (2012 İOKBS)



- Karasal İklim □ Karadeniz İklimi ■ Akdeniz İklimi

Türkiye'nin iklim haritası incelendiğinde, güneyde dar bir şerit hâlinde uzanan Akdeniz ikliminin batıda kıyından iç kesimlere daha çok sokulduğu görülmektedir.

Bu durum aşağıdakilerden hangisiyle açıklanabilir?

- A) Dağların uzanış şekliyle  
B) Bitki örtüsünün dağılışıyla  
C) Su kaynaklarının dağılışıyla  
D) Doğuya doğru yükseltinin artmasıyla



Küre Yatılı Bölge Ortaokulu/Kastamonu 6. Sınıf  
(SBS ve İOKBS Soruları)

SOSYAL BİLGİLER  
3. Ünite: Yeryüzünde Yaşam



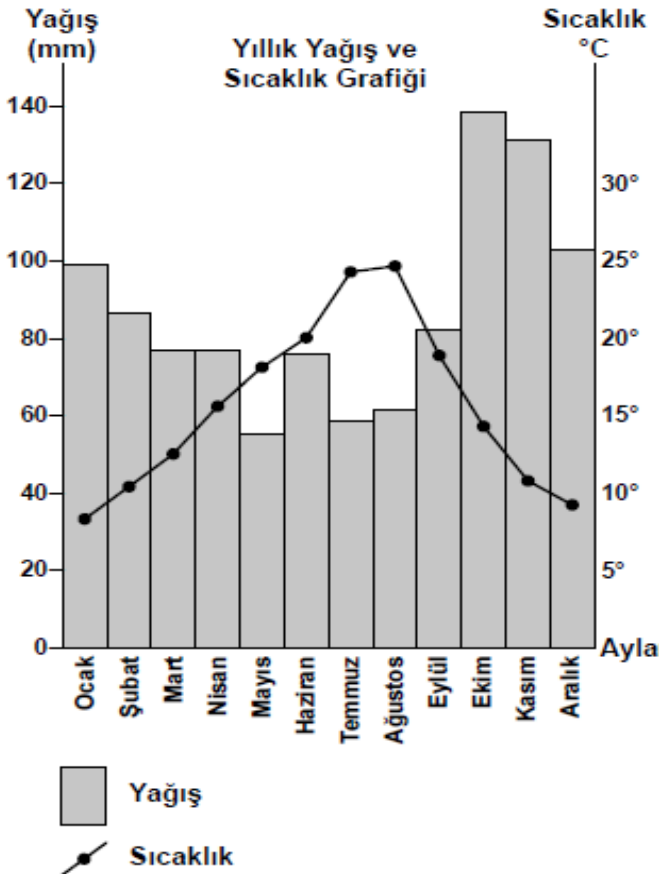
Test 2-Türkiye'nin Fiziki Coğrafya Özellikleri

8. (2012 İOKBS)

Karadeniz'de ahşap, iç bölgelerde kerpiç, Akdeniz'de taş evlerin yaygın oluşunda etkili olan faktör aşağıdakilerden hangisidir?

- A) Kültürel yapı
- B) Yeryüzü şekilleri
- C) Nüfus yoğunluğu
- D) Çevresindeki doğal malzemeler

9. (2012 İOKBS)

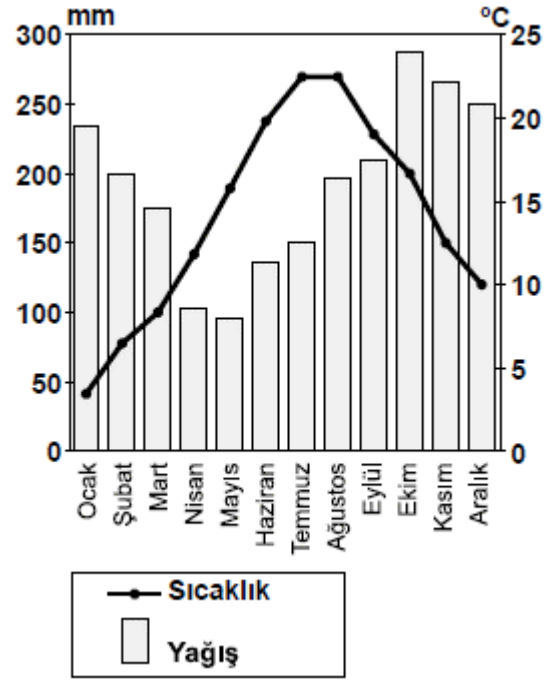


Yukarıdaki grafik Türkiye'de bir merkeze aittir.  
Bu merkezde hangi iklimin görüldüğü söylenebilir?

- A) Karasal iklimin
- B) Akdeniz ikliminin
- C) Karadeniz ikliminin
- D) Şiddetli karasal iklimin

10 ve 11. Soru (2013 İOKBS)

10 ve 11. soruları, aşağıda verilen paragrafa göre cevaplayınız



10. Yağış ve sıcaklık grafiği verilen merkez için aşağıdakilerden hangisi söylenebilir?

- A) Şubat en soğuk aydır.
- B) Her mevsim yağış alır.
- C) En kurak ay ekimdir.
- D) Bazı aylarda yağış 400 mm'yi aşar.

11. Yağış ve sıcaklık grafiği verilen merkez aşağıdakilerden hangisi olabilir?

- A) Rize
- B) Kars
- C) Ankara
- D) Konya



Küre Yatılı Bölge Ortaokulu/Kastamonu 6. Sınıf  
(SBS ve İOKBS Soruları)



SOSYAL BİLGİLER  
3. Ünite: Yeryüzünde Yaşam

Test 2-Türkiye'nin Fiziki Coğrafya Özellikleri

12. (2013 İOKBS)



Yükselti faktörü göz önüne alındığında haritada verilen merkezlerden hangileri arasında, sıcaklık farkının **daha fazla** olması beklenir?

- A) Ordu-Ağrı  
B) Ankara-Ağrı  
C) Manisa-Ankara  
D) Gaziantep-Ordu

13. (2014 İOKBS)

Ülkemizin iç kesimlerinde deniz etkilerinin görülmeşi aşağıdakilerden hangisiyle ilgilidir?

- A) Yer şekilleriyle  
B) Enlem etkisiyle  
C) Su kaynaklarıyla  
D) Rüzgarların yönüyle

14 ve 15. Soru (2014 İOKBS)

14 ve 15. soruları, aşağıda verilen paragrafa göre cevaplayınız

Köyümüz yurdumuzun denizden uzak iç kesimlerindedir. Yaz döneminde kuraklık hakimdir, gündüz sıcaklıklar 35 °C'ye yaklaşırken gece 10 °C nin altına düşer. Kış mevsimi ise soğuk ve kar yağışlıdır. Köyümüzde çoğunlukla buğday tarımı ve küçük baş hayvancılık yapılır. Nisanda her tarafı saran yeşil otlar, Haziran da sararır ve kurur ...

14. Verilen bilgilere göre bu köy ve çevresinde aşağıdaki iklimlerden hangisi görülmektedir?

- A) Karadeniz  
B) Akdeniz  
C) Karasal  
D) Muson

15. Köy aşağıdaki illerden hangisinin sınırları içinde olabilir?

- A) Nevşehir  
B) Mersin  
C) İstanbul  
D) Rize

16. (2015 İOKBS)

Ege bölgesinde deniz kıyısında yetişen bir tarım ürünü, bölgenin iç kesimlerinde de yetişebilmektedir. Karadeniz bölgesinde ise bu durumun tam tersi yaşanmaktadır.

Ege ve Karadeniz bölgelerindeki bu farklılığın sebebi aşağıdakilerden hangisidir?

- A) Yükselti farkı  
B) Kıyı uzunlukları  
C) Dağların uzanışı  
D) Deniz suyu sıcaklığı



Küre Yatılı Bölge Ortaokulu/Kastamonu 6. Sınıf  
(SBS ve İOKBS Soruları)



SOSYAL BİLGİLER  
3. Ünite: Yeryüzünde Yaşam

Test 2-Türkiye'nin Fiziki Coğrafya Özellikleri

17. (2015 İOKBS)

Bir bölgenin doğal bitki örtüsü ile hayvancılık faaliyetleri arasında yakın bir ilişki vardır.

Aşağıda verilen bitki örtüsü ve hayvancılık faaliyetleri eşleştirmelerinden hangisi yanlıştır?

Bitki örtüsü	Hayvan türü
A) Bozkır	Koyun
B) Çayır	Sığır
C) Maki	Kıl keçisi
D) Çam ormanları	İpek böceği

18. (2015 İOKBS)

Ankara ile Erzurum Ekvator çizgisine yaklaşık olarak aynı uzaklıktadır. Ancak Erzurum'da sıcaklık ortalaması daha düşüktür.

Bu durumun sebebi nedir?

- |              |                     |
|--------------|---------------------|
| A) Yükselti  | B) Bakı             |
| C) Rüzgarlar | D) Dağların uzanışı |

19. (2016 İOKBS)

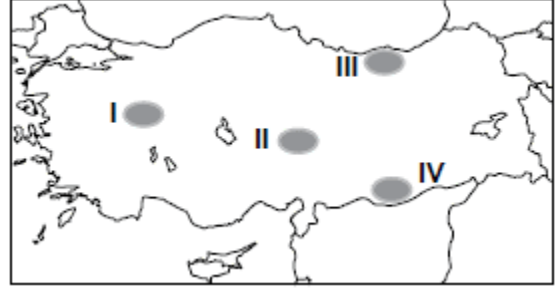
**Hakan Bey:** İlk görev yerimizde kışlar çok sert ve soğuk, yazlar ise serin ve yağışlı geçmekteydi. Şimdi yaşadığımız şehirde ise kışları ılık, bitki örtüsü gür ve her mevsim yağışlı geçmektedir.

Hakan Bey'in görev yaptığı şehirler sırasıyla aşağıdakilerden hangileri olabilir?

- |                   |                     |
|-------------------|---------------------|
| A) Kars-Rize      | B) Van-Konya        |
| C) Ordu-Gaziantep | D) Mersin-Eskişehir |

20. (2016 İOKBS)

Kurak ve yarı kurak bölgelerde ağaçlandırma yapıldıktan sonra fidanların sulanması zorunlu iken bu zorunluluk nemli bölgelerde daha azdır.

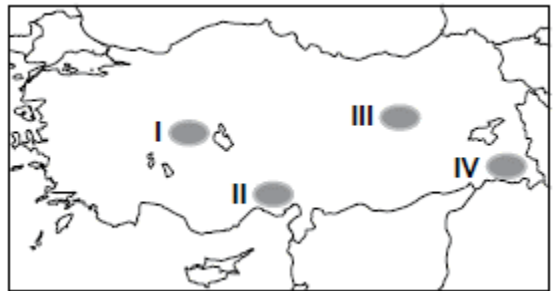


Buna göre, haritada taralı alanlardan hangisinde dikilen fidanların sulanmasına duyulan ihtiyaç daha azdır?

- A) I B) II C) III D) IV

21. (2016 İOKBS)

Toprak ve iklim koşullarının uygun olması yetiştirilen ürün miktarı ve çeşitliliği üzerinde etkili olmaktadır.



Buna göre, haritada verilen yerlerden hangisinde toprak ve iklim koşulları yetiştirilen ürün çeşitliliğini daha çok arttırmıştır?

- A) I B) II C) III D) IV





Küre Yatılı Bölge Ortaokulu/Kastamonu 6. Sınıf  
(SBS ve İOKBS Soruları)

SOSYAL BİLGİLER  
3. Ünite: Yeryüzünde Yaşam



Test 2-Türkiye'nin Fiziki Coğrafya Özellikleri

22. (2016 İOKBS)

Aşağıdakilerden hangisi Türkiye’de dağların kıyıya paralel uzanmasının sonuçlarından?

- A) Kuzeyden esen rüzgârların sıcaklığı düşürmesi
- B) Denizel etkilerin iç kesimlere sokulamaması
- C) Yükselti ortalamasının batıdan doğuya doğru artması
- D) Sıcaklık ortalamalarının güneyden kuzeye doğru azalması

23. (2017 İOKBS)

Aşağıdakilerden hangisi Akdeniz ikliminin özelliklerinden biri değildir?

- A) Bitki örtüsü boz kırdır.
- B) Kışlar ılık ve yağışlıdır.
- C) Yazlar sıcak ve kuraktır.
- D) Kar yağışı çok az görülür.

24. (2018 İOKBS)

Yazları sıcak ve kurak, kışları ılık ve yağışlıdır. Kar yağışı ve don olayı ender yaşanır. Bitki örtüsü makidir.



Yukarıda anlatılan iklim tipi harita üzerinde numaralandırılarak gösterilen yerlerin hangisinde görülür?

- A) I.
- B) II.
- C) III.
- D) IV.

25. (2018 İOKBS)

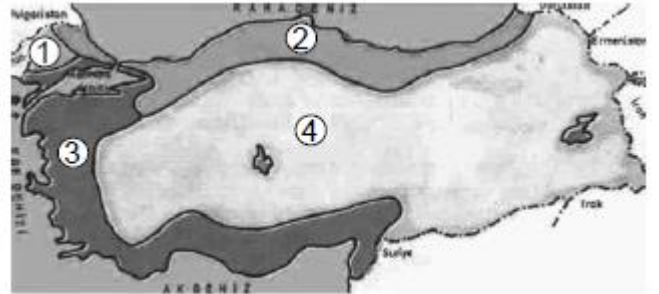
Kars ile Iğdır arasındaki mesafe yakın olmasına rağmen Iğdır’ın yıllık ortalama sıcaklığı yaklaşık 7°C daha fazladır.

Bu farklılığın nedeni aşağıdakilerden hangisidir?

- A) Bitki örtüsü
- B) Yükselti değerleri
- C) Toprak özellikleri
- D) Yağış miktarları

26. (2019 İOKBS)

Türkiye haritası üzerinde belirli bölgeler numaralandırılarak verilmiştir.



Buna göre, numaralanmış yerlerin hangilerinde **karasal iklim** görülmektedir?

- A) 1 ve 2.
- B) 2 ve 3.
- C) 1 ve 4.
- D) 2, 3 ve 4.

27. (2020 İOKBS)

Türkiye **fiziki haritasını** kullanarak aşağıdaki bilgilerden hangisine ulaşabiliriz?

- A) Eğitim durumu
- B) Sağlık hizmetleri
- C) Madenlerin dağılışı
- D) Yeryüzü şekilleri



Küre Yatılı Bölge Ortaokulu/Kastamonu 6. Sınıf  
(SBS ve İOKBS Soruları)



SOSYAL BİLGİLER  
3. Ünite: Yeryüzünde Yaşam

Test 2-Türkiye'nin Fiziki Coğrafya Özellikleri

28. (2020 İOKBS)

Ülkemizde yükselti ve engebenin fazla olduğu bölgelerle ilgili aşağıdakilerden hangisi söylenemez?

- A) Yıllık sıcaklık ortalaması düşüktür.
- B) Diğer bölgelerden göç alır.
- C) Tarım alanları dardır.
- D) Ulaşım olanakları zordur.

29. (2020 İOKBS)

Karadeniz iklimi ile ilgili aşağıdakilerden hangisi söylenemez?

- A) Pamuk üretimine uygundur.
- B) Yaz mevsimi sıcak ve kuraktır.
- C) Genel bitki örtüsü bozkırdır.
- D) Her mevsim yağışlıdır.

30. (2020 İOKBS)

Akarsular tarafından derince yarılmış çevresine göre yüksekte olan geniş düzlüklere ne ad verilir?

- A) Vadi
- B) Ova
- C) Plato
- D) Dağ

31. (2020 İOKBS)

Fiziki haritada kullanılan yeşil, sarı, kahverengi gibi renkler ve tonları aşağıdakilerden hangisini gösterir?

- A) İklim türlerini
- B) Yükselti basamaklarını
- C) Yeraltı kaynaklarını
- D) Bitki örtüsünü

Mehmet ÖZKÜZ

**Test 2-Türkiye'nin Fiziki Coğrafya Özellikleri Cevap Anahtarı (6. Sınıf)**

**(SBS ve İOKBS Soruları)**

1.B 2.C 3.A 4.C 5.A 6.B 7.A 8.D 9.C 10.B 11.A 12.A 13.A 14.C 15.A 16.C 17.D 18.A 19.A 20.C 21.B 22.B 23.A 24.C 25.B 26.C 27.D 28.B  
29.D 30.C 31.B