

Adı Soyadı: ORTAOKULU 2018 – 2019 EĞİTİM ÖĞRETİM YILI 5. SINIFLAR

Aldığı Not:

Sınıfı / No:

2. DÖNEM 1. YAZILI SINAVI

A) BOŞLUK DOLDURMA (HER SORU 3 PUANDIR)

KROKİ	ÜRETİM	SÜMERLER	TELİF HAKKI
VATANDAŞ	ROL	CAHİT ARF	
MEDYA	KÜLTÜR	TURİZM	

- 1) Bir grup etkinliğinde yer alan bireylerin üstlendikleri görevlere denir.
- 2) Aynı toprak üzerinde yaşayan ve aynı devlete vatandaşlık bağı ile bağlı olan kişilere denir.
- 3) Bir toplumda nesilden nesile aktarılan, yaşatılan, gelenek, görenek, inanış, düşünce ve sanat varlıklarının tümüne denir.
- 4) Mezopotamya da kurulan dünyanın bilinen ilk uygarlığıdır. Yazıyı icat eden ve kullanan ilk uygarlıktır. Böylece tarihi çağları başlatmışlardır.
- 5) Ölçek kullanılmayan, kaba taslak çizilen haritalara adı verilir
- 6) İnsanlar arasında iletişimi sağlayan gazete, dergi, televizyon ve genel ağ (internet) gibi kitleiletişim araçlarının tümüne denir.
- 7)Cebir konusundaki çalışmalarıyla dünyaca ün kazanmış bilim insanımızdır. Arf değişmezi ve Arf halkaları gibi literatürde kendi adıyla anılan çalışmaları vardır. 10 Türk Lirasının ön yüzünde portresi vardır.
- 8) Bir fikir veya sanat eserini meydana getiren kişinin bu eserden doğan haklarının tümüne denir.
- 9) Yaşadığımız çevredeki kaynakları kullanarak yeni ürünler elde etmeye... denir.
- 10) İnsanların yaşadıkları yerden ayrılarak başka yerlere kısa süreli geziler yapmasına ve bu gezilerin oluşturduğu faaliyetlerin tümüne..... denir.

B) DOĞRU YANLIŞ (HER SORU 3 PUANDIR)

C)

- () Dünyadaki doğal varlıklar ve Tarihi Eserler tüm insanlığın ortak mirası olduğu için UNESCO tarafından koruma altına alınmışlardır.
- () Sosyal Bilgiler dersi günlük hayatımızda karşılaştığımız ya da karşılaşılabileceğimiz sorunları çözümünde bize en çok yardımcı olan derslerin başında gelir.
- () Bir çizimin harita olabilmesi için kuş bakışı çizilmiş olması ve bir düzleme aktarılmış olması yeterlidir.
- () Bağımlı olmayan bir Genel Ağ (İnternet) kullanıcısının haftalık genel ağ kullanımı 50 saat civarındadır.
- () İklim, yeryüzü şekilleri, ulaşım ağı gibi faktörler sanayi faaliyetlerini etkiler
- () Çalışmalarımızda yararlandığımız kaynakları kaynakça bölümünde belirtmek zorunda değiliz.
- () kütüphaneler araştırmalarımızı yapabileceğimiz ve çok sayıda bilgi kaynağına ulaşabileceğimiz yerlerdir.

HAZIRLAYAN: METİN ERCAN CAN

NOT: SORULARIN TİCARİ AMAÇLA KULLANILMASI KESİNLİKLE YASAKTIR...

C) ÇOKTAN SEÇMELİ TEST (HER SORU 3 PUANDIR.)

SORU 1 : Sosyal Bilgiler dersi öğrencileri toplumsal hayata hazırlayıp bizlerin sosyal yanını geliştiren bir ders olmasının yanında tarih, coğrafya, vatandaşlık gibi birçok dersi içinde barındıran bir disiplindir. Buna göre; **aşağıdakilerden hangisi Sosyal Bilgiler dersinin yararları arasında gösterilemez?**

- a) Vatandaşlık görev ve sorumluluklarının öğrenilmesini sağlar
- b) Kültürümüzü ve tarihimizi öğreterek ulusal bilincimizi geliştirir
- c) Atatürk ilke ve inkılaplarının öneminin anlaşılması ve bunların korunmasını sağlar
- d) Vücudumuzun yapısını inceleyerek vücudumuzun nasıl çalıştığı hakkında bize bilgi verir.

SORU 2: Tüm çocukların gelişmeleri ve korunmaları için, mutlu bir aile ortamında, sağlıklı bir çevrede, fiziksel ve zihinsel gelişmelerini sağlayacak imkânlara sahip olmaları gerekir. Bunu sağlamak hem devletlerin hem de ailelerin görevidir. Bu nedenle 20 Kasım 1989 yılında Birleşmiş Milletler Genel Kurulu tarafından Çocuk Hakları Sözleşmesi kabul edilmiştir. Buna göre; **Aşağıdakilerden hangisi Çocuk hakları ihlallerine örnek olarak gösterilemez?**

- a) Eğitim haklarının engellenmesi
- b) Çocukların küçük yaşta çalıştırılması
- c) Engelli çocukların özel olarak korunması ve saygı görmesi
- d) Çocukların ailelerinden zorla alınması

SORU 3 : Anadolu; iklimi, yeryüzü şekilleri, su kaynakları ve verimli toprakları olması sebebiyle bir çok uygarlık tarafından tercih edilmiş ve birçok uygarlığa ev sahipliği yapmıştır. Bu nedenle Anadolu 'Uygarlıkların Beşiği' olarak da bilinmektedir. Buna göre **aşağıda verilen uygarlıklardan hangisi Anadolu topraklarında kurulmamıştır?**

- a) Hititler
- b) Mayalar
- c) Urartular
- d) Lidyalılar

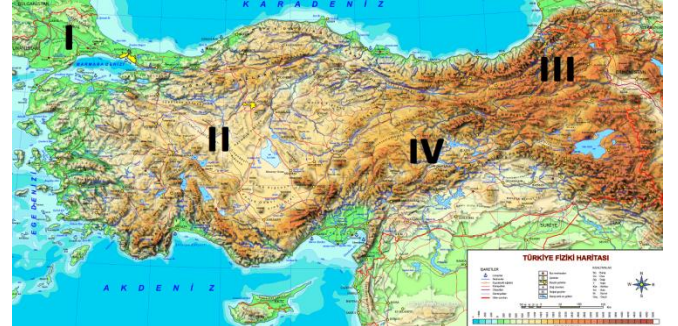
SORU 4 : Doğada insan eli değmeden kendiliğinden oluşan ve gezip görülebilecek özellikte olan coğrafi oluşumlara doğal varlı adı verilmektedir. Ülkemiz doğal varlıklar bakımında oldukça zengin bir ülkedir. Buna göre;

- I. Ayasofya Camii
- II. Mevlana Türbesi
- III. Pamukkale Travertenleri
- IV. Sümela Manastırı

yukarıda numaralandırılmış olan yerlerden hangisi ya da hangileri doğal varlıklara örnek olarak gösterilemez?

- a) Yalnız III
- b) I ve III
- c) I,II ve IV
- d) II ve IV

SORU 5 : Kullandığımız fiziki haritalardaki renkler bize o yerin deniz seviyesinden ne kadar yüksekte olduğu hakkında bilgi verir. Bu sayede bizde haritada gösterilen yerin yüksekliği ve yer şekilleri hakkında bilgi sahibi oluruz. Buna göre; **aşağıda verilen Türkiye Fiziki Haritasında işaretli alanlardan hangisinin yüksekliği en azdır?**



- a) I
- b) II
- c) III
- d) IV

SORU 6 : İklim, geniş bir alanda uzun yıllar boyunca (40-50 yıl) devam eden hava olaylarına denir. Ülkemizde Akdeniz, Karadeniz iklimi ve karasal iklim olmak üzere 3 farklı iklim tipi görülmektedir. Bu bakımda ülkemiz iklim çeşitliliği bakımından zengin bir ülkedir. Buna göre; **aşağıdakilerden hangisi ülkemizde çeşitli iklim tiplerinin görülmesinin nedenleri arasında gösterilemez?**

- a) Üç tarafının denizlerle çevrili olması
- b) Kuzey yarım kürede yer alması
- c) Yükseltinin batıdan doğuya doğru artması
- d) Yeryüzü şekillerinin farklı olması

SORU 7: Yerleşik yaşama geçilen ilk dönemlerden günümüze insanlar için bir yere yerleşmek ve orada yaşamak çok önemlidir. Çünkü insanların çoğu yerleştikleri bölgenin belli özelliklerinin insan yaşamına uygun olmasını isterler. Buna göre; **Aşağıdakilerden hangisi bu özellikler arasında gösterilemez.**

- a) Yaşadıkları yerin ılık bir iklime sahip olması
- b) Yaşadıkları yerin kurak olması
- c) Yaşadıkları yerin tarıma elverişli olması
- d) Yaşadıkları yerin güvenli olması

SORU 8 : Yer kabuğunda meydana gelen ani kırılmalar nedeniyle meydana gelen sarsıntılara deprem denir. Ülkemiz deprem olma riski yüksek bir ülkedir. En son 20/03/2019 Çarşamba günü Denizli ilimizin Acıpayam ilçesinde 5.5 şiddetinde yaşanan deprem bizlere bunu bir kez daha hatırlatmıştır. Bundan dolayı depreme karşı önlemlerimizi almalı bu doğal afete karşı sürekli hazırlıklı olmalıyız. Buna göre; **aşağıdakilerden hangisi depreme karşı alınabilecek önlemlerden biri değildir?**

- a) Binaların yapımında kaliteli malzemeler kullanılmalı
- b) İnsanlar depreme karşı bilgilendirilmeli
- c) Deprem çantası hazırlanmalı ve sürekli hazır durumda tutulmalı
- d) Deprem riski olan bölgeler ağaçlandırılmalı

SORU 9 : Genel Ağ (İnternet) günümüzde birçok alanda kullanılmaktadır. Genel Ağın yararları olduğu kadar zararları da vardır. Bu nedenle Genel Ağ güvenli kullanmadığımız zaman birçok sorunla karşılaşabilmekteyiz. Buna göre; **aşağıdakilerden hangisi güvenli genel ağ kullanımına örnek olarak gösterilebilir?**

- a) Tüm sitelerden güvenilir bilgiler edinebiliriz
- b) Kişisel bilgilerimizi rahatlıkla paylaşabiliriz
- c) Rahatsız edici bir durumla karşılaştığımız zaman anne – babamıza haber vermeliyiz
- d) İnternette indirdiğimiz resim, müzik, video bilgisayarımıza hiçbir zaman zarar vermez

SORU 10 : bilim insanı bir soruna çözüm bulmak için harekete geçen ve gerçek bilgiye ulaşmaya çalışan kişiye denir. Bilim insanları bilimsel yöntemler kullanarak araştırmalar yapar ve araştırma sonuçlarını başkalarıyla paylaşırlar. Bu elde edilen bilgiler günlük hayatımızı kolaylaştıran birçok buluşun yapılmasını sağlar. Buna göre **aşağıdakilerden hangisi bilim insanının özellikleri arasında gösterilemez?**

- a) Tarafli ve ön yargılıdır
- b) İyi bir gözlemcidir
- c) Meraklı, sorgulayıcı ve araştırmacıdır
- d) Planlıdır. Zamanı verimli kullanır

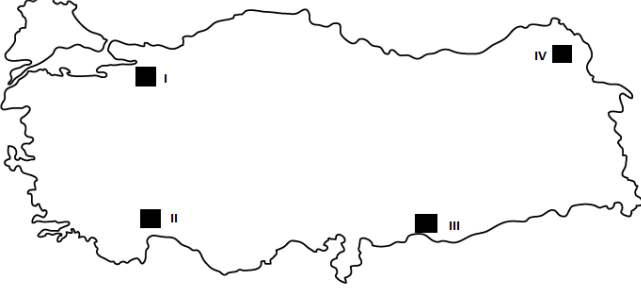
SORU 11 : Herhangi bir bilimsel araştırma yapılırken izlenecek bir yöntem ve teknik bulunmaktadır. Buna Bilimsel Araştırma Basamakları denir. Buna göre;

- I. Araştırma raporu düzenlenir
- II. Araştırma yapılacak konu belirlenir
- III. Araştırma sonunda yararlanılan kaynaklar belirtilir
- IV. Hangi kaynaklardan araştırma yapılacağı belirlenir
- V. Gerekli bilgiler toplanır

Yukarıda karışık olarak verilen Bilimsel Araştırma basamaklarının doğru sıralanışı **aşağıdakilerden hangisidir?**

- a) I,III,V,II,IV
- b) II,IV,V,I,III
- c) I,II,III,IV,V
- d) V,IV,III,II,I

SORU 12 : Üretim ve tüketim arasındaki ilişki ekonomik faaliyetlerin ortaya çıkmasına neden olmuştur. İklim, yeryüzü şekilleri, su kaynakları, ve nüfusun dağılışı gibi doğal ve beşeri faktörler ülkemizdeki ekonomik faaliyetlerin dağılışını etkilemektedir. Buna göre **aşağıdaki haritada işaretli alanlardan hangisinde sanayi faaliyetlerin en yoğun olduğu yerdir?**



- a) I
- b) II
- c) III
- d) IV

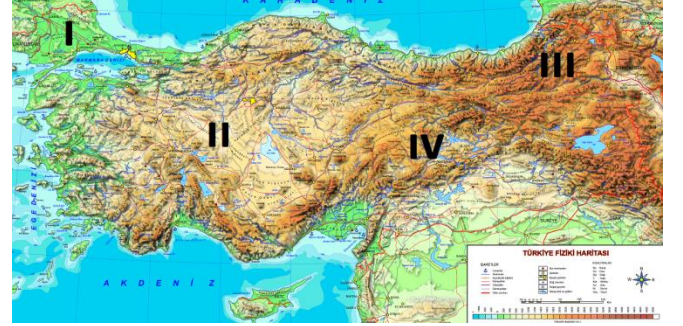
SORU 13 : Yer kabuğunda çok uzun yıllar boyunca oluşan ve ekonomik değeri olan minerallere Maden denir. Madenlerin araştırılması, çıkartılması ve işletilmesiyle ilgili teknik ve yöntemlerin tamamına ise Madencilik denir. Buna göre ülkemizde madenciliğin gelişmesi için Atatürk tarafından 14 Haziran 1935 yılında kurulan Maden Teknik Ve Arama kuruluşu **aşağıdakilerden hangisidir?**

- a) ÇEKÜL
- b) TEMA
- c) MTA
- d) KIZILAY

SORU 14 : Ekonomik faaliyetler tarım, hayvancılık, sanayi, ticaret, turizm, madencilik, ormancılık, hizmet gibi birçok alandan oluşmaktadır. Bu faaliyet alanlarından biri olan tarım, ülkemizde yetiştirilen ürünler bakımından farklılık göstermektedir. Bunun nedenleri arasında **aşağıdakilerden hangisi gösterilemez?**

- a) Çeşitli iklim tiplerinin görülmesi
- b) Yeryüzü şekillerinin bölgeden bölgeye farklılık göstermesi
- c) Sıcaklığın bölgeden bölgeye farklılık göstermesi
- d) Yeraltı kaynaklarının farklılık göstermesi

SORU 15 : Hayvanların yetiştirilmesi, bakılması ve hayvanlardan elde edilen ürünlerin pazarlanmasına hayvancılık denir. Ülkemizde hayvancılık faaliyetleri bölgeden bölgeye değişmektedir. Buna göre **aşağıdaki Türkiye haritasında işaretli alanlardan hangisinde Büyükbaş Hayvancılık yaygın olarak yapılmaktadır?**



- a) I
- b) II
- c) III
- d) IV