

Adı Soyadı:

..... ORTAOKULU 2018 – 2019 EĞİTİM ÖĞRETİM YILI 6. SINIFLAR

Aldığı Not:

Sınıfı / No:

2. DÖNEM 1. YAZILI SINAVI

A) BOŞLUK DOLDURMA (HER SORU 3 PUANDIR)

Coğrafi Konum	Kaynakça	Nümismatik	Bacasız Sanayi
Ova	Hicret	Önyargı	Köktürk (Göktürk) Devleti
	Cahit ARF	Patent Hakkı	Rol

- 1) Bir grup etkinliğinde yer alan bireylerin üstlendikleri görevlere **Rol**.... denir.
- 2) İslam Tarihi'nde 622 yılında Mekke'den Medine'ye yapılan bu göç hareketine.... **Hicret**.... adı verilir..
- 3)**Önyargı**..... bir kişi ya da olaya ilişkin yeterli bir bilgi edinmeden, önceden, peşin bir karara varmış olma durumudur.
- 4)**Köktürk (Göktürk) Devleti**..... Tarihte Türk adıyla kurulan ilk Türk devletidir.
- 5)**Coğrafi Konum**..... Bir yerin Dünya üzerinde bulunduğu konuma coğrafi konum denir. Matematik ve özel konum olarak ikiye ayrılır.
- 6) Çevresine göre alçakta kalmış düzlüklere**ova**.... denir.
- 7) Eski paraların üzerindeki resim, şekil ve sembolleri inceleyerek o toplumun siyasi, ekonomik ve kültürel durumu hakkında bilgi veren bilim dalına**Nümismatik**... denir.
- 8)**cahit arf**....Cebir konusundaki çalışmalarıyla dünyaca ün kazanmış bilim insanımızdır. Arf değişmezi ve Arf halkaları gibi literatürde kendi adıyla anılan çalışmaları vardır. 10 Türk Lirasının ön yüzünde portresi vardır.
- 9) Bir araştırma ve incelemede yararlanılan kaynak kitaplar, yapıtlar**Kaynakça**..... bölümünde belirtilir.
- 10) Buluş sahibinin buluş konusu ürünü belirli bir süre üretebilme, kullanabilme, satabilme veya ithal edebilme hakkına **patent hakkı**denir.
- 11) Turizm sağladığı gelirler sebebiyle turizme ülkemizde**bacasız sanayi**.....denilmiştir.

B) DOĞRU YANLIŞ (HER SORU 4 PUANDIR)

- (**D**) Sivil toplum kuruluşları gönüllülük esasına dayalı olarak yaptıkları çalışmalarla toplumda dayanışmanın oluşmasına katkı sunarlar.
- (**D**) Günümüzdeki en önemli gelişmelerden biri Nano teknolojidir.
- (**Y**) kıtalar arasındaki büyük çukurlarda yer alan geniş ve derin su kütlelerine kıta denir. Dünya üzerinde 7 kıta vardır.
- (**D**) Türkiydr patent alabilmek için başvurulabilecek kurum 'Türk Patent Enstitüsü'dür
- (**D**) Dünya Bor madeni rezervinin büyük bir kısmı ülkemizde bulunmaktadır. Bor madeni günlük hayatta kullandığımız birçok alet, eşya ve makede kullanılmaktadır.
- (**D**) Hayal gücü, bilimsel araştırma sürecinin her basamağında önemlidir. Farklı fikirler üretebilmek, uygulanabilir çözümler sunabilmek, özgün sorular ortaya koyabilmek hayal gücü ile mümkündür.
- (**Y**) başkalarının ürünlerini herhangi bir izin almaksızın kopyalayabilir, taklit edebilir ve çoğaltabiliriz.

HAZIRLAYAN: METİN ERCAN CAN**NOT: SORULARIN TİCARİ AMAÇLA KULLANILMASI KESİNLİKLE YASAKTIR...**

C) ÇOKTAN SEÇMELİ TEST (HER SORU 3 PUANDIR.)

Soru 1 : Sosyal Yardımlaşma ve Dayanışma; İnsanların beslenme, giyinme, barınma, eğitim, sağlık gibi ihtiyaçlarını karşılamak için ortaya çıkan, toplumun ekonomik yapısını dengede tutan, birlik ve beraberliği artıran değerlere sosyal yardımlaşma ve dayanışma denir. Buna göre;

aşağıdakilerden hangisi dayanışma ve yardımlaşmanın faydaları arasında gösterilemez?

- a) Toplumda sevgi ve saygı artar
- b) Toplumsal birlik ve beraberlik artar
- c) **Toplumun parçalanmasına neden olur**
- d) Karşılaşılan sorunlar daha çabuk çözülür

Soru 2 : Haklarının ne olduğunu bilen bilinçli bireylerden oluşan toplumlarda

- I. karşılaşılabilecek sorunlar azalır
- II. toplumda şiddet artar
- III. yardımlaşma, birlik ve beraberlik bilinci gelişir

aşağıdakilerden hangisi ya da hangilerinin gerçekleşmesi beklenmez?

- a) Yalnız I
- b) **Yalnız II**
- c) I ve III
- d) II ve III

SORU 3 : Eski Türkler arasında Gök Tanrı inancı yaygındı. Ölen kişileri eşyaları ile birlikte yuğ adı verilen bir törenle gömerlerdi. Ölen kişi "kurgan" denilen mezara değerli eşyaları ile birlikte gömülürdü.

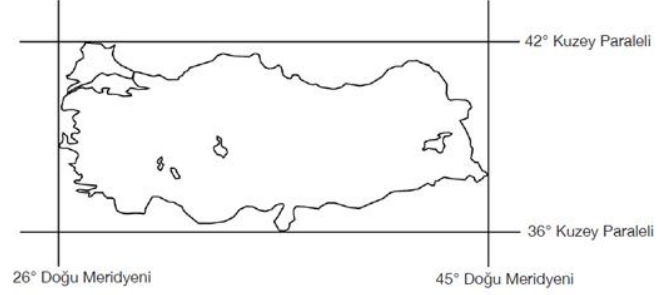
Yukarıda verilen metinde asıl anlatılmak istenen aşağıdakilerden hangisidir?

- a) **Türkler ölümden sonraki yaşama inanırlar (ahiret inancı)**
- b) Türkler konargöçer bir yaşam sürerler
- c) Türklerde törenler büyük öneme sahiptir
- d) Bu gelenekler günümüzde de devam etmektedir

Soru 4 : Kaşgarlı Mahmud tarafından Abbasi halifesine sunulan , Araplara Türk dilini öğretmek amacıyla yazılmış önemli bir eserdir. Kitapta çeşitli Türk topluluklarının lehçelerinden örnekler verilmiştir. Türklerin yaşadığı coğrafyaya, ekonomisine, sosyal hayatına ve inançlarına ait önemli bilgiler içerir. Ayrıca Türk dünyasını gösteren bir harita bulunur. Buna göre; **Yukarıdaki tanım cümlesinde boş bırakılan yere aşağıdakilerden hangisi getirilmelidir?**

- a) Atabetü'l Hakâyık
- b) Divân-ı Hikmet
- c) Kutadgu Bilig
- d) **Dîvânü Lugâti't-Türk**

SORU 5 :



yukarıda matematik konumu verilen Türkiye haritasına bakarak Türkiye'nin en doğusu ile en batısı arasındaki yerel saat farkı kaç dakikadır?

- a) **76 dakika**
- b) 19 dakika
- c) 45 dakika
- d) 26 dakika

SORU 6 :



Yukarıda verilen türkiye fiziki haritasına bakarak aşağıdakilerden hangisine ulaşabiliriz.

- a) Bitki örtüsü
- b) **Yeryüzü şekilleri**
- c) Nüfusun dağılışı
- d) Sanayinin dağılışı

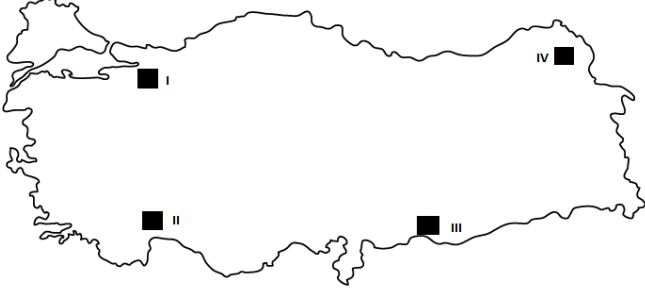
SORU 7: Cumhuriyet'in ilanından sonra Mustafa Kemal Atatürk çağdaş uygarlık düzeyine ulaşmayı hedef olarak belirlemiştir. Bunun için dünyadaki gelişmelerin yakından takip edilmesini tavsiye etmiştir. bilimsel ve akılcı düşünceyi Türk toplumunun bütün alanlarına hâkim kılmaya çalışmıştır. Kendi ifadesine göre " Akıl ve mantığın halledemeyeceği mesele yoktur." Sözüyle **aşağıdakilerden hangisinin önemini vurgulamıştır?**

- a) Akıl ve bilimin
- b) Cumhuriyetin önemi
- c) Yaşlılara saygı
- d) **Bilimin önemi**

HAZIRLAYAN: METİN ERCAN CAN

NOT: SORULARIN TİCARİ AMAÇLA KULLANILMASI KESİNLİKLE YASAKTIR...

SORU 8 : belirli bir yerde yaşayan insan sayısına **nüfus** denir. Ülkemizin her yerinde nüfus aynı değildir bazı şehirlerimizin nüfusları yoğunken bazı şehirlerimizde ise nüfus daha azdır. Bunun nedeni nüfusun dağılışını etkileyen iklim, sanayi, yer şekilleri, turizm, bitki örtüsü gibi doğal ve beşeri faktörlerdir. Buna göre; **aşağıdaki haritada numaralandırılmış yerlerden hangisinin nüfusu en azdır?**



- a) I
- b) II
- c) III
- d) IV

SORU 9 : Herhangi bir bilimsel araştırma yapılırken izlenecek bir yöntem ve teknik bulunmaktadır. Buna Bilimsel Araştırma Basamakları denir. Buna göre;

- I. Araştırma raporu düzenlenir
- II. Araştırma yapılacak konu belirlenir
- III. Araştırma sonunda yararlanılan kaynaklar belirtilir
- IV. Hangi kaynaklardan araştırma yapılacağı belirlenir
- V. Gerekli bilgiler toplanır

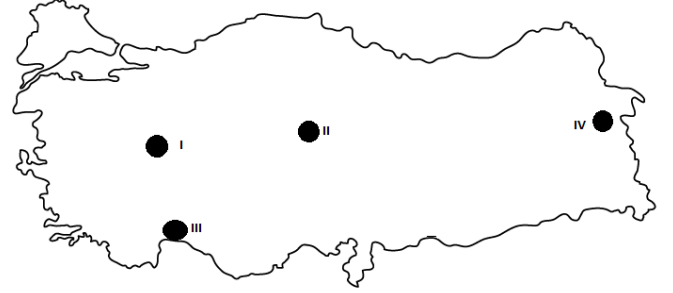
Yukarıda karışık olarak verilen Bilimsel Araştırma basamaklarının doğru sıralanışı aşağıdakilerden hangisidir?

- a) I,III,V,II,IV
- b) II,IV,V,I,III
- c) I,II,III,IV,V
- d) V,IV,III,II,I

SORU 10 : Aşağıdakilerden hangisi Ormanların faydalarından biri değildir?

- a) Oksijen kaynağıdır
- b) Erozyon ve taşkınları önler
- c) İş olanakları sağlar
- d) İnsanların en önemi yerleşim alanıdır

SORU 11 : Ülkemiz turizm kaynakları bakımından oldukça zengindir. Bu turizm kaynaklarını gezmek, görmek ve bu kaynaklardan faydalanabilmek için her sene dünyanın farklı ülkelerinden milyonlarca turist ülkemize gelmektedir. Buna göre; **aşağıdaki haritada işaretli alanlardan hangisinde turizm faaliyetleri en fazladır?**



- a) IV
- b) III
- c) II
- d) I

SORU 12 : Su yaşamın temel ögesidir. İnsan bedeninin yaklaşık %70'i, Dünya'nın ise yaklaşık %75'i sudan oluşmaktadır. Aynı zamanda su insanların ekonomik faaliyetlerinde önemli bir yere sahiptir. Türkiye önemli yer altı ve yer üstü su kaynaklarına sahiptir. Buna göre; **aşağıdakilerden hangisi ülkemizde suyun kullanım alanları arasında gösterilebilir?**

- a) Balık yetiştiriciliğinde
- b) Tarım alanında
- c) Elektrik santrallerinde
- d) Hepsi

SORU 13 : Ülkemizde hayvancılık genel anlamda büyükbaş, küçükbaş ve kümes hayvancılığı olarak sınıflandırılır. Bunun yanında arıcılık ve ipek böcekçiliği de hayvancılık faaliyetleri arasında yer alır. **Hayvancılık faaliyetlerinin ülkemizdeki dağılımında aşağıdakilerden hangisi etkili değildir?**

- a) Yeraltı kaynakları
- b) İklim
- c) Bitki örtüsü
- d) Su kaynaklarımız