

Üretim, Dağıtım ve Tüketim - 1

1. Mardin evlerinin neredeyse tamamının yapımında da kullanılan malzeme taştır, bu taşlar normal taştan ayrı olarak açık renkli sarımsı bir yapıdadır.

Mardin de yapı malzemesi olarak taş tercih edilmesinin nedeni aşağıdakilerden hangisidir?

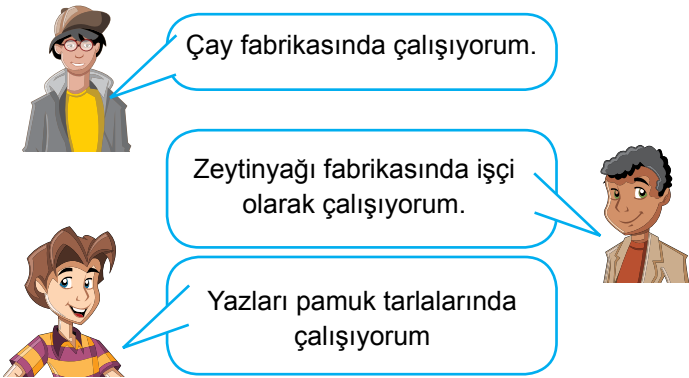
- A) Bölgede bol miktarda taş bulunması
- B) Depreme karşı taşın dayanıklı olması
- C) Taştan ev yapımının kolay ve hızlı olması
- D) Taşın yangına karşı direncinin yüksek olması

2. Kapadokya bölgesinde turizm faaliyetleri oldukça gelişmiştir.

Bu bölgede turizm faaliyetlerinin gelişmiş olmasının sebebi aşağıdakilerden hangisidir?

- A) Şelalelerin yaygın olması
- B) Kaplıcaların bulunması
- C) Yaz sıcaklığının yüksek olması
- D) Peribacalarının bulunması

3.



Yukarıda yaptıkları işler hakkında bilgi veren kişilerin sırasıyla aşağıdaki bölgelerden hangisinde iş bulma imkanları daha fazladır?

- A) Güneydoğu Anadolu - Karadeniz - Marmara
- B) Marmara - Güneydoğu Anadolu - Karadeniz
- C) Karadeniz - Marmara - Güneydoğu Anadolu
- D) Karadeniz - Güneydoğu Anadolu - Marmara

4. • Yükselti fazladır.
• Tarım alanları sınırlıdır.
• Yaz yağışları fazla olduğu için gür otlar vardır.

Yukarıda özellikleri verilen bir bölgede hangi ekonomik faaliyetin daha fazla gelişmesi beklenir?

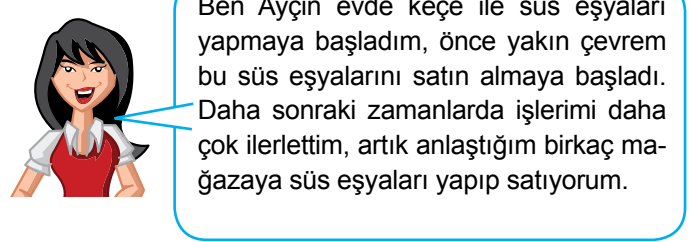
- A) Tarım
- B) Hayvancılık
- C) Turizm
- D) Sanayi

5. Bölgede doğal ve beşerî ortamın uygun olması, bölgedeki ekonomik faaliyetleri çeşitlendirmiştir. Keten, ayçiçeği, zeytin, mısır, buğday bunlardan bazılarıdır. Bölgenin önemli şehirlerinden İstanbul, tüm Türkiye'nin ithalat, ihracat, bankacılık ve sigortacılık merkezi hâline gelmiştir.

Yukarıdaki metinde özellikleri sıralanan bölge aşağıdakilerden hangisidir?

- A) Marmara Bölgesi
- B) Ege Bölgesi
- C) Akdeniz Bölgesi
- D) İç Anadolu Bölgesi

6.



Buna göre Ayçin Hanım ile ilgili,

- I. Üretime katkı sağlamıştır.
 - II. Girişimciliği başarılı olmuştur.
 - III. Ülke ekonomisine katkıda bulunmuştur.
- durumlarından hangilerine ulaşılabilir?**

- A) I ve II.
- B) I ve III.
- C) II ve III.
- D) I, II ve III.

Üretim, Dağıtım ve Tüketim - 1

7. I. Konya'da şeker pancarı tarımının yapılması
II. Şekerin Konya'da fabrikadan Ankara'ya getirilmesi
III. Yapılan tatlılarda şekerin kullanılması

Yukarıda verilen faaliyetlerin türü aşağıdakilerden hangisinde doğru olarak verilmiştir?

I	II	III
A) Üretim	Dağıtım	Tüketim
B) Dağıtım	Tüketim	Üretim
C) Üretim	Tüketim	Dağıtım
D) Dağıtım	Üretim	Tüketim

8. Hammaddenin çabuk bozulabilir olduğu ürünlerin üretim tesisleri hammadde kaynağına yakın yerlerde kurulur.

Bu duruma aşağıdaki sanayi dallarından hangisi örnek gösterilemez?

- A) Konserve Fabrikaları
B) Çay Fabrikaları
C) Şeker Fabrikaları
D) Yünlü dokuma Fabrikaları

9. Tarımsal üretimin geliştirilmesi için aşağıdaki verilen bilgilerden hangisi yanlıştır?

- A) Tarım arazileri bölünüp küçültülmelidir.
B) Çiftçilere verimi yüksek, kaliteli tohumlar dağıtılmalıdır.
C) Çiftçiye uygun sulama yöntemleri konusunda bilgi verilmelidir.
D) Çiftçilere tohum ekimi ve gübreleme konusunda bilgi verilmelidir.

10. Doğu Anadolu Bölgesi en fazla göç veren bölgelerimizden biridir.

Aşağıdakilerden hangisi bu bölgenin göç vermesinin en önemli nedenidir?

- A) Yazların kurak geçmesi
B) Maden çeşitliliğinin fazla olması
C) Otlakların geniş yer kaplaması
D) İş imkanlarının yetersiz olması

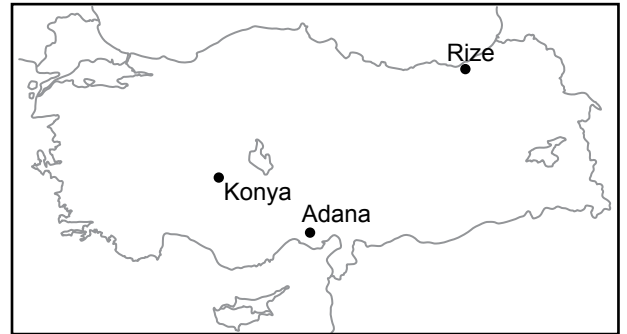
11. Karadeniz Bölgesi'nin;

- Uzun bir kıyı şeridine sahip olması
- Bitki örtüsünün orman olması
- Her mevsim yağışlı olması
- Engebeli yer şekillerine sahip olması

özellikleri dikkate alındığında aşağıdaki ekonomik faaliyetlerden hangisinin bölgede daha az gelişmesi beklenir?

- A) Balıkçılık
B) Ormancılık
C) Deniz Turizmi
D) Kağıt Sanayi

- 12.



Haritada verilen yerler ile bu yerlerde gelişen sanayi faaliyetleri hangi seçenekte doğru eşleştirilmiştir?

Konya	Adana	Rize
A) Şeker fab.	Dokuma fab.	Çay fab.
B) Çay fab.	Dokuma fab.	Şeker fab.
C) Dokuma fab.	Şeker fab.	Çay fab.
D) Şeker fab.	Çay fab.	Dokuma fab.

