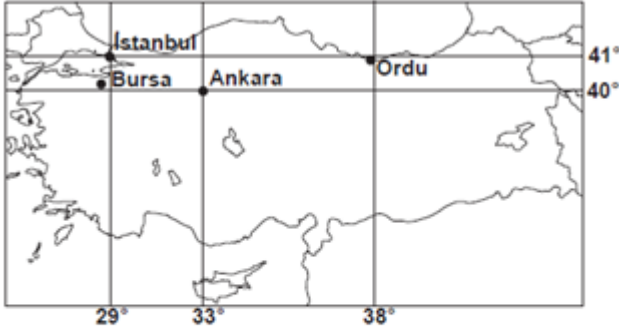


SOSYAL BİLGİLER DERSİ ÖDÜLLÜ DARTLI BİLGİ YARIŞMASI SORULARI (6. SINIF)
(2.ÜNİTE YERYÜZÜNDE YAŞAM)

Süleyman Dede'nin 2015 yazında tatile gittiği şehir, 41° Kuzey paraleli ile 29° Doğu meridyenine yakın bir yerdir.



1 Bu şehir aşağıdakilerden hangisidir?

- A) Ordu B) İstanbul
C) Ankara D) Bursa

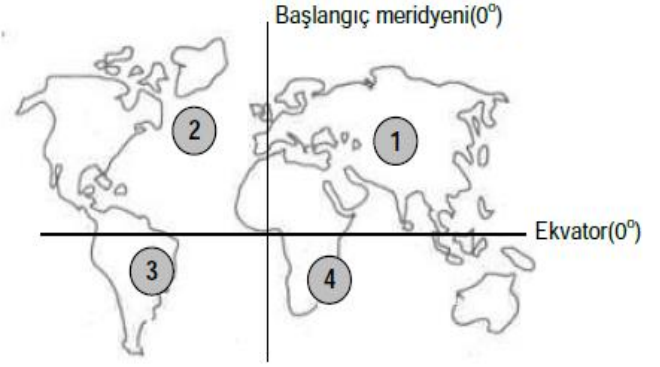
Aşağıda verilen yerlerin 1/500 000 ölçekli haritaları, kağıtlara boşluk kalmadan çizilmiştir.

2-Hangisi için kullanılacak kağıdın boyutları en büyüktür?

- A) Kale ilçesi B) Özlüce Köyü
C) Denizli İli D) Ege Bölgesi

3-Aşağıda verilen ölçeklerden hangisiyle hazırlanan Kale ilçesi haritasında, küçültme oranı daha azdır?

- A) 1: 1.000 B) 1: 10.000
C) 1: 100.000 D) 1: 1.000.000



4-"Ekvatorun güneyine ve başlangıç meridyeninin batısına" 2016 yaz tatilinde gezmeye gidecek olan okulumuz 6-A öğrencisi Bahar'ın yukarıda numaralandırılarak verilen merkezlerden hangisine gideceği söylenebilir?

- A) 3 B) 4
C) 1 D) 2

Dağ tırmanışı yapan bir araştırma grubu 3 gün boyunca aynı saatte yükselti ve sıcaklığı ölçmüşlerdir.

Günler	Yükselti (m)	Sıcaklık (°C)
1. Gün	2.000	5
2. Gün	3.000	0
3. Gün	4.000	-5

5-Tabloda verilen bu ölçümler dikkate alındığında sıcaklık değerlerinin değişmesinde aşağıdakilerden hangisinin temel faktör olduğu görülür?

- A) Bakı durumu
B) Rüzgarların sıcak ya da soğukluğu
C) Rakımsal değerlerin farklılaşması
D) Denizellik- Karasallık durumu

6



Resimdeki baskimoların yaşıdıkları yer hangisi seçeneklerde doğru verilmiştir?



- I- Su kanallarıyla sulamaya dayalı tarımı geliştirmeleri
- II- Yaşamlarını avcılıkla sürdürmeleri
- III- Site adı verilen şehirler kurmaları
- IV- Tuğladan ev yapmaları

7-Yukarıda verilen bilgilerden hangisi ya da hangileri Sümerlerin **yerleşik** bir yaşamı benimsediklerine kanıttır?

- A) Yalnız II
- B) I, II ve III
- C) II ve IV
- D) I, III ve IV

Friglerden günümüze;

- I- tunçtan yapılmış göbekli taslar
- II- fibula denilen çengelli iğneler
- III- seramik çanak çömlekler kalmıştır.

8-Bunlardan hangisi ya da hangileri **toprak işleme** sanatının geliştiğine kanıttır?

- A) Yalnız III
- B) I, II ve III
- C) I ve II
- D) II ve III



Ülkemin bilginleri Ay ve Güneş tutulmasını, Ay yılı takvimini hesapladı. Güneş sistemindeki beş gezegeni ve burçları buldu. Ziggurat adını verdiğimiz tapınaklar aynı zamanda birer gözlem eviydi.

9-Yukarıda Sümerli Süleyman'ın anlattığı bilimsel çalışmaları yapan bilim dalı hangisidir?

- A) Matematik
- B) Coğrafya
- C) Astronomi
- D) Tıp

- Mısırlılarla Kadeş Antlaşması'nı yapmışlardır.
- Tarihte ilk kez madeni para kullanmışlardır.
- Şamran Kanalını inşa etmişlerdir.

10-Yukarıdaki gelişmeler ile aşağıdaki uygarlıklar arasında eşleştirme yapıldığında hangi uygarlık **dışarıda** kalır?

- A) Urartular B) Hititler
C) Lidyalılar D) Sümerler

Merhaba Mustafa! Nasılsın? ①

İyiyim, sen nasılsın? Hava nasıl? ②

Mesut (Adana) **Mustafa (Erzurum)**

Çok iyiyim. Buğdayı hasat ettik. Bu yıl verim yüksek oldu. Tarlayı ikinci ürün için hazırlıyoruz. ③

Ne güzel! Bizim burada buğdayların olgunlaşmasına daha çok var. Biz hâlâ sobayı yakıyoruz. Herhâlde sizin orada denize giriliyordu. ④

Mesut **Mustafa**

11

Verilen diyaloga bakarak Mustafa'nın yaşadığı yer için aşağıdakilerden hangisi söylenebilir?

- A) Kış mevsiminin soğuk ve uzun sürdüğü
B) Dağlık yerleşmelerin yaygın olduğu
C) Makineli tarımın gelişmiş olduğu
D) Bitki örtüsünün makilerden oluştuğu



12-Yukarıda resmi verilen görsel;

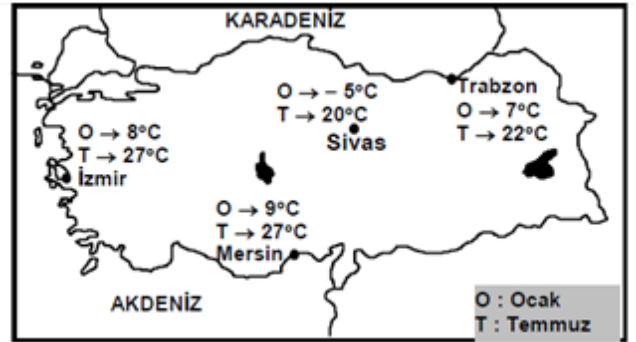
I- Ekvatorial İklim

II- Karasal İklim

III- Kutup İklimi

hangisi iklim ya da iklimlerde görülebilir?

- A) Yalnız I B) I, II ve III
C) I ve II D) II ve III



13-Yukarıda verilen illerden hangisi nemli bir iklime sahip olmasından dolayı yazları serin kışları ise ılıman geçer ve yıllık sıcaklık farkı diğerlerine göre **daha az** olur?

- A) Sivas B) Trabzon
C) İzmir D) Mersin

Okulumuz 6-A sınıfı öğrencisi Can, Kale ilçesinin Demirciler mahallesinin haritasını çizecektir.

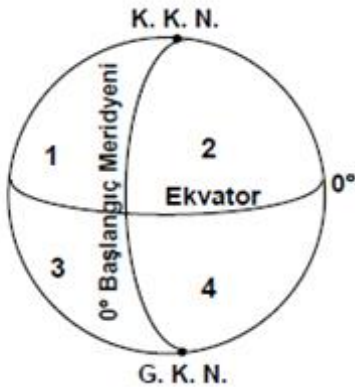
14-Can, aşağıdaki ölçeklerden hangisini kullanırsa daha büyük bir kağıda ihtiyaç duyar?

A) $\frac{1}{100}$

B) $\frac{1}{1000}$

C) $\frac{1}{10000}$

D) $\frac{1}{100000}$



15-Avustralya kıtasının coğrafi konumu dikkate alındığında, **Avustralya** kıtası yukarıdaki işaretli alanlardan hangisinde yer alır?

A) 2

B) 1

C) 4

D) 3

Aşağıda verilen bir uygarlık ve o uygarlığı tanıttığı bir özellik verilmiştir

16-**Yanlış** verilen seçenek aşağıdakilerden hangisidir?

A) Zenginliğin, bilim ve sanatın zirve yaptığı uygarlık: **İyonyalılar**

B) Taşa şekil veren Uygarlık: **Urartular**

C) Anadolu'nun ortasında iz bırakan uygarlık: **Hititler**

D) İlk anayasayı yapan uygarlık: **Sümerler**

17-Aşağıdaki öğrencilerimizden hangisi **yanlış** bilgi vermiştir?

A) **BÜŞRA**: Hint okyanusuna kıyısı olan Avustralya kıtası yüz ölçüm (Alan) bakımından dünyanın en küçük kıtası olarak bilinir.

B) **ERSİN**: Ekonomik açıdan en gelişmiş Avrupa kıtasının güneyinde Akdeniz, batısında Atlas Okyanusu, Kuzeyinde Kuzey Buz denizi, doğusunda ise Asya kıtası yer alır.

C) **RAMAZAN**: Siyahi kıta olarak da bilinen Afrika kıtasının kuzeyinde Akdeniz yer alır.

D) **TURGAY**: Asya kıtasının doğusunda Avrupa kıtası yer alır.

18-Türkiye'nin "**matematik konumu**" sonuçları arasında;

I- Türkiye'de dağlar, genellikle Doğu-Batı yönünde uzanmaktadır. Buna bağlı olarak özellikle Karadeniz ve Akdeniz'de "**denizel ılıman iklim**" iç kısımlara fazla sokulamaz.

II- 60'dan fazla maden çeşidi, zengin su kaynakları, 80 milyona yaklaşan nüfusu ve gelişmekte olan ekonomik gücü ile stratejik önemi artmıştır

III- Üç tarafı denizlerle çevrili, yer şekilleri bakımından çeşitli olan ülkemiz Anadolu ve Trakya olmak üzere iki yarımadadan oluşur

IV- Kuzeyden esen rüzgarlar, kutup kaynaklı geldiği için soğuktur ve sıcaklığı düşürür; güneyden esen rüzgarlar ise ekvator kaynaklı geldiği için sıcaktır ve sıcaklığı artırır.

hangisi ya da hangilerinin olduğu söylenebilir?

A) I, III, IV

B) I, II, III

C) Yalnız IV

D) I, II, III, IV

19-İlkçağ'ın sona ermesinde etkili olan gelişme aşağıdakilerden hangisidir?

- A) Ateşin bulunması
- B) Kavimler göçünün Hun Türklerince başlatılması
- C) Hz İsa'nın doğumu
- D) Sümerlerin çividen yazı yazmaları

20-“Çivi yazısı, Tekerlek, Ziggurat, Rasathane” gibi kavramlar aşağıdaki hangi uygarlığa aittir?

- A) Urartular
- B) Hititler
- C) Lidyalılar
- D) Sümerler

HAZIRLAYAN VE SUNAN
KALE ÖZLÜCE ORTAOKULU
SOSYAL BİLGİLER ÖĞRETMENİ
MEHMET ÖZKÜZ

SOSYAL BİLGİLER DERSİ ÖDÜLLÜ DARTLI BİLGİ YARIŞMASI SORULARI (6. SINIF)
(2. ÜNİTE YERYÜZÜNDE YAŞAM)

CEVAP ANAHTARI

1-B

2-D

3-A

4-A

5-C

6-D

7-D

8-A

9-C

10-D

11-A

12-A

13-B

14-A

15-C

16-D

17-D

18-C

19-B

20-D