




Serinhisar Kocapınar Ortaokulu/DENİZLİ -7. Sınıf
(SBS ve İOKBS Soruları)



SOSYAL BİLGİLER
2. Ünite: Türk Tarihinde Yolculuk

Test 2-Osmanlı Fetih Siyaseti

1. (2008 SBS)



Yukarıda Osmanlı Döneminden günümüze kadar varlığını devam ettiren değişik dinlere ait bazı ibadet yerlerinin temsilî resimleri verilmiştir.

Bu resimlerden yola çıkarak Osmanlı toplumu için aşağıdakilerden hangisi söylenemez?

- A) Farklı kültürler bir arada yaşamıştır.
- B) İnanç ve ibadet hürriyeti sağlanmıştır.
- C) Adaletli ve hoşgörülü bir yönetim uygulanmıştır.
- D) İbadet hayatı yalnızca İslamiyet'e göre yaşanmıştır.

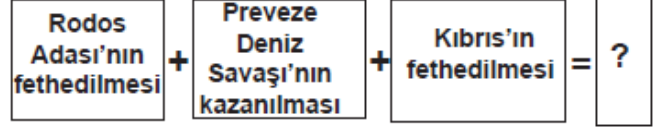
2. (2008 SBS)



Yukarıda verilen şemada “?” ile gösterilen yere, aşağıdakilerden hangisi yazılabilir?

- A) Maltepe (Pelekanon) Savaşı
- B) Varna Savaşı
- C) Ankara Savaşı
- D) Otlukbeli Savaşı

3. (2009 SBS)



Verilen diyagramda “?” ile gösterilen yere aşağıdakilerden hangisi getirilebilir?

- A) Boğazlar Türk egemenliğine girmiştir.
- B) Haçlılar Türkleri yenilgiye uğratmıştır.
- C) Akdeniz'de Türk egemenliği güçlenmiştir.
- D) Barbaros Hayrettin Paşa Kaptan-ı Derya olmuştur.

4. (2010 SBS)

Aşağıdakilerden hangisi İstanbul'un fethiyle Osmanlı Devleti'nin **ekonomik** kazanç elde ettiğinin göstergesi olamaz?

I- Önemli ticaret yollarının İstanbul ve Çanakkale boğazlarından geçmesi

II- Bizans'ın Karadeniz ticaret yolundan vergi alması

III- İstanbul'daki Hristiyan bilim adamlarının İtalya'ya göç etmesi

- A) Yalnız I
- B) Yalnız III
- C) I ve II
- D) II ve III

5. (2011 SBS)



diyen Aykız, aşağıdakilerden hangisini bu görüşüne örnek gösteremez?

- A) Niğbolu Savaşı
- B) Ankara Savaşı
- C) Varna Savaşı
- D) I. Kosova Savaşı



Serinhisar Kocapınar Ortaokulu/DENİZLİ -7. Sınıf
(SBS ve İOKBS Soruları)

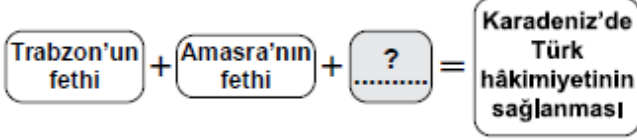


SOSYAL BİLGİLER

2. Ünite: Türk Tarihinde Yolculuk

Test 2-Osmanlı Fetih Siyaseti

6. (2011 SBS)



Şemada “?” ile boş bırakılan yere aşağıdakilerden hangisi yazılabilir?

- A) Rodos'un fethi B) Belgrad'ın fethi
C) Mısır'ın fethi D) Kırım'ın fethi

7. (2012 İOKBS)

Aşağıdakilerden hangilerinin fethi, Karadeniz'de ticaretin Osmanlıların denetimine girmesini sağlamıştır?

- I. Amasra
II. Kıbrıs
III. Trabzon

- A) I ve II B) I ve III
C) II ve III D) I, II ve III

8. (2013 İOKBS)

Fatih Sultan Mehmet;

- Cenevizlilerden Amasra'yı almış,
- Trabzon İmparatorluğu'na son vermiş,
- Kırım'ı Osmanlı'ya bağlamıştır.

Fatih Sultan Mehmet'in bu faaliyetleri, Osmanlı Devleti'nin en çok hangi alanda gelişmesine katkı sağlamıştır?

- A) Sanat B) Tarım
C) Bilim D) Ticaret

9. (2013 İOKBS)

“Tarih boyunca İstanbul, önemli kara ve deniz ticaret yolları üzerinde bulunuyordu.”

Verilen bu bilgi doğrultusunda, İstanbul'un fethi Osmanlı Devleti'ne daha çok hangi alanda katkı sağlamıştır?

- A) İdari B) Siyasi
C) Ekonomik D) Askerî

10. (2014 İOKBS)

Osmanlı Devleti; Anadolu, Suriye ve Mısır bölgelerine egemen olduğunda, bu bölgeler için stratejik ve merkezî bir üs konumunda olan Kıbrıs Adası, Venedik'in idaresinde bulunuyordu. Bu yıllarda ada, Doğu Akdeniz'de Hristiyanların kalesi durumundaki tek yerleşim yeri idi. Ayrıca Kıbrıs kralı zaman zaman, Osmanlı aleyhine kurulan ittifaklara da yardımlarda bulunuyordu.

Verilen bilgidен hareketle Kıbrıs'ın fethinin, Osmanlı Devleti'ne;

- I. dinî II. iktisadi
III. siyasi IV. askerî

alanların hangilerinde katkı sağladığı söylenebilir?

- A) I ve II B) II ve III
C) III ve IV D) I, III ve IV

11. (2015 İOKBS)

Osmanlı Devleti içinde farklı etnik ve dinî unsurlar bulunmaktaydı. Örfi hukuk, bu farklı unsurların duyarlılıklarını gözeten bir hukuk sistemiydi.

Osmanlı Devleti'nde bu örfi hukukun uygulanması aşağıdakilerden hangisinin kanıtıdır?

- A) Osmanlı Devleti'nde hukuk birliğinin sağlandığının
B) Osmanlı Devleti'nin farklı kültürlerden etkilendiğinin
C) Farklı unsurların Osmanlı Devleti üzerinde etkili olduğunun
D) Osmanlı Devleti'nde hoşgörü ve birlikte yaşama fikrinin geliştiğinin



Serinhisar Kocapınar Ortaokulu/DENİZLİ -7. Sınıf
(SBS ve İOKBS Soruları)



SOSYAL BİLGİLER

2. Ünite: Türk Tarihinde Yolculuk

Test 2-Osmanlı Fetih Siyaseti

12. (2015 İOKBS)

Yapılan fetihler sonunda önemli kara ve deniz ticaret yollarının Osmanlı Devleti'nin eline geçmesi, aşağıdaki alanlardan hangisine katkı sağlamamıştır?

- A) Ekonomi B) Siyaset
C) Askeriye D) Din

13. (2016 İOKBS)

Osmanlı Devleti'nin fethettiği şehirlerde farklı dinlere ait ibadet yerleri varlığını devam ettirmiştir. Egemenliği altındaki gayrimüslimler dinlerini serbestçe yaşamışlardır.

Bu durum, Osmanlıların aşağıdakilerden hangisine önem verdiğine kanıt olarak gösterilebilir?

- A) Din birliğine
B) Farklı dinleri tanımaya
C) Kültürlerini kabul ettirmeye
D) İnançlara hoşgörü ile yaklaştıklarına

14. (2017 İOKBS)

- I. Trabzon
II. Kırım
III. Kıbrıs

Numaralanmış yerlerden hangilerinin fethi, Karadeniz'de Türk hâkimiyetini güçlendirmiştir?

- A) Yalnız I. B) Yalnız II.
C) I ve II. D) II ve III.

15. (2017 İOKBS)

Aşağıdakilerden hangisi Orhan Bey dönemi (1324-1362) olaylarından değildir?

- A) Bursa'nın fethi
B) Fetret Devri'nin başlaması
C) Türklerin Rumeli'ye geçmesi
D) Orduda yaya ve müsellemler birliklerinin oluşturulması

16. (2018 İOKBS)

- I. Rodos Adasının Fethi
II. Ridaniye Savaşı
III. İstanbul'un Fethi

15. soruda ve seçeneklerde değiştirme yapılmıştır.

Verilen olayların kronolojik sıralaması aşağıdakilerden hangisidir?

- A) I-II-III B) I-III-II
C) III-I-II D) III-II-I

17. (2018 İOKBS)

Osman Bey, oğlu Orhan Gazi'ye; "İlim ehli insanlara rağbet et, askerine ve malına güvenip âlimlerden uzaklaşma!" diye vasiyet etmiştir.

Osman Bey'in bu sözleriyle önemini vurguladığı erdem, aşağıdakilerden hangisidir?

- A) Bilgi B) Hoşgörü
C) Cesaret D) İyilikseverlik

18. (2018 İOKBS)

Osmanlılarda "Kaptan-ı Derya" unvanı verilen ilk denizci aşağıdakilerden hangisidir?

- A) Kemal Reis
B) Oruç Reis
C) Barbaros Hayrettin Paşa
D) Kılıç Ali Paşa

19. (2019 İOKBS)

- Gelibolu Yarımadası'ndadır.
-Batı seferlerinde üs olarak kullanılmıştır.
-Osmanlı'nın Rumeli'deki ilk toprağıdır.

Bu bilgiler aşağıdakilerden hangisi ile ilgilidir?

- A) Rumeli Hisarı B) Çimpe Kalesi
C) Yarhisar Kalesi D) Anadolu Hisarı



SOSYAL BİLGİLER
2. Ünite: Türk Tarihinde Yolculuk

Test 2-Osmanlı Fetih Siyaseti

20. (2020 İOKBS)

Aşağıdakilerden hangisi İstanbul'un Fethi'nin "ekonomik" nedenlerindendir?

- A) Bizans'ın Osmanlı Devleti'nin batıda ilerleyişine engel olması
- B) İstanbul'un kara ve deniz ticaret yolları üzerinde önemli bir konumda bulunması
- C) Bizans'ın, Avrupa devletlerini Osmanlı Devleti'ne karşı kışkırtması
- D) Osmanlı Devleti'nin Anadolu ve Rumeli toprakları arasındaki bağlantıyı sağlamak istemesi

21. (2020 İOKBS)

Aşağıdakilerden hangisi Osmanlı Devleti'nin Haçlılarla yaptığı savaşlardan biri değildir?

- A) Ankara Savaşı
- B) I. Kosova Savaşı
- C) Varna Savaşı
- D) Niğbolu Savaşı

22. (2021 İOKBS)

Eskişehir'de kurulan bir pazarda bir Türk'ün Bizanslı tüccardan aldığı bardağın parasını ödememesi üzerine Osman Bey o kişiyi cezalandırarak Bizanslı tüccarın mağduriyetini gidermiştir.

Bu olay Osman Bey'in aşağıdakilerden hangisine verdiği önemi gösterir?

- A) Hoşgörüye
- B) Vatanseverliğe
- C) Cömertliğe
- D) Adaletle

23. (2022 İOKBS)

Aşağıdakilerden hangisi İstanbul'un Fethi'nin siyasi nedenlerinden biridir?

- A) İstanbul'un önemli ticaret yolları üzerinde olması
- B) Bizans'ın Osmanlı taht mücadelelerine karışması
- C) İstanbul'un Ortodoks mezhebinin merkezi olması
- D) Hazreti Muhammed (sav)'in hadisi

24. (2022 İOKBS)

Şeyh Edebali, Osmanlı Devleti'nin kurucusu olan Osman Gazi'ye "İnsanı yaşat ki devlet yaşasın." diyerek nasihatte bulunmuştur.

Aşağıdakilerden hangisi Osmanlıların bu nasihat doğrultusundaki uygulamalarından biri değildir?

- A) İrk ve din farkı gözetmeksizin adaletle dayalı bir yönetimin olması
- B) Gayrimüslim halka karşı hoşgörü politikasının benimsenmesi
- C) Fethedilen yerlere hastane, çeşme ve yol gibi yapıların inşa edilmesi
- D) Veraset sistemine göre Osmanlı şehzadelerine hükümdar olma hakkının verilmesi

25. (2023 İOKBS)

Kanuni Sultan Süleyman'ın Semendire kadısına gönderdiği fermanndan bir bölüm aşağıda verilmiştir. "Halktan kanuna aykırı vergi alındığı bana arz olundu. Bundan sonra halktan her kim olursa olsun, hangi makam sahibi olursa olsun kanuna aykırı bir nesne dahi alırtmayın. Sizin bu uygulamalara son vermediğiniz ve bu gibi olayları tarafıma bildirmediğinizi de duydum. Bu hükmüm size ulaştığında hemen sicil defterine kaydedin ve uygulamaya koyun."

Bu ferman, Kanuni Sultan Süleyman'ın aşağıdakilerden hangisine verdiği öneme kanıt olarak gösterilebilir?

- A) Eğitim-öğretime
- B) Din ve vicdan özgürlüğüne
- C) Adalet anlayışına
- D) Ordu gücüne



SOSYAL BİLGİLER

2. Ünite: Türk Tarihinde Yolculuk

Test 2-Osmanlı Fetih Siyaseti

26. (2023 İOKBS)

Osmanlı Devleti'nde sınırların genişlemesiyle birlikte farklı dil, din ve kültürden milletler bir arada yaşamaya başladı. Birbirinden farklı bu milletler 19. yüzyıla kadar barış ve huzur içinde beraberce yaşadılar.

Buna göre, Osmanlı Devleti ile ilgili aşağıdakilerden hangisi söylenebilir?

- A) Devşirme sistemini uyguladığı
- B) İskân politikasını uyguladığı
- C) Divan teşkilatını oluşturduğu
- D) Çok uluslu bir yapıya sahip olduğu

27. (2023 İOKBS)

Yavuz Sultan Selim'in 1517 yılında gerçekleştirdiği Mısır Seferi sonucunda,

- Osmanlı, İslam dünyasının koruyucusu oldu. Kutsal emanetler İstanbul'a getirildi.
- Baharat Yolu'nun önemli bir bölümü Osmanlı hâkimiyetine girdi.
- Memlûk Devleti'nin varlığına son verildi ve Osmanlı Devleti'nin sınırları Afrika'ya kadar genişledi.

Bu bilgide, Mısır Seferi'nin aşağıdaki alanlardan hangisi ile ilgili sonucundan söz edilmemiştir?

- A) Siyasi
- B) Dinî
- C) Ekonomik
- D) Bilimsel

28. (2023 İOKBS)

Osmanlı Devleti, Rumeli topraklarında yaptığı fetihler sonrasında verimli ve boş arazilere Türkleri yerleştirerek ekilip biçilen tarlalar oluşturdu. Bölgeye göç edenlerden bir süre vergi almazken gayrimüslimlerin de inançlarına, dinine ve geleneklerine müdahale etmedi. Ayrıca bu bölgelerde cami, medrese, han ve hamam gibi yapılar inşa etti.

Bu metin, aşağıdakilerden hangisi ile ilişkilendirilemez?

- A) Devşirme sistemi
- B) İskân politikası
- C) İstimalet politikası
- D) Hoşgörü anlayışı

Test 2-Osmanlı Fetih Siyaseti Cevap Anahtarı (7. Sınıf)

(SBS ve İOKBS Soruları)

**1.D 2.B 3.C 4.B 5.B 6.D 7.B 8.D 9.C 10.D 11.D 12.D 13.D 14.C 15.B 16.D 17.A 18.C 19.B 20.B 21.A 22.D 23.B 24.D 25.C 26.D 27.D
28.A**