



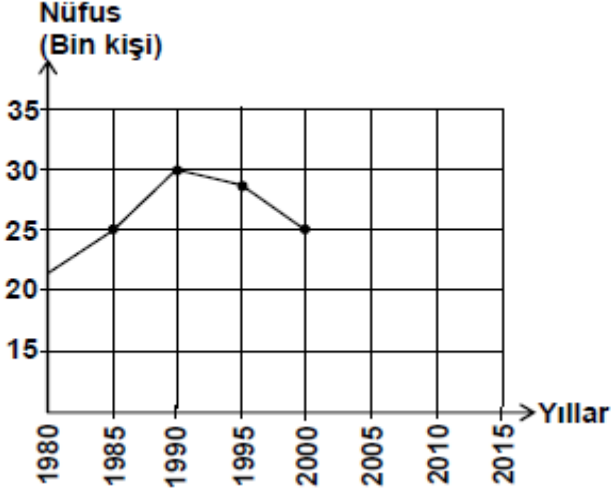
Serinhisar Kocapınar Ortaokulu/DENİZLİ -7. Sınıf
(SBS ve İOKBS Soruları)



SOSYAL BİLGİLER
3. Ünite: Yeryüzünde Yaşam

Test 2-Nüfusumuz

1. (2008 SBS)

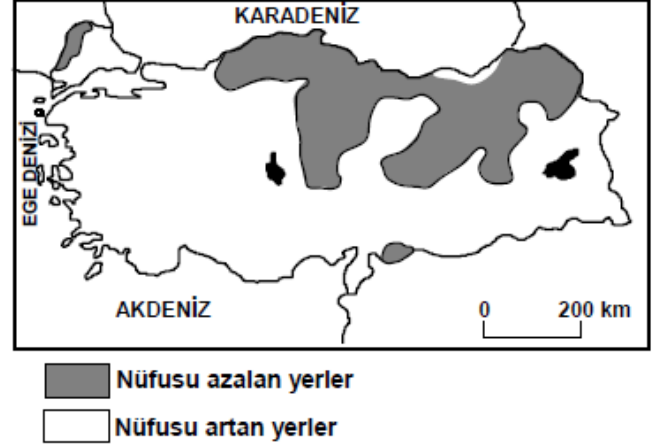


Yukarıdaki grafikte ülkemizdeki bir kentin nüfus miktarındaki değişim gösterilmiştir.

Son sayımdan itibaren (2000 yılı) kentin nüfusu her yıl 500 kişi azalırsa **2010 yılında** nüfusu kaç kişi olur?

- A) 15.000 B) 20.000 C) 22.500 D) 27.500

2. (2008 SBS)



Nüfusu hızla artan yerlerde işsizlik, gecekondulaşma, alt yapı hizmetlerinin yetersizliği, tarım ve yeşil alanların yapılaşması, çevre kirliliği gibi sorunlar yaşanmaktadır.

Buna göre; Türkiye haritasında gösterilen yerlerin hangisinde bu sorunlar **daha az** yaşanmaktadır?

- A) Kuzeydoğu Anadolu
B) Ege Denizi kıyıları
C) Marmara Denizi çevresi
D) Türkiye'nin güney kıyıları



Serinhisar Kocapınar Ortaokulu/DENİZLİ -7. Sınıf
(SBS ve İOKBS Soruları)



SOSYAL BİLGİLER

3. Ünite: Yeryüzünde Yaşam

Test 2-Nüfusumuz

3. (2009 SBS)

İller	Nüfus	Nüfus artış hızı (%)	Yüzölçüm (km ²)
Ağrı	529.000	-1	11.315
Antalya	1.719.000	4.2	20.599
Kocaeli	1.206.000	2.7	3.635
Konya	2.192.000	2.2	40.824



Dilay'ın ev ödevi, bilgisayardaki tabloda yer alan bilgilerden yararlanarak illerin nüfus yoğunluklarını bulmaktır.

Bunun için aşağıdakilerden hangisini yapmalıdır?

- A) İlleri nüfus büyüklüklerine göre sıralamalıdır.
- B) Nüfus artış hızı ile il nüfusunu çarpmalıdır.
- C) İlin nüfusunu yüzölçümüne bölmelidir.
- D) İl nüfusundan yüzölçümünü çıkarmalıdır.

4. (2009 SBS)

Yüzümüz kara ama içimiz pırıl pırıl. Çünkü; eskiden bir köy olan Zonguldak'ın bugün on binlerce nüfuslu kocaman bir şehir hâline gelmesini sağlayan kara elması çıkarıyoruz. Biliyor musunuz, kara elmas Türkiye sanayisinin can damarı olan demir-çelik fabrikalarının enerji kaynağıdır.



Zonguldak'ın gelişmesini sağlayan sektör aşağıdakilerden hangisidir?

- A) Tarım
- B) Madencilik
- C) Ormancılık
- D) Ulaştırma

5. (2009 SBS)

Nüfus Sayım Formu

Adınız - Soyadınız?.....
Cinsiyetiniz?.....
Bitirdiğiniz yaş nedir?.....
Okuma ve yazma biliyormusunuz?.....
En son hangi okulu bitirdiniz?.....
Medeni durumunuz nedir?.....
Doğum yeriniz?.....

Yukarıda Türkiye'de yapılan Genel Nüfus Sayımlarında yöneltilen sorulardan bazıları verilmiştir.

Bu sorulardan yararlanarak aşağıdakilerden hangisine ulaşamaz?

- A) Türkiye'deki kadın-erkek sayısına
- B) Kişilerin aylık gelir miktarına
- C) Türkiye'deki okur-yazar oranına
- D) Nüfusun yaş gruplarına göre dağılımına

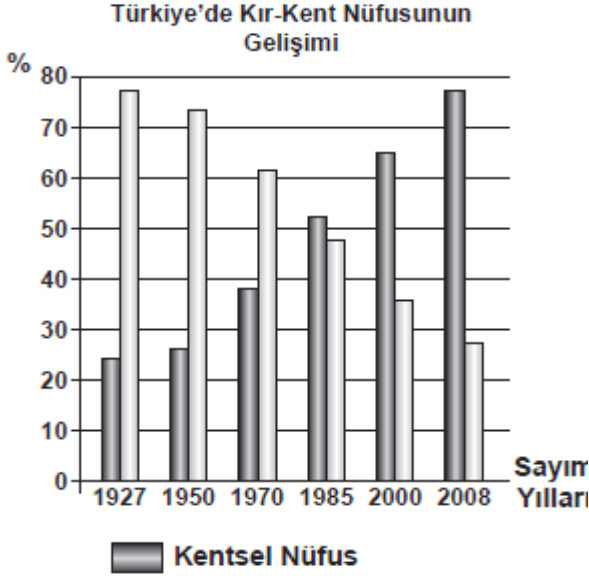


SOSYAL BİLGİLER
3. Ünite: Yeryüzünde Yaşam

Test 2-Nüfusumuz

6. (2010 SBS)

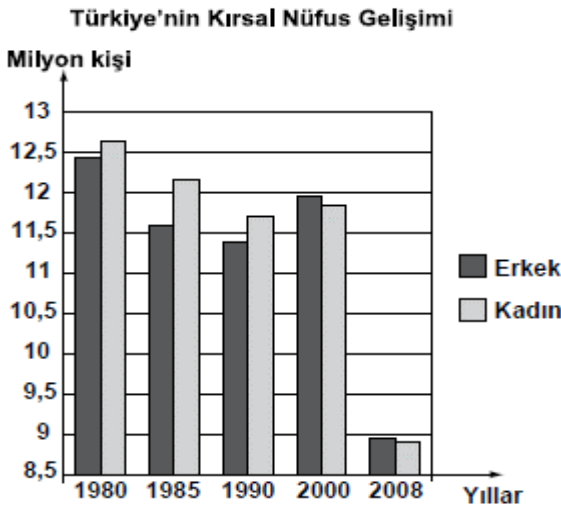
Tabloda bazı nüfus sayımı yıllarına göre kır-kent nüfus oranları verilmiştir.



Buna göre, kentsel nüfus oranı, ilk kez hangi sayım yılında kırsal nüfusu geçmiştir?

- A) 1927 B) 1970 C) 1985 D) 2000

7. (2011 SBS)



Grafiğe göre, ilk kez hangi yılda erkek nüfusu kadın nüfusunu geçmiştir?

- A) 1980 B) 1990 C) 2000 D) 2008

8. (2012 İOKBS)

Aşağıda verilen, il ve o ilin nüfusunun artmasında etkili olan en önemli ekonomik faaliyet eşleştirmelerinden hangisi yanlıştır?

İl Ekonomik faaliyet

- A) Adana → Balıkçılık
B) Ankara → Hizmet
C) Antalya → Turizm
D) Zonguldak → Madencilik

9 ve 10. Sorular (2012 İOKBS)

9 ve 10. soruları, aşağıda verilen paragrafa göre cevaplayınız.

Kasabamız artık eskisi gibi değil, bahçeli tek katlı evlerimizin yakınlarına fabrika ve apartmanlar yapılıyor. Kasaba dışındaki tarım arazilerine sanayi tesisleri kuruluyor. Memleketimizin değişik bölgelerinden insanlar kasabamıza âdeta akın etti. Sokakta artık tanıdıklara daha az rastlıyorum. Son dönemlerde arazi fiyatları da oldukça arttı.

9. Kasaba nüfusunun artmasının sebebi aşağıdakilerden hangisidir?

- A) Arazi fiyatlarının artması
B) Tarım alanlarının daralması
C) Büyük apartmanların yapılması
D) Sanayi tesislerinin yaygınlaşması

10. Kasabada, aşağıdakilerden hangisinin gerçekleşmesi beklenemez?

- A) Yerleşim alanlarının genişlemesi
B) Ekonomik ve ticari hayatın gerilemesi
C) Kültürel yapının zenginleşmesi
D) Nüfus yoğunluğunun artması



Serinhisar Kocapınar Ortaokulu/DENİZLİ -7. Sınıf
(SBS ve İOKBS Soruları)



SOSYAL BİLGİLER
3. Ünite: Yeryüzünde Yaşam

Test 2-Nüfusumuz

11. (2012 İOKBS)

**Türkiye Nüfusunun Yaş Gruplarına
Göre Dağılımı (2010)**

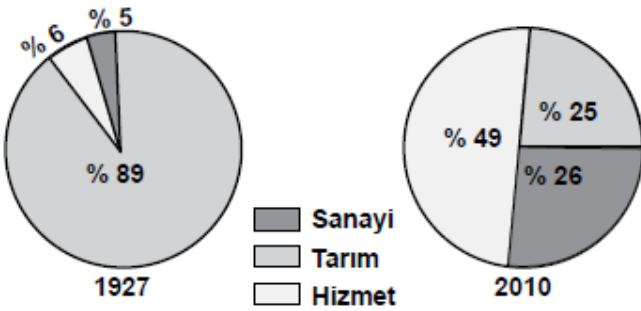
Yaş grubu	Toplam nüfus içindeki oranı (%)
0 - 14	24,6
15 - 64	67,2
65 ve üzeri	8,2

Tablodaki verilere bakarak aşağıdakilerden hangisi
söylenbilir?

- A) Genç nüfus oranı düşmektedir.
- B) Yaşlı nüfusu artmaktadır.
- C) Erkek sayısı kadın sayısından fazladır.
- D) Nüfusun yaklaşık 4/1 'i 15 yaşın altındadır

12. (2013 İOKBS)

Aşağıdaki grafiklerde Türkiye’de çalışan nüfusun iş
kollarına dağılımı gösterilmiştir.



Bu grafiklere bakarak aşağıdakilerden hangisi
söylenbilir?

- A) Hizmet, en az gelişen sektördür.
- B) Tarımın ekonomideki önemi artmıştır.
- C) Sanayi sektöründe istihdam oranı artmıştır.
- D) Turizm, hizmet sektörünün gelişmesini sağlamıştır.

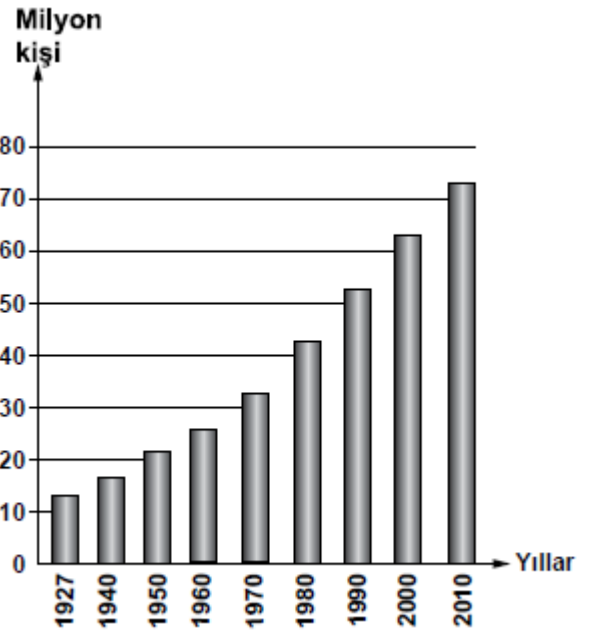
13. (2013 İOKBS)

Türkiye Nüfus Haritası'nı inceleyen bir öğrenci, nüfusun
öncelikle Marmara Denizi çevresinde yer alan illerde
(İstanbul-Bursa-Kocaeli) yoğunlaştığını görür.

**Bu durumda bölgenin hangi özelliğinin etkisi olduğu
söylenemez?**

- A) Olumlu iklim özelliklerinin
- B) Coğrafi konum özelliklerinin
- C) Gelişmiş bir sanayiye sahip olmalarının
- D) Fay hatlarının yakınında yer almalarının

14. (2014 İOKBS)



Yukarıdaki grafikte bazı sayım yıllarına göre Türkiye
nüfusu gösterilmiştir.

Grafığe bakarak aşağıdakilerden hangisi söylenbilir?

- A) Her yıl nüfus artış miktarı aynıdır.
- B) Nüfus sürekli olarak artış göstermiştir.
- C) 2010'da nüfusumuz 80 milyondan fazladır.
- D) 1940-1950 arası nüfusumuz 15 milyon artmıştır.



SOSYAL BİLGİLER

3. Ünite: Yeryüzünde Yaşam

Test 2-Nüfusumuz

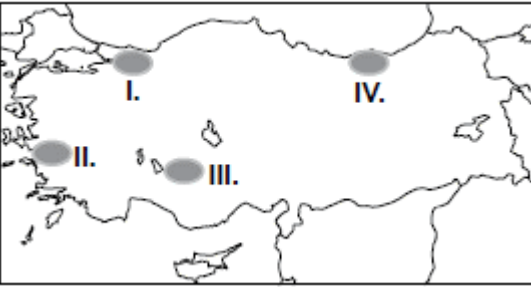
15. (2014 İOKBS)



Haritada numaralandırılarak verilen alanların hangisinde nüfusun artmasında turizm sektörünün etkisi daha fazla olmuştur?

- A) I B) II C) III D) IV

16. (2015 İOKBS)



Haritada numaralandırılmış alanlardan hangisinde temel geçim kaynağı tahıl tarımı olan köylerin sayısı daha fazladır?

- A) I. B) II. C) III. D) IV.

17. (2015 İOKBS)

Ülkemizde aritmetik nüfus yoğunluğunun en fazla olduğu il İstanbul'dur.

İstanbul'da nüfusunun yoğun olmasında aşağıdaki ekonomik faaliyetlerden hangisi daha az etkili olmuştur?

- A) Sanayi B) Tarım
C) Ticaret D) Ulaşım

18. (2015 İOKBS)

Ankara, İstanbul ve İzmir gibi büyükşehirlerde nüfusunun hızla artmasında aşağıdakilerden hangisi etkili olmuştur?

- A) Ölüm oranlarının azalması
B) Doğurganlık oranının fazla olması
C) Yoğun bir şekilde göç alması
D) Yeni yerleşim alanlarının açılması

19. (2015 İOKBS)

Aşağıdakilerden hangisi kırsal nüfus oranının azalmasında etkili değildir?

- A) Tarımda makineleşme
B) Şehirlerde sanayi faaliyetlerinin gelişmesi
C) Tarımsal sulama projelerinin tamamlanması
D) Tarım arazilerinin miras yoluyla parçalanması



Serinhisar Kocapınar Ortaokulu/DENİZLİ -7. Sınıf
(SBS ve İOKBS Soruları)



SOSYAL BİLGİLER
3. Ünite: Yeryüzünde Yaşam

Test 2-Nüfusumuz

20. (2016 İOKBS)



Haritada noktalanarak gösterilen alan Türkiye ortalamasının üzerinde nüfus yoğunluğuna sahiptir.

Aşağıdakilerden hangisi haritada gösterilen alandaki yerleşim merkezlerinden biridir?

- A) İzmit B) Çanakkale
C) Edirne D) Zonguldak

21. (2016 İOKBS)

- I. Okuryazar nüfus oranı
II. Tarımda çalışan nüfus oranı
III. Şehirde yaşayan nüfus oranı

Ülkemiz nüfusunda 1950 yılından günümüze kadar olan sürede yukarıdakilerin hangilerinde **artış** olmuştur?

- A) Yalnız I B) Yalnız II
C) I ve III D) II ve III

22. (2017 İOKBS)

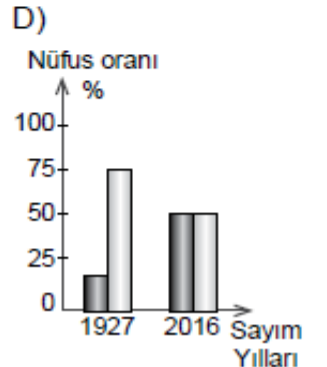
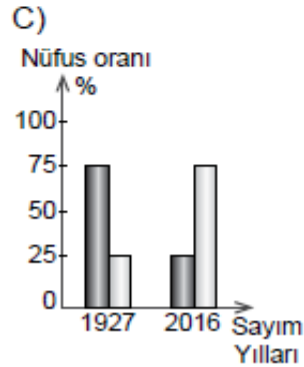
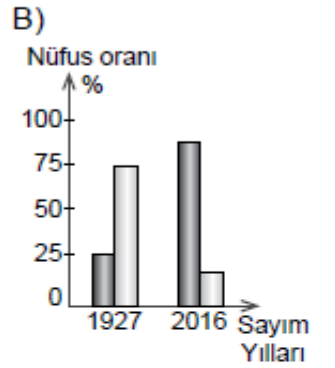
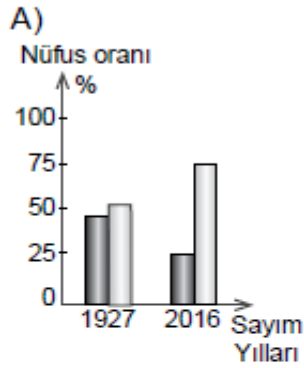
Ülkemizde kent nüfusunun **en az** olduğu bölge aşağıdakilerden hangisidir?

- A) Akdeniz B) Ege
C) Marmara D) Doğu Anadolu

23. (2017 İOKBS)

1927 yılında kentsel nüfus oranı %25 civarında iken günümüzde bu değer %80'nin üzerine çıkmıştır.

Bu bilgiye ait olan grafik aşağıdakilerden hangisidir? (■ Kentsel Nüfus, □ Kırsal Nüfus)





Serinhisar Kocapınar Ortaokulu/DENİZLİ -7. Sınıf
(SBS ve İOKBS Soruları)



SOSYAL BİLGİLER

3. Ünite: Yeryüzünde Yaşam

Test 2-Nüfusumuz

24 ve 25. (2017 İOKBS)

24 ve 25. soruları, aşağıda verilen paragrafa göre cevaplayınız.



Haritada numaralanmış taralı alanlar ülkemizde sanayi, ticaret, turizm ve ulaştırma hizmetlerinin yoğun ve gelişmiş olduğu yerlerin başında gelmektedir.

24. Taralı alanlarla ilgili aşağıdakilerden hangisi söylenemez?

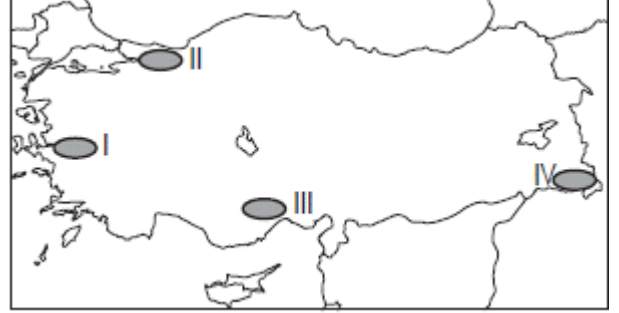
- A) İş imkânları fazladır.
- B) Nüfus yoğunlukları fazladır.
- C) Sağlık-egitim hizmetleri gelişmiştir.
- D) Kömür yatakları bakımından zengindir.

25. Taralı alanların hangisinde kentsel nüfus miktarı en fazladır?

- A) I.
- B) II.
- C) III.
- D) IV.

26. (2018 İOKBS)

Ülkemizin yüksek ve engebeli alanlarında ulaşımın zor, ekonomik faaliyetlerin kısıtlı oluşu nüfus yoğunluğunun düşük olmasına neden olmuştur.



Buna göre harita üzerinde numaralandırılan yerlerin hangisi bu duruma örnektir?

- A) I.
- B) II.
- C) III.
- D) IV.

27. (2019 İOKBS)

Türkiye'de doğal ve beşerî şartların bölgeden bölgeye farklı özellikler sunması, yerleşmeye uygun olan veya olmayan alanların ortaya çıkmasına neden olmuştur.

Aşağıdakilerden hangisi ülkemizin bu özelliğinin sonucu olarak ortaya çıkan bir durumdur?

- A) Nüfus dağılışıının düzensiz olması
- B) Yer altı kaynaklarının belli alanlarda toplanması
- C) Karasal iklimin yaygın olarak görülmesi
- D) Doğal bitki örtüsünün farklılıklar göstermesi

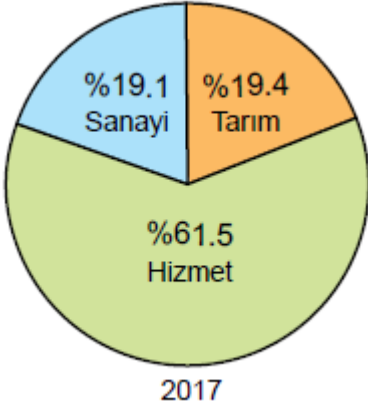


SOSYAL BİLGİLER
3. Ünite: Yeryüzünde Yaşam

Test 2-Nüfusumuz

28. (2020 İOKBS)

Aşağıda Türkiye'ye ait bir grafik verilmiştir.



Bu grafiğin başlığı aşağıdakilerden hangisi olabilir?

- A) Türkiye nüfusunun yaş ortalaması
- B) Türkiye'nin eğitim durumu
- C) Türkiye'nin kırsal-kent nüfus oranları
- D) Türkiye nüfusunun ekonomik faaliyetlere göre dağılışı

29. (2020 İOKBS)

Aşağıdakilerden hangisi nüfus artışının hızlı olduğu yerlerde yaşanan sorunlardan biri değildir?

- A) Okul ihtiyacının artması
- B) Plansız yapılaşma
- C) Çevre kirliliği
- D) Konut ihtiyacının azalması

30. (2020 İOKBS)

Ülkemizde nüfus, sanayi tesislerinin çevresinde daha çok yoğunlaşmıştır.

Bu durumun nedeni aşağıdakilerden hangisidir?

- A) Sanayi tesislerinin yoğun enerji tüketmesi
- B) Sanayi tesislerinin genelde kıyı şehirlerinde yer alması
- C) Fabrikaların fazla sayıda insana iş imkânı sağlaması
- D) Fabrikaların ulaşımına uygun alanlara kurulması

31. (2021 İOKBS)

Nüfus piramitlerine bakılarak nüfusun hangi özelliği hakkında bilgi sahibi olunamaz?

- A) Cinsiyet durumu
- B) Kültürel yapı
- C) Çalışan nüfus
- D) Ortalama ömür

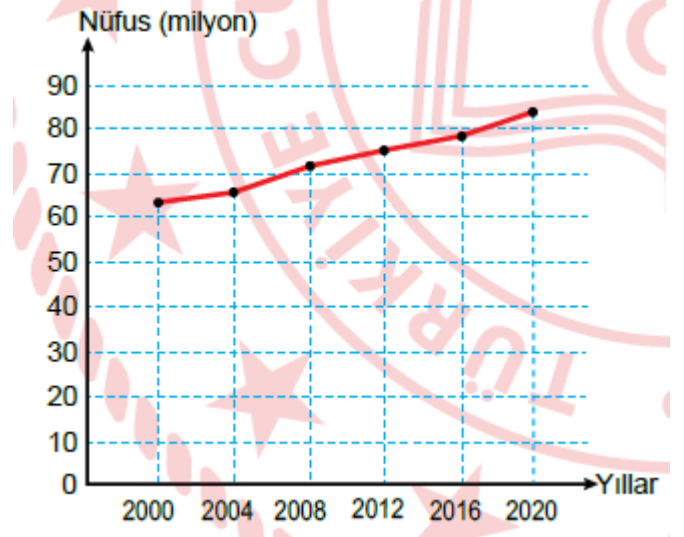
32. (2021 İOKBS)

Türkiye nüfusunun her yıl artması aşağıdakilerden hangisini doğrudan etkiler?

- A) Nüfus yoğunluğunu
- B) Eğitim seviyesini
- C) Kentsel nüfus oranını
- D) Sanayide çalışan sayısını

33. (2022 İOKBS)

Türkiye'nin yıllara göre toplam nüfus miktarı grafikte gösterilmiştir.



Bu grafiğe göre, aşağıdakilerden hangisine ulaşılamaz?

- A) Nüfus miktarı yıllara göre artış göstermiştir.
- B) En düşük nüfus miktarı 2000 yılına aittir.
- C) Nüfus artış hızının en fazla olduğu yıl 2008'dir.
- D) Nüfus miktarı 2020 yılında 80 milyonun üzerindedir.



Serinhisar Kocapınar Ortaokulu/DENİZLİ -7. Sınıf
(SBS ve İOKBS Soruları)

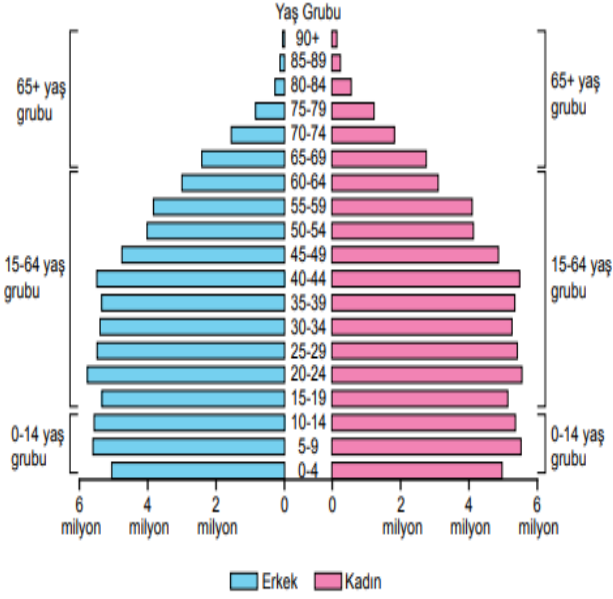


SOSYAL BİLGİLER
3. Ünite: Yeryüzünde Yaşam

Test 2-Nüfusumuz

34. (2023 İOKBS)

Türkiye'nin 2021 yılına ait nüfus piramidi aşağıdaki grafikte verilmiştir.



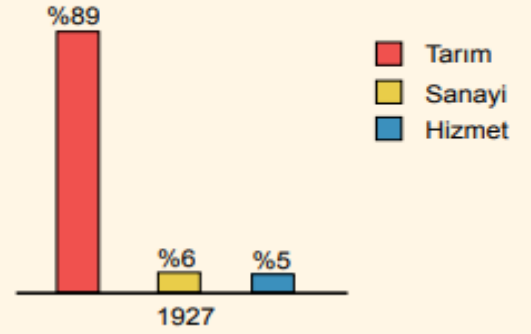
Bu piramit kullanılarak aşağıdaki bilgilerden hangisine ulaşamaz?

- A) Toplam nüfus miktarına
- B) Bağımlı nüfus miktarına
- C) Sanayide çalışan kişi sayısına
- D) Nüfusun cinsiyete göre dağılımına

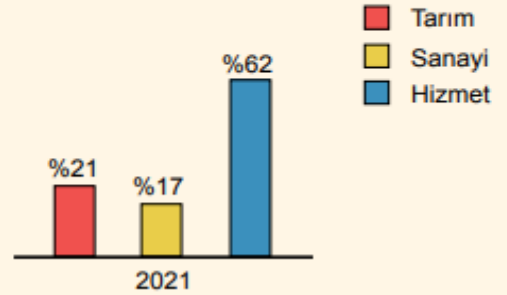
35. (2023 İOKBS)

Türkiye'de çalışan nüfusun ekonomik faaliyet kollarına göre 1927 ve 2021 yıllarındaki dağılım oranı aşağıdaki grafiklerde verilmiştir.

Grafik 1: Türkiye'de Çalışan Nüfusun Ekonomik Faaliyet Kollarına Göre 1927 Yılındaki Dağılım Oranı



Grafik 2: Türkiye'de Çalışan Nüfusun Ekonomik Faaliyet Kollarına Göre 2021 Yılındaki Dağılım Oranı



Bu grafiklere göre, Türkiye ile ilgili aşağıdakilerden hangisine ulaşılabilir?

- A) Sanayi ve hizmet sektörü gelişmiştir.
- B) Tarım ürünlerinin çeşitliliği azdır.
- C) Eşit bir gelir dağılımı vardır.
- D) Sanayi şehirlerinde nüfus yoğunluğu düşüktür.



SOSYAL BİLGİLER
3. Ünite: Yeryüzünde Yaşam

Test 2-Nüfusumuz

36. (2023 İOKBS)

Tabloda bazı illerin 2013-2017 yılları arasında km^2 ye düşen kişi sayısı aşağıda gösterilmiştir.

**Tablo: İllere Göre 2013 ve 2017 Yılları
Arasında Km^2 ye Düşen Kişi Sayısı**

Yıllar İller	2013	2014	2015	2016	2017
İstanbul	2725	2767	2821	2849	2892
Ankara	206	210	215	218	222
Gaziantep	270	277	283	290	294
Van	55	56	57	57	57
İzmir	338	342	347	352	356

Bu tabloya göre, aşağıdakilerden hangisi söylenebilir?

- A) Van'ın nüfus yoğunluğu, İzmir'den fazladır.
- B) Nüfus yoğunluğu en yüksek olan il İstanbul'dur.
- C) İllerin yüz ölçümleri birbiriyle aynıdır.
- D) Ülke dışına büyük bir göç yaşanmıştır.

Mehmet ÖZKÜZ

Test 2-Nüfusumuz Cevap Anahtarı (7. Sınıf)
(SBS ve İOKBS Soruları)

1.A 2.A 3.C 4.B 5.B 6.C 7.C 8.A 9.D 10.B 11.D 12.C 13.D 14.B 15.C 16.C 17.B 18.C 19.C 20.A 21.C 22.D 23.B 24.D 25.A 26.D 27.A 28.D
29.D 30.C 31.C 32.A 33.C 34.C 35.A 36.B