



SOSYAL BİLGİLER

3. Zümre: İnsan ve Çevre

Test 1-Haritaları Tanıyorum

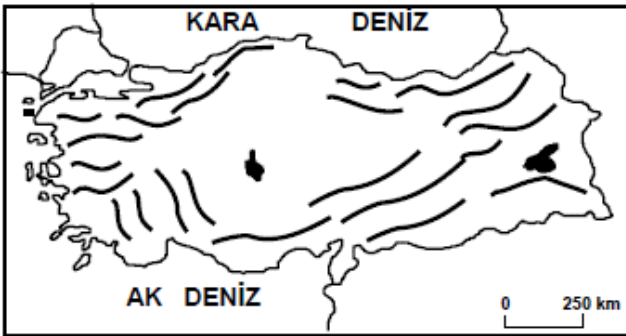
1. (2007 İOKBS)



Yukarıdaki haritaya bakıldığında **Mardin'den İstanbul'a** ok yönünde hareket eden pilot hangi yöne gitmiş olur?

- A) Güneydoğu B) Güneybatı
C) Kuzeybatı D) Kuzeydoğu

2. (2008 İOKBS)



Türkiye'nin önemli sıradağlarının gösterildiği haritaya bakılarak yapılan aşağıdaki yargılardan hangisi **yanlıştır**?

- A) Dağlar Kuzey Anadolu kıyılarına paralel uzanır.
B) Dağların genel uzanışı kuzey güney yönündedir.
C) İç kesimlerde yeryüzü şekilleri daha sadedir.
D) Batı Anadolu'da dağlar kıyıya dik uzanmaktadır.

3. (2009 İOKBS)

Fiziki haritalarda kullanılan **mavi renk ve tonları** aşağıdakilerden hangisini gösterir?

- A) Dağ ve tepeleri
B) Ova ve platoları
C) Deniz, göl ve akarsuları
D) Orman, çayır ve meraları

4. (2009 İOKBS)

İnsanların doğada yaptıkları değişiklikler sonu **beşeri** unsurlar ortaya çıkar.

Buna göre aşağıdakilerden hangisi **beşeri** unsura örnek gösterilir?

- A) Çoruh Nehri B) Atatürk Barajı
C) Van Gölü D) Erciyes Dağı

5. (2010 İOKBS)

Türkiye fiziki haritasını inceleyen bir öğrenci aşağıdakilerden hangisiyle ilgili çıkarım **yapamaz**?

- A) Denizlerin konumuyla
B) Dağların uzanış yönüyle
C) Nüfus hareketleriyle
D) Akarsuların dağılışıyla



SOSYAL BİLGİLER

3. Ünite: İnsan ve Çevre

Test 1-Haritayı Tanıyorum

6. (2013 İOKBS)



Haritada numaralandırılarak verilen yeryüzü şekilleri aşağıdakilerin hangisinde **doğru** eşleştirilmiştir?

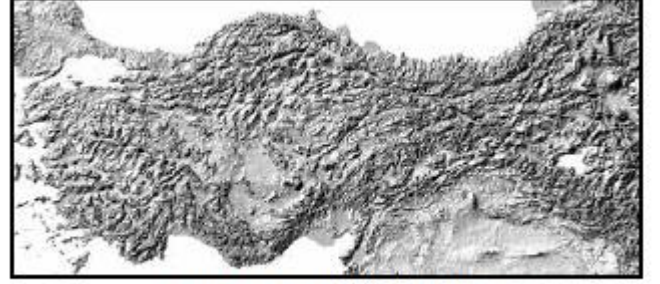
1	2	3
A) Akarsu	Göl	Körfez
B) Göl	Körfez	Akarsu
C) Körfez	Akarsu	Göl
D) Göl	Akarsu	Körfez

7. (2014 İOKBS)

Türkiye fiziki haritasında aşağıdakilerden hangisi **yeşil renk** ile gösterilir?

- | | |
|----------------------|-----------------|
| A) Antalya Ovası | B) Konya Ovası |
| C) Uzunyayla Platosu | D) Küre Dağları |

8. (2015 İOKBS)



Türkiye Kabartma Haritası

Bu haritaya bakıldığında aşağıdaki coğrafi özelliklerden hangisi tespit edilir?

- A) İklim özellikleri
B) Nüfus yoğunluğu
C) Yeryüzü şekilleri
D) Bitki örtüsü özellikleri

9. (2015 İOKBS)

Bir fiziki haritada **kahverengi** rengin fazlaca kullanılması o bölgenin hangi özelliğini gösterir?

- A) Karasal iklim tipinin görüldüğünü
B) Ortalama yükseltisinin fazla olduğunu
C) Tarımsal faaliyetlerin yapıldığını
D) Orman örtüsünün zayıf olduğunu

10. (2015 İOKBS)

Ülkemizde ortalama yükseltinin en az olduğu bölge Marmara Bölgesi'dir.

Buna göre Marmara Bölgesi'ni gösteren fiziki haritada aşağıdaki renklerden hangisi **daha çok** kullanılır?

- | | |
|---------------|----------|
| A) Kahverengi | B) Sarı |
| C) Turuncu | D) Yeşil |

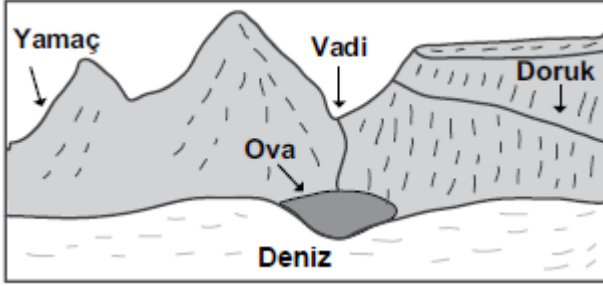


SOSYAL BİLGİLER

3. Ünite: İnsan ve Çevre

Test 1-Haritayı Tanıyorum

11. (2016 İOKBS)



Yukarıdaki görsel üzerinde gösterilen yer şekillerinden hangisinin adı yanlış verilmiştir?

- A) Yamaç B) Doruk C) Vadi D) Ova

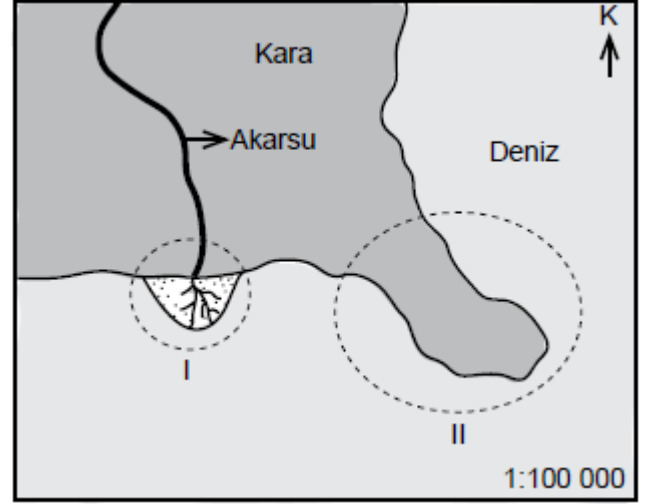
12. (2016 İOKBS)

Türkiye’de ovalar tarımsal faaliyetlerin yoğun olarak yapıldığı yerlerdir. Özellikle kıyı ovalarında bu durum daha belirgindir.

Buna göre, aşağıdaki ovalardan hangisi kıyı ovalarından biridir?

- A) Sıracık ovası B) Muş ovası
C) Çukurova D) Erzincan ovası

13. (2017 İOKBS)



Görselde I ve II numaralı daireler içinde gösterilen yer şekilleri aşağıdakilerden hangileridir?

- | | I | II |
|----|--------|----------|
| A) | Körfez | Burun |
| B) | Plato | Sıradağ |
| C) | Ova | Ada |
| D) | Delta | Yarımada |

14. (2017 İOKBS)

Türkiye kabartma haritasını inceleyen bir öğrenci aşağıdakilerden hangisini gözlemleyemez?

- A) Ege’de dağların denize dik uzandığını
B) Türkiye’de ormanların nerelerde yoğunlaştığını
C) Doğu Anadolu’da dağların çok olduğunu
D) İç Anadolu ile Güneydoğu’da ova ve platoların yaygın olduğunu



SOSYAL BİLGİLER

3. Ünite: İnsan ve Çevre

Test 1-Haritaları Tanıyorum

15. (2019 İOKBS)

Aşağıda bir yeryüzü şekline ait görsel verilmiştir:



Bu yeryüzü şekli aşağıdakilerden hangisidir?

- A) Ada B) Burun
C) Vadi D) Ova

16. (2019 İOKBS)

Haritalarda kullanılan özel işaretlerin anlamlarını gösteren, genellikle sağ alt köşede yer alan işaret tablosuna verilen isim aşağıdakilerden hangisidir?

- A) Ölçek B) Derinlik
C) Yükselti D) Lejant

17. (2020 İOKBS)

- Akarsuların yatağını aşındırarak oluşturduğu yeryüzü şeklidir.
- Ihlara ve Munzur bu yeryüzü şekline örnek gösterilebilir.

Tanımı ve örnekleri verilen yeryüzü şekli aşağıdakilerden hangisidir?

- A) Vadi B) Göl
C) Boğaz D) Koy

18. (2020 İOKBS)

Aşağıdakilerden hangisi bir çizimin harita olabilmesi için gerekli koşullardan biri değildir?

- A) Kuş bakışı görünüşüne göre çizilmesi
B) Bir düzlem üzerine aktarılması
C) Farklı renkler kullanılması
D) Belli bir ölçek dâhilinde küçültülmesi

19. (2020 İOKBS)

Aşağıda bazı yeryüzü şekillerinin tanımları yapılmıştır.

I. Çevresine göre alçakta kalan geniş düzlüklerdir.

II. Üç tarafı sularla çevrili, bir tarafı karayla bağlantılı yeryüzü şeklidir.

Buna göre I ve II olarak numaralanmış tanımlar aşağıdaki yeryüzü şekillerinden hangilerine aittir?

	I	II
A) Ova		yarımada
B) Plato		dağ
C) Ova		plato
D) Dağ		yarımada

20. (2021 İOKBS)

Çevresine göre yüksek olan ve tabandan zirveye doğru yamaçları eğimli, yeryüzü şekillerine ne ad verilir?

- A) Dağ B) Ova
C) Vadi D) Ada



Serinhisar Kocapınar Ortaokulu /Denizli-5. Sınıf
(İOKBS Soruları)



SOSYAL BİLGİLER

3. Ünite: İnsan ve Çevre

Test 1-Haritayı Tanıyorum

21. (2022 İOKBS)

Fiziki haritalarda deniz, göl, akarsu gibi su kütleleri mavi renkte gösterilir. Deniz seviyesine yakın, yükseltinin az olduğu yerler yeşil ve yeşilin tonları ile ifade edilir. Yükselti artmaya başladıkça yeşilin yerini sarı renk alır. Yükseltinin çok fazla olduğu yerler (1.000 metre ve üstü) kahverengi ile gösterilir.

Buna göre, Türkiye fiziki haritasında aşağıdakilerden hangisi **yeşil** renk ile gösterilir?

- A) Çukurova B) Kızılırmak
C) Nemrut Dağı D) Obruk Platosu

22. (2023 İOKBS)

Türkiye Fiziki Haritası aşağıda verilmiştir.



Buna göre, Türkiye'nin doğusunda kahverengi tonun **daha fazla** kullanılmasında aşağıdakilerden hangisi etkili olmuştur?

- A) Madenlerin dağılışı
B) Yükseltinin fazlalığı
C) Nüfusun dağılışı
D) Bitki örtüsünün çeşitliliği

23. (2023 İOKBS)

Yeryüzü şekillerinden bazılarının tanımları aşağıda verilmiştir.

- Akarsuyun yatağını aşındırarak oluşturduğu derin, uzun çukurdur.
- Etrafı tamamen sularla çevrili kara parçasıdır.
- Denizin karanın içine doğru sokulduğu büyük su girintisidir.

Buna göre, aşağıdakilerden hangisinin tanımı **yapılmamıştır**?

- A) Boğaz B) Körfez
C) Ada D) Vadi

Test 1-Haritayı Tanıyorum Cevap Anahtarı (5. Sınıf)
(iOKBS Soruları)

1.C 2.B 3.C 4.B 5.C 6.D 7.A 8.C 9.B 10.D 11.B 12.C 13.D 14.B 15.C 16.D 17.A 18.C 19.A 20.A 21.A 22.B 23.A