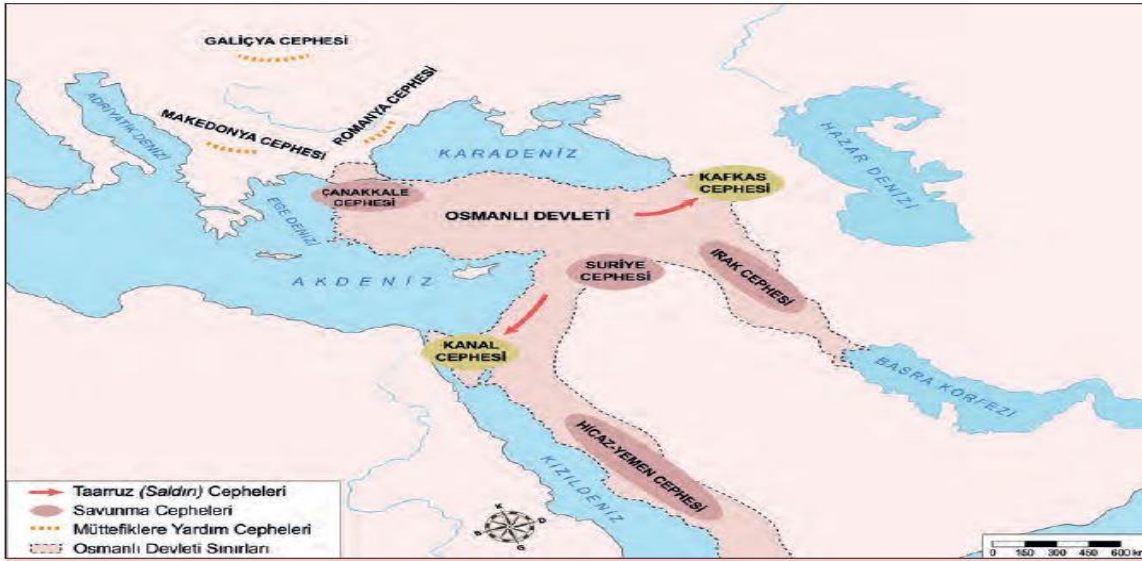


1.



Yukarıda verilen harita, Osmanlı Devletinin 1. Dünya Savaşında mücadele ettiği cepheleri göstermektedir.

Haritada verilen bilgilere göre aşağıdaki yorumlardan hangisi yanlıştır?

- A) Düşmanların saldırılarına karşı kendi topraklarını korumaya çalışmıştır.
- B) Kendi toprakları dışında da mücadele etmiştir.
- C) Osmanlı Devleti savaşı geniş bir alanda yaşamıştır.
- D) Osmanlı Devleti aynı anda birden fazla cephede savaşmıştır

2.

Avrupalı devletler zamanla bilimsel bilgiyi teknolojiye aktararak buhar gücüyle çalışan gemiler icat ettiler ve dokuma fabrikaları kurdular. Böylece Sanayi İnkılabı doğdu. Küçük üretim atölyelerinin yerini büyük fabrikalar, insan gücünün yerini makine gücü aldı. Makineler sayesinde üretim hızla arttı. Artan üretimle birlikte ham madde ve pazar ihtiyacı da arttı. Avrupalı devletler ihtiyaç duydukları ham maddeyi henüz sanayileşmemiş ülkelere karşılayıp ürettikleri ürünleri de aynı ülkelere pazarladılar. Böylece Sömürgecilik doğdu ve kısa sürede gelişti. Sömürge yarışında başı çeken İngiltere “*üzerinde güneş batmayan*” geniş bir sömürge imparatorluğu kurdu. İngiltere’yi diğer Avrupalı devletler takip etti. Avrupalı devletler arasında başlayan sömürge yarışı ham madde ve pazar rekabetini de artırdı. Artan bu rekabet de I. Dünya Savaşı’na zemin hazırladı.

Verilen metinden yola çıkılarak;

- I. Sanayi İnkılabı, gelişmişlik düzeyine bağlı olarak dünya ülkelerini farklı şekilde etkilemiştir.
- II. 1. Dünya Savaşının özel sebeplerinden biri de hammadde ve pazar arayışı olmuştur.
- III. Sanayileşmiş ülkelerdeki ihtiyaç fazlası ürünler, sömürülen ülkelerin ekonomilerini daha da bozmuştur.
- IV. Ekonomik gelişmeler, siyasi olayların bir sebebi olmuştur.

yorumlarından hangileri doğrudur?

- A) I ve II
- B) I ve III
- C) I, III ve IV
- D) I, II ve IV



15 Temmuz 2016'da, Türk Silahlı Kuvvetlerinin içine yuvalanmış silahlı terör örgütü darbe girişinde bulundu. Milletin silahları ile millete kurşun sıkan hainler, Türkiye Cumhuriyeti'nin seçilmiş devlet adamlarını tutuklamak ve yönetime el koymak amacındaydılar. Bu uğurda, meydanlara çıkan kahraman halkımıza, TBMM'ye ve daha birçok devlet kurumumuza bombalar yağdırdılar. Elinde bayraklar dilinde dualar ile Türk milleti, silahların, tankların önüne kendini siper etti. Çünkü bu bir darbe değildi.

3.

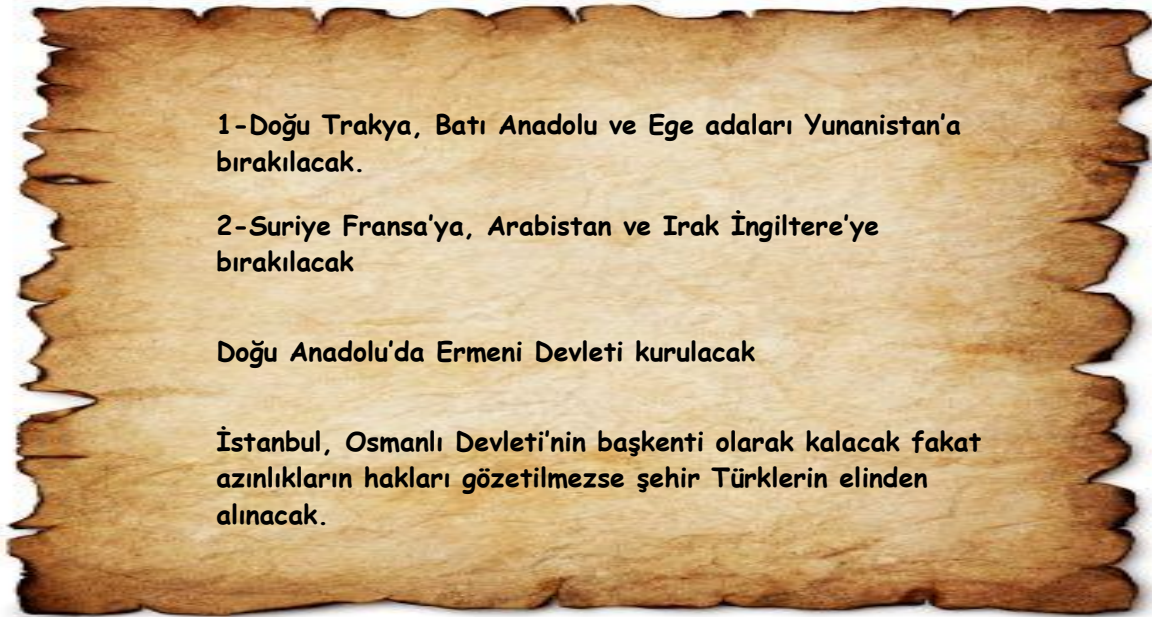
Verilen metne göre 15 Temmuz ile ilgili;

- I. Milli Egemenliğimize ve Milli bağımsızlığımıza yapılan bir saldırı girişimidir.
- II. Milli birlik ve beraberlik ortaya çıkmıştır.
- III. Yapılan bu girişim, farklı görüşteki insanları aynı amaç etrafında toplamıştır.

yorumlarından hangisi yapılabilir

- A) I ve II B) II ve III C) I ve III D) I , II ve III

4.



1-Doğu Trakya, Batı Anadolu ve Ege adaları Yunanistan'a bırakılacak.

2-Suriye Fransa'ya, Arabistan ve Irak İngiltere'ye bırakılacak

Doğu Anadolu'da Ermeni Devleti kurulacak

İstanbul, Osmanlı Devleti'nin başkenti olarak kalacak fakat azınlıkların hakları gözetilmezse şehir Türklerin elinden alınacak.

Sevr anlaşmasına göre ;

- I. Osmanlının iç işlerine müdahale edilmiştir.
- II. Osmanlı Devletinin toprak bütünlüğü zarar görmüştür.
- III. Askeri alandaki kısıtlamalar , Osmanlı Devletinin egemenlik haklarına aykırıdır.

çıkarımlarından hangilerine ulaşılabilir?

- A) I ve II B) II ve III C) I, III ve IV D) I ve IV

5.

Başkomutanlık Zaferi'nden sonra Yunan kuvvetlerini kurtarmak isteyen İtilaf Devletleri hemen harekete geçtiler. Gönderdikleri telgrafla ateşkes görüşmeleri için randevu talep ettiler. Mustafa Kemal Paşa Nutuk'ta bu gelişmelere değindikten sonra "Onlara 9 Eylül'de İzmir'de görüşebileceğimizi bildirdim. Ben söz verdiğim gibi 9 Eylül'de oradaydım. Ama onlar yoktu." diyerek düşman kuvvetlerinin nasıl kaçtığını zarif bir dille ifade etmiştir.

Yukarıdaki metne göre ;

- I. M.Kemal ulusal bağımsızlığı hedeflemektedir.
- II. Düşman kuvvetlerinin savunma gücünün kırıldığı görülmemektedir.
- III. Büyük Taarruz' dan sonra diplomatik girişimler yaşanmıştır.

yorumlarından hangileri yapılabilir.

- A) Yalnız I B) I ve II C) II ve III D) I, II ve III

6.

Büyük Millet Meclisine Karşı Çıkarılan Ayaklanmalar		
Osmanlı Hükûmeti Tarafından Çıkarılan Ayaklanmalar	Osmanlı Hükûmeti ve İtilaf Devletleri İş Birliğiyle Çıkarılan Ayaklanmalar	Kuvâ-yı Millîye Liderlerinin Çıkardığı Ayaklanmalar
<ul style="list-style-type: none">Ahmet Anzavur AyaklanmasıKuvâ-yı İnzibatiye (Hilafet Ordusu) Ayaklanması	<ul style="list-style-type: none">Bolu, Düzce, Hendek, Adapazarı AyaklanmalarıAfyon AyaklanmasıKonya AyaklanmasıYozgat AyaklanmasıMilli Aşireti Ayaklanması	<ul style="list-style-type: none">Çerkez Ethem AyaklanmasıDemirci Mehmet Efe Ayaklanması

Yukarıdaki tabloya göre ;

- I. Osmanlı Hükûmeti Milli Mücadeleye karşıdır.
- II. Çerkez Ethem düzenli orduya girmek için isyan etmiştir.
- III. Meclise karşı çıkan bu isyanların temelinde İtilaf devletlerin de kışkırtmaları vardır.
- IV. Milli Mücadele gecikmiştir

yorumlarından hangileri çıkarılabilir?

- A. I ve I B) I ve III C) I, II ve IV D) III ve IV

7.

Amasya Genelgesinde alınan bazı kararları şunlardır:

- ❖ Vatanın bütünlüğü, milletin bağımsızlığı tehlikededir.
- ❖ Milletin bağımsızlığını yine milletin azim ve kararı kurtaracaktır.
- ❖ Milletin durumunu göz önünde tutmak ve haklarını dile getirip bütün dünyaya duyurmak için her türlü etki ve denetimden uzak millî bir kurulun varlığı gereklidir.

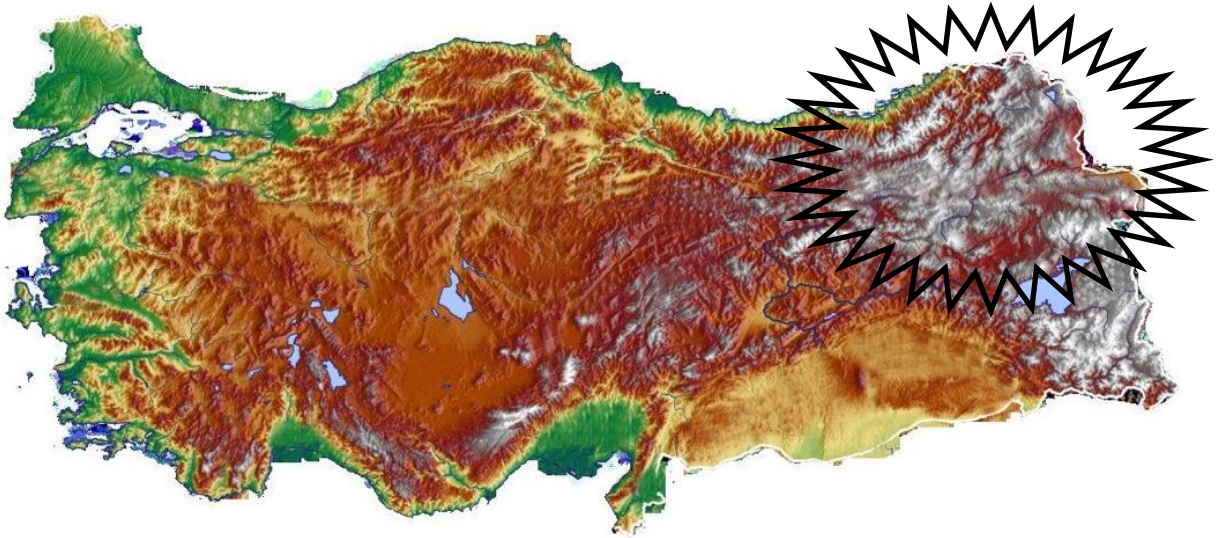
Bu kararlar değerlendirildiğinde;

- I. Milli Mücadelenin plan ve programı açıklanmıştır
- II. İstanbul hükümeti eleştirilmiştir.
- III. Başka bir devletin koruyuculuğu kesin bir dille reddedilmiştir.

yorumlarından hangileri çıkarılamaz?

- A) Yalnız I B) I ve II C) Yalnız III D) I , II ve III

8.



Kafkas Cephesinin Yeryüzü Şekilleri

Yukarıda yeryüzü şekillerini gösteren bir harita bulunmaktadır.

Coğrafi koşullar düşünüldüğünde işaretli bölgede gerçekleştirilen bir askeri harekât için aşağıdakilerden hangisi söylenemez?

- A) Askeri Harekât için müttefiklerden destek alınmalıdır.
- B) Yeryüzü şekilleri cephede askerleri zorlayabilir.
- C) Taarruz savaşı için uygun koşullar oluşmalıdır.
- D) Askeri birlikler kışın yapılan bir taarruzda kıyafet olarak iyi donatılmalıdır.

9.

- Egemenlik kayıtsız şartsız milletindir.
- Yasama ve yürütme yetkileri milletin tek temsilcisi olan Büyük Millet Meclisinde toplanır.
- Büyük Millet Meclisinin başkanı, hükûmetin de başkanıdır.
- BMM seçimleri iki yılda bir yapılır.
- Dinî hükümlerin yerine getirilmesi; yasaların konması, değiştirilmesi, kaldırılması; antlaşma ve barış yapılması ve savaş kararı verilmesi gibi temel haklar Büyük Millet Meclisine aittir.

1.İnönü Savaşından Türk Devletinin ilk anayasası Teşkilat-ı Esasi kabul edilmiştir. Yukarıda Teşkilat-ı Esasi'nin bazı maddeleri verilmiştir.

Bu maddelere dayanarak;

- I. TBMM güçler birliği ilkesince çalışmaktadır
- II. Meclis Hükûmeti sistemi kabul edilmiştir
- III. Meclise olağanüstü yetkiler vermiştir.
- IV. Halk iradesi önemsenmektedir

Çıkarımlarından hangileri yapılabilir?

- A) I ve II B) I , II ve IV C) I , II ve III D) I, II, III ve IV

10.



Fransızlar 30 Ekim 1919'da Maraş'ı işgal ettiler. Fransızların Mısır ve Suriye'den getirdiği Ermeniler Türklere karşı taşkınlık yapmaya başladılar. Sütçü İmam'ın attığı ilk kurşunla başlayan direniş kaleden Türk bayrağının indirilmesi ile iyice büyüdü. Mustafa Kemal buradaki direnişi günü gününe takip etti Binbaşı Suzi Bey, Yörük Salim ve Kılıç Ali kişileri direnişi örgütlemeleri için bölgeye gönderdi. Türk direnişi karşısında tutunamayan Ermeniler ve Fransızlar 12 Şubat 1920'de çekilmek zorunda kaldılar. TBMM tarafından Maraş'a 1973'te "Kahraman" unvanı ve "İstiklal Madalyası" verilmiştir.

Güney Cephesi ile ilgili verilen yukarıdaki bilgilere göre bölge halkı için ;

- I. Mücadeleci
- II. Uzlaşmacı
- III. Bağımsızlığa düşkün

Özelliklerinden hangileri çıkarılamaz?

- A) I ve II B) Yalnız II C) I ve III D) I , II ve III

CEVAP ANAHTARI

1	2	3	4	5	6	7	8	9	10
D	B	D	A	D	B	B	A	A	D

FAHRETTİN UYGUN

Sosyal Bilgiler Öğretmeni