

Adı-Soyadı: Okul No:

1. SORU (25 Puan)	2. SORU (15 Puan)	3. SORU (16 Puan)	4. SORU (9 Puan)	5. SORU (15 Puan)	6. SORU (20 Puan)	ALDIĞI PUAN
.....



Yukarıdaki Türkiye Siyasi Haritası'na göre Afyonkarahisar'ın göreceli konumu şu şekildedir:

- Yedi il ile sınırı vardır.
- Batısında Denizli, Uşak ve Kütahya bulunmaktadır.
- Güneyinde Burdur ve Isparta vardır.
- Doğusunda Konya yer almaktadır.
- Kuzeyinde Eskişehir bulunmaktadır.

Bu bilgilerden yola çıkarak siz de yaşadığınız ilin göreceli konumunu yazınız.

-
-
-
-
-

2)



Yaşadığınız yere bu şekilde yeni bir fabrika kurulacak olmasının olumlu sonuçları neler olabilir? Düşüncelerinizi yazınız.

- 3) **Doğal Varlık:** Var oluşunda insanların etkisinin olmadığı, yeryüzünde kendiliğinden oluşmuş varlıklara denir.
Beşerî Varlık: İnsanların doğayı değiştirmesi sonucunda ortaya çıkan varlıklara denir.
Buna göre çevremizdeki doğal ve beşerî varlıklara örnekler veriniz.

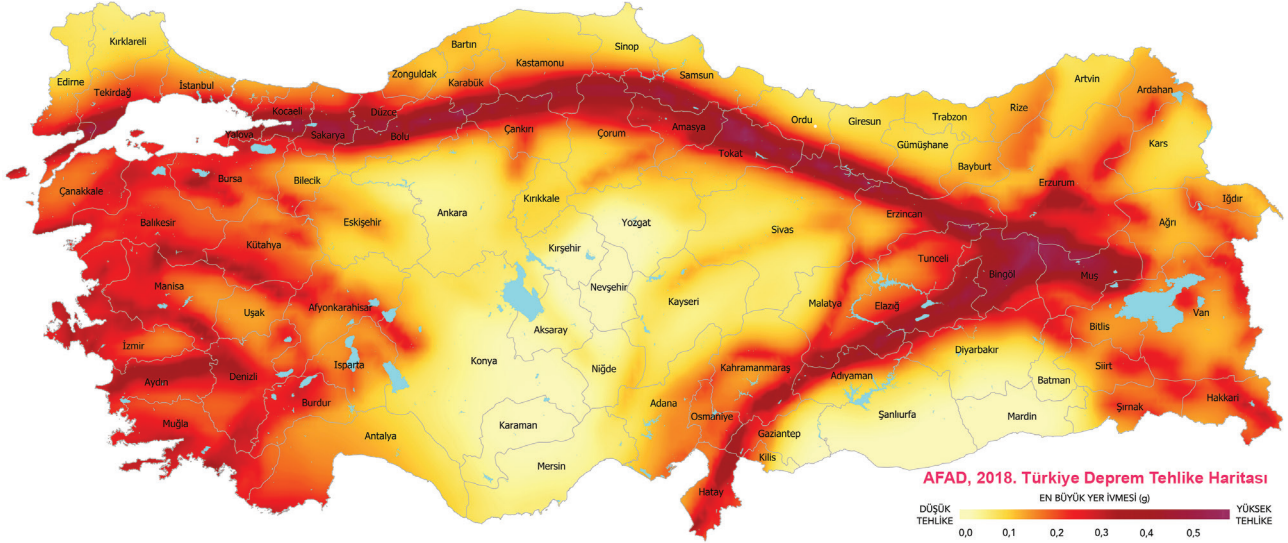
Doğal Varlıklar

-
-
-
-

Beşerî Varlıklar

-
-
-
-

- 4) Aşağıda Türkiye Deprem Risk Haritası verilmiştir.








Türkiye Deprem Risk Haritası'na göre deprem riski en az olan illerden üç tanesini yazınız.

-
-
-

- 5) Dağlık ve engebeli yamaçlarda tutunamayan kar kütlelerinin aşağı doğru hareket etmesi sonucu meydana gelen ve afete neden olan olaya ne denir? Yazınız.

- 6) Verilen görsellerin hangi komşu ülkeye ait olduğunu “.....” ile boş bırakılan yerlere yazınız.

Yönetim Şekli  Cumhuriyet	ÜLKE ADI: Başkenti  Bakü	Nüfusu  465 bin
Resmî Dili  Türkçe	Para Birimi  Manat	

Yönetim Şekli  Cumhuriyet	ÜLKE ADI: Başkenti  Tahran	Nüfusu  86,55 milyon
Resmî Dili  Farsça	Para Birimi  Riyal	