


1. DENEME SINAVI

2. OTURUM SINAVI

Fen Bilimleri, Sosyal Bilgiler, İngilizce

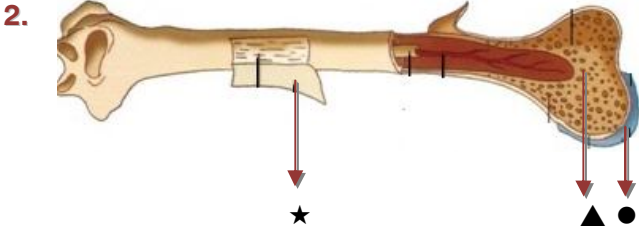


FEN BİLİMLERİ TESTİ

1. Bu testte Fen Bilimleri dersinin kazanımlarını ölçmeye yönelik 10 tane soru sorulmuştur.
2. Bu testin cevaplarını optik formdaki Fen Bilimleri bölümüne kodlayınız.

1. I. Göğüs kafesi dışarı doğru genişler.
II. Kaburgalar arası kaslar gevşer.
III. Diyafram kası aşağı doğru iner.
IV. Oksijence zengin hava akciğerlere dolar.
Yukarıdaki olaylardan hangisi soluk alma sırasında gerçekleşmez?

- A) I B) II
C) III D) IV



Yukarıdaki şekilde uzun kemiğin yapısı gösterilmiştir.

Buna göre ★, ▲ ve ● sembolleri ile gösterilen yapılar aşağıdakilerden hangisinde doğru eşleştirilmiştir?

- | ★ | ▲ | ● |
|---------------------|------------------|------------------|
| A) Kıkırdak doku | Süngerimsi kemik | Kemik zarı |
| B) Kemik zarı | Süngerimsi kemik | Kıkırdak doku |
| C) Süngerimsi kemik | Kemik zarı | Kıkırdak doku |
| D) Kemik zarı | Kıkırdak doku | Süngerimsi kemik |

3. Lâle sınıfta bitki ve hayvan hücresi modeli oluşturmak için evden yuvarlak kap, jöle, büyük bile, köşeli kap malzemeleri getirmiş ve sınıf içi etkinliğinde bu malzemeleri kullanmıştır.

Lâle getirdiği malzemeler ile model hücrelerinin hangi kısımlarını gösteremez?

	Bitki hücresi modelinde	Hayvan hücresi modelinde
A)	Hücre duvarı	Çekirdek
B)	Sitoplazma	Hücre zarı
C)	Kloroplast	Mitokondri
D)	Çekirdek	Sitoplazma

4.



Sadri

Yumurtanın etrafındaki koruyucu tabaka olmasaydı yumurtanın akı dağılır giderdi ve sırasıyla duramazdı.



Bedri

Evet! Hücrede de öyle bir yapı var ki hücreyi dağılmaktan korur ve hücreye şeklini vermektedir.

Yukarıdaki ikiz kardeşin konuşmasına göre, Bedri hücrenin hangi kısmı ile ilgili açıklama yapmıştır?

- A) Hücre zarı B) Sitoplazma
C) Çekirdek D) Mitokondri

A A A A

5.

Hey! Ne duruyorsunuz?
Hadi gidip dokuları oluşturalım.

I

Şu sistemlerim oluşsa da ben de artık meydana gelsem.

III

Gelin dokular gelin!
Sistemleri oluşturabilmem için size ihtiyacım var.

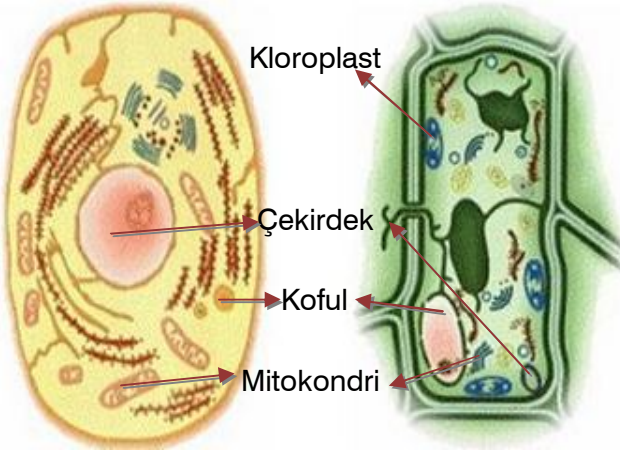
II

Yukarıda gelişmiş bir canlıyı oluşturan birimler numaralandırılmıştır.

Buna göre I, II ve III ile numaralandırılan birimler aşağıdakilerden hangisidir?

I	II	III
A) Organ	Sistem	Doku
B) Hücre	Organ	Organizma
C) Organ	Organizma	Sistem
D) Hücre	Doku	Organizma

6.



Bir öğrenci sırasıyla aşağıdaki işlemleri yapıyor.
I. Mikroskopta önce hayvan, sonra bitki hücrelerini inceliyor.

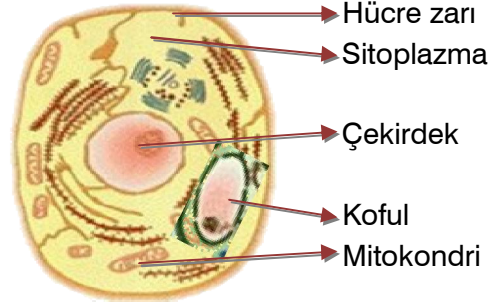
II. Gördüklerini yukarıdaki gibi çizip gösteriyor.

Buna göre, öğrenci aşağıdaki sonuçlardan hangisine ulaşamaz?

- A) Kofullar sadece bitki hücrelerinde bulunur.
- B) Kloroplast sadece bitki hücrelerinde bulunur.
- C) Çekirdek hem hayvan hem de bitki hücrelerinde bulunur.
- D) Mitokondri hem hayvan hem de bitki hücrelerinde bulunur.

7.

A A A A



Okulda mikroskopla hayvan ve bitki hücrelerini hayvan ve bitki hücrelerini inceleyen Yasemin'e öğretmeni ev ödevi olarak, gördüğü hücrelerden hayvana ait olanı çizmesini istedi. Yasemin ödevi öğretmenine gösterdiğinde bir şeyi yanlış çizdiğini öğrendi.

Şekle göre Yasemin, hatalı çizdiği resmi nasıl düzeltmelidir?

- A) Kofulu daha küçük çizmelidir.
- B) Hücre zarının dışına kalın bir hücre duvarı çizmelidir.
- C) Sitoplazmayı silmelidir.
- D) Mitokondri yerine kloroplast çizmelidir.

8. Aşağıdaki öğrenciler bilgi vermişlerdir.



İçinde bulunan ses telleri ile sesin oluşumu sağlar.

I



Biri sağda diğeri solda olmak üzere iki tanedir. Yapısında alveolleri bulundurur.

II



Ağız ve burun boşluğuyla yemek ve soluk borusunun birleştiği kısımdır.

III

Solunum sistemi organlarıyla ilgili yukarıdaki öğrencilerin verdiği ipuçlarına göre, bu organların isimleri hangi seçenekte doğrudur?

I	II	III
A) Yutak	Burun	Akciğer
B) Gırtlak	Akciğer	Yutak
C) Burun	Testisler	Gırtlak
D) Gırtlak	Burun	Ağız

A A A A

9. Aşağıdaki öğrenciler bazı bilgiler vermişlerdir.



Aylin

Kemiğin dış kısmında yer almaktadır.



Bekir

Kemiğin güçlü ve sağlam olan bölümüdür.



Ceyhun

Yapısında düzensiz boşluklar vardır. Gözenekli bir yapıya sahiptir.

Buna göre, bu öğrenciler hangi kemik kısımlarından söz etmektedirler?

Aylin	Bekir	Ceyhun
A) Sert kemik	Sarı kemik iliği	Kan damarları
B) Kan damarları	Kıkırdak	Kemik iliği
C) Kemik zarı	Sert kemik	Süngerimsi kemik
D) Süngerimsi kemik	Kıkırdak	Kan damarları

A A A A

10. 1. İstemsiz çalışır. Bazı özellikleri düz kaslara benzer.
 2. İsteğimizle çalışır. Kol kaslarımız bunlara örnektir.
 3. İstemsiz çalışır. Böbrek ve mide kasları bu kaslardan oluşmaktadır.
 Yukarıda kas türleri ile ilgili bazı bilgiler verilmiştir.

Buna göre, bu kas türleri hangi seçenekte doğru verilmiştir?

1	2	3
A) Düz kas	Çizgili kas	Kalp kası
B) Düz kas	Çizgili kas	Düz kas
C) Çizgili kas	Kalp kası	Düz kas
D) Kalp kası	Çizgili kas	Düz kas

SOSYAL BİLGİLER TESTİ

1. Bu testte Sosyal Bilgiler dersinin kazanımlarını ölçmeye yönelik 10 tane soru sorulmuştur.
2. Bu testin cevaplarını optik formdaki Sosyal Bilgiler bölümüne kodlayınız.

1. Ertuğrul, İstanbul ile ilgili aşağıdaki projeyi hazırlamıştır.

①



En kalabalık nüfuslu ilimizdir.

②



Marmara Bölgesi'ndedir.

③



Ayasofya Müzesi İstanbul'da bulunur.

④



Boğaz'ın muhteşem halini herkes görmelidir.

Buna göre, Ertuğrul'un numaralandırılmış cümlelerinden hangisi görüş bildirir?

- A) 1 B) 2
C) 3 D) 4

2. Esra ve Özlem okulda iken aniden yoğun bir kar yağışı olmuştur. Bu olaya Esra ve Özlem'in tepkileri aşağıdaki gibidir.

Esra: Süper oldu. Okuldan sonra doyasıya kartopu oynayacağım.

Özlem: Eyvah! Eve nasıl gideceğim?

Buna göre, aşağıdakilerden hangisine ulaşılabilir?

- A) Bir afet yaşanmaması için devlet gerekli tedbirleri almalıdır.
B) Bir olay her bireyde aynı etkiyi oluşturmaz.
C) Küresel ısınma, kar yağışını etkilememiştir.
D) Kar yağışı, genelde insanları olumsuz etkiler.

3.

Çanakkale'de meydana gelen orman yangınında 100 hektar orman kül oldu. Yangın nedeniyle birçok hayvan türü zarar gördü. Ayrıca etrafa yayılan duman nedeniyle yüzlerce kişi zehirlendi.



Haber spikerinin sunumunda söz konusu olayın daha çok hangi yönüne vurgu yapılmıştır?

- A) Çok boyutluluğuna
B) Olağanlığına
C) Sürekliliğine
D) Nedenlerine

4. Aşağıda bir telefon konuşması verilmiştir.



Alo... Merhaba Aslı, nasılsın, ne yapıyorsun?

Zeynep



İyiyim Zeynep, teşekkürler. Bir araştırma yapıyorum, son aşamadayım.

Aslıhan

Buna göre Aslıhan, bilimsel araştırma basamaklarının hangisindedir?

- A) Varsayımda bulunma
B) Kaynak taraması
C) Rapor oluşturma
D) Konuyu belirleme

A

A

A

A

A

A

A

A

5. Olgu: Kolayca anlaşılabilir, kanıtlanabilir ve bilimsel verilere dayanan bilgidir.

Buna göre aşağıdaki cümlelerden hangisi olgu ıçermez?

- A) Cumhuriyet 29 Ekim 1923'te ilan edilmiştir.
B) Dünya'nın en güzel ülkesi İtalya'dır.
C) Türkiye'nin en uzun akarsuyu Kızılırmak'tır.
D) Suşi, Japon kültürüne ait bir yemektir.

6. Atatürk'ün Türk Dil Kurumu (TDK) ve Türk Tarih Kurumu'nun (TTK) açması aşağıdakilerden hangisine önem verdiği söylenebilir?

- A) Üniversite sayısının artırılmasına
B) Sosyal bilimlerin geliştirilmesine
C) Eğitimin modernleştirilmesine
D) Haberleşmenin yaygınlaştırılmasına

7. Ömer Bey internetten bir bilgisayar siparişi vermiş ve parasını ödemiştir. Evine gelen kargoyu açınca kutudan çıkan bilgisayarın kullanılmış ve bozuk olduğunu görmüştür.

Buna göre Ömer Bey'in bilinçli bir vatandaş olarak aşağıdakilerden hangisini yapması gerekir?

- A) Kaymakamlıkta bulunan Tüketici Koruma Kurulu'na şikayetle başvuru yapması
B) İnternette bir daha alışveriş yapmaması
C) Bu durumun kendi hatası olduğunu kabul lenmesi
D) İnternette yeni bir bilgisayar sipariş vermesi

8. I. Televizyon bir iletişim aracıdır.
II. İlk cumhurbaşkanımız Atatürk'tür.
III. Akdeniz insanı yardımseverdir.
IV. Matematik sıkıcı bir derstir.

Yukarıda verilenlerden hangileri olgu ifade eden cümlelerdir?

- A) I ve II
B) I ve III
C) II ve IV
D) III ve IV

A

A

A

A

9.



Nur ve Nilgün, plastik atıkların çevreye etkisini gözlemlemek için önce bir doğa yürüyüşü yapmışlar daha sonra plastik atıklarla ilgili bir araştırma yapmak için kütüphaneye gitmişlerdir.

Buna göre Nur ve Nilgün, bilimsel araştırma basamaklarının hangisinde bulunmaktadır?

- A) Sorunun çözümlerine yönelik varsayımda bulunma
- B) Araştırılacak konunun belirlenmesi
- C) Konuyla ilgili bilgi toplamak için araştırma yapılması
- D) Kaynaklarda elde edilen bilgilerin sınıflandırılması

A

A

A

A

10.



Semtimizde yeni bir okul yapıldı. Bu sayede öğrenciler başka semtlerdeki okullara gitmekten kurtuldu. Okula yakın olmak isteyen veliler okulun yanındaki evlere taşınmaya başladı. Bu durum emlak piyasasını canlandırdı. Ayrıca öğrencilerin ihtiyaçlarının karşılanması için okul çevresine yeni kırtasiyeler ve pastaneler açıldı.

Buna göre, aşağıdakilerden hangisi söylenemez?

- A) Yeni okul, insanların farklı ihtiyaçlarına cevap vermiştir.
- B) Bir olayın birden fazla sonucu olabilir.
- C) Okulun açılması, semtte karmaşa yaşanmasına sebep olmuştur.
- D) Yeni okul mahalledeki ekonomik faaliyetleri canlandırmıştır.

İNGİLİZCE TESTİ

1. Bu testte İngilizce dersinin kazanımlarını ölçmeye yönelik 10 tane soru sorulmuştur.
2. Bu testin cevaplarını optik formdaki İngilizce bölümüne kodlayınız.

1.

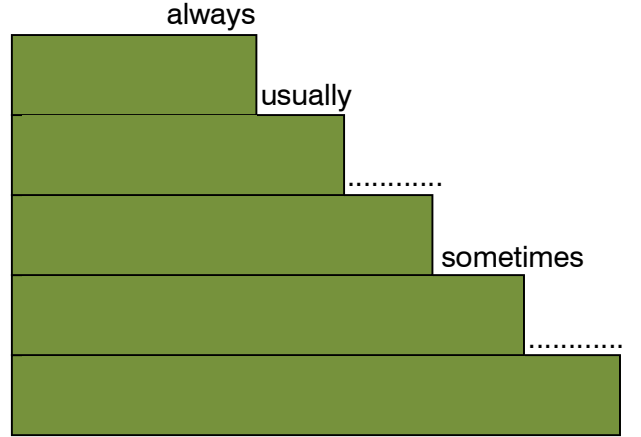
08:00 ➤ have breakfast
09:00 ➤ go to school
12:00 ➤ have lunch
13:00 ➤ play tennis
16:00 ➤ do homework
18:00 ➤ watch TV
22:00 ➤ go to bed

Yukarıda Serkan'ın bir günde neler yaptığı listelenmiştir.

Buna göre, aşağıdakilerden hangisi yanlıştır?

- A) He has breakfast at eight o'clock.
- B) He plays tennis at two o'clock.
- C) He watches TV at six o'clock.
- D) He goes to bed at ten o'clock.

2.



Yukarıdaki verilen merdivende eksik olan basamaklara gelebilecek ifadeleri bulunuz.

- A) often - never
- B) generally - everyday
- C) never - often
- D) on Sundays - weekdays

A A A A

3. Aşağıdaki sorular ve cevaplar eşleştirilmiştir.
Bu eşleştirmelerden hangisi doğrudur?
- A) What is the middle ➤ Thursday of the week?
B) On which days you ➤ On Friday and Sunday don't go to school?
C) What is the first day ➤ Monday of school?
D) What are the week- ➤ Saturday and Sunday days?

4. Aşağıdaki ifadelerden hangisi verilen tahtada yer almamalıdır?



- A) Meet friends
B) Go to summer holiday
C) Join a club
D) Chat on the net

A A A A

5.

I like playing football.
I play football.



Mert'in cümlesini devam ettiren ifade aşağıdakilerden hangisidir?

- A) always
B) in the evenings
C) every day
D) every weekend

A A A A

6. Aşağıdaki ifadelerin yapılma zamanlarını gösteren saatlerden hangisi yanlıştır?

A) I have breakfast at a quarter past seven.



B) I do my homework at half past ten.



C) I watch TV at a quarter to one.



D) I go to bed at twenty past eleven.



A A A A

12 - 15. sorularda verilen diyaloglarda boş bırakılan yerlere gelebilecek uygun ifadeyi bulunuz.

7. **Barbara:** Do you like dancing, Adam?

Adam: Yes, I do. I want to go to a dance course.

Barbara: Really?

Adam: I would like to learn Flamenco.

Barbara: Wow, it is exciting.


A) What time does the course start?

B) Which dance do you want to learn?

C) Where is the dance course?

D) Is it traditional dance?

8.



A) What is your favourite activity?

B) Do you go online at nights?

C) When do you go online?

D) How often do you meet your friends?

A A A A

9.



Andrew: What do you do after school, Nicky?

Nicky:



Andrew: Oh, I love football, too. Can I play with you?

Nicky: Of course, Andrew.

- A) I go online and chat with my friends.
- B) I have a snack and watch my favourite film.
- C) I take piano courses.
- D) I have a rest and I play football with my friends.

A A A A

10.



- A) What time - How often
- B) When - How much
- C) Who - What time
- D) How often - Where

**II. OTURUM BİTTİ.
SINAV BİTTİ.
CEVAPLARINIZI KONTROL EDİNİZ.**