

Yönetim Şekilleri

Monarşi

- ♦ Yasama, yürütme ve yargı yetkisi tek bir kişide toplanır.
- ♦ Egemenlik yetkisini elinde bulunduran kişi; kral, şeyh, emir, imparator, hükümdar, padişah gibi unvanlar kullanır.
- ♦ Yöneticiler saltanat sistemi ile belirlenir.
- ♦ Egemenlik yetkisine sahip olan kişiler yaptıklarından sorumlu değildirler. Emirleri kanun kabul edilir ve sorgulanmadan yerine getirilir.

Oligarşi

- ♦ Devlet yönetimi bir zümre, sınıf veya grubun elinde bulunur.
- ♦ Ülkeyi, aristokratlar, zenginler veya tüccarlardan oluşan bir grup yönetir.
- ♦ Toplumsal eşitlik yoktur. Yönetenler, insanların temel hak ve özgürlüklerini tam olarak koruyamazlar.

Teokrasi

- ♦ Egemenlik din adamlarının elinde bulunur.
- ♦ Egemenliği elinde bulunduran kişiler Tanrı'nın vekili olarak kabul edilir.
- ♦ Devlet, din kurallarına göre yönetilir.
- ♦ Ülkeyi yönetenler halka değil, sadece Tanrı'ya karşı sorumlu olduklarını düşünürler.
- ♦ Yöneticilerin Tanrı tarafından görevlendirildiğine inanıldığı için verdikleri emirler tartışılmaz ve eleştirilmez.

Cumhuriyet

- ♦ Egemenlik yetkisi kayıtsız şartsız millete verilir.
- ♦ Yöneticiler, halk tarafından seçilir.
- ♦ Yöneticiler, yaptıklarından dolayı halka karşı sorumludur.
- ♦ Yöneticilerin görev süresi sınırsız değildir. Görev süreleri, kanunlarla belirlenir.

B Aşağıda verilen özellikleri yönetim şekilleri ile eşleştiriniz.

	Monarşi	Oligarşi	Teokrasi	Cumhuriyet
1 Devleti bir zümre yönetir.				
2 Tek kişi egemenliğine dayalı yönetim şeklidir.				
3 Yöneticiler halk tarafından seçilir.				
4 Yönetimde din kuralları etkilidir.				
5 Ülke bir kral, hükümdar tarafından yönetilir.				
6 Halk kendini yönetecek kişileri seçer.				
7 Devlet yönetimi küçük bir azınlığın, grubun elindedir.				
8 Günümüzde Suudi Arabistan, Katar ve Bahreyn gibi ülkeler bu yönetim şekli ile yönetilmektedir.				
9 Devleti yönetenler yaptıkları işleri tanrı adına yaparlar.				
10 Ülkemizde görülen yönetim şeklidir.				

1.

Yönetenler, yönettikleri insanlara değil, sadece Tanrı'ya ve Tanrı'nın temsilcisi olarak kabul edilen kişiye karşı sorumludurlar. Yönetenlerin seçiminde demokratik kuralların etkisi bulunmaz.

Bu bilginin alt olduğu yönetim şekli aşağıdakilerden hangisidir?

- A) Monarşi B) Oligarşi
C) Teokrasi D) Cumhuriyet

2.

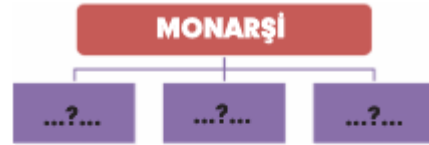


Ben ülkenin kralıyım. Ben ne dersem o olur. Kimse beni sorgulayamaz. Ben öldükten sonra da oğlum kral olacak.

Bu bilgiye göre bu kralın ülkesinde hangi yönetim şeklinin uygulandığı söylenebilir?

- A) Teokrasi B) Oligarşi
C) Monarşi D) Cumhuriyet

3.



Tabloda boş bırakılan yerlere aşağıdakilerden hangisi yazılamaz?

- A) Egemenlik tek kişiye aittir.
B) Devlet başkanı yargılanamaz.
C) Yönetimde din adamları etkilidir.
D) Hükümdarın emirleri kanun sayılır.

4.

Günümüzde dünyadaki ülkelerin çok büyük bir kısmında en yaygın olan yönetim şekli cumhuriyettir.

Cumhuriyet yönetiminin çok yaygın olarak uygulanmasında aşağıdakilerden hangisi etkili olmamıştır?

- A) Egemenliğin millete ait olması
B) Kararların kısa zamanda alınması
C) Herkesin kanun önünde eşit olması
D) Yöneticilerin belirli bir süreliğine göreve getirilmesi

5.



Aşağıdaki yönetim şekillerinden hangisinde ülke yöneticileri, halkın seçimlerdeki tercihi sonunda göreve gelmektedir?

- A) Cumhuriyet B) Teokrasi
C) Monarşi D) Oligarşi

6.

- I. Yönetimde kişi egemenliği vardır.
II. Siyasi güç bir kişi ya da grubun elindedir.
III. Yasalar önünde tüm yurttaşlar eşit haklara sahiptir.
IV. Yönetici öldükten sonra aileden bir kişi yerine yönetici olur.

Bu bilgilerden hangileri, demokrasi ile yönetilen ülkelerin özellikleri arasında gösterilebilir?

- A) Yalnız II. B) Yalnız III.
C) I ve IV. D) III ve IV.

7.



"İnsanların hak ve özgürlüklerine en fazla değer veren ve bunları yasalarla güvence altına alan yönetim biçimi hangisidir?"

Bu sorunun cevabı aşağıdakilerden hangisidir?

- A) Teokrasi B) Monarşi
C) Cumhuriyet D) Oligarşi

8.

Osmanlı Devleti'nde;

- ▶ 1518 yılına kadar padişah öldüğünde padişahın oğlu, kardeşi ya da aile üyelerinden bir kişi padişah olmuştur.
- ▶ 1518 yılından itibaren ise saltanat sistemi devam etmekle birlikte padişahlar aynı zamanda halife de olmuşlar ve yönetimde dinî kuralları da uygulamıştır.
- ▶ 1876 yılında padişahın yanında halkın temsilcilerinden oluşan Mebusan Meclisi de yönetime katılmıştır.

Bu bilgilere göre Osmanlı Devleti'nde aşağıdaki yönetim biçimlerinden hangisinin uygulandığı söylenemez?

- A) Teokrasi B) Oligarşi
C) Monarşi D) Meşrutiyet

9.

Cumhuriyet; başta devlet başkanı olmak üzere, devletin diğer bazı yöneticilerinin belli aralıklarla yinelenen seçimlerle göreve getirildiği bir yönetim biçimidir.

Bu bilgiye göre aşağıdakilerden hangisi cumhuriyet yönetiminin özellikleri arasında gösterilemez?

- A) Halk egemenliği vardır.
B) Yöneticiler seçimle iş başına gelir.
C) Belli aralıklarla seçimler yapılır.
D) Devlet yöneticileri sınırsız yetkilere sahiptir.

10.

Dünyada Suudi Arabistan, Katar, Bahreyn, Umman gibi ülkelerin başında kral bulunmaktadır.

Buna göre bu ülkelerin yönetim şekli aşağıdakilerden hangisidir?

- A) Oligarşi B) Monarşi
C) Teokrasi D) Cumhuriyet

11.

		D	Y
I	Oligarşi ile yönetilen ülkelerde toplumsal eşitsizlik vardır.		
II	Demokrasi ile yönetilen ülkelerde gerekirse referanduma gidilebilir.		
III	Teokrasi ile yönetilen ülkelerde yapılan bütün işler Tanrı adıdır.		
IV	Monarşi ile yönetilen ülkelerde yasama, yürütme ve yargı yetkisi bir kişinin elindedir.		

Yukandaki doğru-yanlış tablosunun kaç satırında doğru bölümü işaretlenmelidir?

- A) 1 B) 2 C) 3 D) 4

12.



"?" ile gösterilen yere aşağıdaki yönetim biçimlerinden hangisi yazılmalıdır?

- A) Demokrasi B) Teokrasi
C) Oligarşi D) Monarşi

13.

Ben bu ülkenin kralıyım.
Ülkeyi yönetme yetkisi bana aittir.
Benden sonra ülkeyi oğlum yönetecektir.
Benim emirlerim kanun kabul edilir.



Kralın bu sözüne göre ülkenin yönetim şekli aşağıdakilerden hangisidir?

- A) Monarşi B) Oligarşi
C) Teokrasi D) Demokrasi

14.

– Egemenliğin bir gruba ya da zümreye ait olduğu yönetim şekli
– Din kurallarının geçerli olduğu ve devletin başında din adamlarının bulunduğu devlet yönetim şekli
– Egemenliğin tek bir kişinin elinde olduğu ve saltanat yoluyla babadan oğula geçtiği yönetim şekli

Yukarıda, hangi yönetim şekli ile ilgili bir bilgi verilmemiştir?

- A) Teokrasi B) Demokrasi
C) Oligarşi D) Monarşi

15.

Birleşik Arap Emirlikleri	Krallık
Fransa	Cumhuriyet
Türkiye	Cumhuriyet
?	Teokrasi

"?" ile gösterilen yere aşağıdakilerden hangisi yazılabilir?

- A) Vatikan B) Polonya
C) Hindistan D) Bangladeş

16.



Kralın yetkileri sınırsız, peki kral bu yetkilerini kimden almıştır.

Serdar'ın düşüncesi aşağıdaki hangi yönetim biçimiyle ilgilidir?

- A) Teokrasi B) Monarşi
C) Cumhuriyet D) Oligarşi

17.

- I. Yasal düzenlemeler
II. Hukuk kurallarının herkes için olması
III. Baskı ve tehdit

Yukarıdakilerden hangisi ya da hangileri demokratik yönetimlerde sorun çözmek için kullanılan yollar arasında yer alır?

- A) Yalnız I B) I e II
C) II ve III D) I, II, III

18.



Adım Ratense, Eski yunan şehir devletlerinde yaşamaktayım. Bu yunan şehir devletlerini seçkinlerden seçilmiş bir grup zengin kişi yönetirdi.

Yukarıda Ratense'nin anlattığı yönetim biçimi aşağıdakilerden hangisidir?

- A) Teokrasi B) Monarşi
C) Meşrutiyet D) Oligarşi

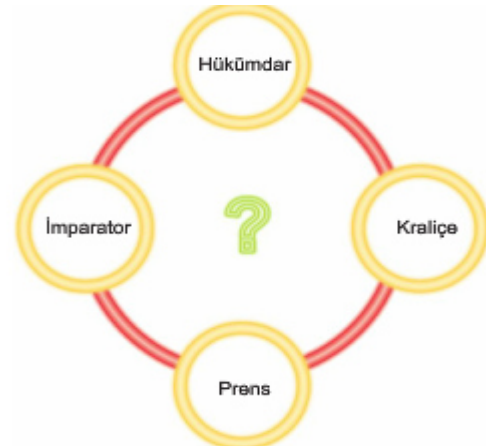
19.



Yukarıda verilen yönetim biçimleri ve onlarla ilişkili olan kavramlardan hangisi ya da hangileri yanlış verilmiştir?

- A) Yalnız I B) Yalnız III
C) II ve III D) I, II, III

20.



Yukarıda verilen kavramlar aşağıdaki hangi yönetim biçimi ile ilişkilendirilebilir?

- A) Demokrasi B) Teokrasi
C) Monarşi D) Oligarşi

21.

Günümüzde, dünya ülkelerinde en yaygın yönetim biçimi aşağıdakilerden hangisidir?

- A) Teokrasi
- B) Monarşi
- C) Cumhuriyet
- D) Meşrutiyet

22.

Aşağıdaki yönetim biçimlerinden hangisi yanlış açıklanmıştır?

- A) Monarşi: Bir kişinin ülkeyi yönetmesi
- B) Teokrasi: Dine dayalı devlet düzeni
- C) Oligarşi: Halkın kendi kendini yönetmesi
- D) Demokrasi: Milli iradenin temel alındığı yönetim

23.

I. Demokrasilerde, egemenlik millete aittir. Mustafa Kemal'in bu konu hakkında söylediği: "Egemenlik kayıtsız şartsız millete aittir." sözü aşağıdaki hangi yönetim biçimi ile ilişkilendirilir?

- A) Cumhuriyet
- B) Oligarşi
- C) Teokrasi
- D) Meşrutiyet

24.

Dünya üzerinde çeşitli yönetim sistemleri vardır. Her ülke kendi toplumsal yapısına göre yönetim biçimi seçmiştir.

Buna göre aşağıda verilen devletlerden hangisi yönetim biçimi olarak teokrasiyi benimsemiştir?

- A) Vatikan
- B) Azerbaycan
- C) Makedonya
- D) Fransa

25.

Benim adım Leo, ülkemde herkes birbirine saygı duyar ve herkes fikirlerini özgürce dile getirir.

Yukarıdaki sözü söyleyen kişinin ülkesi ile ilgili aşağıdaki yorumlardan hangisi yapılamaz?

- A) İnsanlar sınırsız özgürlüklere sahiptir.
- B) Milli irade önemlidir.
- C) Ülke halkı, haklarının ve sorumluluklarının bilincindedir.
- D) İnsanlar istedikleri dinî inanışa sahip olabilirler.

26.



Yukarıdaki yoncanın yapraklarında verilen yönetim biçimlerinden hangisi ülkemizde uygulanmaktadır?

- A) Monarşi
- B) Oligarşi
- C) Teokrasi
- D) Cumhuriyet

27.

?
Çok partili hayat vardır.
Milli egemenlik esas alınmıştır.
Hukukun üstünlüğü hâkimdir.

Yukarıda verilen diyagrama verilebilecek en uygun başlık aşağıdakilerden hangisidir?

- A) Demokrasinin tarihi
- B) Demokrasi ve ekonomi
- C) Demokrasinin ilkeleri
- D) Demokrasi ve basın

28.

Aşağıdaki seçeneklerden hangisinde oligarşi hakkında yanlış bilgi verilmiştir?

- A) Belli bir sınıf yönetiminde hâkimdir.
- B) Günümüzde çok yaygın olan bir sistem değildir.
- C) Düşünce özgürlüğü her alanda görülür.
- D) Eskiden, Yunan şehir devletlerinde görülmüştür.

29.

- I. Yetki, genellikle miras yoluyla babadan oğula geçer.
- II. Belli bir sınıfın, grubun ya da küçük bir azınlığın egemenliği altında tutulan yönetimdir.
- III. Ülkede siyasal yapılanma dini esaslara göredir.

Yukarıdaki gelişmelerin ilgili oldukları alanla doğru eşleştirilmeleri hangi seçenekte verilmiştir?

I	II	III
A) Monarşi	Oligarşi	Teokrasi
B) Oligarşi	Teokrasi	Monarşi
C) Teokrasi	Monarşi	Oligarşi
D) Oligarşi	Teokrasi	Monarşi

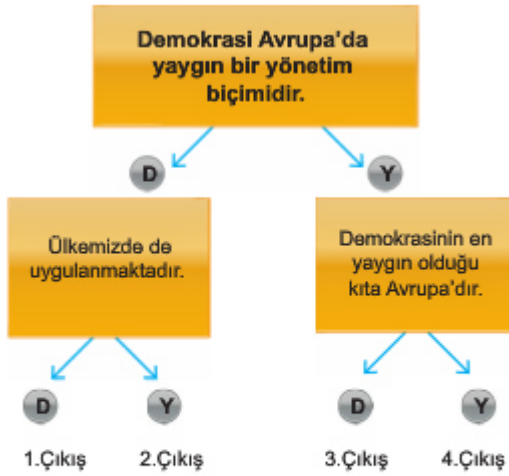
30.



Şemaya göre monarşi ile yönetilen ülkeler arasında aşağıdakilerden hangisi yoktur?

- A) Suudi Arabistan
- B) Birleşik Arap Emirlikleri
- C) Katar
- D) Fransa

31.



Yukarıdaki diyagramda bilgileri değerlendirip yol takip edildiğinde kaç numaralı çıkışa ulaşılır?

- A) 1
- B) 2
- C) 3
- D) 4

32.

- I. Halkın oyları yönetimdekileri belirler.
- II. İnsan hakları önemlidir.
- III. İnsanların özgürlükleri çok sınırlıdır.

Yukarıdakilerden hangileri bir ülkede demokratikleşmeler yaşandığının göstergesidir?

- A) Yalnız I
- B) I ve II
- C) II ve III
- D) I, II, III

33.

- Fransa
- İtalya
- Almanya

Yukarıda verilen devletlerin ortak özelliği aşağıdakilerden hangisidir?

- A) Yüz ölçümlerin aynı olması
- B) Nüfuslarının aynı olması
- C) Demokrasi ile yönetiliyor olmaları
- D) Aynı kuruluşlara üye olmaları

ETKİN VATANDAŞLIK-YÖNETİM ŞEKİLLERİ- TEST-2

	CEVAP ANAHTARI						
1	C	11	D	21	C	31	A
2	C	12	C	22	C	32	B
3	C	13	A	23	A	33	C
4	B	14	B	24	A		
5	C	15	A	25	A		
6	B	16	B	26	D		
7	C	17	B	27	C		
8	B	18	D	28	C		
9	D	19	B	29	A		
10	B	20	C	30	D		