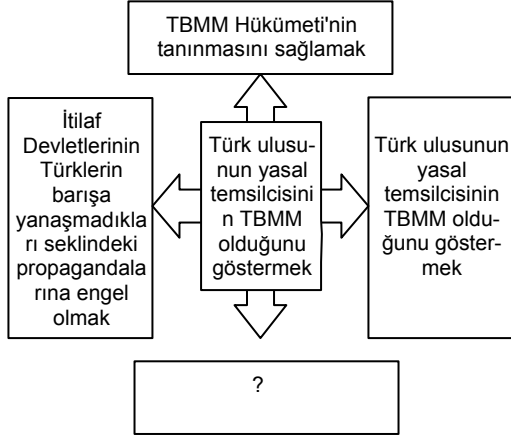


1.



Yukarıdaki şemada "?" işareti olan kutuya aşağıdakilerden hangisi yazılmalıdır?

- A) Osmanlı Devleti'ne son vermek
- B) Kuvayı milli'yi etkin hale getirmek
- C) Milli Mücadele'nin haklılığını dünya kamuoyuna duyurmak
- D) Sevr Antlaşması'nı kabul etmek

2.

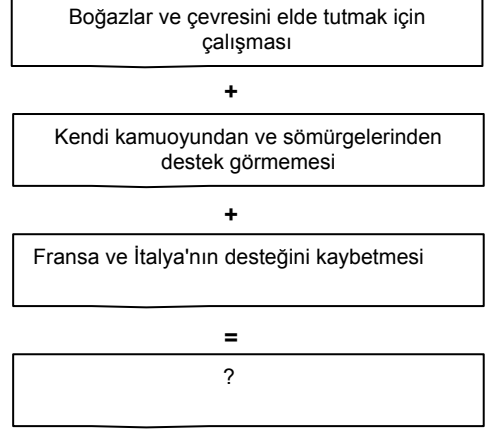


Fransızlar, İngilizlerden devraldıkları Maraş'ı 1919'da işgal etmişlerdir. Mısır ve Suriye'den getirdikleri Ermenileri, Türklere saldırarak taşkınlık yapmalarına fırsat vermişlerdir.

Bu anlatımına göre, Fransızların Ermenileri Maraş ve çevresine getirmekteki amaçları aşağıdakilerden hangisi olabilir?

- A) Güneydeki Ermeni nüfusunu azaltmak
- B) İngilizlerin desteğini sağlamak
- C) Bölgeyi işgal etmek için uygun bir ortam hazırlamak
- D) Wilson ilkelerinin kapsamını daraltmak

3.



Buna göre "?" yerine hangisi getirilmelidir?

- A) İngilizlerin ateşkes görüşmelerini kabul etmesi
- B) İtilaf Devletleri arasında birliğin sağlanması
- C) Mustafa Kemal'in görüşmelere katılmasına izin verilmemesi
- D) İstanbul Hükümeti ile uzlaşılması

4.

Doğu Cephesi komutanı Kazım Karabekir Paşa, Ermenilerin yaptığı saldırılar nedeniyle Öksüz kalan çocuklar için okul ve yetimhaneler açtırmıştır. Ordudaki bazı subayları da *çocukların eğitimi için görevlendirmiştir.* **Bu bilgilere göre Kazım Karabekir ile ilgili,**

- I. Eğitim ve öğretime önem vermiştir.
- II. Doğunun kültürel açıdan kalkındırmasını amaçlamıştır.
- III. Ordu, bölge halkının sosyal sorunlarına çözümler aramıştır.

**yargılarından hangisi ya da hangilerine ulaşılabilir?**

- A) Yalnız I
- B) Yalnız II
- C) I ve II
- D) I,II ve III

SOSYAL BİLGİLER 8


YA İSTİKLAL YA ÖLÜM

TEST NO: 1

5. Eskişehir-Kütahya Savaşları → Kurtuluş Savaşı'nda alınan tek yenilgi
- Sakarya Savaşı → Savunmadan taarruza geçilen savaş
- Ankara Antlaşması (1921) → Fransa ile savaşı bitiren antlaşma
- ? → Doğu sınırını kesinleştiren antlaşma

Verilen eşleştirme tablosunda boş bırakılan yer aşağıdakilerden hangisiyle tamamlanmalıdır?

- A) Kars  
B) Moskova  
C) Gümrü  
D) Londra

6.  Fuat Paşa ile kısa bir görüşme yaptıktan sonra alacağı yeni görevi söyledim. Aynı günün gecesi İsmet ve Refet Paşa'yı davet ederek yeni durumu ve görevlerini kararlaştırdık. Kendilerine verdiğim kesin emir "süratle düzenli ordu ve büyük süvari birlikleri kurmak idi"

Mustafa Kemal'in anlatımına bakarak, aşağıdakilerden hangisi söylenebilir?


- A) Kuvayı milliyetçiliklerinin TBMM'ye isyan ettiği  
B) Kurtuluş Savaşı'nın düzenli bir şekilde sürdürülmek istendiği  
C) Düzenli orduya tepkilerin olduğu  
D) Yunan kuvvetlerinin Ankara yakınlarına kadar ilerlediği

7. Sakarya Savaşı öncesinde Türk ve Yunan taraflarının asker ve silah durumları aşağıdaki gibidir:

	Er	Tüfek	Top	Uçak
Türk ordusu	96.326	54.572	196	2
Yunan ordusu	20.000	57.000	386	18

Bu tabloya bakarak, aşağıdakilerden hangisi söylenebilir?

- A) Türk ordusunun teknik bakımından üstün olmadığı  
B) Yunanlıların, İngiltere ve Fransa'dan silah aldığı  
C) Her iki tarafın da güçlerinin birbirine eşit olduğu  
D) Türk ordusunun Yunan kuvvetlerinin hareketini durduracak kadar güçlü olduğu

8. 

Kavram haritasında aşağıdakilerden hangisinin sonuçları verilmiştir?

- A) Sakarya Savaşının  
B) Kütahya Eskişehir savaşlarının  
C) Büyük Taarruzun  
D) Londra Konferansının