

# SOSYAL BİLGİLER

# 5. SINIF



## Yazarlar

ÇETİN KAYADELEN  
BETÜL DERİCİ  
CUMALİ GÜLER  
YASİN GÖKÇE  
REŞİT ÜNAL

## Toplam süreniz

**30** Dakika



## Soru Sayısı

**20**

## Deneme Formatı

13 MART'A KADAR İŞLENEN  
KONULARI KAPSAYAN  
GENEL DENEME

### DENEMEDE SORULAN SORULARIN ÜNİTELERE GÖRE DAĞILIMLARI

	1	2	3	4	5	6	7	8	9	10	11	12	13	14	15
1. Ünite:	1	2	3	4											
2. Ünite:					5	6	7								
3. Ünite:								8	9	10					
4. Ünite:											11	12			15
5. Ünite:													13	14	
6. Ünite:															
7. Ünite:															

Daha fazla  
doküman için:

[fb.com/groups/ortaokulpaylasim](https://fb.com/groups/ortaokulpaylasim)



**DENE MEVAKTİ**  
*Hedef Bizimle Daha Yakın*

Online denemelere [www.modeldeneme.com](http://www.modeldeneme.com) adresinden ulaşabilirsiniz

**MODEL**  
EĞİTİM YAYINLARI

Adı:

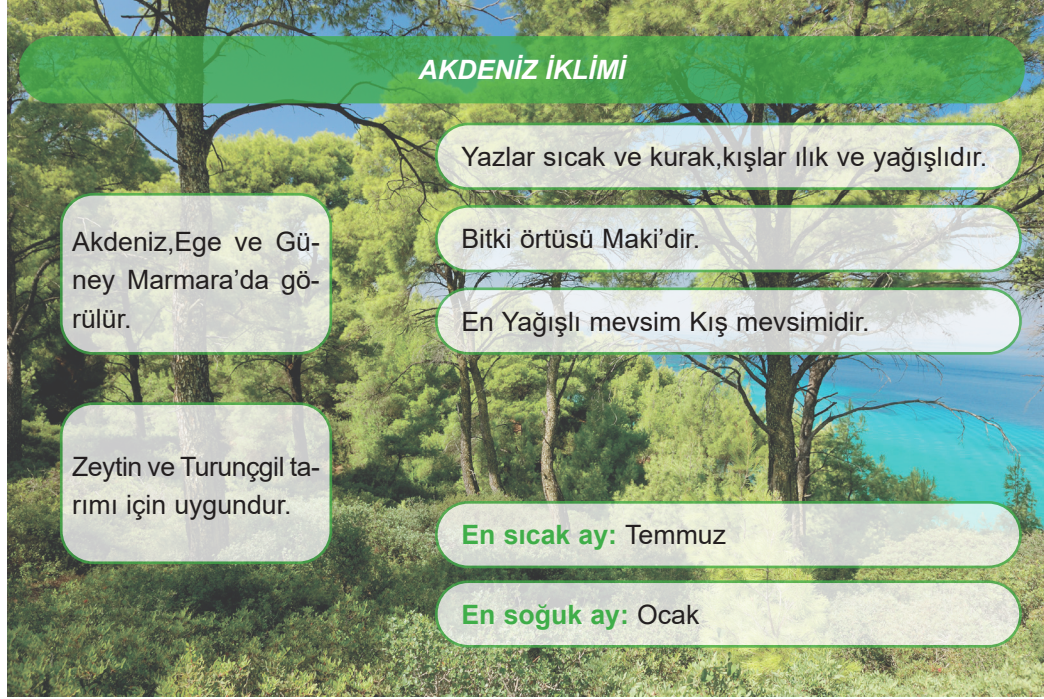
Soyadı:

Sınıf-Şube:

No:

Bu denemede toplam 15 soru bulunmaktadır. Soruların tamamını yanıtlamak için toplam 30 dakikanız vardır.

1.

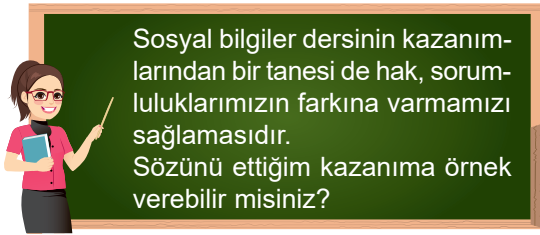


Verilen infografiğe göre Akdeniz İklimi ile ilgili aşağıdaki yargılardan hangisine ulaşılabilir?

- A) Birden fazla bölgede etkili olmaktadır.  
C) Yıllık yağış miktarının en fazla olduğu iklimdir.

- B) Portakal ve Limon başlıca tarım ürünlerindendir.  
D) En soğuk ay olan Ocak'ta yağışlarda etkili olmaktadır.

2.



Ceylin: Seçim zamanı oy kullanmanın vatandaşlık görevi olduğunu öğretir.



Serhat: Bilimsel alanda düşünce gücümüzün gelişmesine katkıda bulunur.



Meral: Yaşadığımız bölgenin coğrafi özelliklerini tanıma fırsatı sağlar.



Aytekin: Aldığımız bir ürünün arızalı çıkması durumunda başvurulacak yerlerin öğrenilmesini sağlar.

Betül Öğretmen'in öğrencilerine sormuş olduğu soruya hangi öğrenciler doğru cevap vermiştir?

A) Ceylin ve Meral

B) Serhat ve Aytekin

C) Serhat ve Meral

D) Ceylin ve Aytekin



3.



Merhaba. Benim adım Tuğba. Çevremdeki kişiler bana farklı şekillerde seslenmektedirler. Örneğin evde an-nem “kızım”, kardeşim “abla” diye seslenirken okulda bulunan öğrencilerim ise “öğretmenim” demektedir.

**Tuğba’nın verdiği bilgilere göre ulaşılabilecek en kapsamlı yargı aşağıdakilerden hangisidir?**

- A) Toplum içinde farklı rollere sahip olunmaktadır.
- B) Roller içinde en önemlisi aile bireyi olmaktır.
- C) Sahip olunan her rol doğuştan kazanılmaktadır.
- D) En kapsamlı olan rol mesleki rollerdir.

4.

Tarih boyunca toplumlar tarafından oluşturulan ve kuşaktan kuşağa aktarılan maddi ve manevi değerlerin tümüne kültür adı verilmektedir. Toplumdan topluma değişiklik gösteren müzik aletleri de kültürün birer parçası olarak yerini almaktadır.

**Buna göre, aşağıda verilen müzik aletlerinden hangisi Türk Kültürünü yansıtır değere sahip değildir?**

- A) Kemençe
- B) Davul
- C) Piyano
- D) Saz

5.

Anadolu Uygarlıklarından olan Hititler, devletleri açısından önemli gördükleri olayları Anal adını verdikleri kil tabletler sayesinde kayıt altına almışlardır. Anallarını tanrıya hesap vermek için oluşturdukları bilinmektedir. Bu yüzden de yıllıklarında kazandıkları zaferlerine ek olarak kaybedilen savaşlar da yer almaktadır. Bu durum objektif tarih yazıcılığına örnek olarak verilebilir.

**Metne göre Hititler ile ilgili hangisine ulaşılabılır?**

- A) Birden fazla tanrıya inanmışlardır.
- B) Tarafsız tarih yazıcılığı bulunmaktadır.
- C) Yaşanan her olayı kayıt altına almışlardır.
- D) Mezopotamya devletleri ile savaş halindedir.

6.


Düğünlerimiz önemli kültürel öğelerimiz arasında yer almaktadır. Geçmişten günümüze kadar ufak tefek değişikliklere uğramış olsalar bile eski geleneklerin hala devam ettiği gözlenmektedir. Kına gecesi eğlencesi devam eden geleneklerimiz arasındadır. Bazı yörelerde gelin alma adeti eskiden de olduğu gibi at üzerinde yapılırken bazı yerlerde arabaların süslenmesi ile gerçekleştirilmektedir. Evlenen çiftlere yardımcı olmak için çeşitli hediyeler de verilmektedir. Bazı çiftlerin gelenek haline gelen akraba ziyaretleri günümüzde de devam ettirdiği gözlemlenirken bazı kesimler ise akraba ziyareti yerine tatile gitmeyi tercih etmektedir.



**Verilen metne göre düğünler ile ilgili ulaşılabilecek en genel yargı hangisidir?**

- A) Kına gecesi geleneği günümüzde de uygulanmaktadır.
- B) Gelin alma adeti değişikliğe uğrasa da devam etmektedir.
- C) Kültürel değerlerimiz zaman içinde değişikliğe uğrayabilmektedir.
- D) Kültürümüzü yaşatmak bizim temel görevlerimiz arasındadır.

7. Sümerlere ait olduğu bilinen Zigguratların en alt katı tahıl ambarı olarak kullanılmaktaydı. Orta katlar, eğitim amaçlı kullanılırken dini eğitiminde verildiği elde edilen bilgiler arasındadır. Yapının en üst katı ise rasathane yani gözlemevi işlevini görmekteydi. Sümerlerin rasathane kısmında yapmış oldukları incelemeler sayesinde ay yılı esaslı takvimi buldukları bilinmektedir.



**Verilen metne göre Sümerler ile ilgili hangisine kesin olarak ulaşılamaz?**

- A) Hayvancılıkla uğraşmışlardır.
- B) Eğitim faaliyetlerine önem vermişlerdir.
- C) Astronomi bilimi ile ilgilenmişlerdir.
- D) Yapıları çok amaçlı olarak kullanılmıştır.



8. Yaşadığım şehri seçmemdeki en büyük etken si-nema, sergi ve spor organizasyonları açısından zengin bir yapıya sahip olmasıdır. Bununla birlik-te şehrimizde yer alan üniversite de ayrı bir ener-ji vermektedir.

**Verilen anlatımda bir yerin yerleşme yeri olarak seçilmesinde hangi etkene yer verilmiştir?**

- A) Ticaret B) Ulaşım ve haberleşme  
C) Sosyal ve Kültürel D) Yerüstü zenginlikleri

9. 17 Ağustos 1999 tarihinde meydana gelen Marmara depreminde ev ve işyerleri hasar görmüş, birçok insanın yaşamını yitirdiği acı veren bir durum yaşanmıştır. Yaşanan afet sonrasında bölgeye sevk edilen arama kurtarma örgütlerinin çalışmalarının yanında vatandaşların da katkıları ile yurdun dört bir yanın-dan gıda, giyecek yardımları hızlı bir şekilde bölge-ye ulaştırılmıştır. Diğer ülkeler de bu durum karşısın-da yardıma hazır olduklarını bildirmişlerdir.

**Verilen bilgiye göre,**

- I. Depremler sadece meydana geldiği bölgeyi etki-lemiştir.  
II. Yardımlaşma ve dayanışma örneği sergilenmiştir.  
III. Can ve mal kaybına neden olmuştur.

**hangilerine ulaşılabilir?**

- A) Yalnız I B) I ve II  
C) II ve III D) I, II ve III

10. Kabartma haritalar, yeryüzü şekillerinin belirli bir öl-çek kullanılması ile oluşturulan haritalardır. Yapı-mında alçı ve plastik gibi malzemelerin yanında kar-ton ve balmumunun da kullanıldığı görülmektedir. Bu tür haritalarda araziler üç boyutlu olarak görüle-bilmektedir. Böylece yeryüzü şekillerinin daha iyi kavranmasına olanak sağlamaktadırlar.

**Verilen bilgilere göre hangisine ulaşamaz?**

- A) Belli bir ölçeğe uygun olarak yapılmaktadır.  
B) Taşınması zor ve fazla maliyetlidir.  
C) Konunun anlaşılmasını kolaylaştırır.  
D) Değişik malzemelerden oluşturulabilir.

11. Teknolojik aletler, insanların ihtiyaçlarına bağlı ola-rak meydana getirilmişlerdir. Günlük yaşantımızda da çok büyük bir öneme sahiptirler. Günümüzde ev-lerimde kullandığımız teknolojik aletlerin hayatımız-da çok fazla yeri bulunmaktadır. Çamaşır ve bulaşık makineleri sayesinde hem zamandan hem de sudan tasarruf sağlandığı araştırmalar ile kanıtlanmıştır. Mikrodalga fırınlar sayesinde ihtiyacımız oranında yemeklerimizi kısa sürede ısıtabiliyor, televizyonlar sayesinde de yurt ve dünyadan bilgilere anında ula-şabiliyoruz.

**Verilen bilgilere göre teknolojik aletlerle ilgili;**

- I. Bazıları enerji tasarrufu sağlamaktadır.  
II. İnsanların ihtiyaçları doğrultusunda oluşturulmuş-lardır.  
III. Yararları olduğu kadar zararları da bulunmaktadır.

**hangilerine ulaşılabilir?**

- A) Yalnız I B) I ve II  
C) II ve III D) I, II ve III

12.



Aradığım ürünü mağazalarda bula-madığım için internet üzerinden sipa-riş etmeye karar verdim. Siteleri do-laşırken uzun zamandır istediğim ama pahalı olduğu için alamadığım ceke-tin fiyatının %90 indirimli satıldığını gördüm ve hemen siteye giriş yaptım. Kredi kartı bilgilerimi de girerek ürü-nü satın aldım. Bir saat sonra kredi kartımdan yüklü miktarda para çekil-diğine dair mesaj aldım. Sanal ortam-da dolandırıldığımı anladım.

**Mehmet Bey'in böyle bir durum ile karşılaşma-mak için nasıl davranması gerekirdi?**

- A) İnternette alışveriş yapmamalıydı.  
B) Ucuz ürün satın almaya çalışmamalıydı.  
C) Kredi kartı kullanımını sonlandırmalıydı.  
D) Güvenilir sitelerden alışveriş yapmalıydı





13. ➔ 4 numaralı evde oturan Hasan Bey, geçimini kendine ait arazisinde buğday yetiştirerek sağlamaktadır.  
 ➔ 1 numaralı evde oturan Berna Hanım'ın deniz kenarında kendine ait küçük bir pansiyonu bulunmaktadır.  
 ➔ 3 numaralı evde oturan Nisa Hanım, bir fabrikada ürün denetleyicisi olarak çalışmaktadır.  
 ➔ 2 numaralı evde oturan Kadir Bey, bir kargo firmasında şoför olarak görev almaktadır.



1



2



3



4

Verilen bilgilere göre numaralandırılmış evlerde ikamet eden kişiler sırasıyla hangi ekonomik faaliyet alanlarında çalışmaktadırlar?

	1	2	3	4
A)	Turizm	Ulaşım	Sanayi	Tarım
B)	Tarım	Turizm	Sanayi	Ulaşım
C)	Sanayi	Tarım	Ulaşım	Turizm
D)	Ulaşım	Turizm	Tarım	Sanayi

14. Ekonomik faaliyeti tarıma dayalı olan yerlerde tarla-  
 lar nesilden nesile aktarılırken küçülmüş ve ekono-  
 mik sıkıntılar yaşanmaya başlanmıştır. Gelirin azal-  
 ması ile birlikte insanlar şehirlere göç etmiş ve tarım  
 dışında ekonomik faaliyetlerde bulunmaya başlamış-  
 lardır. Kentlerde nüfus artışı yaşanırken köylerde nü-  
 fus giderek azalmıştır. Anne, baba, dede, babaanne  
 ve çocuklardan oluşan geniş aileler zamanla yerini  
 anne, baba ve çocuklardan oluşan çekirdek ailelere  
 bırakmıştır.

Verilen bilgilere göre,

- İnsanların ekonomik faaliyetleri zamanla değişik-  
 liğe uğramıştır.
- Ekonomik sıkıntılar köyden kente göçlere neden  
 olmuştur.
- Değişen ekonomik faaliyetler aile bağlarını zayıf-  
 latmıştır.

hangilerine ulaşılabilir?

- A) Yalnız I                      B) I ve II  
 C) II ve III                     D) I, II ve III

15.

### MODEL HABER

Geçtiğimiz günlerde meydana gelen or-  
 man yangını civar köylerde büyük bir pa-  
 niğe neden oldu. Kısa sürede kontrol al-  
 tına alınan yangının çıkış sebebinin doğal  
 faktörlere bağlı ola-  
 rak meydana gelme-  
 diği bilgisi verildi. Yapılan anonslarla in-  
 sanların daha duyarlı olmaları uyarılarında  
 bulunuldu.



Verilen gazete haberine göre hangisinin yangının  
 çıkış sebepleri arasında olduğu söylenemez?

- A) Mangal küllerinin söndürülmeden bırakılması  
 B) Ormana cam kırıklarının atılması  
 C) Tedbir almadan ateş yakılması  
 D) Yıldırımın bir ağaca isabet etmesi