

SOSYAL BİLGİLER

5. SINIF



Yazarlar

ÇETİN KAYADELEN
BETÜL DERİCİ
CUMALİ GÜLER
YASİN GÖKÇE
REŞİT ÜNAL

Toplam süreniz

30 Dakika



Soru Sayısı

15



Deneme Formatı

13 MART'A KADAR İŞLENEN
KONULARI KAPSAYAN
GENEL DENEME

DENEMEDE SORULAN SORULARIN ÜNİTELERE GÖRE DAĞILIMLARI

	1	2	3	4	5	6	7	8	9	10	11	12	13	14	15
1. Ünite:	1		3	4					9						15
2. Ünite:					5	6	7								
3. Ünite:		2								10	11		13	14	
4. Ünite:								8				12			
5. Ünite:															
6. Ünite:															
7. Ünite:															

Daha fazla
doküman için:

fb.com/groups/ortaokulpaylasim



DENE MEVAKTİ
Hedef Bizimle Daha Yakın

Online denemelere www.modeldeneme.com adresinden ulaşabilirsiniz

MODEL
EĞİTİM YAYINLARI

Adı:

Soyadı:

Sınıf-Şube:

No:

Bu denemede toplam 15 soru bulunmaktadır. Soruların tamamını yanıtlamak için toplam 30 dakikanız vardır.

1.



Yaşadığım şehre çok büyük bir hastane yapılacağı söylendi. Yerinin tam olarak neresi olduğu öğrenilince o bölgede ev ve arsa fiyatları birden yükselmeye başladı. İnşaat şirketleri çok katlı binalar inşa ederek satışlardan çok fazla kazanç elde ettiler. Sedat Bey, hastanenin yakınına bir eczane açtı ve iş arayan üç kişiyi işe aldı. Önceleri küçük bir mahalle bakkalı olan Nermin Teyze ise dükkanını büyüterek markete dönüştürdü. Önceleri sakin bir yer olan mahallemiz şimdi daha kalabalık. Mehmet Amca ise sessizliği tercih ettiği için yerleştiği bu mahalleden artık istediği sakinliği bulamadığı için taşınmak zorunda kaldı.



Verilen metne göre,

- I. Yeni iş yerlerinin açılması ile birlikte işsizliğin azaldığı görülmektedir.
- II. Gürültüyü sevmeyen kişilerin mahalleden uzaklaştığı gözlemlenmektedir.
- III. Hastanenin açılmasıyla inşaat şirketlerinin olumsuz etkilendiği bilinmektedir.

hangilerine ulaşılabilir?

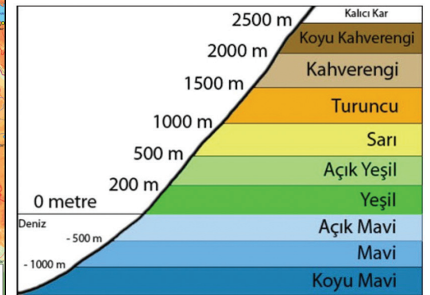
A) Yalnız I

B) I ve II

C) II ve III

D) I, II ve III

2.



Verilen Türkiye fiziki haritası ve yükselti basamaklarını gösteren tabloya göre hangisine ulaşamaz?

- A) Doğu Anadolu Bölgesi'nin ortalama yükseltisi 200 metreden fazladır.
- B) Marmara Bölgesi, yükseltisi fazla olan bölgelerimiz arasında yer almaktadır.
- C) Mavi renk ile gösterilen alanlar deniz ve su birikintileridir.
- D) Genel olarak batıdan doğuya doğru yükseltinin arttığı görülmektedir.



3.



Olaylar sadece birkaç kişiyi etkileyebileceği gibi binlerce kişiyi etkileyen olaylar da bulunmaktadır.

Yaşanan olaylardan hangisi daha az kişiyi etkisi altına almaktadır?

- A) Dünya'da iklim değişikliğinin yaşanması
- B) Çin'de 7 büyüklüğünde bir depremin olması
- C) Sedat'ın takım kaptanlığına seçilmesi
- D) Suriye'de kuraklığın başlaması

4. İnternet, günümüzde birçok alanda kullanılmaktadır. Fakat sanal ortamda bulunan her sitenin güvenilir olduğu düşünülmemelidir. Bu yüzden güvenli bir internet kullanımı gerçekleştirmek için birtakım tedbirler alınması gerekmektedir.

Aşağıdakilerden hangisi internet kullanımında alınabilecek tedbirler arasındadır?

- A) Şifremizi oluşturduğumuzda unutmamak için herkese söylemeliyiz.
- B) Kimlik hırsızlığından korunmak için kişisel bilgilerimizi paylaşmamalıyız.
- C) Güvenilir olmayan sitelerden de alışverişe devam etmeliyiz.
- D) Bilgisayar kullanırken karşımıza çıkan her siteye giriş yapmalıyız.

5.

İlk Çağ uygarlıklarından olan Lidyalıların parayı buldukları bilinmektedir. Ayrıca Anadolu topraklarından başlayarak Mezopotamya'ya kadar uzanan ticaret yolunu da faaliyete geçirdikleri edinilen bilgiler arasında yer almaktadır.

Verilen bilgilere göre Lidyalıların hangi alanda gelişme göstermesi beklenir?

- A) Sanat
- B) Edebiyat
- C) Ekonomi
- D) Bilim

6.

Geçmişte aile yaşantısında yemek vakitlerine çok dikkat edilmekteydi. Ortaya bir yer sofrası serilir



ve hep birlikte oturulmaya özen gösterilirdi. Aileden biri sofrada değilse gelene kadar yemeğe başlanmazdı. Yemeğe çorba ile başlanır ve sonrasında yöreye ait olan yemekler ile devam edilirdi. Tatlının yenilmesi ile birlikte yemek sona ererdi. Günümüzde ise değişen iş ve yaşam koşullarından dolayı bu geleneği sürdürenlerin sayısı giderek azalmaktadır.

Verilen metne göre yemek kültürü ile ilgili,

- I. Hayat şartlarından dolayı değişikliğe uğramıştır.
- II. Yöresel yemekler artık tercih edilmemektedir.
- III. Kentsel kesimde hâlâ uygulanmaktadır.

hangilerine ulaşılabilir?

- A) Yalnız I
- B) I ve II
- C) II ve III
- D) I, II ve III

7.

Harran Evleri, Şanlıurfa'nın güneydoğusunda halen yaygın olarak kullanılan yöresel mimari örneklerinden biridir. M.Ö. 6.yüzyıldan bu yana varlığını koruyan bu yapılar zamanında Roma ve Asurlular tarafından da kullanılmışlardır. 1979 yılından itibaren koruma altına alınmış ve bu bölgeden malzeme alınması ve bölgede yeni inşaatların yapılması yasaklanmıştır. 1999 yılında evlerden birisi restore edilmiş, Harran Kültür Evi adıyla turizmin hizmetine açılmıştır.



Buna göre Harran Evleri ile ilgili hangisine ulaşılır?

- A) Oluşmasında doğa olaylarının etkili olduğuna
- B) Asurlular tarafından meydana getirildiğine
- C) Roma döneminde koruma altına alındığına
- D) Çeşitli uygarlıklara ev sahipliği yaptığına



8. Televizyon, 1926 yılında John Logic Baird tarafından icat edilmiştir. İlk yıllarında sadece siyah beyaz olarak yayın hayatına başlayan televizyon, zamanla teknolojik gelişmelere de bağlı olarak renkli yayın yapmaya başlamıştır. Zamanla yayın yapan kanalların sayısında da artış yaşanmıştır.

Verilen bilgilere göre hangisine ulaşılabilir?

- A) 1926 yılından önce haberleşme sağlanamamaktadır.
B) Televizyonun icadı en büyük teknolojik gelişmedir.
C) Zamanla kendi içinde gelişme göstermiştir.
D) Günümüzde en az kullanılan iletişim aracıdır.

9.



Merhaba benim adım Melek. Ben de sizler gibi 5. Sınıf öğrencisiyim ve okulun hentbol kulübünde takım kaptanıyım. Ailede üç kardeşiz. Aslı adında bir ablam, Mert adında bir kardeşim var.

Aşağıdakilerden hangisi Melek'in üslendiği rollerden biri değildir?

- A) Sporcu B) Öğrenci
C) Kardeş D) Antrenör

10. Köyümüz Bolu iline 13 km uzaklıkta bir yerleşim yeridir. Verimli bir araziye sahibiz. Tarım ve hayvancılık önemli geçim kaynaklarımız arasında yer almaktadır. Ayrıca Karadeniz iklimi dolayısıyla bol yağış aldığından ormanlar da geniş yer kaplar. Bu yüzden köyümüzde ormancılık da yapılmaktadır.

Verilen metne göre hangisi söylenebilir?

- A) Coğrafi özellikler ekonomik faaliyetleri etkilemiştir.
B) Tarım, köyde sanayinin gelişmesini sağlamıştır.
C) Ekonomik faaliyetler sayesinde köye göçler olmuştur.
D) Ormanlar, ulaşımı olumsuz etkilemiştir.

11.

MODEL HABER

Dün gece Rize'de yaşanan sel felaketinin ardından okullar 2 gün tatil edilmiştir. Zemin katlarda olan evlerin ve iş yerlerinin su ile dolması sonucunda gerçekleşen zararın devlet tarafından karşılanacağı söylenmiştir. Ayrıca fırtınalı havanın gün boyu devam edeceği bilgisi üzerine ikinci bir açıklama yapıldı. Kadar uçak seferlerinin durdurulduğu bilgisi paylaşılmıştır.

Verilen gazete haberine göre hangisine ulaşamaz?

- A) Bölgeye yardım ekipleri gönderilmiştir.
B) Ulaşım konusunda aksamlar yaşanmaktadır.
C) Yaşanan olay yaşamı olumsuz etkilemiştir.
D) Eğitime geçici süre ara verilmiştir.

12. Teknolojik gelişmeler günümüzde her alanda kendini hissettirmektedir. Bu alanlardan bir tanesi de eğitimidir. Olumsuz bir durumda öğrencilerin okuluna devam edememesi durumunda geliştirilen programlar sayesinde öğrenciler eğitimlerine evden devam edebilmektedirler. Ayrıca internetten verilen bazı eğitimler sayesinde meslek sahibi olan insanlar alanlarında uzmanlaşabilmektedirler.



Buna göre,

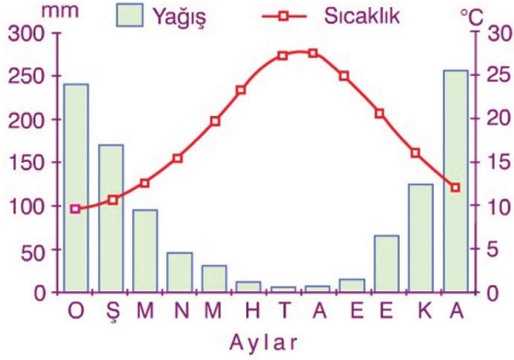
- I. Teknolojik gelişmeler en fazla eğitim alanında meydana gelmiştir.
II. Eğitim teknolojilerinin gelişmesi ile okulların önemi azalmıştır.
III. Kişiler internet üzerinden de meslek sahibi olabilmektedir.

hangileri söylenemez?

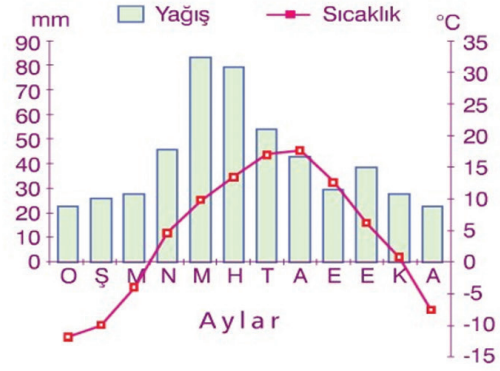
- A) Yalnız I B) I ve II
C) II ve III D) I, II ve III



13. Aşağıdaki grafiklerde Akdeniz iklimine sahip olan Antalya ve karasal iklime sahip olan Kars illerinin yıllık sıcaklık ve yağış oranları verilmiştir.



Antalya'nın sıcaklık ve yağış grafiği



Kars'ın sıcaklık ve yağış grafiği

Verilen grafiklere göre,

- Kars'ın yıl boyu sıcaklık ortalaması Antalya'ya göre daha fazladır.
- Antalya'da en fazla yağış kış aylarında görülürken Kars'ta yaz aylarına denk gelmektedir.
- Antalya'da sıcaklıklar yıl boyu sıfır derecenin altına düşmemektedir.

hangilerine ulaşılabilir?

- A) Yalnız I B) I ve II C) II ve III D) I, II ve III

14. Eğimli yamaçlardan aşağıya doğru yuvarlanarak büyüyen kar kütlelerine çığ adı verilmektedir. Çığ olayının gerçekleşebilmesi için kar yağışının fazla olmasının yanında yamaç eğiminin de fazla olması gerekmektedir.



Yukarıda verilen özellikler dikkate alındığında hangi bölgemizde çığ yaşanma olasılığı diğer bölgelere göre daha fazladır?

- A) Doğu Anadolu Bölgesi
B) Akdeniz Bölgesi
C) Marmara Bölgesi
D) Güneydoğu Anadolu Bölgesi

- 15.

Benim adım Mahmud. Suriye'de yaşanan iç savaştan dolayı Türkiye'ye sığındık. Türkiye bize her konuda yardımcı oldu. Oğlum okula kaydedildi, çocuklarımın gerekli aşları tamamlandı, başımızı sokacağımız bir evimiz de var artık. Çok teşekkür ederiz.



Mahmud'un verdiği bilgilere göre aşağıda verilen haklardan hangisine değinilmemiştir?

- A) Barınma B) Sağlık
C) Eğitim D) Oyun