

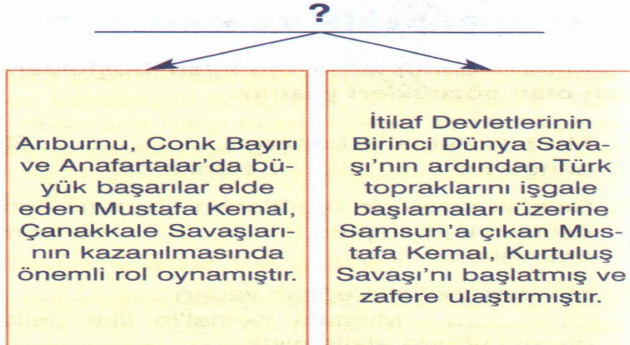
S-1 Sosyal bilgiler öğretmeni: (ikinci Meşrutiyet'in ilanının ardından) (Meşrutiyet karşıtı gruplar tarafından çıkarılan 31 Mart Ayaklanması, kurmay başkanlığını Mustafa Kemal'in yaptığı Hareket Ordusu tarafından bastırılmıştır. **Sosyal bilgiler öğretmenin verdiği bu bilgiye dayanarak Mustafa Kemal Paşa ile ilgili aşağıdakilerden hangisi söylenebilir?**

- A) İlk askeri görevini Hareket Ordusunda üstlendiği
- B) Meşrutiyet yanlısı bir tutum sergilediği
- C) Görev aldığı tüm cephelerde başarılı olduğu
- D) II. Meşrutiyet'in ilan edilmesi için çalışmalarda bulunduğu

S-2 **Atatürk, öğrencilik yıllarından itibaren tarihe büyük ilgi duymuş, okuduklarının büyük bir kısmını tarih kitapları oluşturmuştur. Bu durumun Atatürk'e,**
 I. Zengin bir fikri yapıya sahip olma
 II. Türk milletini yakından tanıma
 III. Türk milletinin yapabilecekleri konusunda fikir sahibi olma
konularının hangisi ya da hangilerinde katkıda bulunduğu savunulabilir?

- A) Yalnız I
- B) I ve II
- C) II ve III
- D) I, II ve III

S-3



Bu diyagrama verilebilecek en iyi başlık aşağıdakilerden hangisidir?

- A) Askeri Deha Mustafa Kemal
- B) 1. Dünya Savaşı'nın Sonuçları
- C) Türkiye'nin Dünya Barışına Katkıları
- D) Mustafa Kemal ve Türk Çağdaşlaşması

S-4 Atatürk'ün yetiştiği dönemde Osmanlı ülkesinde, dini derslerin ağırlıkta olduğu mektep ve medreseler, Batı'daki örneklerine göre eğitim veren askeri okullar ve çeşitli meslek okulları, gayrimüslimlerin açtıkları azınlık okulları ile yabancı devletler tarafından açılan okullar bulunmaktaydı.

Osmanlı Devleti'nde okulların farklı eğitim anlayışlarıyla faaliyet göstermesinin aşağıdakilerden hangisine yol açtığı söylenebilir?

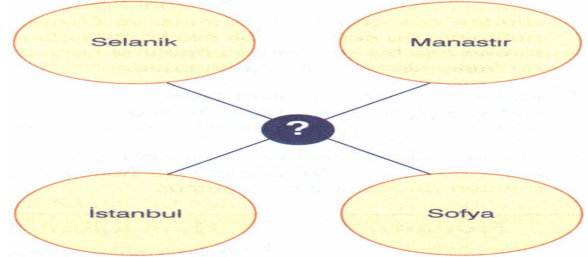
- A) Ortak bir kültürün doğmasına
- B) Eğitim faaliyetlerinin kolaylaşmasına
- C) Toplumda kültür çatışmalarının yaşanmasına
- D) Azınlık ve yabancı okulların tamamının kapatılmasına

S-5 Mustafa Kemal 1907 yılında askeri görevle geldiği Selanik'te, gizli bir cemiyet olarak kurulan İttihat ve Terakki Cemiyeti'ne katılmıştır. Ancak ordunun siyasetten ayrılması konusunda ittifak ve Terakki Cemiyeti üyeleri ile görüş ayrılığına düşmesi sonrasında bu cemiyetten ayrılmıştır.

Mustafa Kemal'in ordunun siyaset dışında tutulmasını istemesi aşağıdakilerin hangisinden endişe duyduğunu gösterir?

- A) Orduda disiplinin bozulmasından
- B) Avrupa devletleri ile iyi ilişkiler kurulmasından
- C) İttihat ve Terakki Cemiyeti'nin iktidarı ele geçirmesinden
- D) Meşrutiyetin ilan edilmesinden

S-6



Verilen kavram haritasında aşağıdakilerden hangisi anlatılmaktadır?

- A) Osmanlı Devletine başkentlik yapan şehirler
- B) Mustafa Kemal'in 1. Dünya Savaşı'nda mücadele ettiği cepheler
- C) Mustafa Kemal'in fikir hayatının gelişmesinde etkili olan şehirler
- D) Mustafa Kemal'in askeri okullarda okuduğu şehirler

S-7



Resimde öğretmenin sorusuna hangi öğrenciler doğru cevap vermişlerdir?

- A) Kerem ve Ferhat
- B) Kerem ve Şirin
- C) Ferhat ve Şirin
- D) Kerem, Ferhat ve Şirin

S-8 Manastır Askeri İdadisi'nde Mustafa Kemal'in edebiyata olan ilgisini gören edebiyat öğretmeni Mustafa Asım Bey, ona askerlikle ilgili derslere daha fazla önem vermesini tavsiye etmiştir.

Edebiyat öğretmenin bu uyarısının aşağıdakilerin hangisinden kaynaklandığı savunulabilir?

- A) Okulda yabancı uzmanların öğretmenlik yapmasından
- B) Edebiyat ile uğraşanların Avrupa fikir hayatının etkisinde kalmasından
- C) Padişahın edebiyat ile uğraşanları sürgüne göndermesinden
- D) Okulun temel amacının başarılı subaylar yetiştirmek olmasından

S-9



Elif verdiği bu bilgilerle aşağıdakilerden hangisini vurgulamıştır?

- A) Mustafa Kemal'in teşkilatçılık yönünü
- B) Avrupa devletlerine verilen kapitülasyonların olumsuz sonuçlarını
- C) Osmanlı Devleti'nin Balkan topraklarından çekilmesini
- D) Azınlık isyanlarının nedenlerini

S-10 Atatürk'ün doğduğu ve çocukluğunu geçirdiği şehir olan Selanik'te Türklerle birlikte Rum, Bulgar, Sırp, Yahudi ve Ermeniler gibi milletler de yaşamaktaydı.

Selanik şehrindeki bu çok uluslu yapının aşağıdakilerden hangisine ortam hazırladığı söylenemez?

- A) Zengin bir kültürel yapının oluşmasına
- B) Milliyetçilik akımının etkilerinin yoğun olarak görülmesine
- C) Azınlık haklarının kısıtlanmasına
- D) Atatürk'ün fikir hayatının zenginleşmesine

S-11



Öğrencilerden hangisi ya da hangileri öğretmenin sorusuna doğru cevap vermiş olabilir?

- A) Elif B) Murat C) Ömer D) Murat ve Ömer

S-12 1896 yılında Manastır Askeri İdadisi'ne (lise) başlayan Mustafa Kemal, burada hem arkadaşlarının hem de öğretmenlerinin takdirini kazanmıştır.

Mustafa Kemal'in,

I. Derslerinde başarılı olması

II. Üstün bir kişiliğe sahip olması

III. Zekası ve yetenekleri ile beğeni toplaması

özelliklerinden hangilerinin bu durum üzerinde etkili olduğu söylenebilir?

- A) I ve II B) I ve III C) II ve III D) I, II ve III

S-13



Verilen kavram haritasında aşağıdakilerden hangisi anlatılmaktadır?

- A) Milli Mücadelenin başarıya ulaşmasında etkili olan fikir akımları
- B) Osmanlı Devletini kurtarmak için geliştirilen fikir akımları
- C) Balkan ulusları tarafından ortaya atılan fikir akımları
- D) Osmanlı ülkesinde milliyetçilik isyanlarını yaygınlaştırmak için geliştirilen fikir akımları

S-14 İtilaf Devletleri denizden Çanakkale'yi geçemeyince 25 Nisan 1915'te Gelibolu'ya asker çıkardılar. Arı burnu, Conk Bayırı ve Anafartalar'da büyük başarılar elde eden Mustafa Kemal, Osmanlı Devleti'nin bu cephede savaşı kazanmasında önemli bir rol oynamıştır.

Mustafa Kemal'in Çanakkale Savaşları'ndaki başarısında aşağıdakilerden hangisinin etkili olduğu ileri sürülebilir?

- A) İlk askeri başarısını Trablusgarp Savaşı'nda kazanmasının
- B) Çanakkale Savaşları'ndan sonra albay rütbesine yükseltilmesinin
- C) Sakarya Meydan Savaşı'nı başkomutan olarak yönetmesinin
- D) Balkan Savaşlarında Gelibolu Yarımadası'nda görev aldığından bölgeyi iyi tanimasının

S-15 Aşağıdaki diyagramda Osmanlı Devleti'ndeki azınlık sorunu ile ilgili bir süreç yer almaktadır:

Osmanlı sınırları içinde Türklerle beraber pek çok farklı millet de bulunuyordu.

19. yüzyıla kadar huzur ve güven içinde yaşayan bu milletler Fransız İhtilali ile ortaya çıkan milliyetçilik akımından etkilendiler.

?

Diyagramdaki süreci tamamlayan en uygun ifade aşağıdakilerden hangisidir?

- A) Avrupalı devletler meşrutiyetin ilan edilmesine tepki gösterdiler.
- B) Osmanlı Devleti genişleme politikası takip ederek yeni topraklar kazandı.
- C) 19. yüzyılda Balkan milletleri bağımsız devletler kurmak için ayaklandılar.
- D) Osmanlı ülkesinde azınlıklara tanınan haklar azaltıldı.

S-16 26 Ağustos 1918'de Halep'e 7. Ordu Komutanı olarak atanan Mustafa Kemal, Suriye Cephesi komutanı Alman generalin savunma muharebeleri yapılması emri karşısında, Suriye'deki kuvvetlerimizi yıpratmadan Anadolu'yu savunmak amacıyla planlı bir biçimde çekilme önerisinde bulunmuştur.

Mustafa Kemal'in bu önerisini aşağıdakilerden hangisine dayandırdığı söylenebilir?

- A) Türk birliklerinin silah, malzeme ve asker bakımından yetersiz olmasına
- B) Savunma yerine taarruz savaşı yapılması isteğine
- C) Suriye'nin Anadolu'ya uzak olmasına
- D) Suriye'de Türk nüfusun çoğunlukta olmasına

S-17



Mustafa Kemal Paşa'nın asıl dehası, Samsun'a çıktığı günden itibaren Türk milletinin bağımsızlık iddiasında oluşunu sezişindedir.

Yahya Kemal bu sözleriyle aşağıdakilerden hangisini vurgulamıştır?

- A) Mustafa Kemal Paşa'nın, Türk milletinin tutsak yaşamayı kabullenmeyeceğini önceden gördüğünü
- B) Mustafa Kemal Paşa'nın barışsever bir lider olduğunu
- C) Samsun'un, Milli Mücadelenin merkezi olduğunu
- D) Mustafa Kemal Paşa'nın İstanbul Hükümeti ile iş birliği yaptığını

S-18 Atatürk'ün,

I. Osmanlı Devleti'nin Birinci Dünya Savaşı'na girdiği günlerde, bu savaşta Almanların yenileceğini söylemesi

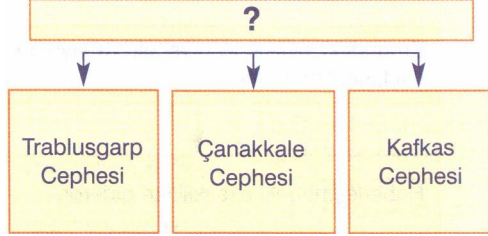
II. 1932 yılında Amerikalı General Mac Arthur ile yaptığı görüşmede yeni bir dünya savaşının çıkmakta olduğunu nedenleriyle ortaya koyması

III. Çanakkale Savaşı'nın sonlarına doğru, düşmanın birkaç gün içinde çekilebileceğini söylemesi

Durumlarından hangileri, olayların gidişatından sonucunun ne olabileceğini görebildiğini gösterir?

- A) I ve II B) I ve III C) II ve III D) I, II ve III

S-19



Bu şemaya verilebilecek başlık aşağıdakilerden hangisi olabilir?

- A) 1. Dünya Savaşı'nda Cephele
- B) Geldikleri Gibi Giderler
- C) Mustafa Kemal'in Askeri Başarılar Kazandığı Cephele
- D) Egemenlik Milletindir

S-20

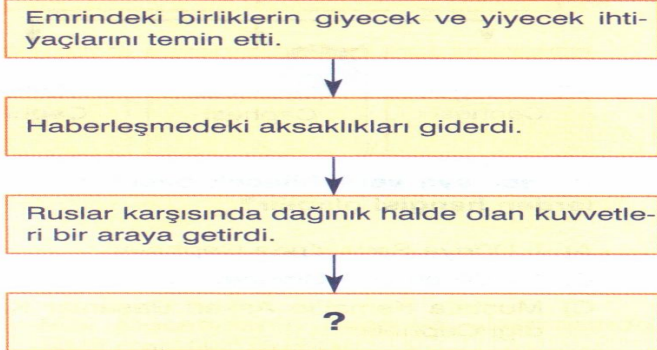


Trablusgarp'ı işgal eden İtalya, Mustafa Kemal ve arkadaşlarının örgütlediği direniş karşısında başarılı olamayınca savaşı Ege Denizi'ne yayarak On İki Ada'ya saldırmış, Çanakkale Boğazı'nı abluka altına almıştır.

Nurcan'ın verdiği bu bilgiye dayanarak, İtalya'nın savaşı Ege Denizi'ne yaymasında aşağıdakilerden hangisinin etkili olduğu savunulabilir?

- A) Osmanlı Devletinde iç sorunlar yaşanmasının
- B) Osmanlı donanmasının güçsüz olmasının
- C) Boğazların savaş gemilerine kapalı tutulmasının
- D) Osmanlı Devleti'nin çok uluslu olmasının

S-21 Aşağıdaki diyagramda Çanakkale Savaşları'nın ardından 16. Kolordu Komutanı olarak Kafkas Cephesi'ne atanan Mustafa Kemal'in aldığı tedbirlerden bazıları verilmiştir:



Yukarıdaki tedbirlerin hedefi ile ilgili olarak diyagramdaki "?" yerine aşağıdakilerden hangisi getirilmelidir?

- A) İtilaf Devletlerinin Rusya'ya yardım ulaştırmasını önlemek
- B) 1. Dünya Savaşı'nın geniş bir alana yayılmasını sağlamak
- C) Düşmana karşı mücadeleyi etkili hale getirmek
- D) Ülke sınırlarını genişletmek

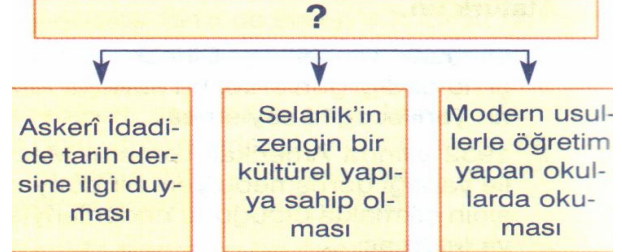
S-22 Mustafa Kemal, Birinci Dünya Savaşı sırasında Suriye Cephesi'nde Alman komutanının yanlış bulduğu emirlerini eleştirmiştir. Mustafa Kemal'in bu tutumu aşağıdakilerden hangisinin bir göstergesidir?

- A) Almanya'nın savaşı kazanacağına inandığının
- B) Birinci Dünya Savaşı'nda görev almak istemediğinin
- C) İtilaf Devletleri ile birlikte hareket ettiğinin
- D) Görüşlerini açıklamaktan çekinmediğinin

S-23 **EKREM:** Mustafa Kemal, Çanakkale Savaşı'nın yapıldığı Gelibolu Yarımadası'nda, 1912 yılındaki Balkan Savaşları sırasında da görev almıştı. Bu durum Çanakkale Savaşlarındaki başarısını olumlu yönde etkilemiştir. Ekrem verdiği bu bilgiyle, Mustafa Kemal'in Çanakkale Savaşı'nda başarılı olmasında aşağıdakilerden hangisinin önemini vurgulanmıştır?

- A) Bölgeyi iyi tanımasının
- B) Hareket Ordusu'nun kurmay başkanlığını üstlenmesinin
- C) İyi bir askeri eğitim almasının
- D) Sofya'da askeri ateşe olarak görev yapmasının

S-24



Şemaya verilebilecek en iyi başlık aşağıdakilerden hangisidir?

- A) Mustafa Kemal'in matematiğe olan ilgisinin nedenleri
- B) Mustafa Kemal'in fikri hayatını etkileyen gelişmeler
- C) Mustafa Kemal'in öğrenim gördüğü okullar
- D) Askeri deha Mustafa Kemal

S-25



Annemle babam arasında okula gitmem konusunda fikir ayrılıkları vardı. Annem, mahalle mektebine gitmemi istiyordu. Babam, o zaman yeni açılan Şemsi Efendi Mektebi'ne devam etmemi ve yeni yöntemlere göre okumamı istiyordu.

Atatürk'ün bu sözlerine dayanarak,

- I. Anne ve babası, eğitim konusunda farklı görüşleri savunmuştur.
- II. Babası modern eğitim anlayışını benimsemiştir.
- III. Osmanlı Devletinde eğitimde birlik yoktur.

Yorumlarından hangileri yapılabilir?

- A) I ve II
- B) I ve III
- C) II ve III
- D) I, II ve III

S-26 Osmanlı Devleti, 1912'de İtalya ile yaptığı Uşi Antlaşması'yla,

- Afrika'daki son toprak parçası olan Trablusgarp'ın İtalya'ya verilmesini
- Rodos ve çevresindeki On İki Adanın geçici olarak İtalya'ya bırakılmasını kabul etmiştir.

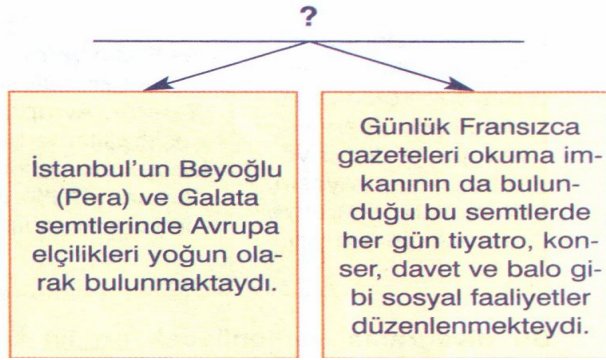
Buna göre Uşi Antlaşması'nın,

- I. Osmanlı Devleti'nin Kuzey Afrika'dan tamamen çekilmesi
- II. İtalya'nın Doğu Akdeniz'de önemli bir güç haline gelmesi
- III. Yunanlıların Ege adalarından çıkarılması

sonuçlarından hangilerine ortam hazırladığı söylenebilir?

- A) I ve II
- B) I ve III
- C) II ve III
- D) I, II ve III





S-27



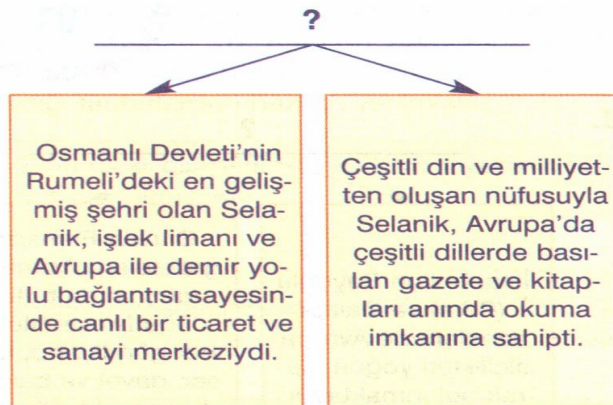
Bu diyagrama verilebilecek en iyi başlık aşağıdakilerden hangisidir?

- A) İstanbul'un İşgal Yılları
B) Dört Şehir ve Mustafa Kemal
C) İstanbul'un Batı'ya Açılan Yüzü
D) Mustafa Kemal'in Görev Yaptığı Şehirler

S-28 Mustafa Kemal, Harp Akademisi'ndeki öğrencilik yıllarından itibaren aydın bir subay olarak tanınmıştır. Mustafa Kemal'in bu şekilde tanınmasında aşağıdaki tutumlarından hangisinin etkili olduğu savunulamaz?

- A)  Ülke sorunlarıyla ilgilenmesi
- B)  Fikirlerini cesaretle ifade etmesi
- C)  Dünyadaki gelişmeleri yakından izlemesi
- D)  I. Dünya Savaşı'na katılması

S-29



Bu diyagrama verilebilecek en iyi başlık aşağıdakilerden hangisidir?

- A) Batı'ya Erken Açılan Kent: Selanik
B) Dört Şehir ve Mustafa Kemal
C) Selanik'teki Çok Uluslu Yapının Osmanlı Devletine Olumsuz Etkileri
D) Milli Sınırlar Önünde

S-30 Fransız İhtilali ile ortaya çıkan milliyetçilik düşüncesinden en çok etkilenen bölgelerden biri Balkanlar olmuştur.

Bu durum üzerinde,

I. Osmanlı topraklarında gözü olan emperyalist devletlerin kıskırtmaları

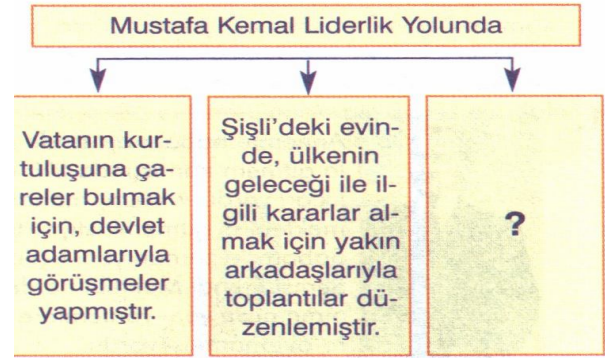
II. Balkanların çok uluslu bir yapıya sahip olması

III. Osmanlı Devleti'nin askeri ve siyasi gücünün zayıflaması

Gelişmelerinden hangilerinin etkili olduğu savunulabilir?

- A) I ve II B) I ve III C) II ve III D) I,II ve III

S-31



Bu şemada boş bırakılan kutuya aşağıdakilerden hangisi yazılamaz?

- A) Okul yıllarında arkadaşlarına konferans niteliğinde konuşmalar yapmıştır.
- B) Annesinin isteği üzerine kısa bir süre Mahalle Mektebi'ne gitmiştir.
- C) İlk görev yeri olan Şam'da Vatan ve Hürriyet Cemiyeti'ni kurmuştur.
- D) Sofya'da bulunduğu dönemde, Türklerin sosyal ve siyasal haklarının yükseltilmesi için çalışmalarda bulunmuştur.

S-32



Melih, verdiği bu bilgilerle Mustafa Kemal'in hangi yönünü vurgulamıştır?

- A) Kendine olan güvenini
B) İleri görüşlülüğünü
C) Eğitimci kişiliğini
D) Önder oluşunu

CEVAP ANAHTARI

1	B
2	D
3	A
4	C
5	A
6	C
7	B
8	D
9	A
10	C
11	B
12	D
13	B
14	D
15	C
16	A
17	A
18	D
19	C
20	B
21	C
22	D
23	A
24	B
25	D
26	A
27	C
28	D
29	A
30	D
31	B
32	C