



SÖZEL BÖLÜM



8 **sınıf**

**KAZANIM DEĞERLENDİRME
SINAVI**

TÜRKÇE

- 1) Ertesi gün başladı gün doğmadan yolculuk
Soğuk bir mart sabahı buz tutuyor her soluk

Aşağıdaki cümlelerin hangisinde “soluk” sözcüğü, verilen şiirdeki anlamıyla kullanılmıştır?

- A) Yazar bu öyküsüyle edebiyata yeni bir soluk getirdi.
B) Öğle aralarında soluk alıyorduk biraz.
C) Kış aylarında soba dumanından sokaklarda soluk almak güçleşiyordu.
D) Pencereden soluk bir ışık vuruyordu odasına.

- 3) Timur savaştan dönerken köylülere hediye olarak bir fil vermiş. Köylüler önce sevinmiş fakat bir zaman sonra fil köydeki ekinlere zarar vermeye başlamış. Köylü son derece şikâyetçiymiş bu durumdan. Düşünmüşler; Nasrettin Hoca'ya gidip “Hocam senin Timur ile ilişkilerin çok iyi, seni sever. Söyle de bu fili köyden alsın.” demişler. Hoca Köylülere, “Gideceğim yalnız siz de benim arkamdan geleceksiniz, ben sizin adınıza konuşacağım.” demiş. Köylüler de “tamam” demişler. Yola çıkıp Timur'un otağına varmışlar. Otağın kapısında Hoca'yı karşılayan Timur sormuş: “Hocam buyur, ne istersin?” Hoca arkasını dönüp köylüleri göstererek “Bu köylüler...” demiş. Bakmış ki arkasında kimse yok! “Diyorlar ki...” diye devam etmiş: “Armağan ettiğiniz fil öyle hayırlı, uğurlu ve yararlı bir hayvanmış ki ondan köye bir tane daha armağan etmenizi talep ediyorlar.” demiş.

Bu olayda köylüler, Nasrettin Hoca'yı yarı yolda bırakarak hangi erdeme aykırı davranmışlardır?

- A) İyilik
B) Dürüstlük
C) Alçakgönüllülük
D) Yardımseverlik

- 2) Dünyanın en güzel sesinden
En güzel şarkıyı dinlemek gibi bir şey...
Fakat artık ümit yetmiyor bana,
Ben artık şarkı dinlemek değil,
Şarkı söylemek istiyorum.

Bu dizelerde aşağıdaki söz sanatlarından hangisi ağır basmaktadır?

- A) Benzetme
B) Karşıtlık
C) Konuşturma
D) Kişileştirme

- 4) Hüseyin beyhude ah etme naçar
Bir kapı örterse birini açar
Buna dünya derler hepisi geçer
Hangi günü gördün akşam olmamış

Aşağıdaki atasözlerinden hangisi bu dizelerde vurgulanmak istenen düşünce ile aynı doğrultudadır?

- A) Araba devrilince yol gösteren çok olur.
B) Kara gün, kararır kalmaz.
C) Evimiz bezden, ne umarsın bizden.
D) Bir dokun, bin ah işit.

TÜRKÇE

- 5) Doğal gaz temelli, olası bir sorunla karşılaşıldığında binanın doğal gaz akışını kapatmak için uyulması gerekenler tabloda verilmiştir.



Dairenizde doğal gaz (çürük sarımsak) kokusu hissettiğinizde;

1. Kıvılcım çıkarabilecek; elektrikli cihazlar ve cep telefonu kullanmak, elektrik açma/kapama düğmesine basmak gibi şeyler yapmayın.
2. Doğal gaz vanasını **İŞARET YÖNÜNDE** çevirerek kapalı konuma getirin,
3. Koku olan alanı; pencere, kapı, dışarıya açılabilen bölümleri açarak ortamı havalandırın,
4. Koku olmayan bir mahalden **DOĞAL GAZ ACİL 187**'yi arayın.

Yukarıda verilen bilgilere göre oturduğu dairede ve bina içerisinde doğal gaz kokusu hisseden kişi, aşağıdakilerden hangisini yapmamalıdır?

- A) Binanın girişindeki doğal gaz vanasını bularak tablodaki yönde kapatmak
- B) Evin dışarıya açılabilen bütün kapı ve pencerelerini açarak içerideki gazı dışarı atmak
- C) Vakit kaybetmeden tüm komşularımıza cep telefonumuzla haber vermek
- D) Evdeki koku tamamen dağılıp uzmanlar müdahale edene kadar, hiçbir elektrikli cihaza dokunmamak

- 6) (I) Eserlerinde yalın ve akıcı bir üslup kullanan Yaşar Kemal, roman ve öykülerinde Çukurova insanının sorunlarını işlemiştir. (II) "İnce Memed" adlı eserinin de bulunduğu dokuz kitabı beyaz perdeye aktarılmış ve eserlerinin birçoğu da tiyatroya uyarlanmıştır. (III) Kitaplarında Anadolu halk kültüründen yararlanan yazar, 1970 sonrası yazdığı eserlerde ise şehir insanının hayatını da anlatmıştır. (IV) Nobel'e aday gösterilen ilk Türk yazar olmasına rağmen bu ödülü alamadan hayata veda etmiştir.

Numaralanmış cümlelerin hangisi kanıtlanabilirlik açısından diğerlerinden farklıdır?

- A) I B) II C) III D) IV

- 7) Adana'daki Taş Köprü Seyhan Nehri üzerindedir. Yüzyıllarca Doğu ile Batı arasında önemli bir köprü olmuştur. Harun Reşit (766-809) köprüyü bazı eklerle Adana Kalesi'ne birleştirmiştir. IX. yüzyıl başında Harun Reşit'in oğlu olan 7'nci Abbasi Halifesi Memûn (786-833) tarafından onarımı yaptırılmıştır. III. Ahmet (1713), Kel Hasan Paşa (1847) ve Adana Valisi Ziya Paşa (1789) dönemlerinde de tamirat görmüştür. Bu üç onarımın yazıtları mevcuttur. Son onarım 1949 yılında yapılmıştır. Taş Köprü 319 metre uzunluğunda ve 13 metre yüksekliğindedir. 21 kemerinden 14'ü ayaktadır. Ortadaki büyük kemerde iki aslan kabartması görülmektedir. Dünyanın hâlen kullanılan en eski köprülerden biri olarak bilinmektedir.

Bu bilgilere göre Adana Taş Köprü ile ilgili olarak aşağıdakilerden hangisine ulaşamaz?

- A) Nerede yapıldığına
B) Ne zaman yapıldığına
C) Hangi zamanlarda onarıldığına
D) Günümüzde hizmet verdiğine

- 8) "Çıkmak" sözcüğünün Türk Dil Kurumunun Güncel Türkçe Sözlük'ünde 56 farklı anlamı vardır ve bunlardan bazıları şunlardır:

1. İçeriden dışarıya varmak, gitmek.
2. Elde edilmek, sağlanmak, istihsal edilmek.
3. Bir meslek veya bilim kurumunda okuyup yetişmek, mezun olmak.
4. Bulunduğu yeri bırakıp başka yere geçmek, ayrılmak, ilgisini kesmek.

Çıkmak sözcüğünün kullanıldığı cümleler:

- a. Tören hazırlığını tamamladıktan sonra okuldan çıktık.
- b. İş başvurusundan beklediğimiz sonuç çıkmadı.
- c. Vefalı genç doktor çıkıp birçok hayat kurtardı.
- d. Yeni ev almamıza rağmen eski evimizden çıkamadık.

Buna göre çıkmak sözcüğünün anlamı ile bu anlamlara göre kullanıldığı cümleler hangisinde doğru eşleştirilmiştir?

- A) 1-a 2-b 3-c 4-d
B) 1-d 2-c 3-b 4-a
C) 1-d 2-a 3-d 4-c
D) 1-a 2-d 3-b 4-c

TÜRKÇE

9)



1 Numaralı Plastik: Çok yumuşak, şeffaftır ve gıdalarda tek kullanım için güvenli olduğu kabul edilir. Bu plastik en yaygın kullanım oranına sahiptir. Dondurulmamalı, bulaşık makinesinde yıkanmamalıdır. İçinde bulunan gıda maddesine herhangi bir zararlı madde sızdırmaz. Ancak tekrar kullanım için yeterince temizlenemez ve tekrar kullanıldığında zararlı bakteriler ürer.



2 Numaralı Plastik: Gıdalarla kullanımının güvenli olduğu kabul edilir. Daha çok süt, deterjan, oyuncak ve plastik torbaların imalatında kullanılmaktadır. Suyu herhangi bir kimyasal karıştırmamaktadır.



3 Numaralı Plastik: Bu plastik ürünler gıdalarla kullanılmamalıdır. İçindeki zararlı maddeleri gıdalara sızdırır. Çoğunlukla yiyecek kapları, yumuşak materyaller ve oyuncaklar için kullanılmaktadır. Suyu toksik materyal karıştırabilen bu plastiğin şişelerde kullanımı tavsiye edilmez.



4 Numaralı Plastik: Kuru temizleme ve çöp torbaları, yemek saklama kaplarında bulunur. Suyu herhangi bir kimyasal karıştırmasa da bu plastiğin su şişesi olarak kullanılması yasaktır. Suyu karıştırmadığı kimyasalları, diğer tüketim maddelerine bulaştırma riski yüksektir.



5 Numaralı Plastik: Beyaz renkte ve yarı şeffaf özelliktedir. Sert ve hafif olmasıyla göze çarpar. En güvenli plastik türü olarak kabul edilir. Isıya karşı yüksek bir dirence sahiptir. Isıtıldığında diğer plastiklerin aksine erimez. Bu da onu muhafaza ettiği ürün için iyi bir koruyucu yapmaktadır.



6 Numaralı Plastik: Çok farklı amaçlarla kullanılan ucuz ve hafif bir plastik türüdür. Genellikle kullan-at tarzda (yemek paketleri, plastik bardaklar, tabaklar, yumurta kapları ve kaşık) vs. için kullanılmaktadır. Isındığı zaman kanserojen bileşikler yayabilmektedir. Bu yüzden sıcak kullanımlarda kesinlikle tavsiye edilmez.



7 Numaralı Plastik: Karışık polikarbon materyallerden imal edildiği için geri dönüşüme uygun değildir. Bunun da ötesinde, kullanımında BPA (Bisphenol A) kullanıldığı için yemeğe ya da içeceğe kimyasallar karıştırılabilmektedir. Bu plastiğin, en tehlikeli ve uzak durulması gereken plastik olduğu bilinmektedir.

Metne göre aşağıdakilerden hangisi söylenebilir?

- A) Evde dondurma yapmak için 1 numara plastikten yapılmış bir kap kullanılabilir.
- B) 4 numaralı plastikten yapılmış bir sürahinin içinde limonata yapılması sağlıklıdır.
- C) Bebek biberonları 7 numaralı plastikten yapılırsa sağlığa zarar vermez.
- D) 5 numaralı plastikten yapılmış bir şişe, şampuan ambalajı olabilir.

10)

1	2	3	4	5	6	7	8	9	10	H
1	2	3	4	5	6	7	8	9	10	G
1	2	3	4	5	6	7	8	9	10	F
1	2	3	4	5	6	7	8	9	10	E
1	2	3	4	5	6	7	8	9	10	D
1	2	3	4	5	6	7	8	9	10	C
1	2	3	4	5	6	7	8	9	10	B
1	2	3	4	5	6	7	8	9	10	A

PERDE

- Yukarıda oturma planı verilen bir sinema salonunda boş kalan son beş koltuk bilgisi şu şekildedir: C-3, F-9, G-1, D-7, D-8
- Enes, Hüseyin, Saliha, Meral ve Berra, sinemaya birlikte gelmiş ve kalan biletleri almışlardır.
- Erkekler yan yana oturmuştur.
- Meral ve Berra, Enes'in arkasındaki sıralarda oturmuştur ve Berra'nın bir tarafında koltuk yoktur.

Verilen bilgilere göre aşağıdakilerden hangisi kesinlikle doğrudur?

- A) Perdeye en yakın oturan kişi Saliha'dır.
- B) Enes'in koltuk numarası 7'dir.
- C) Berra, F sırasında oturmaktadır.
- D) Hüseyin'in koltuk bilgisi G-1'dir.

- 11) "Son 15 yılda milletimize en çok kazandırmak istediğimiz hasret, kaybettiğimiz özgüvenimizdir. Bundan sonraki süreçte daha çok alın teri değil, daha çok akıl teri dökcek süreçleri desteklemeliyiz. Katma değeri yüksek olan alanları stratejik olarak belirlememiz, evlatlarımızı ve gençlerimizi yetiştirerek daha çok akılla üretebilen, fikir üretebilen, fikrini ürüne dönüştürebilen, ürünü dünyaya markalaştırarak sunabilen bir anlayışı milletimize mal edebileceğimiz süreçlere girdik."

Prof. Dr. Aziz Sancar

Bu metinden hareketle aşağıdakilerden hangisi Aziz Sancar'ın ülke için bir önerisi olabilir?

- A) Genç kuşağımızı spor temelli liselere yönlendirmek ve farklı dallarda sportif başarı elde etmek
- B) Sanat akademilerinin öğrenci kontenjanlarını yükseltmek
- C) Gelişmiş öğretim yöntem ve teknolojiyle hazırlanmış okulları arttırarak, öğrencileri bu okullara yönlendirmek
- D) Düz liseleri askerî liseye çevirerek öğrencileri sınavsız olarak askerî eğitime yönlendirmek

- 12) (I) Lezzetiyle uluslararası bir üne sahip olan Adana kebabının hazırlanışı önemli bir sıralama gerektirir. (II) Hayvanın doğru bölgelerinden seçilen et, kebab ustası tarafından zırh adlı eğiş satırda kıyma hâline getirilir. (III) Ete gerekli baharat ve isteğe bağlı olarak taze kırmızı biber eklenerek et bir kez daha zırhtan geçirilir. (IV) Kebabçılar genellikle hazır salata kullanmaz ve kebab kömür ocağına atıldığında o pişene kadar hünerli elleriyle salataları hazır ederler. (V) Sonrasında hazırlanan el kıyması, kendine özel şişlere el yordamıyla takılır.

Bu metnin anlam bütünlüğünü sağlamak için numaralandırılmış hangi iki cümle yer değiştirmelidir?

- A) II ve III
- B) III ve IV
- C) III ve V
- D) IV ve V

13).



Düşük ve orta gelirli ülkelerde su kullanımı grafiğidir.



Yüksek gelirli ülkelerde su kullanımı grafiğidir.

Bu iki grafik karşılaştırıldığında aşağıdakilerden hangisi kesin olarak söylenebilir?

- A) Orta gelirli ülkelerde su kullanımı, yüksek gelirli ülkelerden daha fazladır.
- B) Hem tarım yapıp hem yüksek gelir elde eden ülke yoktur.
- C) Düşük gelirli ülkelerde ev sayısı daha fazladır.
- D) Yüksek geliri olan ülkeler, suyun büyük bölümünü sanayi için kullanmaktadır.

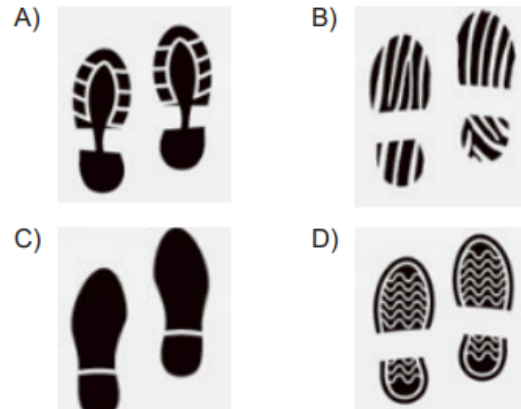
- 14) ---Tabii bu turistik bir gezi değildir; kimi zaman hiç tanışamayacağımız duygularla, insanlarla karşılaştırır bizi. Bilmediğimiz o insanların ruhuna girer, keşfetmenin hazzını duyarız. Kimi zaman da kendi içimize dönük bir yolculuk vaat eder kitaplar. Dünyanın bir başka noktasında bir başka insanın ruhudur yazılan ama bu ruh bizi bize anlatabilir.

Bu parçanın başına düşüncenin akışına göre aşağıdakilerden hangisi getirilebilir?

- A) Kitapların bize, belki de ömrümüz boyunca gitme olanağı bulamayacağımız öteki diyarlara yolculuk şansı verdiğini düşünürüm hep.
- B) Ülkemizde gezilip görülecek tarihî ve turistik yerleri fotoğraflarıyla anlatacak bir gezi kitabının hazırlıklarını yeni bitirmiştım.
- C) Farklı ülkelerin insanlarını tanımak, onların kültürlerini anlayabilmek için yapabileceğimiz en iyi şey o ülkelerin dilini öğrenmektir.
- D) Kitaplar önce bizi kendi içimizde bir yolculuğa çıkarır, bizi değiştirip dönüştürdükten sonra başka kapıları aralar.

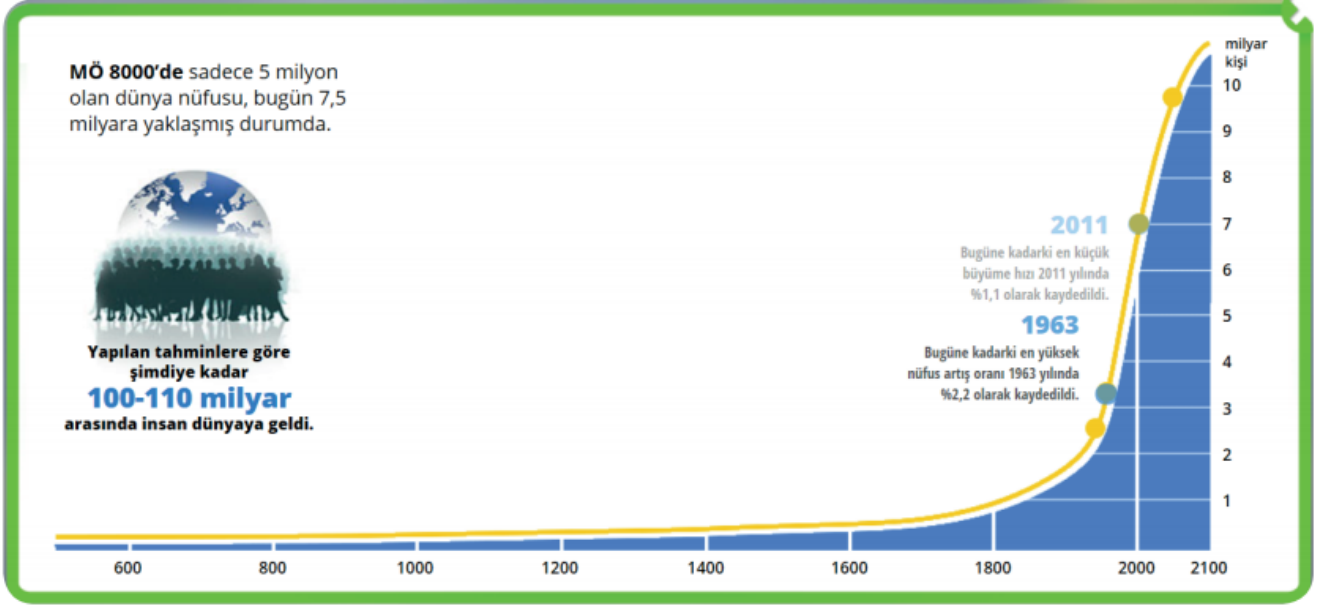
- 15). "Kışın karlı ve buz tutan yollarda denge sağlayarak yürümek hayli zordur. Buzlu zeminde kaymamak için alınacak önlemlerin başında ayakkabı tercihi yer alır. Kalın, dişli ve tırtıklı tabana sahip ayakkabıların buzda kayma ihtimali daha düşüktür. Dişli ve tırtıklı ayakkabı tabanları, zemine aynı şekilde baskı yaparak zemine tutunmayı sağlar, iki zeminin sürtünmesini ve kaymayı engeller. Bu sebeple karlı ve buzlu zeminlerde giyeceğiniz ayakkabının tabanının bu özelliklere sahip olmasına dikkat etmelisiniz."

Şeklinde açıklama yapan bir mağaza görevlisinin karlı bölgede yaşayan ve kış için ayakkabı almak isteyen müşteriye, aşağıda taban izi verilen ayakkabılardan hangisini önermesi beklenmez?



TÜRKÇE

16) Aşağıdaki grafik, Dünya nüfusuna ait verileri ve geleceğe yönelik tahminleri göstermektedir.



Bu grafiğe göre aşağıdaki yargılardan hangisine ulaşılabilir?

- A) Dünyadaki toplam insan sayısı 1800'lere kadar 1 milyarın altında olmuştur.
- B) 1800 ile 2000 yılları arasında dünya nüfusu yaklaşık 5 katı artarak 6 milyar civarına gelmiştir.
- C) 1950'li yıllarda yaşanan Sanayi Devrimi, dünya nüfusundaki artışı oldukça olumsuz yönde etkilemiştir.
- D) Yapılan tahminlere göre dünya nüfusu, 2100 yılında 10 milyarı geçecektir.

17) Özne; yüklem bildirdiği işi yapan, yüklem bildirdiği durumu üzerine alan ögedir. Nesne ise cümlede öznenin yaptığı "eylemden" etkilenen ögedir. "Seda kütüphaneden kitap aldı." cümlesinde alma işini yapan "Seda"dır ve cümledeki öznesidir. Seda'nın alma eyleminden etkilenen "kitap"tır ve cümledeki nesnesidir.

Bu açıklamaya göre aşağıdaki cümlelerin hangisinde "nesne" yanlış gösterilmiştir?

- A) Dere kenarında bir güvercin su içiyordu.
- B) Karşı komşumuz kurabiye çok güzel yapıyor.
- C) Babam ceketinin cebinden bir davetiye çıkardı.
- D) Her seferinde bize taze meyveler getirirdi.

TÜRKÇE

- 18) Doğrudan doğruya konuşulan veya yazılan konuyu ilgilendirmeyen dolaylı sözlerle arasöz denir. Ara sözler, iki virgül arasında ya da iki kısa çizgi arasında yazılır.

Buna göre virgül yerine kısa çizginin kullanılmasına örnek olabilecek cümle aşağıdakilerin hangisidir?

- A) Umduk, bekledik, düşündük.
B) Doğup büyüdüğüm o yeri, Ankara'yı, çok özledim.
C) Kitap, defter, kalem alıp geldim.
D) Siyah, uzun, bakımlı bir saça sahipti.







Bu yazışmada numaralanmış bölümlerin hangisinde bir yazım yanlışı vardır?

- A) I. B) II. C) III. D) IV.

- 20) İsim-fiiller, fiillere getirilen “-ma/-me, -mak/-mek, -ış/-iş/-uş/-üş” ekleriyle yapılır. Bu ekleri alan fiiller, fiil anlamını devam ettirerek cümlede isim görevinde bulunur.

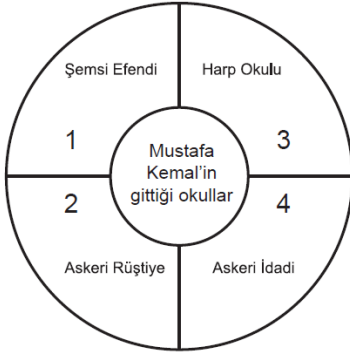
Hasan'ın hasta oluşu gözünden gitmiyordu.	Dalar dalmaz Hasan'ın hayali gözümün önüne geliyor.	Gene gözlerimi kapayamadım sabaha kadar.
Dadaruh, ağlayan kardeşimi kucağına aldı.	Babamın dışarıya çıkmasını bekliyorlardı.	Kaşağıyı aramak için penceresiz, küçük bir odaya girdim.
Hava henüz ağarırken Pervin'i uyandırdım.	Gümüş gibi parlayan bu güzel kaşağının dişlerine baktım.	Babam, çeşmeye bakarken yalağın içinde kırılmış kaşağıyı gördü.

Tabloda isim-fiillerin (ad eylem) bulunduğu kutucuklar çıkarılırsa ortaya çıkan şekil nasıl görünür?

- A)  B)  C)  D) 

T.C. İNKILAP TARİHİ

1)



Yukarıdaki şemada Mustafa Kemal'in gittiği okulların doğru bir şekilde sıralanması için hangilerinin yer değiştirmesi gerekir?

- A) 1 ve 2
B) 2 ve 3
C) 2 ve 4
D) 3 ve 4

3)

Mustafa Kemal, Selanik Askeri Rüştiyesinde çok başarılı bir eğitim hayatı geçirdi. Arkadaşları arasında zekası ile kısa sürede kendini gösterdi. Okulda başarılı öğrencilere verilen sınıf çavuşluğu ve müzakerecilik gibi görevlerin üstesinden başarılı bir şekilde geldi.

Buna göre Mustafa Kemal ile ilgili;

- 1-Görev bilinci gelişti.
2-Özgüveni arttı.
3-Başarısından dolayı sınıf atladı.

durumlarından hangileri söylenebilir?

- A) Yalnız 1
B) Yalnız 2
C) 1 ve 2
D) 1, 2 ve 3

2)

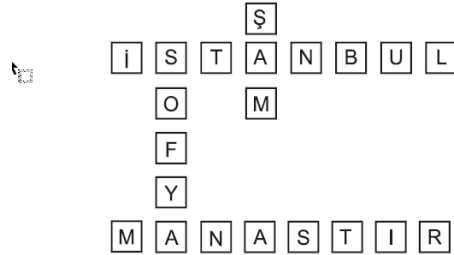
Amasya Genelgesi'nin aşağıdaki maddelerinden hangisinde Kurtuluş Savaşı'nın dayanacağı temel güç açıkça vurgulanmıştır?

- A) İstanbul hükümeti üzerine aldığı sorumluluğu yerine getirmemektedir.
B) Milletin bağımsızlığını yine milletin azim ve kararı kurtaracaktır.
C) Vatanın bütünlüğü milletin bağımsızlığı tehlikededir.
D) Millet haklarını savunacak bir kurula ihtiyaç vardır.

4)

Bulmacada aşağıdaki sorulardan hangisinin cevabı yoktur?

- A) Mustafa Kemal'in hareket ordusuyla geldiği yer?
B) Mustafa Kemal'in ateşemiliter olarak görev yaptığı yer?
C) Mustafa Kemal'in ilk kez görev yaptığı yer?
D) Mustafa Kemal'in ilk askeri başarısını kazandığı yer?



T.C. İNKILAP TARİHİ

5) Mustafa Kemal'in askerlik görevleriyle ilgili aşağıdakilerden hangisi yanlıştır?

- A) Harp Akademisinden kurmay yüzbaşı rütbesiyle mezun olmuştur.
- B) İlk görev yeri Trablusgarp'tır.
- C) Sofya Ataşemiliterliği görevinde bulunmuştur.
- D) Sultan Vahdettin ile Almanya'ya giderek cephe incelemesine katılmıştır.



7) Verilenlerden hangisi I. Dünya Savaşı'nın çıkması'nın altında yatan gerçek nedendir?

- A) 1
- B) 2
- C) 3
- D) 4

6) Mustafa Kemal'in hayatında önemli yeri olan şehirlerden birisi de hiç kuşkusuz Selanik'tir.

Selanikle ilgili aşağıdakilerden hangisi söylenemez?

- A) Liman ve demiryoluyla dünyanın farklı yerleriyle bağlantısı vardı.
- B) Mustafa Kemal'in çocukluğu ve gençliğinin bir bölümü burada geçti.
- C) Ticari önemi nedeniyle çok sayıda tüccar bu şehri ziyaret ediyordu.
- D) Mustafa Kemal lise eğitimini bu şehirde aldı.

8) Mondros Ateşkes Antlaşması'nın;

Madde-5: Osmanlı'ya ait silah, cephane, donatım ve taşıtlar itilaf Devletlerinin emrine verilecektir.
Madde-7: İtilaf Devletleri kendi güvenliklerini tehdit edecek bir durum ortaya çıkarsa herhangi bir stratejik noktayı işgal edebilecektir.

maddelerine bakılarak aşağıdakilerden hangisi söylenebilir?

- A) Osmanlı Devleti savaşı kazanmıştır.
- B) İtilaf Devletleri Osmanlı Devleti topraklarını işgal ederken hiçbir engelle karşılaşmak istememişlerdir.
- C) İtilaf Devletleri kendi aralarında sorun çıkabileceğini düşünerek Osmanlı'yı silahsızlaştırmışlardır.
- D) Osmanlı topraklarına itilaf devletleri girmemiştir.

T.C. İNKILAP TARİHİ



9) Yukarıda Türkiye Haritasında gösterilen yerde faaliyetinde bulunan milli cemiyet aşağıdakilerden hangisidir?

- A) Kikyalılar Cemiyeti
- B) İzmir Reddi İlhak Cemiyeti
- C) Trakya Paşaeli Cemiyeti
- D) Doğu Anadolu Müdafaa-i Hukuk Cemiyeti

10) Mustafa Kemal aşağıdakilerden hangisine askerlik görevinden istifa ederek ilk kez sivil bir vatandaş olarak katılmıştır?

- A) Amasya Genelgesi
- B) Havza Genelge
- C) Sivas Kongresi
- D) Erzurum Kongresi

DİN KÜLTÜRÜ VE AHLAK BİLGİSİ

- 1) Yapılan araştırmalar, meyve ve sebzelerin besin değerlerinin geçmişten günümüze önemli bir düşüş gösterdiğini ortaya koymaktadır. Kimyasal atıklar sebebiyle toprağın verimsizleşmesi, tarım ilaçlarının bilinçsiz kullanımı, çabuk olgunlaşmasını sağlamak amacıyla sebze ve meyvelerde çeşitli hormonların kullanılması bu düşüşün nedenleri arasında sayılabilir. Bu durum, insanlığın bugünü ve yarını için büyük risk oluşturmaktadır.

Aşağıdaki ayetlerden hangisinin mesajı bu metinde anlatılanlarla örtüşmektedir?

- A. "Allah'ın size helal ve temiz olarak verdiği azıklardan yiyin ve kendisine inanmakta olduğunuz Allah'a karşı gelmekten sakının."
(Mâide suresi, 88. ayet)
- B. "Biz gökleri, yeri ve ikisi arasındakiler! ancak hak ile ve belirli bir süre için yarattık..."
(Ahkâf suresi 3. ayet)
- C. "İnsanların kendi işledikleri (kötülükler) sebebiyle karada ve denizde düzen bozuldu. Dönemleri için Allah, yaptıklarının bazı (kötü) sonuçlarını (dünyada) onlara tattıracaktır."
(Rûm suresi, 41. ayet)
- D. "Size tohumlar, bitkiler, sarmaş dolaş olmuş bağlar, bahçeler yetiştirmeniz için yağmur yüklü bulutlardan bol yağmur indirdik."
(Nebe' suresi, 14-16. ayetler)

Aşağıdaki tabloda "zekât"la ilgili bazı bilgilere yer verilmiştir.

?	?	?
Zengin olan her Müslüman	• Altın, gümüş • Nakit para ve menkul değerler • Ticaret malları	1/40 yani %2.5
	• Koyun ve keçi	40'tan 120'ye kadar bir koyun, 121'den 200'e kadar iki koyun
	• Sığır ve manda	1/30 30'dan 40'a kadar bir tane 2 yaşında buzağı, 41'den 59'a kadar bir tane 3 yaşına basmış buzağı
	• Deve	Her beş deve için bir koyun veya keçi
	• Toprak ürünleri	1/10 yani %10
	• Madenler	1/5 yani %20
		• Yoksullar • Düşkünler • Borçlular • Yolda kalmış yolcular • Özgürlüğünü yitirmiş olanlar • Kalbi, İslam'a ısındırılmak istenen kişiler • Allah (c.c.) yolunda çalışanlar • Zekât memurları

- 2) Aşağıdaki sorulardan hangisi bu tabloda "?" ile gösterilen bölümlerden herhangi birine getirilemez?

- A) Kimlere verilir?
B) Kimlere farzdır?
C) Ne kadar verilir?
D) Nelerden verilmez?



DİN KÜLTÜRÜ VE AHLAK BİLGİSİ



- 3) Yardımlaşma, insanlık için en önemli değerler arasında yer almaktadır. Ancak yardımlaşma kadar önemli olan bir başka konu ise yardımlaşmanın adabıdır. Belki de insanlık tarihi boyunca nezaket kurallarının en güzel örneklerini Osmanlı Devleti döneminde Anadolu ve Rumeli topraklarında yaşayan insanlar ortaya koymuştur. Bu toprakların insanları ortaya öyle güzel davranışlar koymuşlardır ki yaptıkları iyiliklerden ve yardımlardan çok, iyilikleri ve yardımları ortaya koyma şekilleri akıllarda kalmıştır. Bu durumun en güzel örneği sadaka taşlarıdır. Sadaka taşları, Anadolu ve Rumeli topraklarında her caminin bahçesinde yer alan, insanların gönüllerinden kopan maddi yardımı içerisine bıraktığı bugünkü kumbara niteliğinde bir yardım kutusuydu. İhtiyacı olan insanlar sadaka taşlarından ihtiyacı kadarını alır, fazlasına dokunmazdı. Böylece ne yardım eden kime yardım ettiğini bilir ne de yardım edilen kimden yardım gördüğünü. Zaten bir davranışın samimiyeti ancak böyle bir durumda ölçülebilirdi.

Yukarıdaki metinde hakkında bilgi verilen sadaka taşları aşağıdaki yasalardan hangisiyle bağdaştırabilir?

- | | |
|---------------------|----------------------|
| A) Fiziksel yasalar | B) Biyolojik yasalar |
| C) Kimyasal yasalar | D) Toplumsal yasalar |

Milyonlarca hayvan türünden sadece arı bile kâinattaki mükemmel işleyişe örnek olarak yeter. Kilometrelerce uzaktan çiçek çiçek dolaşarak kovanına çiçek özü getiren arılar, aralarında iş bölümü yaparak çalışır. Kovan içindeki nem dengesini sabit tutmak, birbirlerine yol tarif etmek ve yön tayin edebilmek gibi birçok özelliğe sahiptir. Arılara bu özellikler Allah tarafından bahşedilmiştir. Bu durum, “bal arısı” anlamına gelen Nahl suresinde şöyle vurgulanmaktadır: “Rabbin bal arısına: Dağlarda, ağaçlarda ve hazırlanmış kovanlarda yuva edin; sonra her çeşit üründen; sonra da Rabbinin işlemen için gösterdiği yollardan yürü.” diye vahyetti. Karınlarından insanlara şifa olan çeşitli renklerde bal çıkar. Düşünen bir millet için bunda ibret vardır.” (Nahl suresi, 68-69. ayetler)

- 4) Verilen metnin ana düşüncesi aşağıdakilerden hangisidir?

- | | |
|----|--|
| A) | Allah, kâinatı ve canlıları belli bir amaç ve denge içinde yaratmıştır. |
| B) | Bal arıları, farklı çiçeklerden topladığı nektarı bala dönüştürür. |
| C) | Nahl suresi, anlattığı konudan dolayı bal arısı anlamına gelir. |
| D) | Bal arıları yön bulmak ve yol tarif etmek gibi birçok özelliğe sahiptir. |

DİN KÜLTÜRÜ VE AHLAK BİLGİSİ

Ahmet Bey, tarımsal üretimi etkileyen faktörleri dikkate alarak; tarımın bilinçli yapılması konusunda çevresindeki çiftçilere örnek oldu. O, üretime başlamadan önce toprak analizi yaptırdı. Çıkan sonuçlara göre, tarlalarında hangi sebzeleri yetiştirmenin daha uygun olacağı konusunda uzmanlara danıştı. Aldığı tavsiyelerden hareketle tarlalarına uygun sebzeleri ekti ve gerekli bakımları yaptı. Bol ve kaliteli ürün alabilmek için Allah'a dua etti. Hasat mevsimi geldiğinde hem verim hem de kalite açısından iyi bir sonuç elde etti.

5) Metinde anlatılanlar aşağıdaki kavramlardan hangisi ile ilişkilendirilemez?

- A) Rızık
- B) Emek
- C) Şükür
- D) Tevekkül



Peygamber olarak gönderilen Hz. Musa, Allah'a şöyle dua etti: "Kardeşim Harun'un dili benimkinden daha düzgün dür. Onu da benimle birlikte, beni doğrulayan bir yardımcı olarak gönder. Çünkü ben, onların beni yalanlamaların dan korkuyorum." Allah onun bu duasını "...seni kardeşinle destekleyeceğiz ve size öyle bir güç vereceğiz ki, bu sayede size erişemeyecekler, mucizelerimizle siz ve size tabi olanlar üstün geleceksiniz." buyurarak kabul etti.

6) Verilen ayetlere göre aşağıdakilerden hangisi söylenemez?

- A) Hz. Musa akıcı konuşmadığı için bir yardımcıya ihtiyaç duymuştur.
- B) Hz. Harun, kardeşine yardımcı olmak üzere peygamber olarak görevlendirilmiştir.
- C) Hz. Musa ve Hz. Harun, Allah'ın izniyle mucizeler göstermişlerdir.
- D) Hz. Harun sorumluluk almak istememiştir.

Fiziksel yasalar; madde ve enerjinin oluşumu, değişimi, hareketi ve maddeler arası ilişkilerle ilgili yasalardır. Bunlara "doğa yasaları" da denir. Bu yasalar gözlenebilir olgu ve durumlar arasındaki sebep sonuç ilişkilerini gösterir.

7) Buna göre aşağıdakilerden hangisi fiziksel yasalar kapsamında değerlendirilir?

- A) Dere yatağına yapılan evlerin sel sebebiyle zarar görmesi
- B) Adalet ve eşitliğin olmadığı toplumlarda kargaşa yaşanması
- C) Sağlığına dikkat eden toplumların yaşam süresinin uzun olması
- D) Savaş bölgelerindeki insanların daha güvenli yerlere göç etmesi

8) Aşağıdakilerden hangisi 'zekât' kelimesinin anlamlarından biri değildir?

A) Temizlenme - Çoğalma

B) Bereket - Gelişme

C) Temizlenme - Gelişme

D) Yakınlaşma - Azalma

DİN KÜLTÜRÜ VE AHLAK BİLGİSİ

11 MİLYON AĞAÇ

BUGÜN FİDAN

YARIN NEFES



Ülkemizde ağaç sevgisini geliştirmek, toplumun çevreye olan duyarlılığını artırmak, biyoçeşitliliği korumak ve yok olan ormanların geri kazanılmasını sağlamak amacıyla Tarım ve Orman Bakanlığı tarafından bir kampanya başlatıldı. "11 Milyon Ağaç, Bugün Fidan Yarın Nefes" sloganıyla başlatılan bu kampanya kapsamında tüm Türkiye'de eş zamanlı olarak çok sayıda fidan dikimi gerçekleştirildi. Kampanya ya; öğrencilerden askerî birliklere, sivil toplum kuruluşlarından kamu kurum ve kuruluşlarına, esnafından işçisine toplumun bütün kesimleri yoğun ilgi gösterdi.

9) Bu metinde sözü edilen etkinlik aşağıdaki ayet veya hadislerden hangisi ile ilişkilendirilemez?

A) "Göğü Allah yükseltti ve mizanı (dengeyi) o koydu. Sakın dengeyi bozmayın."

(Rahman suresi, 7 ve 8. ayetler)

B) "Allah size emanetleri mutlaka ehline vemenizi ve insanlar arasında hükmettiğiniz zaman adaletle hükmetmenizi emrediyor."

(Nisa suresi, 58. ayet)

C) "Bir kimse ağaç diker de o ağacın meyvesinden bir insan veya Allah'ın mahlûkatından herhangi bir varlık yerse bu, o ağacı diken kimse için sadaka olur."

(Hadis-i şerif)

D) "Kıyametin kopacağını bilseniz bile elinizdeki fidanı dikiniz."

(Hadis-i şerif)

"O, karanlığı yarıp sabahı çıkarandır. Geceyi dinlenme zamanı, Güneş'i ve Ay'ı da ince birer hesap ölçüsü kıldı. Bütün bunlar mutlak güç sahibinin, hakkıyla bilen takdiridir."

(En'âm suresi, 96. ayet)

10) Bu ayetteki altı çizili cümleyi karşılayan kavram aşağıdakilerden hangisidir?

A) Kaza

B) Kader

C) Tevekkül

D) Cüzî irade

1) **Jane:** Mary isn't a true friend. She depends on me when I need her but she lies to me so I don't believe her.

According to the speech Jane doesn't like Mary because she.....

- A) helps her.
- B) backs up her.
- C) doesn't tell the truth.
- D) is honest.

2) **Jason:** I'm sorry but I don't like swimming.

Alison: - - - -?

Jason: I find it unbearable and ridiculous, but I am fond of some other sports.

Alison: - - - -?

Jason: Basketball. I think it is awesome.

Alison: - - - -?

Jason: Every week, I practice it more than twice. I have a training today.

Alison: OK, then. So see you later, Jason.

Which of the following does NOT Alison ask Jason?

- A) What about playing tennis
- B) How often do you play basketball
- C) What is your opinion about it
- D) What sport do you like most

- 3) Judy has always problems with her classmates. She is sneaky, bad tempered, and jealous. She is not rude to her teachers but, she never gets on well with her friends. Mrs. White, her language teacher, wants to change Judy in a positive way.

Which of the following book can help Judy change her behaviours?

- A) 
- B) 
- C) 
- D) 

4)



JANE

ERIC

Read the conversation and answer the question.

Eric: What do you prefer doing in the evening?

Jane: Because I like being alone.

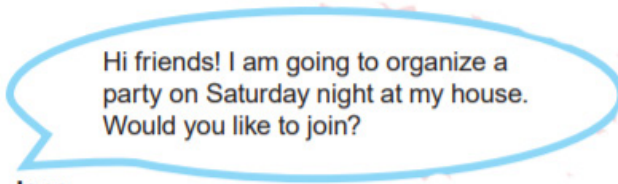
Eric: Then, what do you prefer doing being alone?

Jane: I prefer watching movies.

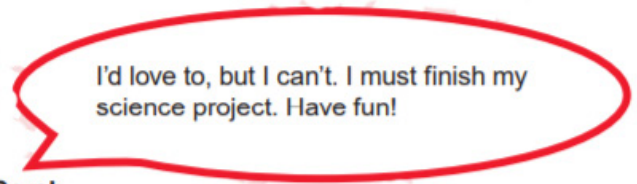
Which of the following completes the conversation?

- A) I prefer meeting friends outside.
 B) I would rather go to the parties with my friends.
 C) I visit my relatives once a week.
 D) I prefer staying at home.

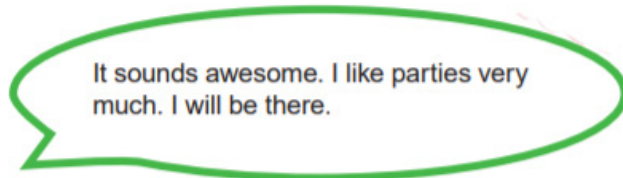
5)



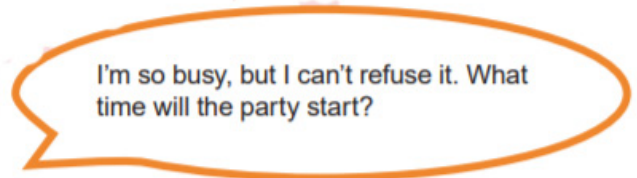
Jane



Sarah



Kate



Angela

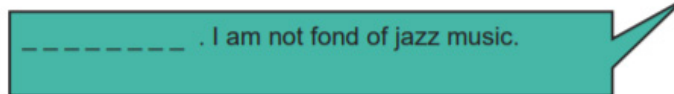
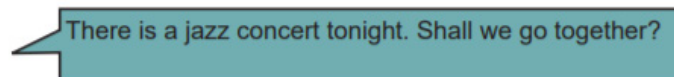
According to the conversation above, which option is NOT correct?

- A) Kate doesn't enjoy attending parties.
- B) Jane makes the invitation.
- C) Angela accepts the invitation.
- D) Sarah refuses the invitation.

6)



Tim



Tony

Which of the following completes the conversation above?

- A) That sounds awesome
- B) Thanks for inviting me but I can't
- C) I am busy tonight but I can't refuse it
- D) Why not? Let's go



7) **Your friend:** This Saturday, I'm throwing a party. Would you like to join?

You:

You want to accept an invitation. Which of the following completes the conversation?

- A) I am so sorry but I can't.
- B) I'm afraid I'm busy tomorrow.
- C) I would love to join you.
- D) Well, I think I can't.



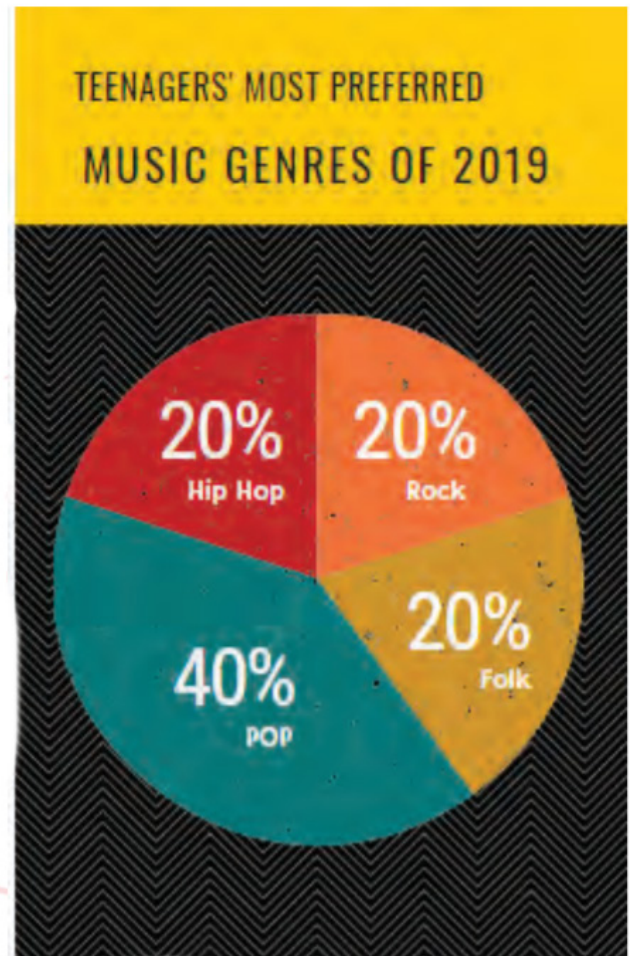
8) **Which of the following questions does NOT have an answer in the invitation above?**

- A) Where is it?
- B) Who is organizing it?
- C) Who is it for?
- D) When is it?

- 9) This chart shows the most preferred music types in radio programmes.

Which of the following is **CORRECT** according to the chart above ?

- A) Most of the teenagers prefer hip hop to rock.
- B) 40% of teenagers are fond of listening to pop singers.
- C) Teenagers think that pop music is unbearable.
- D) Less than 15% of teenagers can't stand old fashioned music.



- 10) **Emily:** What type of music do you prefer?

Brenda: Pop. Adele is my favourite pop singer.

Emily: What makes her so popular?

Brenda: To me, her voice is - - - -.



Which of the following completes the conversation?

- A) ridiculous
- B) ordinary
- C) unbearable
- D) terrific

CEVAP ANAHTARI

TÜRKÇE	INKILAP TARİHİ	DİN KÜLTÜRÜ	İNGİLİZCE
1) C	1) D	1) C	1.C
2) A	2) B	2) D	2.A
3) B	3) C	3) D	3.A
4) B	4) D	4) A	4.D
5) C	5) B	5) C	5.A
6) A	6) D	6) D	6.B
7) B	7) B	7) A	7.C
8) A	8) B	8) D	8.B
9) D	9) B	9) B	9.B
10) A	10) D	10) B	10.D
11) C			
12) D			
13) D			
14) A			
15) C			
16) C			
17) A			
18) B			
19) C			
20) A			