

ÜLKEMİZDE NÜFUS DEĞERLENDİRME TESTİ-1

Nüfus Sayımı niçin yapılır?



Ülkenin nüfus miktarını öğrenmek için

Eğitim durumunu öğrenmek için

Kent ve Kır nüfusunu öğrenmek için.

Nüfusun mesleklere göre dağılımını öğrenmek için.

1-) Yukarıda öğretmenin sorduğu soruya kaç öğrenci doğru cevap vermiştir?

- a) 1 b) 2 c) 3 d) 4

2-)Ülkemizde nüfus sayımı hangi kuruluş tarafından yapılmaktadır?

- a) Radyo ve televizyon üst kurulu
b) Türkiye İstatistik Kurumu
c) Türkiye Büyük Millet Meclisi
d) Anadolu Ajansı

3-)



Bir yerin nüfus artış hızının fazla olmasının sonuçları nelerdir?

Ahmet

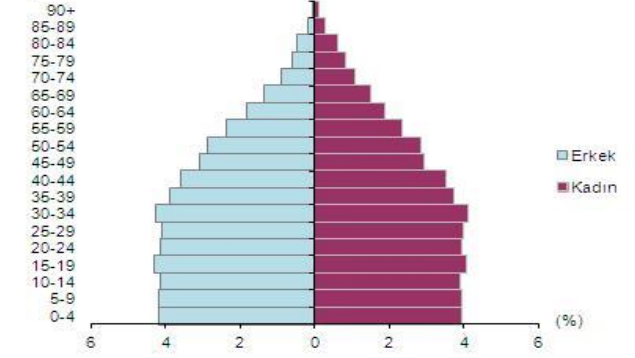
Yukarıda Ahmet öğretmenin sorduğu soruya hangi öğrenci yanlış cevap vermiştir?

a)		Konut sıkıntısı yaşanır.
b)		Eğitim, Sağlık vb. hizmetler aksar.
c)		Trafik sorunları azalır.
d)		İş gücü ucuzlar.

ADI:

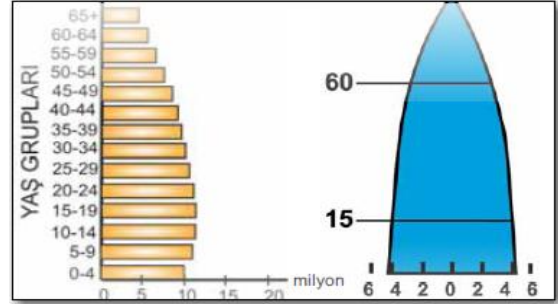
SOYADI:

Yaş grubu



4-) Yukarıda ülkemizin 2015 yılı nüfus verilerine göre aşağıdakilerden hangisi söylenemez?

- A) 0-4 yaşlarındaki kadın-erkek nüfusuna bakıldığında erkekler çoğunluktadır.
B) 80 yaş üzeri erkek nüfusu kadın nüfusundan azdır.
C) 70-74 yaşlarındaki kadın ve erkeklerin nüfusu eşittir.
D) 10 – 14 yaş grubunda kadın nüfus daha fazladır.



5-) Yukarıdaki nüfus piramidi incelendiğinde aşağıdaki yorumlardan hangisi çıkarılamaz?

- a) Doğum oranı az, nüfus artış hızı düşüktür.
b) Gelişmiş bir ülkeye aittir.
c) Ortalama yaşam süresi kısadır.
d) Hizmet ve sanayi sektöründe çalışan nüfus fazladır.

Şehir	Nüfusu	Yüzölçümü
Rize	328.979	3.792 km
Konya	2.130,544	40.824 km

6-)Yukarıdaki 2015 yılı TÜİK verilerine göre Rize'nin nüfusunun Konya'dan az olmasına rağmen Rize'nin nüfus yoğunluğu daha çok. Bunun nedeni ne olabilir?

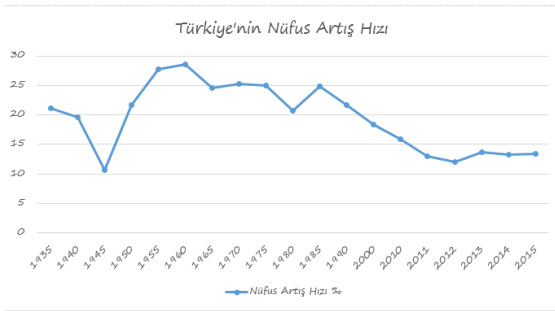
- a) Rize'nin yüzölçümünün fazla olması
b) Rize'nin yer şekillerinin engebeli olması
c) Konya'nın yüzölçümünün fazla olması
d) Konya'nın tarım alanlarının çok olması

İstanbul	
Yıllar	Nüfus Miktarı
2010	13 255 685
2011	13 624 240
2012	13 854 740
2013	14 160 467
2014	14 377 018
2015	14 657 434

7-) İstanbul şehrinin son 5 yıllık nüfus miktarı verilmiştir. İstanbul şehrinin nüfusunun sürekli artmasının sebebi aşağıdakilerden

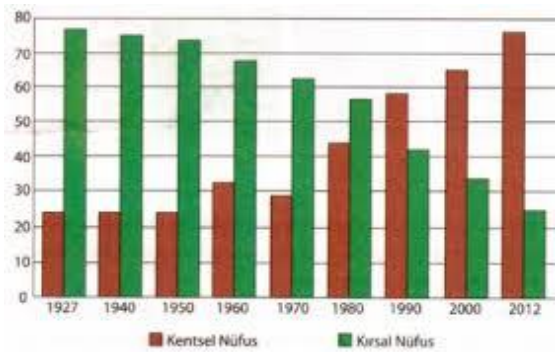
hangisi olamaz?

- İş imkanlarının fazla olması
- Sanayinin gelişmiş olması
- Yüzölçümünün büyük olması
- Ulaşımın kolay olması



8-) Ülkemizin yıllara göre nüfus artış hızı grafiğine bakıldığından hangisi söylenemez?

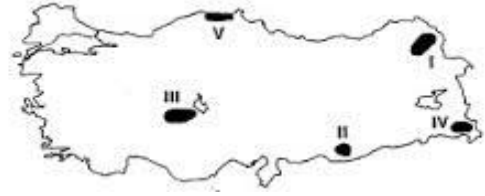
- Nüfus artış hızının en düşük olduğu yıllar 1940-1945 yılları arasındır.
- Nüfus artış hızının en yüksek olduğu yıl 1960'dır.
- Nüfus artış hızı sürekli düşmektedir.
- Nüfus artış hızı 1985 ile 2011 yılları arasında sürekli düşmüştür.



9-)Yukarıda verilen grafikte ülkemizin kır-kent nüfus oranları verilmiştir. Yukarıdaki grafiğe göre aşağıdakilerden hangisi söylenemez?

- Kır nüfusu sürekli azalmıştır.
- Kent nüfusu kır nüfusunu ilk defa 1990 yılında geçmiştir.

- 2012 yılında kent nüfusu kır nüfusundan fazladır.
- Bütün yıllar kent nüfusu kır nüfusundan fazladır.



10-)Yukarıda verilen haritada numaralı yerlerin nüfusun yoğun veya seyrek olma durumları aşağıdakilerden hangisinde doğru verilmiştir?

A)

Yer	Yoğun	Seyrek
I	×	
II	×	
III	×	
IV	×	
V		×

C)

Yer	Yoğun	Seyrek
I	×	
II		×
III	×	
IV		×
V	×	

B)

Yer	Yoğun	Seyrek
I		×
II		×
III		×
IV		×
V	×	

D)

Yer	Yoğun	Seyrek
I	×	
II	×	
III		×
IV		×
V	×	

11-)Aşağıda nüfusun yoğun olduğu şehirler verilmiştir. Hangisinin nüfusunun yoğun olma sebebi yanlış verilmiştir?

Şehir

Özellik

- Antalya → Turizm Kenti
- Kocaeli → Sanayi Kenti
- Zonguldak → Öğrenci Kenti
- Adana → Tarım Kenti