

# SOSYAL BİLGİLER DERSİ DENEME SINAVI-1

%100  
MÜFEDATA  
UYGUN

KAZANIK  
MERKEZLİ



Öğrencinin Adı-Soyadı: ..... Sınıfı6/..... No: .....

## > SORU KİTAPÇIĞI İLE İLGİLİ AÇIKLAMALAR

1. Soru kitapçığına, adınızı, soyadınızı, sınıfınızı ve okul numaranızı mutlaka yazınız.
2. Bu soru kitapçığında, bu bölümde 25 soru bulunmaktadır.
3. Sınav süresi 25 dakika tavsiye edilir.
4. Sınavın bitiminde cevap kağıdınızı ve soru kitapçığınızı teslim etmeyi unutmayınız.
5. Üç yanlış cevap bir doğru cevabınızı götürceğinden rastgele işaretleme yapmayınız.
6. Cevabını bilmediğiniz sorular üzerinde fazla zaman kaybetmeden diğer sorulara geçiniz. Zamanınız kalırsa bu sorulara daha sonra dönebilirsiniz.
7. Size ayrı bir karalama kağıdı verilmeyecektir. Soru kitapçığınızın içindeki boş alanları karalama yapmak için kullanabilirsiniz.
8. Her sorunun dört seçeneği vardır. Dört seçenekten sadece bir tanesi doğru cevaptır. Doğru bulduğunuz seçeneği cevap kağıdında o soru için ayrılan yeri bularak işaretleyiniz.

## > CEVAP KAĞIDI İLE İLGİLİ AÇIKLAMALAR

1. Cevap kağıdı üzerine yapacağınız işaretlemelerde siyah kurşun kaleminden başka kalem kullanmayınız.
2. Cevap kağıdında, adınızı, soyadınızı, sınıfınızı ve okul numaranızı kodlamayı unutmayınız.
3. Cevap kağıdında;
  - 1.Bölüm sorularını (25 Soru) -----Sosyal Bilgiler Kısımına İşaretleyiniz...
4. Cevaplarınızı cevap kağıdındaki ilgili sütunlara aşağıdaki örnekte olduğu gibi yuvarlağı, dışına taşırmadan işaretleyiniz.
  - Yanlış karalamalarınızı düzeltirken yuvarlağın içini temizce siliniz.

ÖRNEK KODLAMA



BAŞARILAR...

## SORU 1



Verilen diyagramda (?) ile gösterilen yere aşağıdakilerden hangisi getirilebilir?

- A) Derslerde başarılı olmanın yolları
- B) Ekol oluşturan insanların özellikleri
- C) Ekonomik bakımdan çok paralı bir iş bulmanın yolları
- D) İdeal meslek seçiminde göz önünde bulundurulması gereken hususlar

## SORU 2

- Halkla ilişkiler uzmanı
- Psikolojik danışman
- Rehber öğretmen
- Avukat

Yukarıdaki mesleklerin ortak yönü aşağıdakilerden hangisidir?

- A) Çizim ve tasarım yapabilmek
- B) Oyunculuk yeteneğinin olması
- C) İnsanlarla başarılı iletişim kurabilmek
- D) Herhangi bir ulaşım aracını kullanmak

## SORU 3

Aşağıdaki diyagramda, bazı insanların özellikleri verilmiştir.



Buna göre, diyagramda "?" işareti ile gösterilen yere aşağıdakilerden hangisinin getirilmesi daha uygun olur?

- A) Uzun ömürlü olması
- B) İşinde başarılı olması
- C) Gelirinin düşük olması
- D) Ekonomiye katkı sağlamaması

## SORU 4

Aşağıda, ülkemizde yer alan bazı sanayi kuruluşları ve bulundukları kent eşleştirmelerinden hangisi yanlıştır?

Sanayi kuruluşu	Kent merkezi
A) Şeker	Uşak
B) Demir - çelik	Karabük
C) Kâğıt	Giresun
D) Otomotiv	Antalya

## SORU 5

Aşağıdaki tabloda, Türkiye'deki üç madenin başlıca çıkarıldığı ve işlendiği yerler gösterilmiştir.

Çıkarıldığı yerler	İşlendiği yerler
Divriği (Sivas), Hekimhan (Malatya), Hasançelebi (Malatya)	Karadeniz Ereğli, Karabük, İskenderun
Küre (Kastamonu), Murgul (Artvin), Maden (Elazığ)	Murgul (Artvin), Samsun
Elazığ, Muğla, Bursa, Eskişehir	Elazığ, Antalya

Buna göre, tabloda, aşağıdaki madenlerden hangisiyle ilgili bilgi yoktur?

- A) Demir
- B) Krom
- C) Bakır
- D) Bor minerali

## SORU 6

Zeytin, turuncgil, muz gibi tarım ürünlerinin özelliklerinden biri de kış aylarının ılık geçtiği yerlerde yetişmeleridir.



Buna göre, haritada gösterilen şehirlerden hangisi bu ürünlerin tarımına daha elverişlidir?

- A) Isparta
- B) Sivas
- C) Mersin
- D) Ankara

## SORU 7

Türkiye'de birbirinden farklı iklim özelliklerinin görülmesi ülkede, aşağıdakilerden hangisinin gelişmesine yol açmaz?

- A) Ormancılığın
- B) Madencilik faaliyetlerinin
- C) Çeşitli turizm faaliyetlerinin
- D) Tarım ve hayvancılık faaliyetlerinin

## SORU 8

Aşağıdakilerden hangisi, ülkemizde hayvancılığın geliştirilmesi için alınması gereken önlemler arasında gösterilemez?

- A) Kaliteli hayvan soylarının artırılması
- B) Besi ve ahır hayvancılığının geliştirilmesi
- C) Hayvancılıkla ilgili eğitime önem verilmesi
- D) Çayır ve mera hayvancılığıyla uğraşan in-

## SORU 9

Ülkemizde buğday ve arpanın yoğun olarak yetiştirildiği yerlerde, aşağıdaki hayvancılık türlerinden hangisi daha fazla yapılır?

- A) Arıcılık
- B) Balıkçılık
- C) Küçükbaş hayvancılık
- D) Büyükbaş hayvancılık

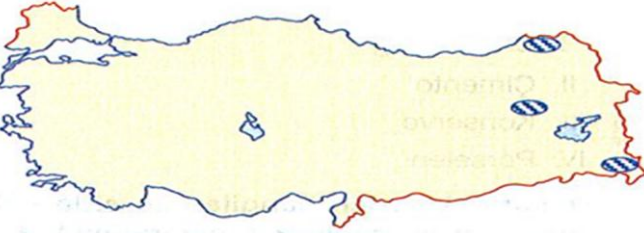
## SORU 10

Bazı sanayi tesislerinin kuruluş yerinin seçilmesinde ham maddeye yakınlık önemlidir. Ham maddenin uzağına kurulan tesislerde üretilen ürünlerin üretim maliyetleri artmaktadır.

Buna göre, İzmir'de kurulacak olan fabrikalardan hangisinde ürün maliyetleri daha fazladır?

- A) Zeytin yağı
- B) Meyve suyu
- C) Sigara
- D) Çay

## SORU 11



Bu yörelerin coğrafi özellikleri dikkate alındığında, buraların kalkınabilmesi için;

- I. hayvancılık,
- II. sanayi,
- III. hidroelektrik üretimi,
- IV. seracılık

gibi ekonomik faaliyetlerden hangilerine yönelik yatırım yapılması daha doğru olur?

- A) I ve II
- B) I ve III
- C) II ve III
- D) II ve IV

## SORU 12

Bir ülkede vergi gelirlerinin artmasının, aşağıdakilerden hangisi üzerinde etkili olması beklenmez?

- A) Konut fiyatlarının düşmesi
- B) Kamu giderlerinin karşılanması
- C) Memurların maaşlarının zamanında ödenmesi
- D) Yol, su ve elektrik gibi hizmetlerin aksama-dan yerine getirilmesi

## SORU 13

Güneş enerjisi	Jeotermal enerji	Rüzgâr enerjisi	Su gücü
-------------------	---------------------	--------------------	------------

Yukarıdaki enerji kaynaklarının ortak özellikleri arasında, aşağıdakilerden hangisi gösterilemez?

- A) Yer altından çıkarılmaları
- B) Yenilenebilir özellikte olmaları
- C) Doğal çevreye zararlarının az olması
- D) Doğada sürekli bulunan enerji kaynakları olmaları

## SORU 14



Yukarıdaki haritada belirtilen yörelerde çıkarılan maden aşağıdakilerden hangisidir?

- A) Bor minerali
- B) Krom
- C) Demir
- D) Bakır

## SORU 15

Türkiye'de yol, su, elektrik, hastane, okul gibi hizmetlerin planlı ve düzenli olarak yürütülebilmesi için her vatandaşın üzerine düşen sorumluluk aşağıdakilerden hangisidir?

- A) Askerliğini yapması
- B) Seçimlere katılması
- C) Doğal kaynakları israf etmemesi
- D) Düzenli olarak vergilerini vermesi

## SORU 16

- **Projenin Adı:** Ballı hayat
- **Projenin Amacı:** Türkiye'nin çeşitli yerlerinde yetiştirilen arılardan elde edilen farklı çeşit ve lezzetteki balları çocuklara sevdirmek
- **Fabrikanın Kurulacağı Yer:** .....

Ali, hazırladığı ev ödevinde fabrikanın ham madde kaynaklarına yakın bir yere kurulmasını istemektedir.

Buna göre, aşağıdaki yerlerden hangisine kurulacak fabrikanın yeri en uygun seçilmiştir?

- A) Rize
- B) Konya
- C) Afyonkarahisar
- D) Edirne

## SORU 17

- Plastik eşya, ilaç, şampuan gibi yüzlerce madde için başlangıç noktasıdır.
- Fosil yakıtlar arasında gösterilir.
- Ulaşım araçlarında yaygın olarak kullanılır.
- Türkiye, ihtiyacının % 10'unu üretmesine rağmen, enerji tüketiminde ilk sırayı alır.

**Yukarıda bazı özellikleri verilen enerji kaynağı aşağıdakilerden hangisidir?**

- A) Jeotermal B) Kömür  
C) Petrol D) Su gücü

## SORU 18

- I. Doktorluk  
II. Gazetecilik  
III. Rehberlik uzmanı  
IV. Elektrik mühendisi

**Yukarıdaki mesleklerden hangilerini seçen öğrencilerin matematik ve fen bilimleri derslerinin daha iyi olması gerekir?**

- A) I ve II B) I ve IV  
C) II ve III D) III ve IV

## SORU 19

- I. Rize  
II. Antalya  
III. Trabzon  
IV. Kastamonu

**Çayın yetişme alanları göz önüne alındığında, Türkiye'deki çay fabrikaları, yukarıdaki illerin hangilerinde yoğunlaşmıştır?**

- A) I ve II B) I ve III  
C) II ve III D) III ve IV

## SORU 20

**Ülkemiz aşağıda verilen yer altı kaynaklarından hangisinin rezervi bakımından Dünya'da ilk sırada yer alır?**

- A) Taş kömürü B) Demir  
C) Petrol D) Bor mineralleri

## SORU 21

**Ülkemizde, aşağıdaki sanayi kollarından hangisinin geliştiği söylenemez?**

- A) Gıda B) Dokuma  
C) Uçak D) Çimento

## SORU 22

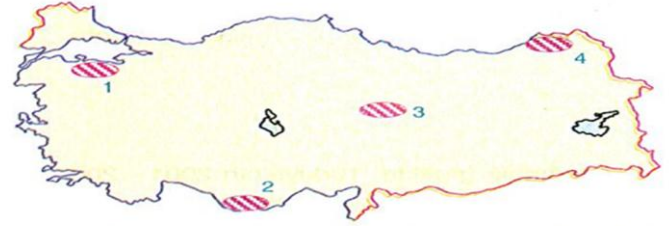
Yurdumuzda elektrik enerjisinin bir kısmı Yatağan, Soma, Afşin - Elbistan gibi termik santrallerden elde edilmektedir.

**Bu santrallerin kuruluş yerlerinin belirlenmesinde, aşağıdakilerden hangisi öncelikli bir etken olmuştur?**

- A) Linyit yataklarına yakınlık  
B) Enerji tüketim merkezlerine yakınlık  
C) Yerçekilleri düz olan yörelere yakınlık  
D) Nüfusu yoğun olan merkezlere yakınlık

## SORU 23

Güneşli gün sayısının fazla olduğu yerler güneş enerjisinden yararlanmaya daha elverişlidir.




**Buna göre, haritada taranarak numaralandırılan yörelerden hangisi güneş enerjisinden yararlanmaya daha elverişlidir?**

- A) 1 B) 2 C) 3 D) 4

## SORU 24

Aşağıdaki haritada, ülkemizdeki bazı tarım alanları taranarak gösterilmiştir.



**Haritada taranarak gösterilen tarım alanlarının hangisine ekilen aynı tür tarım ürününün daha erken olgunlaşması beklenir?**

- A) 1 B) 2 C) 3 D) 4

## SORU 25

Ülkemizde kâğıt sanayii, genellikle Karadeniz ve Akdeniz kıyı bölgelerinde toplanmıştır.

**Buna göre, ülkemizde kâğıt sanayiinin dağılışında aşağıdakilerden hangisi daha fazla göz önüne alınmıştır?**

- A) Ulaşım kolaylığı  
B) İş gücü olanakları  
C) Pazarlama olanakları  
D) Ham madde kaynaklarına yakınlık

