

Adı-Soyadı: Okul No:

| 1. SORU (10 Puan) | 2. SORU (10 Puan) | 3. SORU (10 Puan) | 4. SORU (10 Puan) | 5. SORU (10 Puan) | 6. SORU (10 Puan) | 7. SORU (10 Puan) | 8. SORU (10 Puan) | 9. SORU (10 Puan) | 10. SORU (10 Puan) | ALDIĞI PUAN |
|----------------------|----------------------|----------------------|----------------------|----------------------|----------------------|----------------------|----------------------|----------------------|-----------------------|----------------|
| | | | | | | | | | | |

- 1) Ayşe Hanım yeni aldığı güneş gözlüğünü kullanmakta zorlanmaktadır. Güneş gözlüğünü her kullandığında bulanık görme ve baş dönmesi gibi rahatsızlıklar yaşamaktadır. Doktoruna başvuran Ayşe Hanım aldığı güneş gözlüğünün sipariş ettiği mercek ölçülerinde olmadığını öğrenir. Ürün fişi ile gittiği mağazadan değişim talebinde bulunan Ayşe Hanım mağaza çalışanlarından olumsuz cevap alır.

Ayşe Hanım yaşadığı bu sorunu çözmek için ne yapmalıdır? Yazınız.

•

- 2) Bozkırda konargöçer hayat tarzını benimseyen Türkler, ekip biçme zamanını ve yazlık ile kışlık göç tarihlerini belirlemek için gökle ilgili olaylara bakarak takvimler yapmışlardır. Bu sayede zamanı sistemli hâlde kullanmaya başlamışlardır. Bir müddet sonra “On İki Hayvanlı Türk Takvimi”ni oluşturmuşlardır. Bu takvimde her yıl bir hayvan ismi ile temsil edilmiştir. Asya Hunları, Kök Türkler ve Uygurlar da bu takvimi kullanmışlardır.

Verilen bilgilerde ilk Türk devletlerinin hangi faaliyetlerle uğraştıklarına ulaşılabilir? Yazınız.

•

•

- 3) İslamiyet öncesinde güçlünün sözünün geçtiği, sosyal hayatta eşitsizliğin hâkim olduğu bir Arabistan vardı. Araplar, kabileler hâlinde yaşırdı. Her kabile kendisini diğerlerinden üstün görür ve aralarında oluşan kan davalarından dolayı birbirleriyle sürekli mücadele ederlerdi. Kız çocuklarına değer verilmez, köleleştirilen insanlar bir eşya gibi alınıp satılırdı. Dinî inançları putperestlikti, falcılık ve büyücülük de yaygındı.

Bu yanlış inançlardan dolayı Arap Yarımadası’ndaki bu döneme verilen isim nedir? Yazınız.

•

- 4) Talas Savaşı’ndan sonra Türkler Müslüman olmaya başladılar.
Türklerin Müslüman olmasını kolaylaştıran nedenlerden dört tanesini yazınız.

•

•

•

•

- 5) Anadolu’nun fethinden sonra Anadolu’da kurulan Anadolu Selçuklu Devleti ve beyliklerin yapmış olduğu eserlerin hangi alanla ilişkili olduğunu altındaki bölüme yazınız.

| |
|----------------------|
| Mama Hatun Külliyesi |
| |

| |
|---------------------|
| Divriği Darüşşifası |
| |

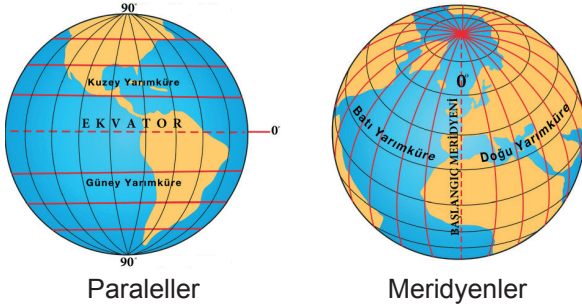
| |
|--------------------|
| Akhan Kervansarayı |
| |

- 6) İpek Yolu sayesinde Çinli kadınlar, Uygur kadınları gibi giyinmeye ve hareket etmeye başlamışlardır. Kimi dönem Çin saraylarında Uygurlar gibi giyinmek moda olmuştur.

İpek Yolu hakkında verilen bu metinde İpek Yolu'nun hangi alandaki etkisini göstermektedir? Açıklayınız.

•

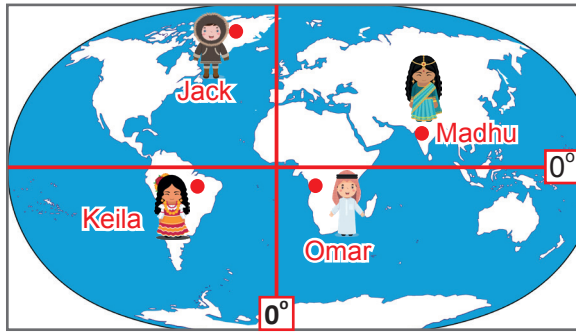
7)



Verilen görsellerden de yararlanarak paralel ve meridyenler hakkında iki şer tane çıkarımda bulununuz.

| | |
|-------------|----|
| Paraleller | 1. |
| | 2. |
| Meridyenler | 1. |
| | 2. |

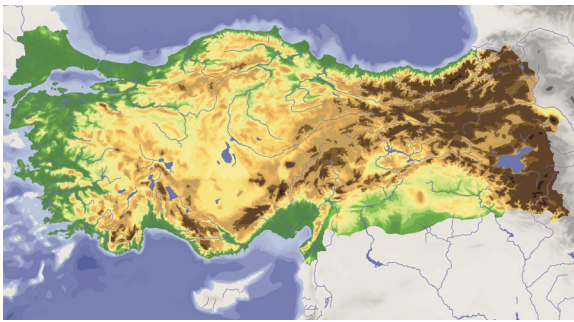
8)



Ekvator'un kuzeyinde Hint Okyanusu kenarında yaşayan kişi kimdir? Yazınız.

•

9)



Türkiye fiziki haritası incelendiğinde ülkemizin doğusunda kahverengi rengin çok olduğu gözlenmektedir. Bu durumun sebebi nedir? Yazınız.

•

- 10) Nüfusun dağılışını etkileyen beşerî ve doğal etkenler vardır.

Buna göre aşağıda verilen özelliklerin beşeri özellik mi yoksa doğal özellik mi olduğunu karşısına yazınız.

- İzmir'de iklim şartlarının elverişli olmasından dolayı nüfusun yoğun olması :
- İstanbul'da sanayinin gelişmiş olmasından dolayı nüfusun yoğun olması :