

Adı-Soyadı:

Okul No:

1. SORU (10 Puan)	2. SORU (10 Puan)	3. SORU (10 Puan)	4. SORU (10 Puan)	5. SORU (10 Puan)	6. SORU (10 Puan)	7. SORU (10 Puan)	8. SORU (10 Puan)	9. SORU (10 Puan)	10. SORU (10 Puan)	ALDIĞI PUAN
.....

- 1) Ayşe Hanım yeni aldığı güneş gözlüğünü kullanmakta zorlanmaktadır. Güneş gözlüğünü her kullandığında bulanık görme ve baş dönmesi gibi rahatsızlıklar yaşamaktadır. Doktoruna başvuran Ayşe Hanım aldığı güneş gözlüğünün sipariş ettiği mercek ölçülerinde olmadığını öğrenir. Ürün fişi ile gittiği mağazadan değişim talebinde bulunan Ayşe Hanım mağaza çalışanlarından olumsuz cevap alır.

Ayşe Hanım yaşadığı bu sorunu çözmek için ne yapmalıdır? Yazınız.

- Tüketici hakem heyetine başvurmalıdır.

- 2) Bozkırda konargöçer hayat tarzını benimseyen Türkler, ekip biçme zamanını ve yazlık ile kışlık göç tarihlerini belirlemek için gökle ilgili olaylara bakarak takvimler yapmışlardır. Bu sayede zamanı sistemli hâlde kullanmaya başlamışlardır. Bir müddet sonra “On İki Hayvanlı Türk Takvimi”ni oluşturmuşlardır. Bu takvimde her yıl bir hayvan ismi ile temsil edilmiştir. Asya Hunları, Kök Türkler ve Uygurlar da bu takvimi kullanmışlardır.

Verilen bilgilerde ilk Türk devletlerinin hangi faaliyetlerle uğraştıklarına ulaşılabilir? Yazınız.

- Tarım
- Astronomi

- 3) İslamiyet öncesinde güçlünün sözünün geçtiği, sosyal hayatta eşitsizliğin hâkim olduğu bir Arabistan vardı. Araplar, kabileler hâlinde yaşırdı. Her kabile kendisini diğerlerinden üstün görür ve aralarında oluşan kan davalarından dolayı birbirleriyle sürekli mücadele ederlerdi. Kız çocuklarına değer verilmez, köleleştirilen insanlar bir eşya gibi alınıp satılırdı. Dinî inançları putperestlikti, falcılık ve büyücülük de yaygındı.

Bu yanlış inançlardan dolayı Arap Yarımadası’ndaki bu döneme verilen isim nedir? Yazınız.

- Cahiliye Dönemi

- 4) Talas Savaşı’ndan sonra Türkler Müslüman olmaya başladılar.

Türklerin Müslüman olmasını kolaylaştıran nedenlerden dört tanesini yazınız.

- Türklerdeki Gök Tanrı inancı ile İslamiyet’teki Allah inancının birbirine benzemesi
- Türklerdeki kurban kesmenin İslamiyet’te de olması
- Türklerdeki cennet-cehennem kavramlarının İslamiyet’te karşılığını bulması
- Türklerdeki ölümden sonra hayata inanışın, İslamiyet’teki ahiret inancına uyması

- 5) Anadolu’nun fethinden sonra Anadolu’da kurulan Anadolu Selçuklu Devleti ve beyliklerin yapmış olduğu eserlerin hangi alanla ilişkili olduğunu altındaki bölüme yazınız.

Mama Hatun Külliyesi
Eğitim

Divriği Darüşşifası
Sağlık

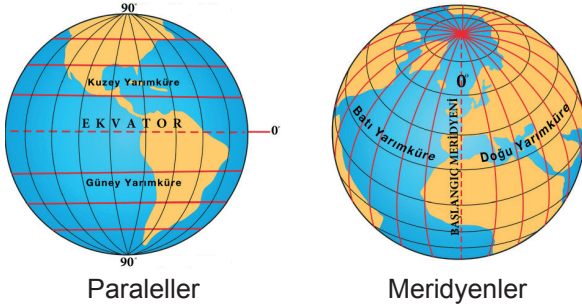
Akhan Kervansarayı
Ticaret

- 6) İpek Yolu sayesinde Çinli kadınlar, Uygur kadınları gibi giyinmeye ve hareket etmeye başlamışlardır. Kimi dönem Çin saraylarında Uygurlar gibi giyinmek moda olmuştur.

İpek Yolu hakkında verilen bu metinde İpek Yolu'nun hangi alandaki etkisini göstermektedir? Açıklayınız.

- Kültürel

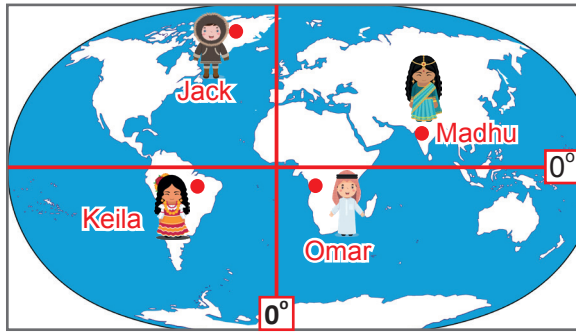
7)



Verilen görsellerden de yararlanarak paralel ve meridyenler hakkında iki şer tane çıkarımda bulununuz.

Paraleller	1. En büyük paralel dairesi Ekvator'dur.
	2. Paralellerin boyları Ekvator'dan kutuplara doğru azalmaktadır.
Meridyenler	1. Meridyenler kutuplarda birleşmektedir.
	2. Meridyenler arasındaki mesafe Ekvator'dan kutuplara doğru gittikçe azalır.

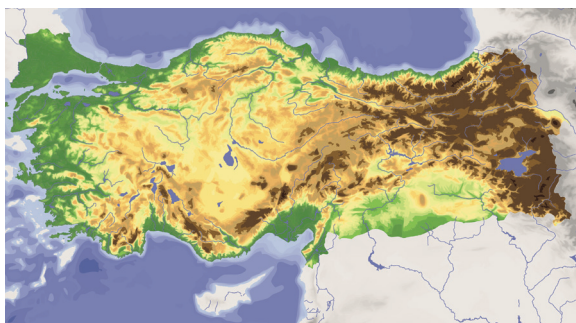
8)



Ekvator'un kuzeyinde Hint Okyanusu kenarında yaşayan kişi kimdir? Yazınız.

- Madhu

9)



Türkiye fiziki haritası incelendiğinde ülkemizin doğusunda kahverengi rengin çok olduğu gözlenmektedir. Bu durumun sebebi nedir? Yazınız.

- Ülkemizin doğusunda yükseltinin fazla olması

- 10) Nüfusun dağılışını etkileyen beşerî ve doğal etkenler vardır.

Buna göre aşağıda verilen özelliklerin beşeri özellik mi yoksa doğal özellik mi olduğunu karşısına yazınız.

- İzmir'de iklim şartlarının elverişli olmasından dolayı nüfusun yoğun olması : Doğal unsur
- İstanbul'da sanayinin gelişmiş olmasından dolayı nüfusun yoğun olması : Beşeri unsur