



1. Yukarıdaki fotoğraflarda belirtilen çocuk hakları nelerdir? Yazınız.

- 1-
- 2-
- 3-



2-Dünyadaki bütün çocuklar din, dil, ırk, renk, cinsiyet ayrımı olmaksızın eşit haklara sahiptir. 20 Kasım 1989'da Birleşmiş Milletler Çocuk Haklarına Dair Sözleşme kabul edilerek çocuk hakları güvence altına alınmıştır. Her yıl 20 Kasım günü dünyada " " olarak kutlanmaktadır.

Boş bırakılan yere getirilmesi gereken uygun ifade nedir? Aşağıda verilen boşluğa yazınız.

3-Aşağıdaki cümleleri okuyunuz. Zeynep'in hangi haklarını kullandığını altında verilen boşluğa yazınız.

- Zeynep okula gitti.  
\_\_\_\_\_
- Hastalandığında hastanede muayene oldu.  
\_\_\_\_\_
- Okulda okul temsilcisi seçimlerine katıldı.  
\_\_\_\_\_
- Arkadaşlarıyla parkta oyun oynadı.  
\_\_\_\_\_

**4-Dünyanın her yerinde herhangi bir ayırım yapmadan çocuklara yardım eden ve çocuk haklarının korunması için çalışan uluslar arası kuruluşun ismi nedir? Tam adını ve kısa adını yazınız.**

**5- Mezopotamya’da kurulan uygarlıklara 3 örnek veriniz.**

**6-Yazıyı ve tekerleği icat eden, inşa ettikleri Zigurratların en üst katını gözlemevi olarak kullanan uygarlığın imi nedir? Yazınız.**

**7- Babil kralının eşi çocukluğunda yaşadığı yeşil tepeleri çok özliyordu. Ancak Babil şehrinde yeşil yok denecek kadar azdı. Eşinin üzüldüğünü gören Babil kralı buna çözüm olarak daha sonra dünyanın yedi harikasından biri olarak ünlenecek olan .....yaptırdı.**

**Boş bırakılan yere gelecek doğru ifade nedir? Yazınız.**

**8-Kanunları ile ünlü Babil kralının adı nedir? Yazınız.**

**9-Asurlu tüccarlar ihtiyaç duydukları malları almak için eşeklerle Anadolu’nun içlerine kadar yolculuk ederlerdi. Mezopotamya’da pek bulunmayan kereste ve değerli madenlerden alırlardı. Kayseri \_\_\_\_\_’deki Karum Kaniş Asurların Anadolu’daki ticaret merkeziydi.**

**Boş bırakılan yere gelecek doğru ifade nedir? Yazınız.**

**10- Milattan önce Anadolu’da kurulan uygarlıklara 3 örnek veriniz.**

**11-Dünyanın en eski şehirlerinden Çatalhöyük ve dünyanın en eski tapınaklarından olan Göbeklitepe Anadolu'da hangi şehirlerimizde yer almaktadır? Yazınız.**

**12- Tarihin bilinen ilk yazılı antlaşması olarak kabul edilen, Hititler ve Mısırlılar arasında yaşanan savaşın ardından imzalanan antlaşmanın ismi nedir? Yazınız.**



**13- Hititler önemli gördükleri olayları kil tabletlere yazarlardı ve bu tabletler Hititlerin tarih kitaplarıydı. Hakkında bilgi verilen yıllıkların ismi nedir? Yazınız.**

**14-Günümüzde Van sınırlarındaki başkentleri Tuşpa'ya kale, su kanalları, barajlar inşa ettiler Usta madenciler olan bu uygarlık çanak çömlek ve mobilya yapımında oldukça başarılıydılar.**

**Yukarı hakkında bilgi verilen Anadolu uygarlığının adı nedir? Yazınız.**



**15- Friglerin başkenti olarak kabul edilen Gordion günümüzde hangi şehrin sınırların içerisinde yer almaktadır? Yazınız.**

**16- Yandaki fotoğrafta verilen Fibula (çengelli iğne) Friglerin hangi alanda geliştiğinin göstergesidir?**



### **Dokunduğu Her Şeyi Altına Çeviren Midas**

Tanrı Dionysos (Dionisos), Midas'a bir dilek hakkı olduğunu söyler. Daha zengin olmak isteyen Midas, tanrı Dionysos'tan dokunduğu her şeyin altın olmasını diler. Dionysos Midas'ın isteğini yerine getirir ve Midas'ın dokunduğu her şey altına dönüşür. Bir süre sonra yemek yiyemez, su içemez hâle gelen Midas, artık kendisi için bir kötülüğe dönüşen bu dilekten kurtulmak için tanrıya yalvarır. Dionysos Midas'a Paktalos Nehri'nde elini yıkamasını söyler. Midas elini suya soktuğunda nehrin içi altın parçacıkları ile dolar.

**17- Hayatı hikâyelere ve efsanelere konu olan Midas hangi Anadolu uygarlığının en ünlü kralıdır?**

**18-Ticareti kolaylaştırmak için takas usulüne son verip yanda bir örneğini gördüğünüz madenî parayı kullanmaya başlamış olan Ege Bölgesinde kurulan Anadolu medeniyetinin adı nedir?**



19-Ege Denizi kıyılarına gelip yerleşen **İyonlar** şehir devletleri hâlinde yaşamışlardır. Deniz kıyısında yaşadıklarından gemilerle birçok yerle ticaret yapmışlar. Lidyalılardan öğrendikleri parayı da kullanmışlar. Başta Efes olmak üzere kurdukları şehirleri eserlerle donatmışlar. Şehirlerine büyük tiyatrolar ve kütüphaneler inşa etmişler özgür düşünceye önem vermişlerdir.

**İyonların özgür düşünceye önem vermeleri hangi alanda ilerlemelerini sağlamıştır? Yazınız.**

**20- Filozof Tales, tıp biliminin kurucusu olarak kabul edilen Hipokrat, yuvarlak bir dünya haritası hazırlayan Hekataios, tarihin babası olarak kabul edilen Heredot'un yaşadığı Anadolu uygarlığının ismi nedir? Yazınız.**

**21-** Bu yaz tatilinde ailemle beraber doğa ve tarihle iç içe bir tatil yaptık. Önce Balıkesir'de bulunan Manyas Kuş cennetine ardından Muğla'nın Ölüdeniz ilçesinde bulunan İncekum plajına gittik. Ertesi gün Efes Antik Kenti ziyaret edip bir sürü yeni şey öğrendik. Tatil dönüşü yolumuzun üstünde bulunan Cumalıkızık evlerini ziyaret etmeyi ihmal etmedik.

**Verilen metinde belirtilen doğal güzelliklerimiz ve tarihi güzelliklerimiz nelerdir?**

**Tarihi**

**Doğal**

**22- Kùltürümüze ait öğelere 4 örnek veriniz.**

**23- Kùltürel öğelerimizden halk oyunlarına ilişkin verilenlerin hangi bölgelerimize özgü olduğunu yazınız.**

**Horon:**

**Zeybek:**

**Halay:**

**24- Geçmişten günümüze kùltürel öğelerimizin uğradığı değışime bir örnek veriniz.**

**25- Kùltürümüzü oluşturan unsurlardan biri de el sanatlarımızdır. El sanatlarımıza iki örnek veriniz.**

**26- Kùltürümüz oluşturan unsurlardan Dini bayramlarımız nelerdir yazınız.**

**27- Bayramlarda ya da çeşitli zamanlarda evimize gelen misafirlerimize ikramlarda bulunmamız kùltürel özelliklerimizden hangisiyle ilgilidir.**

**28-** Eskiden bayramlarda eve gelen misafirlere kahve ve yanında lokum ikram edilirken günümüzde kahve yerine çay lokum yerine çikolata ya da şekerleme ikram edilmektedir.

**Bu durum kültürel unsurlarımızın hangi özelliği ile ilgilidir.**

**29-** Dilden dile nesilden nesile aktarılan, ortak acıları, sevgileri, düşünceleri anlatan ve çoğunluklarda saz, zurna, davul vb. enstrümanların eşlik ettiği kültürel unsurumuz hangisidir? Yazınız.

**30-**Dünya üzerinde bulunduğumuz yeri veya gideceğimiz yerleri bulmak için haritalara gereksinim duyarız.

**Harita nedir? Açıklayınız.**

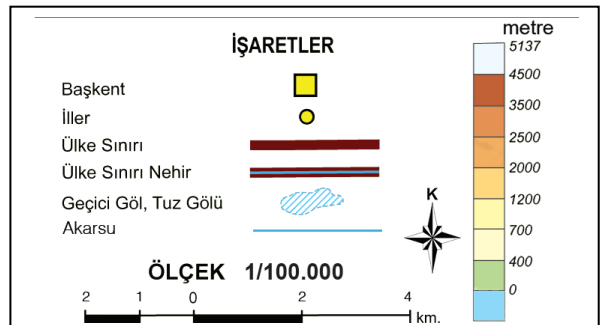
**31-** Bu haritalar herhangi bir yerin dağlarını, ovalarını, platolarını, akarsularını gösteren haritalardır.

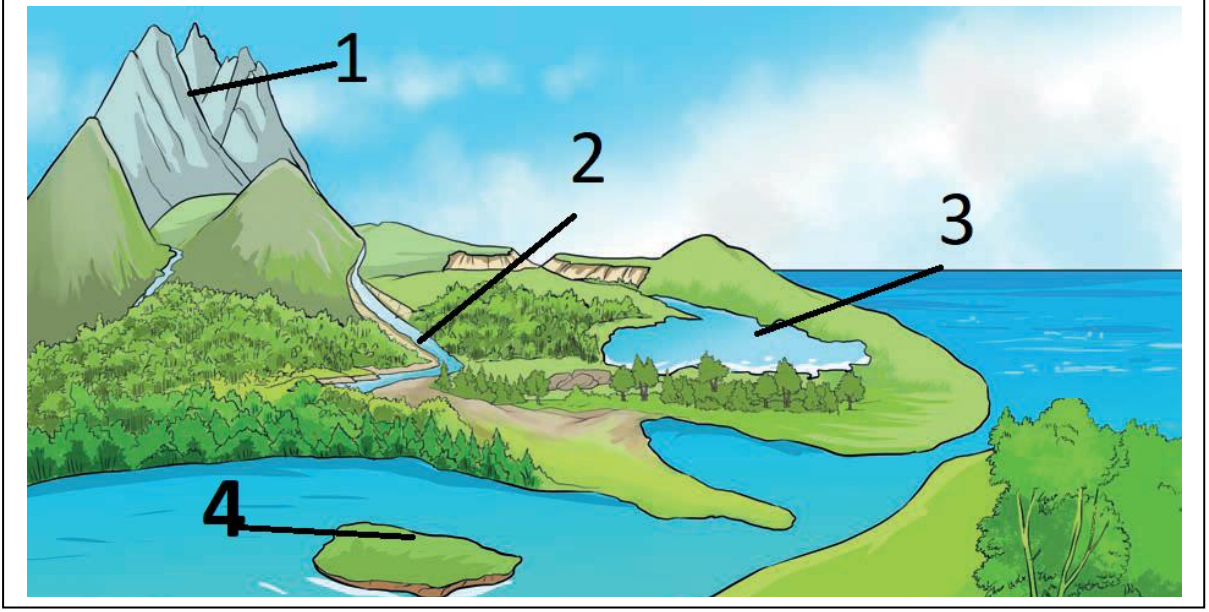
**Hakkında bilgi verilen harita türü hangisidir? Yazınız.**

**32-**Fiziki haritalarda kentler, yükseltiler, yerleşim yerleri ile ilgili bilgiler çeşitli renkler ve simgelerle gösterilir. Bu simgelerin ve renklerin anlamları haritanın köşesinde bulunan .....bölümünde yer alır.

**Boşluğa yazılması gereken ifade nedir? Aşağıya yazınız.**

**33-** Yandaki Lejant üzerinde verilen ve her haritada bulunan ölçek nedir? Tanımını yazınız





34- Resimde numaralandırılan yüzey şekilleri nelerdir? Yazınız.

1-

3-

2-

4-

35- Fiziki haritalarda bulunan renklerden yeşil ve kahverengi arasındaki fark nedir? Açıklayınız.

36- İklim ve hava durumu nedir? Açıklayınız.

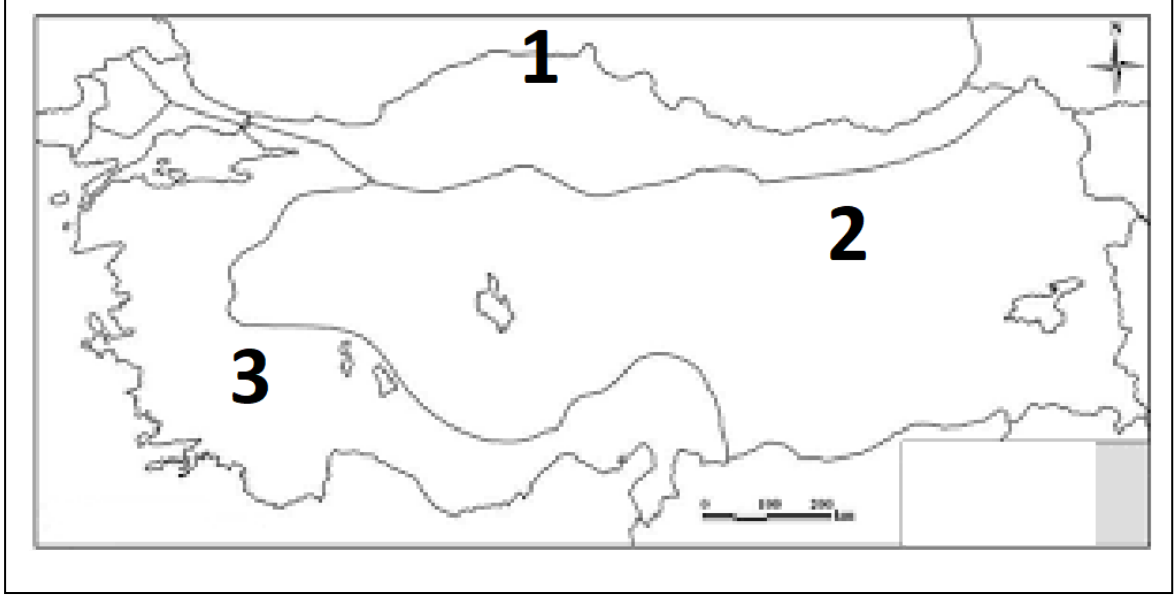
37- Türkiye’de görülen iklim türleri nelerdir? Yazınız.

38- Yazlar sıcak ve kurak kışlar ılık ve yağışlı şeklinde ifade edilen, bitki örtüsü maki olan ve kırsal yerleşmelerde konut tipi taş olan iklim hangisidir? Yazınız.

**39-Aşağıdaki cümleler iklimle mi hava durumuyla mı ilgilidir? Yanındaki boşluklara yazınız.**

Bugün hava güneşli\_\_\_\_\_ Erzincan'da kışlar kar yağışlı geçer\_\_\_\_\_

Rüzgâr çok sert esiyor.\_\_\_\_\_ Karadeniz kıyıları her mevsim yağışlıdır\_\_\_\_\_



**40- Yukarıda verilen çizimde numaralarla belirtilen alanlarda görülen iklim tiplerini yazınız.**

1-

3-

2-

**41- Aşağıda verilen bilgilerin hangi iklime ait olduğunu ilgili kutucuğa yazınız.**

-Yazlar sıcak ve kurak -Kışlar ılık ve yağışlı -Bitki örtüsü Maki -Konut tipi taş -Tarım ürünü turuncgiller	-Yazlar sıcak ve kurak -Kışlar soğuk ve karlı -Bitki örtüsü Bozkır -Konu tipi kerpiç -Tarım ürünü tahıllar	-Her mevsim yağışlı,ılıman -Bitki örtüsü orman -Konut tipi ahşap -Tarım ürünü çay,mısır



**42- Nüfusun dağılışıını etkileyen faktörler beşeri ve doğal faktörler olmak üzere ikiye ayrılır. Beşeri faktörlerden 4 tanesini yazınız.**

1-

3-

2-

4-

**43- Nüfusun dağılışıını etkileyen faktörler beşeri ve doğal faktörler olmak üzere ikiye ayrılır. Doğal faktörlerden 4 tanesini yazınız.**

1-

3-

2-

4-

**44-Şehrimiz geniş ve verimli bir ovanın kenarında yer alır. Yıl boyunca sıcaklık bitkilerin büyümesine yetecek kadar yüksektir. Tarım ürünlerinin çeşitliliği, tarıma dayalı sanayilerin ve ticaretin de gelişmesini sağlamıştır. Ekonomik faaliyetlerin bu kadar çeşitli olması iş imkânlarını dolayısıyla nüfusu arttırmıştır.**

**Yukarıdaki örnekte nüfusun dağılışıını etkileyen doğal ve beşeri unsurlardan hangilerine değinilmiştir.? Yazınız.**

**45-Yaşadığım yer dağlık, yüksek ve engebelidir. Kışlar çok uzun ve sert geçer. İnsanlar genellikle verimli topraklarla kaplı ve iklimin elverişli olduğu alçak ovalarda yaşar. Ulaşımın zor olması sanayi ve ticaretin gelişmesini engellemiştir. Tarım açısından pek elverişli olmayan şehrimizde en çok hayvancılık yapılır. Geçim kaynakları az olduğu için şehrimizin nüfusu da azdır.**

**Yukarıdaki örnekte nüfusun dağılışıını etkileyen doğal ve beşeri unsurlardan hangilerine değinilmiştir.? Yazınız.**