

ÜNİTE 3 YAŞADIĞIMIZ YER

Konu: İklimin Yaşamımıza Etkisi

1.

(Genel Ağ Haberi)

Ülkemizin doğusunda kar yağışı etkili oluyorken Muğla'nın Bodrum ilçesinde yazdan kalma günler yaşanıyor. Kars, Ardahan ve Erzurum'da kar yağışı etkisini gösterirken Ardahan'da hava sıcaklığı eksi 28 derece olarak ölçüldü. Ege kıyılarında ise hava sıcaklığı 25 dereceye ulaştı.

Yukarıdaki Genel Ağ haberine göre;

- I. Aynı anda farklı iklim özellikleri yaşanmaktadır,
- II. Bölgeler arası sıcaklık farkları bulunmaktadır,
- III. Ülkemizin tamamında kış etkisini göstermektedir,

çıkarımlarından hangilerine ulaşılabilir?

- A) I-II B) II-III
C) I-III D) I-II-III

2.

- Çiftçiler ekim ve hasat dönemlerini hava koşullarına göre planlar.
- İnsanlar hava tahminlerine göre kıyafetlerini giyerler.
- Hava yağmurluysa yanımıza şemsiye alırlar.

Yukarıdaki örnek durumlara göre hangisi söylenebilir?

- A) Ülkemizde farklı iklimler görülmektedir.
B) Hava durumu günlük yaşantımızı etkilemektedir.
C) Ekonomik faaliyetler iklimden etkilenmez.
D) Yaşantımızı belirleyen faktörlerin en önemlisi iklimdir.

3. Aşağıda **“iklim”** ve **“hava olayı”** kavramlarını yansıtan görseller verilmiştir.

1



Bugün hava güneşli

2




Bugün rüzgar sert esiyor

3



Yarın kar yağışı etkili olacak

4



Karadeniz kıyıları her mevsim yağışlıdır.

Görseller ve yanındaki açıklamalara göre hangi görsel **farklı** bir kavramı tanımlar?

- A) 1 B) 2 C) 3 D) 4

4.



Sadece yukarıdaki haritaya bakarak;

- I. Farklı hava olayları gözlenir,
- II. Ülkemiz Karadeniz ikliminin etkisindedir,
- III. İnsanların yaşamı olumsuz etkilenmektedir,

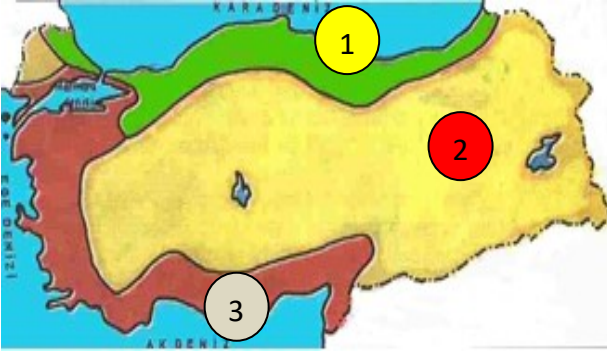
çıkarımlarından hangilerine ulaşılabilir?

- A) I-II B) II-III
C) Yalnız I D) I-III

ÜNİTE 3 YAŞADIĞIMIZ YER

Konu: İklimin Yaşamımıza Etkisi

5. Türkiye İklim Haritası



Haritada numaralı alanlarda görülen iklimler hangisinde doğru olarak eşleştirilmiştir?

- | | | |
|--------------|-----------|-----------|
| <u>1</u> | <u>2</u> | <u>3</u> |
| A) Karadeniz | Akdeniz | Karasal |
| B) Akdeniz | Karasal | Karadeniz |
| C) Karadeniz | Karasal | Akdeniz |
| D) Karasal | Karadeniz | Akdeniz |

6. Karasal iklimin hakim olduğu yerlerde kışın yoğun kar yağışı görülür. Kar yağışından dolayı insanlar kalın kıyafetler giymeyi tercih eder. Özellikle Erzurum, Van, Bitlis, Ağrı ve çevresinde köy yolları bazen ulaşım kapanır. Bu durum şehir merkezinden uzakta yaşayan insanların yaşamını olumsuz etkiler.

Yukarıdaki açıklamada iklimin insan yaşamının hangi alanlarındaki etkileri vurgulanmak istenmiştir?

- A) Yiyecekler ve Eğitim
- B) Kıyafetler ve Ulaşım
- C) Tarım ve Hayvancılık
- D) Ulaşım ve Eğitim

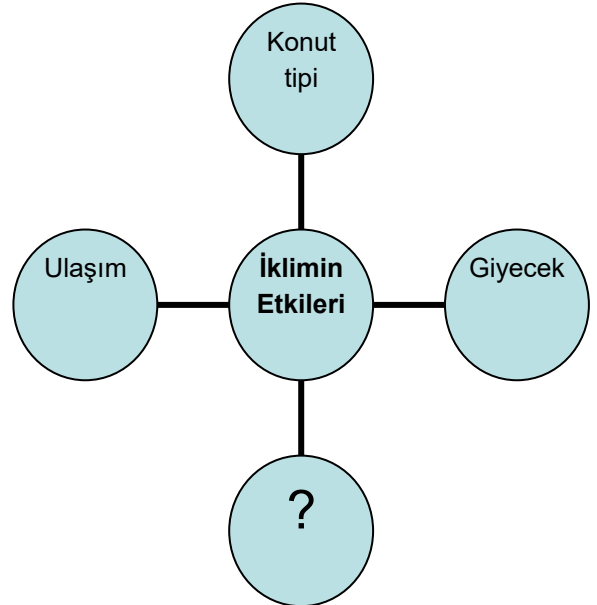
7. Aşağıda iklimin bazı durumlar üzerindeki etkileri değerlendirilmiştir.

Durumlar	İklimin etkileri	
	Etkiler	Etkilemez
(I) Tarım faaliyetlerini	✓	
(II) Para birimini		✓
(III) Madenleri	✓	
(IV) Turizm faaliyetlerini		✓

Tablonun hangi satırlarında hatalı bir değerlendirme yapılmıştır.

- A) I-II
- B) II-III
- C) II-IV
- D) III-IV

8.



Diyagramdaki “?” ile boş bırakılan alana hangisi yazılamaz?

- A) Yiyecekler
- B) Hayvancılık
- C) Bitki örtüsü
- D) Yer altı kaynakları

ÜNİTE 3 YAŞADIĞIMIZ YER

Konu: İklimin Yaşamımıza Etkisi

9.

Karasal iklimin görüldüğü alanlarda ilkbahar yağışlarıyla yeşeren, yaz sıcaklıklarıyla kuruyan bozkırlar yaygındır.

Karasal iklimin hakim olduğu alanlarda kırsal kesimlerde evler kerpiçten yapılır.

Karasal iklimin hakim olduğu alanlarda daha çok buğday yetiştirilir.

Buna göre hangisine ulaşamaz?

- A) İklim özellikleri ekonomik faaliyetleri etkiler.
- B) Nüfusun dağılışı üzerinde iklimin de etkisi görülür.
- C) Bitki örtüsü iklim özelliklerinden etkilenir.
- D) İklimin etkileri konut tipine de yansır.

10.

Akdeniz ve Ege kıyılarında yaz sıcaklıklarına bağlı olarak turizm gelişmiştir.

Erzurum ve Kars çevresinde yaz yağışlarıyla yeşeren gür otlaklar hayvancılığın gelişmesini sağlamıştır.

Karasal iklimin etki alanındaki Trakya'da ayçiçeği tarımına bağlı olarak yağ üreten fabrikalar çoğalmıştır.

Buna göre iklimin hangi alan üzerindeki etkisi örneklendirilmiştir?

- A) Ekonomik faaliyetler
- B) Konut tipleri
- C) Ulaşım faaliyetleri
- D) Ormancılık faaliyetleri



Azra: Yaşadığım yerde her mevsim yeşil kalabilen ormanlar yaygındır.

Begüm: Benim yaşadığım yerde ilkbaharda yeşeren, yaz mevsiminde kuruyan bozkırlar yaygındır.

Aslı: Maki adı verilen kısa boylu bodur bitkilerin olduğu bir yerde yaşıyorum.

11. Açıklamalara göre Azra, Begüm ve Aslı numaralandırılmış alanların hangisinde yaşamaktadırlar?

1

2

3

- A) Begüm Aslı Azra
- B) Begüm Azra Aslı
- C) Aslı Azra Begüm
- D) Azra Aslı Begüm

CEVAPLAR

1	<input checked="" type="radio"/>	B	C	D
2	A	<input checked="" type="radio"/>	C	D
3	A	B	C	<input checked="" type="radio"/>
4	A	B	<input checked="" type="radio"/>	D
5	A	B	<input checked="" type="radio"/>	D
6	A	<input checked="" type="radio"/>	C	D
7	A	B	C	<input checked="" type="radio"/>
8	A	B	C	<input checked="" type="radio"/>
9	A	<input checked="" type="radio"/>	C	D
10	<input checked="" type="radio"/>	B	C	D
11	<input checked="" type="radio"/>	B	C	D

ÖNEMLİ HATIRLARMA:

UZAKTAN EĞİTİM FAALİYETLERİ
KAPSAMINDA EBA VEYA
WHATSAPP PLATFORMLARINDA
PAYLAŞIMA AÇIKTIR.

TİCARİ AMAÇLI KULLANILAMAZ.