

ÜNİTE 3 YAŞADIĞIMIZ YER

Konu: HARİTAYI TANIYORUM

1. Aşağıdaki tabloda yer alan bilgiler “**DOĞRU (D)** ve **YANLIŞ (Y)**” olarak kodlanmıştır.

| | |
|--|---|
| I.Fiziki haritada yeşil renkler deniz seviyesine yakın alçak alanları gösterir. | D |
| II.Haritalarda çizimi yapılan alan belirli oranlarda küçültülerek çizilir. | D |
| III.Haritaların kullanım amaçlarına göre fiziki, siyasi, beşeri vb. çeşitleri bulunmaktadır. | Y |
| IV.Fiziki haritalarda nüfusun kalabalık ya da az olduğu alanları görebiliriz. | Y |

Tablodaki numaralı ifadelerden hangisi **hatalı** kodlanmıştır?

A) I B) II C) III D) IV

2. Akdeniz Bölgesi Fiziki Haritası



5.sınıf öğrencisi olan Emir yaşadığı bölgenin fiziki haritasını incelerken haritada birden fazla rengin kullanıldığını görmüştür.



Buna göre Emir yaşadığı bölge için;

- I. Farklı yükseltilere sahip yüzey şekillerinin bulunduğu,
- II. Yer şekillerinin çeşitlilik gösterdiği,
- III. Nüfusunun yoğun olduğu,

bilgilerinden hangisi veya hangilerini söylerse **yanlış** bilgi vermiş olur?

A) I- II B) I-III
C) II-III D) Yalnız III

3.



Aşağıdaki yer şekillerinden hangisi yukarıdaki fotoğraflarda **gösterilmemiştir**?

A) Ova B) Plato
C) Dağ D) Vadi

4.

Çevresine göre alçakta bulunan ve eğimi az olan geniş düzlüklerdir.

Yeryüzünün çukur alanlarında bulunan durgun su kütlelerine denir.

Denizlerin karanın iç kısımlarına doğru sokulmuş büyük girintili bölümlerdir.

Yukarıdaki tanımlar ve seçenekler eşleştirildiğinde hangi seçenek **dışta** kalır?

A) Akarsu
B) Göl
C) Ova
D) Körfez

ÜNİTE 3 YAŞADIĞIMIZ YER

Konu: HARİTAYI TANIYORUM

5.



Türkiye Fiziki haritasını inceleyen Duygu Ülkemizin doğu kesimlerinde kahverengi renklerin daha fazla olduğunu görmüştür.

Duygu, sadece bu bilgiye göre;

- I. Doğu bölgelerimizin deniz seviyesinden yüksekliği daha fazladır,
- II. Doğu bölgelerde dağlık alanlar geniş yer tutar,
- III. Doğu bölgelerde yağışlar azdır,

çıkartımlarından hangilerine ulaşabilir?

- A) I- II
- B) I-II-III
- C) II-III
- D) Yalnız I

6. Türkiye Fiziki Haritasını değerlendiren Ceylin Nur aşağıdaki bilgilerden hangisine ulaşamaz?

- A) Batıdan doğuya gidildikçe yükseltinin arttığı.
- B) Yeşil rengin olduğu alanlarda ormanların çok yer kapladığı.
- C) Yer şekilleri en sade olan bölgenin Marmara Bölgesi olduğu.
- D) İç Anadolu Bölgesi'nde platoların fazla olduğu.

7.

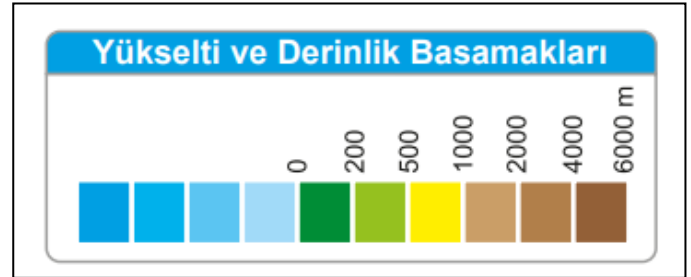


Sosyal Bilgiler dersi araştırma ödevi olan Batuhan Marmara Bölgesi'nin fiziki özelliklerini araştırmaktadır.

Buna göre Batuhan fiziki haritayı kullanarak hangisi hakkında bilgi sahibi olamaz?

- A) Ovalar
- B) Göller
- C) Şelaleler
- D) Dağlar

8. Fiziki haritalarda işaret çubuğundaki renkler yer şekillerinin deniz seviyesinden ne kadar yüksekte olduğunu ifade eder. Deniz seviyesi "0 (sıfır)" metre olarak kabul edilir.



Yukarıdaki işaret çubuğuna göre;

- I. Deniz seviyesine yakın alanlar yeşil ve tonlarıyla ifade edilir,
- II. Yükseltisi fazla olan alanlar kahverengi ve tonlarıyla ifade edilir,
- III. Mavi renkler "0 (sıfır)" metrenin altındaki derinlikleri ifade eder,

bilgilerinden hangilerine ulaşılabilir?

- A) I- II
- B) II-III
- C) I-III
- D) I-II-III

CEVAPLAR

| | | | | |
|---|----------------------------------|----------------------------------|----------------------------------|----------------------------------|
| 1 | A | B | <input checked="" type="radio"/> | D |
| 2 | A | B | C | <input checked="" type="radio"/> |
| 3 | A | <input checked="" type="radio"/> | C | D |
| 4 | <input checked="" type="radio"/> | B | C | D |
| 5 | <input checked="" type="radio"/> | B | C | D |
| 6 | A | <input checked="" type="radio"/> | C | D |
| 7 | A | B | <input checked="" type="radio"/> | D |
| 8 | A | B | C | <input checked="" type="radio"/> |

ÖNEMLİ HATIRLARMA:

UZAKTAN EĞİTİM FAALİYETLERİ
KAPSAMINDA EBA VEYA
WHATSAPP PLATFORMLARINDA
PAYLAŞIMA AÇIKTIR.

TİCARİ AMAÇLI KULLANILAMAZ.