

1) Aşağıda ülkemizin farklı şehirlerinde yaşayan kişilerin ifadelerine yer verilmiştir.

Sibel Hanım

Şehrimize yaz aylarında oldukça fazla turist geliyor. Ülkemiz için önemli gelir kaynağı olan turizm yöre halkı için de iş imkânı sunuyor.

Hakkı Bey

Ham madde kaynaklarına yakın olduğumuz için bölgemize fabrikalar kuruldu. Burada yaşayan benim gibi birçok insana iş imkânı doğdu

Mete Bey

Bizim şehrimizde ülkemizin en büyük ihracat limanı vardır. Bu yüzden limanımıza farklı ülkelerden birçok yabancı bayraklı gemi gelir.

Bu kişilerin yaşadığı yerleşim yerlerinin gelişmesinde etkili olan faktörler aşağıdakilerin hangisinde doğru belirtilmiştir?

	Sibel Hanım'ın Yaşadığı Yer	Hakkı Bey'in Yaşadığı Yer	Mete Bey'in Yaşadığı Yer
A)	Sanayi	Ticaret	Turizm
B)	Turizm	Tarım	Sanayi
C)	Tarım	Sanayi	Ticaret
D)	Turizm	Sanayi	Ticaret

İnsanlar, tarih öncesi devirlerde soğuktan korunabilecekleri mağaralarda yaşamışlar, avcılık ve toplayıcılıkla yaşamlarını sürdürmüşlerdir. Bu nedenle sık sık yer değiştirmişlerdir. Havanın ısınması, tarımın başlaması ve bazı hayvanların evcilleştirilmesiyle birlikte ırmak ve göl kenarlarında evler yapmaya başlamışlardır. Zamanla köyleri oluşturmuşlardır.

2) Buna göre tarih öncesi devirlerde insanların yerleşim yeri tercihinde;

- I. İklim şartları
- II. Güvenlik
- III. Sanayi
- IV. Ulaşım kolaylığı
- V. Tarım

faktörlerinden hangileri etkili olmuştur?

- A) I ve II B) II ve III C) I, II ve V D) II, IV ve V



3) Haritada işaretlenen yerlerin hangisinde turizm faaliyetleri geliştiği için nüfus yoğunluğu fazladır?

- A) I B) II C) III D) IV

Bir ülkede kalkınma planlarının yapılması ve uygulanabilmesi için ülke nüfusunun özelliklerinin bilinmesi gerekmektedir. Bunun için nüfus sayımları yapılır.

4) Buna göre nüfus sayımı yapılarak aşağıdakilerin hangisiyle ilgili bilgiye ulaşılabilir?

- A) Kişilerin ilgi alanları
- B) Ülkenin eğitim durumu
- C) Kent ve kırsal nüfusunun dağılımı
- D) Çalışan nüfusun sektörlere göre dağılımı

5) Cilalı Taş Devri'nde insanlar tarlaları ekip biçmişlerdir. Tarlalarına yakın olmak için evlerini göl ve nehir kenarlarına yapmışlardır.

Buna göre Cilalı Taş Devri'nde yerleşim tercihinde;

- I. Bitki örtüsü
- II. Yeryüzü şekilleri
- III. Verimli topraklar
- IV. Su kaynakları
- V. Yer altı kaynakları

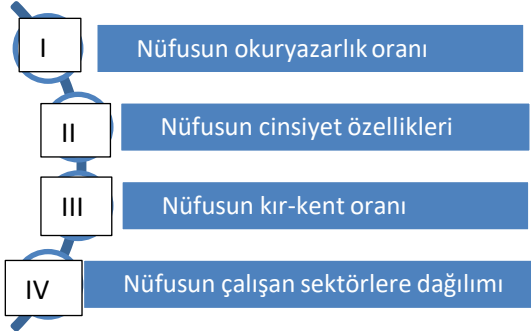
faktörlerinden hangileri etkili olmuştur?

- A) I ve II B) II ve V C) III ve IV D) II, III ve IV

6) Çatalhöyük 9.500 yıllık geçmişi olan ve yaklaşık 8.000 insanı barındırmış geniş bir kasabadır. Karasal iklimin hüküm sürdüğü bölgede 800 yıllık bir köy yaşantısı vardır. İklimle uygun tahıl ve bak- liyat yetiştirilen Çatalhöyük, avcı-toplayıcı toplumdan tarım toplumuna geçişin yaşandığı yerleşim yerlerinden biridir. Bu dönemde bataklıkların kıyılarına kadar uzanan dağ ormanlarının kuşattığı Çatalhöyük, bereketli bir arazi ile çevrelenmiştir. Çarşamba Irmağı ilkbaharda taşarak Çatalhöyük'ü bir yarım adaya dönüştürüyordu. Bu da yerleşim yerinin savunulmasını kolaylaştırıyordu.

Buna göre Çatalhöyük ile ilgili olarak aşağıdakilerden hangisi söylenemez?

- A) Ticaretin geliştiği bir yerdir.
B) İklimin elverişli olduğu bir yerdir.
C) Tarımın elverişli olduğu bir yerdir.
D) Güvenliğin sağlanabildiği bir yerdir.



7) Yukarıdakilerden hangileri bir ülkenin gelişmişliği hakkında bilgi verir?

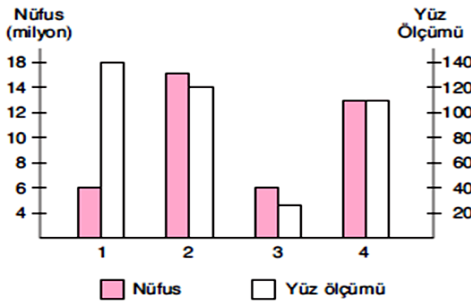
- A) Yalnız II B) I ve II
C) I, II ve IV D) I, III ve IV



Dağlık ve engebeli yerlerin nüfusu azdır.

8) Buna göre haritada verilen yerlerin hangisinde nüfus yoğunluğu bu sebeple azdır?

- A) Kocaeli B) Konya C) Adana D) Hakkari



9)Ülkemizde nüfus yoğunluğu en az olan bölge

Doğu Anadolu Bölgesi olduğuna göre,

grafikte kaç numaralı yer Doğu Anadolu Bölgesine aittir?

A) 1

B) 2

C) 3

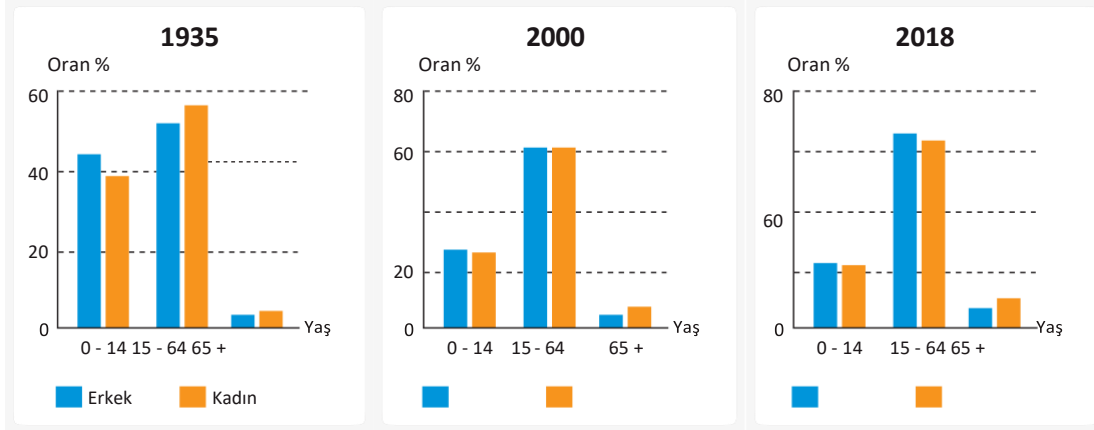
D) 4



10)Haritada numaralandırılmış yerlerin nüfusunun yoğun olmasında etkili olan faktörler aşağıdakilerin hangisinde doğru belirtilmiştir?

	I	II	III
A)	Tarım	Sanayi	Ulaşım
B)	Sanayi	Ticaret	Madencilik
C)	Ticaret	Turizm	Madencilik
D)	Ulaşım	Madencilik	Turizm

11) Aşağıdaki grafiklerde nüfus sayımı yapılan bazı yıllarda nüfusun yaş ve cinsiyet oranları belirtilmiştir.



Bu grafiklere bakılarak ülkemizin nüfus yapısıyla ilgili olarak aşağıdakilerden hangisi söylene- bilir?

- A) En fazla çocuk nüfus vardır.
- B) Ortalama yaşam süresi uzundur.
- C) Çalışma çağındaki nüfus her zaman fazladır.
- D) Günümüzde bağımlı nüfus oranı aktif nüfus oranından fazladır.

12) Anayasamızın 23.maddesine göre;

-Herkes, yerleşme ve seyahat özgürlüğüne sahiptir.

-Vatandaş sınır dışı edilemez ve yurda girme hakkından yoksun bırakılamaz.

Şeklinde olmasına rağmen bazı durumlarda bu haklarımız sınırlandırılabilir.

Buna göre, aşağıdakilerden hangisi bu yerleşme ve seyahat etme hakkımızın sınırlandırılmasını gerektirecek bir durum değildir?

- A) Kamu mallarını korumak
- B) Sağlıklı ve düzenli kentleşmeyi gerçekleştirmek
- C) İşsizliği önlemek
- D) Suç işlenmesini engellemek



2019 yılında Çin’de ortaya çıkarak bir çok ülkeye yayılan Covid -19 virüsü havaalanlarında giriş çıkışlarda bazı tedbirlerinde alınmasına neden olmuştur.

13) Bu hastalık sonucunda ülkeler aşağıdaki hangi haklarda kısıtlamaya gidebilir?

- A) Seyahat hakkı B) Konuşma hakkı C) Yaşama hakkı D) Haber alma hakkı

14) Ülkemizde 1950’li yıllardan sonra köyden kente göç hareketi hızlanmıştır. Bu göç hareketi iç göç olarak adlandırılır.

Aşağıda verilenlerden hangisi iç göçün nedenlerinden birisi olarak gösterilemez?

- A) Nüfusun ülke geneline dengesiz dağılmış olması
B) Kentlerde iş bulma olanaklarının fazla olması
C) Köylünün temel geçimi olan tarım alanlarının miras yoluyla küçülmesi
D) Makineleşmeye bağlı olarak insan gücüne olan ihtiyacın azalması

15) Ülkemizde genel olarak kıyı bölgeler yoğun

nüfuslanmışken iç kesimlerden yoğunluk

biraz azalmıştır

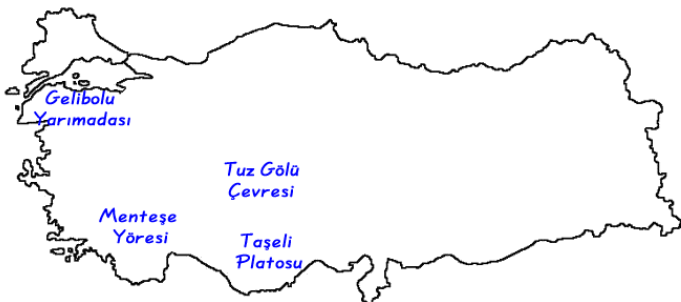
Kıyı bölgelerin fazla nüfuslanmasında

hangisi daha çok etkili olmuştur?

- A) Turizm faaliyetlerinin gelişmiş olması
B) İklim koşullarının elverişli olması
C) Orman zenginliğinin fazla olması
D) Maden bakımından zengin olması



16) Nüfus ve yerleşmeyi etkileyen unsurları doğal unsurlar ve Beşeri unsurlar olarak ikiye ayırırsınız.



Haritada gösterilen alanlardan hangisi

beşeri nedenlerden dolayı

nüfusu çok kalabalık olmamıştır?

- A) Gelibolu Yarımadası B) Menteşe Yöresi
C) Taşeli platosu D) Tuz Gölü Çevresi

17)Maden ve enerji kaynaklarının işletilmesinde insan gücüne ihtiyaç olduğu için buralarda iş imkanı fazla olur.



Haritadaki illerden hangileri yukarıdaki açıklamaya örnek olarak gösterilebilir?

- A) Kayseri - Gaziantep B) Batman -Kayseri
C) İzmir - Zonguldak D) Zonguldak- Batman



İç göçte ülkenin toplam nüfusunda bir değişiklik ortaya çıkmaz. Sadece bölgelerin ve şehirlerin nüfuslarında artma yada azalma meydana gelir

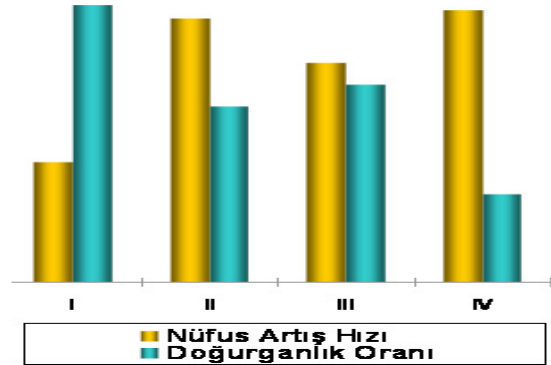
18)Aşağıdakilerden hangisi iç göçün sonuçlarından değildir?

- A) Ülke genelinde nüfus dağılışında dengesizlik görülür.
B) Tarımsal üretim artar.
C) Yatırımlar dengesiz dağılır
D) Düzensiz kentleşme görülür

19)Yanda dört bölgeye ait nüfus ve doğum artış oranları verilmiştir.

Bu grafiğe göre, hangi bölgeden, diğer bölgelere doğru, göçün daha çok olduğu söylenebilir ?

- A) I B) II C) III D) IV



20)Bilim ve tekniğin gelişmesine katkıda buluna-bilecek, iyi eğitim görmüş, nitelikli insanların başka ülkelere göç etmesine **beyin göçü** denir.

Aşağıdakilerden hangisi, beyin göçlerinin azaltılmasında fazla etkisi olmaz?

- A) Çalışma koşullarının iyileştirilmesi
B) Yurt dışından eğitimli insanların getirilmesi
C) Maddi olanakların artırılması
D) Çalışma alanlarının geliştirilmesi