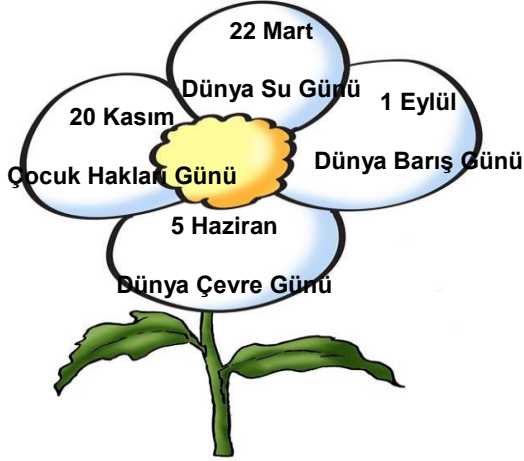


5. SINIF

Sosyal
Bilgiler

2015-2016 EĞİTİM ÖĞRETİM YILI SENE BAŞI SEVİYE TESPİT SINAVI

1.



Yukarıda verilen günler için hangisi
söylenbilir?

- A) Türk Dünyasının kutladığı günlerdir.
- B) Dünya ülkeleri arasında ortak kutlanan günlerdir.
- C) Sadece ülkemizde kutlanan günlerdir.
- D) Sadece Avrupa kıtasında kutlanan günlerdir.

2. Aşağıdakilerden hangisi yerel
yönetim birimlerinden birisidir?

- A) Belediye
- B) Kaymakamlık
- C) Valilik
- D) TBMM

3.



Sahip olduğumuz resmi kimlik
belgemizden aşağıdaki bilgilerden
hangisini çıkaramayız?

- A) TC Kimlik Numaramız
- B) Doğum yerimiz
- C) Kan Grubumuz
- D) Yaşadığımız şehir

4.

- I. Atatürk'ün Samsun'a çıkışı
- II. Cumhuriyetin ilanı
- III. Sakarya Meydan Savaşı
- IV. Büyük Millet Meclisinin açılışı
- V. Sivas Kongresi'nin yapılması
- VI. Büyük Taarruz ve Başkumandan
Meydan Savaşı

Yukarıda Mondros Ateşkes
Antlaşmasından sonra yaşanan olaylar
karışık olarak verilmiştir. Doğru
sıralaması nasıldır?

- A) I-IV-V-VI-II-III
- B) V-II-III-IV-VI-I
- C) I-V-IV-III-VI-II
- D) V-VI-II-IV-III-I

5.

*Eskiden ayran “yayık” adı verilen kap içerisinde yapılırken günümüzde farklı yöntemlerle yapılmaktadır.

*Eskiden cüzdan olmadığı için paralar özel işlemeli para keselerinde taşınırdı.

*Eskiden düğünlerde gelin at ile taşınırken günümüzde araba ile taşınmaktadır.

Yukarıdaki bilgilere göre hangisi söylenebilir?

- A) Kültürel değerlerimiz hiç değişmemiştir.
- B) Kültürel değerlerimiz diğer ülkeleri de etkilemiştir.
- C) Kültürel değerlerimiz değişerek günümüze kadar ulaşmıştır.
- D) Kültürel değerlerimiz hep aynı kalmıştır.

6. Bu oyun en az beş kişi ile oynanır. Bir de mendile ihtiyaç vardır. Gönüllü varsa ebe olur. Yoksa kurayla ebe belirlenir. Bir daire oluşturan çocuklar el çırparak bir tekerlemeyi söylerler. Ebe, dairenin etrafında tempoya ayak uydurarak dolaşır. Bu arada birinin arkasına gizlice mendili bırakıp kaçmaya başlar. Arkasına mendil bırakılan kişi ebeyi yakalamaya çalışır. Ebe ise kendini yakalamaya çalışan kişinin yerine geçmek için koşar.

Yukarıda bilgi verilen oyun hangisidir?

- A) Aç Kapıyı Bezirgân Başı
- B) Yağ Satarım Bal Satarım
- C) Ben Çarşıya Gittim
- D) Yattı Kalktı

6.

Büyük Millet Meclisi.....I.....tarihindeII.....açılmıştır.

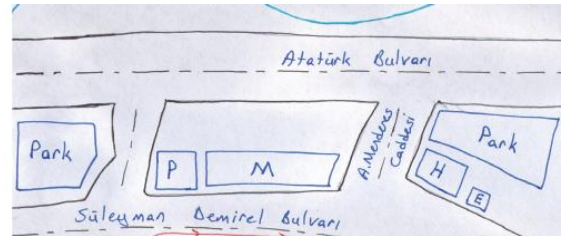
I ve II yazan yerlere sırasıyla hangileri getirilmelidir?

	I	II
A)	29 Ekim 1923	Ankara'da
B)	23 Nisan 1920	İstanbul'da
C)	29 Ekim 1923	İstanbul'da
D)	23 Nisan 1920	Ankara'da

8. Yön bulma ile ilgili aşağıda verilen bilgilerden eşleştirmelerden hangisi doğrudur?

	Karınca yuvalarının girişinin baktığı yön	Ağaç ve taşların yosunlu tarafının olduğu yön
A)	GÜNEY	KUZEY
B)	KUZEY	GÜNEY
C)	DOĞU	KUZEY
D)	DOĞU	GÜNEY





9.



Asel arkadaşına ziyaretine gelmesi için yukarıdaki gibi bir çizim yapıp vermiş ve çizimde belli kısaltmalar kullanmıştır. Asel'in yaptığı bu çizimin adı hangisidir?

- A) Kroki
- B) Broşür
- C) Afiş
- D) Poster

10.

Hava Olayı	Sembol	Toplam
Güneşli		3
Bulutlu		2
Yağmurlu		1
Sisli	S	2
Rüzgârlı	R	4
Karlı		2

Nazlı yaşadığı yerdeki hava olaylarını izlemiş ve yukarıdaki gibi bir resimli grafik oluşturmuştur. Grafiğe göre hangisi söylenemez?

- A) En fazla rüzgârlı gün görülmüştür.
- B) En az yağmurlu gün görülmüştür.
- C) Bulutlu ve karlı gün sayısı aynıdır.
- D) Sisli gün görülmemiştir.

11. Aşağıdaki eşleştirmelerden hangisi yanlıştır?

A)	İl özel idaresini yöneten	VALİ
B)	Belediyenin kamu hizmetlerinden birisidir	ZABITA
C)	Nüfus cüzdanı örneğini onaylar	BELEDİYE BAŞKANI
D)	23 Nisan Ulusal ve Egemenlik Çocuk Bayramını Uluslar arası Düzeye Taşımıştır	TRT

12. Toplumsal sorunlara çözüm bulmak amacıyla insanların bir araya gelerek kurdukları kuruluşlara ne ad verilir?

- A) Resmi Kurum
- B) Sivil Toplum Kuruluşu
- C) Grup
- D) Kitle

13. Aşağıda seçeneklerden hangisi “Doğal unsur” değildir?


A)



B)



C)



D)



14. Aşağıdakilerden hangisi depreme karşı alınacak önlemlerden olamaz?

- A) Binalar güvenli ve yapı kurallarında uygun olmalıdır.
- B) Yüksek katlı binalar yapılmalıdır.
- C) Aile afet planı hazırlanmalıdır.
- D) Deprem çantası hazırlanmalıdır.

15. “Alo Tüketici” hattının numarası aşağıdakilerden hangisidir?

- A) 175
- B) 155
- C) 178
- D) 177

16. Büyük Millet Meclisi’nin açılmasıyla aşağıdakilerden hangisi arasında doğrudan bir ilişki vardır?

- A) Ulusal eğitim
- B) Ulusal ticaret
- C) Ulusal egemenlik
- D) Ulusal ekonomi

17.



Yukarıdaki görselde yer alan teknolojik araçlar hangi amaç için kullanılır?

- A) Eğitim B) Sağlık
C) Ulaşım D) Eğlence

18.



Bir ülkeyi gezerken yukarıdaki gibi tabelalar görüyorsanız hangi ülkedesinizdir?

- A) İngiltere B) Avustralya
C) Almanya D) İran

19.



Ülkemizin komşularıyla ilgili yukarıdaki haritasından çıkarılabilecek sonuçlar arasında hangisi yoktur?

- A) Güneyinde Suriye ve Irak vardır.
B) Doğusunda İran ve Azerbaycan vardır.
C) Kuzeydoğusunda Rusya vardır.
D) Batısında Yunanistan ve Bulgaristan vardır

20.

	Özellikler	Fiziksel	Duygusal	Zihinsel
I	Yufka yüreklilik		X	
II	Resim Yapma	X		
III	Kitap okuma			X
IV	Hayvanları sevme			X

Bireysel özellikler ile ilgili yukarıdaki tablonun hangi hanesinde yanlışlık yapılmıştır?

- A) I B) II C) III D) IV

TEST BİTMİŞTİR.

CEVAPLARINIZI KONTROL EDİNİZ.

Cevap Anahtarı

- 1- B**
- 2- A**
- 3- D**
- 4- C**
- 5- C**
- 6- B**
- 7- D**
- 8- A**
- 9- A**
- 10-D**
- 11-C**
- 12-B**
- 13-A**
- 14-B**
- 15-D**
- 16-C**
- 17-A**
- 18-B**
- 19-C**
- 20-D**