

2012-2013 EĞİTİM-ÖĞRETİM YILI ORTAKARAÖREN CUMHURİYET ORTAOKULU 5-A/B SINIFI SOSYAL BİLGİLER DERSİ II. DÖNEM III. SINAV SORULARI

ADI: SOYADI: SINIF: NO:



Bu sınav, çoktan seçmeli soru grubundan oluşturulmuştur. Her sorunun doğru cevabı 4 (dört) puan değerindedir. Lütfen soruları dikkatli okuyunuz! Başarılar dilerim.

1)

Türkiye Devleti, ülkesi ve milletiyle bölünmez bir bütündür. Dili Türkçedir. Bayrağı şekli kanunda belirtilen, beyaz ay yıldızlı al bayraktır. Milli marşı "İstiklal Marşı"dır. Başkenti Ankara'dır.

Yukarıda Anayasamızın 3. maddesi verilmiştir.

**Anayasamızın 3. maddesinin aşağıdakilerden hangisinden bahsettiği söylenemez?**

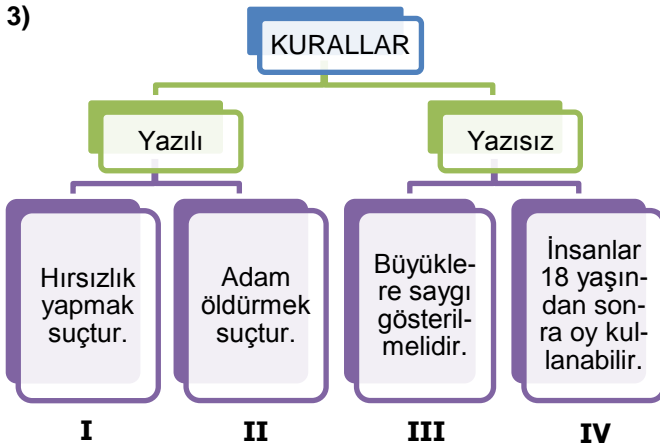
- A. Bayrağımızdan B. Dinimizden  
C. Milli Marşımızdan D. Dilimizden

2) Toplumda uyum ve huzurun olabilmesi için belli kurallar düzenlenmiştir. Bu kurallar yazılı veya yazısız olabilir.

**Buna göre, aşağıdakilerden hangisi yazılı kurallara örnek olarak gösterilebilir?**

- A. Kantinden bir şey alırken sıraya girmek  
B. Otobüste yaşlılara ve hastalara yer vermek  
C. Kırmızı ışıkta durmak  
D. Karşıdan karşıya geçerken engellilere yardımcı olmak

3)



Yukarıda toplum hayatını düzenleyen kurallardan bazılarına örnekler verilmiştir.

**Buna göre aşağıdaki örneklerden hangisi yanlıştır?**

- A. I B. II C. III D. IV

4) Toplumsal hayatı düzenleyen yasalar mecliste görüşüldükten sonra .....?..... onayına sunulur. Yasa onaylandıktan sonra Resmi Gazete'de yayınlanarak yürürlüğe girer.



**Verilen bilgide soru işareti (?) ile boş bırakılan yere kaç numaralı şekildeki kişi yazılırsa doğru olur?**

- A. I B. II C. III D. IV

5)



**Yukarıdaki şemada soru işareti (?) ile bırakılan boşluğa aşağıdakilerden hangisi getirilmelidir?**

- A. Devletim B. Anayasayım  
C. Belediyeyim D. Orduyum

6)

Ülkemizde yazılı hukuk kurallarını kim belirler?

TBMM

Can

Cumhurbaşkanı

Elif

Ali

Hakimler

Ayşe

Hakimler

Öğretmenin sorduğu soruya aşağıdaki öğrencilerden hangisi doğru cevap vermiştir?

- A. Elif B. Ali  
C. Ayşe D. Can

7) Ülke genelindeki tüm vatandaşların sağlık işlerinin düzenli olarak yürütülmesini sağlar.

Bu özellik aşağıdaki bakanlıklardan hangisi ile ilgilidir?

A.



B.



C.



D.



8)



Sürücüler, hız limitlerine uyarsa, kazalar yüzde seksen oranında azalır.

Bu öngörü ile aşağıdakilerden hangisine dikkat çekilmek istenmektedir?

- A. Saygılı davranmaya  
B. Dikkatli olmaya  
C. Kurallara uymaya  
D. Eğitimli olmaya

9)

- I. İlleri .....yönetir.  
II. İlçeleri .....yönetir.  
III. Köyleri .....yönetir.

Verilen bilgilerdeki boşluklara sırasıyla aşağıdakilerden hangileri getirilmelidir?

	I	II	III
A.	Kaymakam	Vali	Muhtar
B.	Muhtar	Vali	Kaymakam
C.	Vali	Kaymakam	Muhtar
D.	Kaymakam	Muhtar	Vali

10) Bağımsızlığımızın simgesi, bayrağımızın ayrılmaz parçasıdır. 12 Mart 1921 tarihinde TBMM tarafından kabul edilmiştir. 1930 yılında Osman Zeki Üngör tarafından bestelenmiştir.

Yukarıda hakkında bazı bilgiler verilen bağımsızlık sembolü aşağıdakilerden hangisidir?

A.



Para

B.



Cumhurbaşkanlığı forsu

C.

İSTİKLAL MARŞI

Korkma, sönmez bu şafaklarda yüzen al sancak;  
Sönmeden yurdumun üstünde tüten en son ocak.  
O benim milletimin yıldızıdır, parlayacak;  
O benimdir, o benim milletimindir ancak.

Çatma, kurban olayım, çehreni ey nazlı hilâl!  
Kahraman ırkıma bir gül! Ne bu şiddet, bu celâl?  
Sana olmaz dökülen kanlarımız sonra helâl...  
Hakkıdır, Hakk'a tapan, milletimin istiklâl!

İstiklal Marşı

D.



Türk bayrağı

11)



Anıtkabir ile ilgili verilen aşağıdaki bilgilerden hangisi doğrudur?

- A. İstanbul'dadır.  
B. Atatürk'ün ebedi istirahatgahıdır.  
C. 1938 yılında yapılmıştır.  
D. İsmet İnönü tarafından yaptırılmıştır.

12)

Çocuklar, tahtaya yazdığım rollerin hangisinin resmi bir kurumla ilgisi yoktur?



1. Öğrenci
2. Asker
3. Doktor
4. Oyun arkadaşı

Öğretmenin sorusunun doğru cevabı aşağıdakilerden hangisidir?

- A. 1 B. 2 C. 3 D. 4

13)




Ülkemizin doğal kaynaklarının, özellikle su kaynaklarının azalması üzerine birtakım önlemler alınmaya başlanmıştır. İstanbul, Ankara gibi büyük kentler başta olmak üzere bütün ülkede "Suyunu Boşa Har-cama" sloganı eşliğinde kampanyalar düzenlenmiştir.

Verilen bilgilere göre aşağıdaki yargılardan hangisine ulaşamaz?

- A. Toplum ile devlet iş birliği içinde olmalıdır.  
B. Doğal kaynakların korunması sadece belediyelerin görevidir.  
C. Doğal kaynakların kullanımına dikkat edilmelidir.  
D. Ülke sorunlarına karşı bilinçli davranılmalıdır.

14)



Deprem, sel, yangın, tsunami gibi doğal felaketlerde zarar gören insanlara yardım eden sivil toplum kuruluşu aşağıdakilerden hangisidir?

- A. Polis Teşkilatı B. İtfaiye Teşkilatı  
C. Kızılay D. Muhtarlık

15)



Bir topluluğu oluşturan bireylerin duygusu, düşünce ve ortak çıkarlarda karşılıklı bağlanmasına, yardımlaşma ve iş birliği içinde olmasına "dayanışma" denir.

Yukarıdaki parçaya en uygun atasözü aşağıdakilerden hangisidir?

- A. Bir elin nesi var, iki elin sesi var.  
B. Sakla samanı, gelir zamanı.  
C. Ağaç yaşken eğilir.  
D. Damlaya damlaya göl olur.

16)

	Sağlıkla ilgili sivil toplum kuruluşu	Eğitimle ilgili sivil toplum kuruluşu	Çevreyle ilgili sivil toplum kuruluşu
Başak Hanım			X
Teoman Bey	X		
Hatice Hanım		X	

Yukarıdaki üç kişi tabloda belirtilen sivil toplum kuruluşlarına üyedirler.

Buna göre üye oldukları sivil toplum kuruluşları aşağıdakilerden hangisinde doğru verilmiştir?

	Başak Hanım	Teoman Bey	Hatice Hanım
A.	TEMA	AKUT	Yeşilay
B.	LÖSEV	TEMA	Kimse Yok Mu
C.	ÇEVKO	Kızılay	LÖSEV
D.	ÇEKÜL	Yeşilay	TEV

17) Ülkemizde korumaya, bakıma ve yardıma muhtaç, aile, çocuk, yaşlı insanlara yardım etmek amacıyla oluşturulan kurum aşağıdakilerden hangisidir?

- A. Sosyal Güvenlik Kurumu  
B. Türk Tarih Kurumu  
C. Sosyal Hizmetler ve Çocuk Esirgeme Kurumu  
D. Milli Eğitim Bakanlığı

18) Devletimizin ana amaçlarından biri de toplumu oluşturan kişileri, iyi eğitim almış bir insan, iyi vatandaş ve iyi bir meslek sahibi olarak yetiştirmektir.

**Devlet bu amacını aşağıdaki kurumlardan öncelikle hangisini kurarak gerçekleştirmektedir?**

- A. Okul B. Kütüphane  
C. Hastane D. Belediye

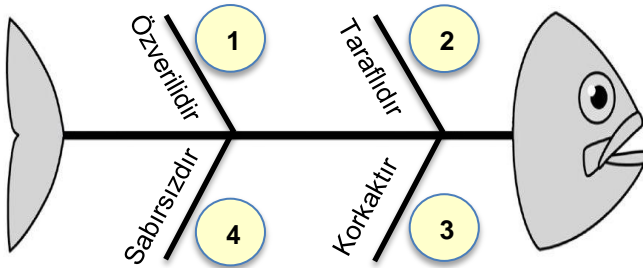
19) Günümüzde insanların haberleşmek için kullandıkları araçlar arasında aşağıdakilerden hangisi gösterilmez?

- A. İnternet B. Cep telefonu  
C. Mektup D. Duman

20) Aşağıdaki buluşlardan hangisi olmasaydı annelerimiz ev işlerine daha fazla vakit ayırmak zorunda kalacaktı?

- A. Tekerlek B. Elektrik  
C. El feneri D. Televizyon

21)



Balık kılçığındaki kaç numaralı ifade, bilim insanlarının özelliklerinden biridir?

- A. 1 B. 2  
C. 3 D. 4

22) "Türk milletinin yürümekte olduğu ilerleme ve uygarlık yolunda, elinde ve kafasında tuttuğu meşale pozitif bilimdir.

Mustafa Kemal Atatürk

**Buna göre, Atatürk ile ilgili olarak aşağıdakilerden hangisi söylenebilir?**

- A. Bilim insanlarını koruduğu  
B. Sanata ve sanatçılara değer verdiği  
C. Bilimi rehber olarak kabul ettiği  
D. Barışsever olduğu

23)



Girişimci Serkan Bey fındığın en fazla yetiştirdiği bölgeye bir fındık işleme tesisi açmayı düşünüyor.

**Buna göre Serkan Bey'in kuracağı tesis haritada kaç numara ile gösterilmiştir?**

- A. 1 B. 2  
C. 3 D. 4

24) Aşağıdaki işyerlerinden hangisi çocukların daha az ilgisini çeker?

- A. Oyuncakçı B. Banka  
C. Lunapark D. Dondurmacı

25)



**Aşağıdakilerden hangisi dünya üzerindeki çocukların ortak özelliklerinden biri değildir?**

- A. Oyun oynamayı sevmeleri  
B. Sevgiye ihtiyaç duymaları  
C. Bazı şekerli yiyecekleri sevmeleri  
D. Aynı dili konuşmaları

SINAVINIZ BİTMİŞTİR.

LÜTFEN CEVAPLARINIZI KONTROL EDİNİZ.

Yavuz YILDIZ

Sosyal Bilgiler Öğretmeni

Mayıs-2013 Seydişehir