

2012-2013 EĞİTİM-ÖĞRETİM YILI ORTAKARAÖREN CUMHURİYET ORTAOKULU 5-A/B SINIFI SOSYAL BİLGİLER DERSİ I. DÖNEM III. SINAV SORULARI

ADI: SOYADI: SINIF: NO:



Bu sınav, çoktan seçmeli soru grubundan oluşturulmuştur. Her sorunun doğru cevabı 4 (Dört) puan değerindedir. Lütfen soruları dikkatli okuyunuz! Başarılar dilerim.

1) Aşağıdakilerden hangisi gruba örnek olarak gösterilebilir?

- A. Kızılay kulübünde çalışma yapan öğrenciler
- B. Kırmızı ışıktaki bekleyen araçlar
- C. Sokakta yürüyen yayalar
- D. Otobüsteki yolcular

2) Onur 11 yaşında, 5. sınıfa giden bir öğrencidir. Babası bir inşaat şirketinde müdür, annesi ise Onur'un okulunda öğretmendir. Onur'un 5 yaşında bir de kardeşi vardır. Onur, mahalle takımında kaleci, gezi ve inceleme kulübünde başkan yardımcısıdır.

Metinde verilen bilgilere göre aşağıdakilerden hangisi söylenemez?

- A. Onur'un birden fazla role sahip olduğu
- B. Onur'un babasının birden fazla rolünün olduğu
- C. Onur'un annesinin evde ve okulda farklı rollerinin olduğu
- D. Onur'un kalecilik rolünü üstlendiği mahalle takımının kuruluşunun, kanunlarla belirlendiği

3)

Çocuk her koşulda koruma ve kurtarma olanaklarından ilk yararlananlar arasında olmalıdır.

Her çocuğun doğduğu anda bir ad alma ve bir devletin vatandaşı olma hakkı vardır.

**Selin**

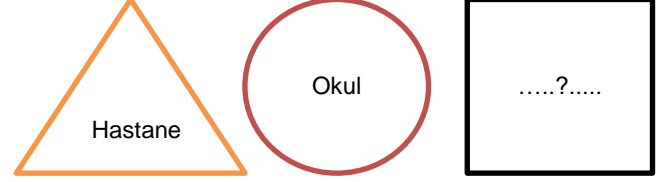
Çocuklar her türlü istismar, ihmal ve sömürüye karşı korunmalı ve yararlananlar arasında olmalıdır.

Fiziksel, zihinsel ya da sosyal bakımdan özürli çocuğa gerekli tedavi sağlanmalıdır.

Selin'in verdiği bilgilere göre, aşağıdakilerden hangisi söylenemez?

- A. Çocukların devredilemez haklarının olduğu
- B. Çocuk haklarından sadece belli bir din ve ırktaki çocukların faydalanabileceği
- C. Çocukların sömürü aracı olarak kullanılmaması gerektiği
- D. Engeli olan çocuklara sahip çıkılması gerektiği

4)

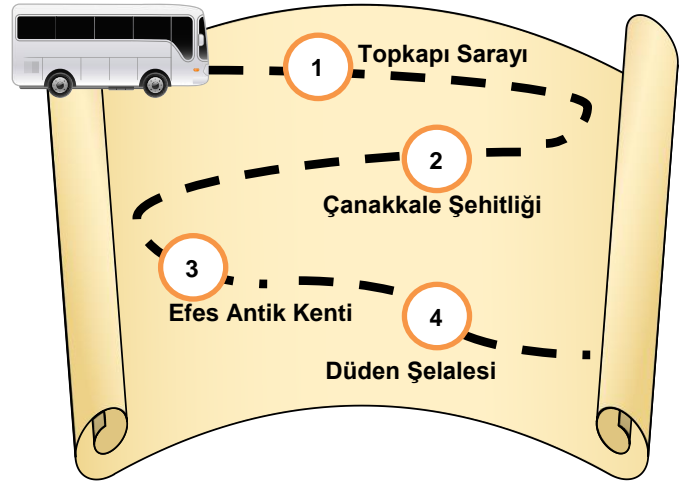


Yukarıda bazı kurumlar sembollerle gösterilmiştir.

Buna göre soru işareti (?) ile boş bırakılan sembole aşağıdakilerden hangisi getirilirse yanlış olur?

- A. Aile
- B. Valilik
- C. Gezi grubu
- D. Belediye

5)



Okulumuzun öğrencileri yurdumuzda yol üzerinde rakamlarla gösterilen yerleri gezmek için yola çıkmışlardır.

Öğrenciler sadece tarihi eser ve tarihi mekanlarımızı gezeceklerine göre yolcu otobüsü kaç numaralı durakta durmamalıdır?

- A. 1
- B. 2
- C. 3
- D. 4

6) Fiziki haritalara bakılarak bir yer ile ilgili aşağıdakilerden hangisi hakkında kesin bilgi edinilemez?

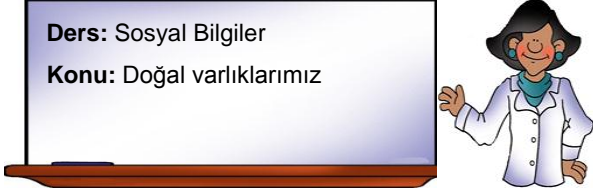
- A. Yer altı kaynakları
- B. Ovaları
- C. Dağları
- D. Akarsuları

7) 1207 yılında İran'ın Belh şehrinde doğmuştur. Babası ile birlikte Konya'ya yerleşmiştir. Dönemin eğitim kurumları olan medreselerde din dersleri vermiştir. "Mesnevi" en önemli eseridir.

**Adına her yıl 1-17 Aralık tarihleri arasında anma törenleri düzenlenen bu İslam düşünürü aşağıdakilerden hangisidir?**

- A. Yunus Emre                      B. Mevlana  
C. Nasreddin Hoca              D. Evliya Çelebi

8)



Elmas Öğretmen, öğrencilerden, tahtaya yazdığı dersin konusu ile ilgili örnekler vermelerini istemiştir.

Öğrencilerden;

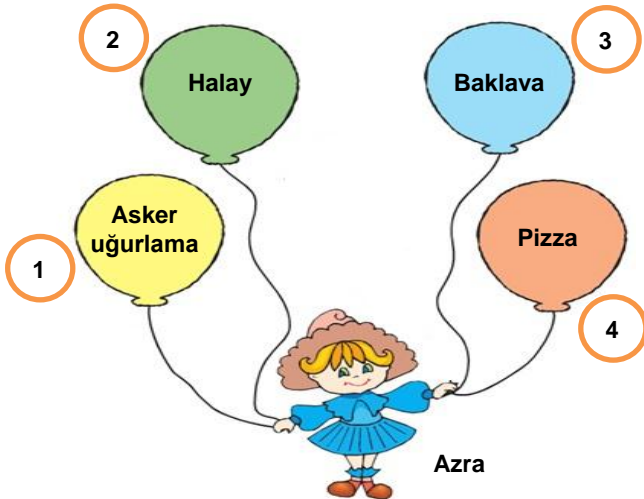
- Şule : Peri bacaları  
Sedat : Pamukkale Travertenleri  
Beyza : Sümela Manastırı  
Hakan : Uzungöl

örneklerini vermiştir.

**Hangi öğrenci yanlış örnek vermiştir?**

- A. Şule                                  B. Sedat  
C. Beyza                               D. Hakan

9)



Azra'nın elindeki balonlarda kültürel bazı özellikler yazmaktadır.

**Azra, kaç numaralı balonu patlatırsa, Türk kültürüne ait olmayan bir özellikten kurtulmuş olur?**

- A. 1                                      B. 2  
C. 3                                      D. 4

10)

İnkılap		Yapıldığı alan	
I	Aşar vergisinin kaldırılması	→	Ekonomi
II	Arap harflerinin yerine yeni Türk harflerinin kabul edilmesi	→	Hukuk
III	Soyadı Kanunu'nun kabulü	→	Toplumsal
IV	Tevhid-i Tedrisat Kanunu'nun kabulü	→	Eğitim

**Yukarıdaki yapılan inkılap ve yapıldığı alan eşleştirmelerinden hangisi yanlıştır?**

- A. I                                      B. II  
C. III                                   D. IV

11)

- Din, kişilerin kendi vicdanlarına bırakıldı.
- İnsanların din ve vicdan hürriyetleri anayasa ile güvence altına alındı.
- Devlet işlerinin yürütülmesinde din kurallarının yerini akıl ve bilime dayalı hukuk kuralları aldı.

**Verilen bilgiler, aşağıdaki Atatürk ilkelerinden hangisi ile ilişkilidir?**

- A. Cumhuriyetçilik                  B. Devletçilik  
C. Laiklik                               D. İnkılapçılık

12)



**Şemada soru işareti "?" ile gösterilen yere aşağıdakilerden hangisi getirilmelidir?**

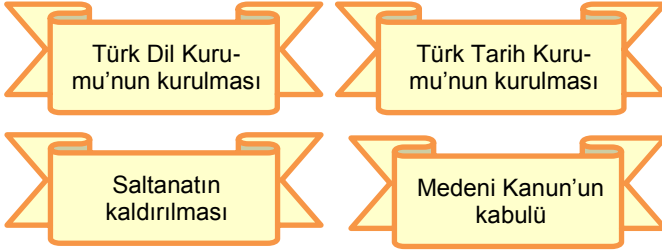
- A. Atatürk İlkeleri  
B. Atatürk İnkılapları  
C. Atatürk'ün Kişisel Özellikleri  
D. Türkiye Cumhuriyeti'nin Nitelikleri

13) Millet Mekteplerini açan Mustafa Kemal "Bu okullarda yaşlı, genç, çocuk demeden herkese okuma yazma öğretilecek" demiştir.

Mustafa Kemal'in yaptığı bu yenilik aşağıdaki hangi başlık altında toplanabilir?

- A. Toplumsal Alandaki Yenilikler
- B. Eğitim Alanındaki Yenilikler
- C. Siyasi Alandaki Yenilikler
- D. Askeri Alandaki Yenilikler

14) Mustafa Kemal Atatürk'ün yapmış olduğu inkıaplardan bazıları şunlardır:



Verilen inkılaplar, ilgili olduğu Atatürk ilkeleriyle eşleştirildiğinde aşağıdaki ilkelerden hangisi açıkta kalır?

- A. Milliyetçilik
- B. Halkçılık
- C. Cumhuriyetçilik
- D. Devletçilik

15)



Karadeniz kıyılarında kıyıdan iç kesimlere ulaşım geçitlerle sağlanır. Akdeniz'den Ege'ye geçtiğinizde sahil boyunca birçok koy ve körfez görürsünüz.

Yavuz Öğretmen'in anlatımında geçen altı çizili kelimele-  
rin anlamları aşağıdaki seçeneklerin hangisinde doğru verilmiştir?

	Geçit	Koy	Körfez
A.	Dağların üstünden geçen yoldur.	Denizin karaya sokulmuş bölümüdür.	Koy'un küçüğüdür.
B.	Arabaların geçtiği yoldur.	Sıradağlardır.	Karanın denize uzanmış halidir.
C.	Dağların ulaşım imkanı veren kesimleridir.	Körfezin küçüğüdür.	Denizin karaya doğru sokulmuş bölümüdür.
D.	Tren yoludur.	Karanın denize uzanmış halidir.	Denizin karaya sokulmuş bölümüdür.

16)



Kerpiç ev



Ahşap ev



Taş ev

Ülkemizin kırsal kesimlerinde konut yapımında farklı yapı malzemelerinin kullanılmasında bölgelerimizin iklim özellikleri de etkili olmaktadır.

Resimleri verilen evlerin en çok yapıldığı bölgeler aşağıdaki seçeneklerin hangisinde doğru olarak eşleştirilmiştir?

	Kerpiç Ev	Ahşap Ev	Taş Ev
A.	İç Anadolu	Kardeniz	Akdeniz
B.	Karadeniz	İç Anadolu	Doğu Anadolu
C.	Akdeniz	Doğu Anadolu	Karadeniz
D.	Ege	Akdeniz	İç Anadolu

17) İnsanlar, bir yerleşim yerini doğal güzellikleri için seçebilirler. Örneğin ülkemizde Ege ve Akdeniz'in kıyı kentleri, doğal güzelliklerinden dolayı çok fazla tercih edilmektedir. Bu kentler ormanlara, geniş kumsallara ve harika kıyı manzaralarına sahiptirler. Bu özellikleriyle turizm merkezi haline gelen bu yerler özellikle yaz aylarında birçok insana iş imkanı sağlamaktadırlar.

Verilen bilgilerde yerleşmeyi etkileyen aşağıdaki faktörlerin hangisinden söz edilmemiştir?

- A. Yer altı kaynaklarından
- B. Doğal güzelliklerden
- C. Geniş kumsallardan
- D. İş imkanlarından

18) İnsanlar beslenme ve giyinme gibi ihtiyaçlarını iklime göre belirler.

Aşağıdakilerden hangisi verilen bilgiye uygun bir örnek olamaz?

- A. İklimin soğuk olduğu yerlerde insanların daha kalın elbiseler giymeleri
- B. Soğuk bölgelerde daha yağlı yiyeceklerin tüketilmesi
- C. İklimin sıcak olduğu yerlerde ince ve açık renkli elbiselerin giyilmesi
- D. İklimin sıcak olduğu yerlerde yer altı kaynaklarının çok olması

19) Doğal kaynak; doğadan kaynaklanan ve insan eli değmeden oluşmuş kaynaklara denir.

Verilen tanıma göre aşağıdakilerden hangisi doğal kaynak değildir?

- |            |         |
|------------|---------|
| A. Toprak  | B. Hava |
| C. Fabrika | D. Su   |

20) Nurgül Öğretmen, öğrencilerine “İnsanların ve çevrenin olumsuz olarak etkilendiği doğal afetler nelerdir?” diye sormuştur.

Nurgül Öğretmen’in sorusuna aşağıdaki cevaplardan hangisi verilirse, cevap yanlış olur?

- |                |                  |
|----------------|------------------|
| A. Erozyon     | B. Trafik kazası |
| C. Sel baskını | D. Çığ           |

21)

- ❖ Evlerimizi dere yataklarına yaptık.
- ❖ Çevremizdeki bitki örtüsünü yok ettik.
- ❖ Evlerimizi toprak malzemeye yaptık.

Yukarıdaki bilgileri veren bir köy halkı doğal afetlerin hangisinden en fazla etkilenir?

- |                |                  |
|----------------|------------------|
| A. Deprem      | B. Trafik kazası |
| C. Sel baskını | D. Orman yangını |

22)

Anne ağlar, yavrum diye,  
Çocuk ağlar, annem diye,  
İnsanların hepsi şaşkın...  
Bakamazsın bu sahneye

\*\*\*

Elimizden bir şey gelmez,  
Bu felaket hiç sevilmez.  
Bu sarsıntı yer küreden...  
Daha önceden bilinmez.

Yukarıda verilen şiir hangi doğal afetle ilgilidir?

- |           |            |
|-----------|------------|
| A. Sel    | B. Heyelan |
| C. Deprem | D. Çığ     |

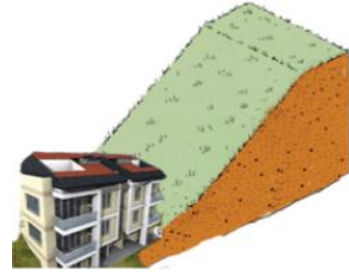
23)



Aşağıda verilenlerden hangisi yapıldığında depremler daha az zarar verir?

- |  |
|--|
| A. Boş araziler ağaçlandırıldığında                      |
| B. İnşaatlarda depreme dayanıklı malzeme kullanıldığında |
| C. Binalar çok katlı ve denetimsiz yapıldığında          |
| D. Binalar fay hatlarının üzerine yapıldığında           |

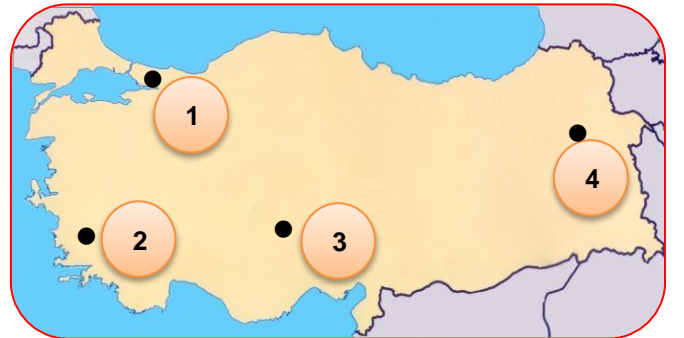
24)



Yukarıdaki evin bulunduğu bölgenin coğrafi koşulları dikkate alındığında hangi doğal felaketin en az görülmesi beklenir?

- |                  |            |
|------------------|------------|
| A. Orman yangını | B. Sel     |
| C. Çığ           | D. Heyelan |

25)



Yukarıdaki haritada numaralandırılarak gösterilen noktalardan hangisinin yükseltisi diğerlerinden fazladır?

- |      |      |
|------|------|
| A. 1 | B. 2 |
| C. 3 | D. 4 |

**SINAVINIZ BİTMİŞTİR.**

**LÜTFEN CEVAPLARINIZI KONTROL EDİNİZ.**

**Yavuz YILDIZ**

**Sosyal Bilgiler Öğretmeni**

**Ocak-2013**