


Adı:	ORTAKARAOREN CUMHURİYET ORTAOKULU	Not	5.SINIF 29 Nisan 2013
Soyadı:	2012-2013 EĞİTİM ÖĞRETİM YILI SOSYAL BİLGİLER 5		
Sınıf: No:	II. DÖNEM II. SINAV		

1-) Aşağıda verilen kitaptan yararlanarak ödevinizi yaptığınızı düşününüz. Yararlandığınız bu kitabı verilen kaynakçada gösteriniz. (2x5=10 Puan)



Kitabın Yazarı :
Kitabın Adı :
Yayın Evi :
Basıldığı Yer :
Basıldığı Yıl :

2) Aşağıdaki öğrencilerin söylediklerine göre ihtiyaç duyulan kurumları eşleştiriniz. (2x4=8 puan)

<p>Çevremizin yeterince temiz olmadığını düşünüyorum. Bu kuruma dilekçe yazdım.</p> <p>1</p> <p>Esra</p>	<p>Dün gece evimize hırsız girdi. Ben de hemen bu kuruma başvurdum.</p> <p>2</p> <p>Ali</p>	<p>Eğitim almak en önemli hakkımız. Bu yüzden bu kuruma gidiyoruz.</p> <p>3</p> <p>Elmas</p>	<p>Annem hastalandı. Biz de bu kurumdan yardım istedik.</p> <p>4</p> <p>Can</p>
<p>Karakol</p>	<p>Hastane</p>	<p>Belediye</p>	<p>Okul</p>

3) Aşağıda verilen kurumların insanların hangi ihtiyacını karşıladığını tabloda işaretleyerek belirtiniz. (2x6=12 puan)

	Eğitim	Sağlık	Haberleşme	Güvenlik	Adalet	Ulaşım
TCDD						
Mahkeme						
Sağlık ocağı						
Postane						
Üniversite						
TSK						

4) Aşağıda bazı sivil toplum kuruluşları ile bu kuruluşların çalışmalarını yansıtan görseller verilmiştir. Verilen görsellerin altına ilgili olduğu sivil toplum kuruluşunun adını yazınız. (2x6=12 puan)

TEMA

AKUT

LÖSEV

Kızılay

AÇEV

TEV



5) Aşağıdaki ifadelerin yanına cümle doğruysa "DOĞRU", yanlış ise "YANLIŞ" yazınız. (1x5=5 puan)

1

•Sivil toplum kuruluşlarında çalışanlar gönüllü olarak çalışırlar.

2

•Devlet kurumlarında çalışanların herhangi bir sorumluluğu yoktur.

3

•Resmi kurumlar çalışmalarını topladıkları bağışlarla sürdürürler.

4

•Sivil toplum örgütlerinin her yaştan üyesi olabilir.

5

•Resmi kurumların belirli çalışma saatleri ve rolleri yoktur.

6) Aşağıdaki teknolojik ürünlerle ilgili oldukları alanı eşleştiriniz. (1x6=6 puan)

A. İşitme cihazı

Güvenlik

B. Akıllı tahta

İş hayatı

C. Kapı alarmı

Ev hayatı

D. Çamaşır makinesi

Sağlık

E. Vinç



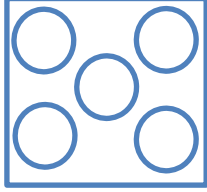




İletişim

F. Cep telefonu

Eğitim

Yan sayfaya geçiniz. ----->

7) Ahmet rüyasında Hacivat ve Karagöz'ü görmüştü. Hacivat doğru şeyler söylüyor, Karagöz ise bazı şeyleri yanlış anlayıp, yanlış söylüyordu. Aşağıdaki konuşma balonlarını ait olabilecekleri karakterlerle eşleştiriniz. (1x10=10 puan)

<p>1 Sabırlı olmak bilim insanlarının ortak özelliğidir.</p> <p>2 İcatlar teknolojik gelişmeleri etkilemez.</p> <p>3 Teleskop tıp alanında kullanılır.</p> <p>4 Buluş yapmak daha önce var olmayan bir şeyi icat etmektir.</p> <p>5 Buluşlar teknolojinin gelişmesine neden olur.</p>		<p>6 Bir başkasının çalışmasını kaynak göstermeden kullanmak bilim hırsızlığıdır.</p> <p>7 Buluşların günlük hayatımızda yeri yoktur.</p> <p>8 "Bilim Çocuk Dergisi" çocuklara bilimi sevdirmektedir.</p> <p>9 Bilim insanlarının buluş yapmaları için çalışmalarına gerek yoktur.</p> <p>10 Tekerleğin icadı iletişim teknolojisini geliştirmiştir.</p>				
	<table border="1" style="margin: auto;"> <tr> <td style="padding: 5px;"><b>Hacivat</b></td> <td style="padding: 5px;"><b>Karagöz</b></td> </tr> <tr> <td style="text-align: center;">  </td> <td style="text-align: center;">  </td> </tr> </table>	<b>Hacivat</b>	<b>Karagöz</b>			
<b>Hacivat</b>	<b>Karagöz</b>					
						


8) Teknoloji ile ilgili aşağıdaki ifadelerden zararlı olanlara (Z), yararlı olanlara (Y) yazınız. (1x7=7 puan)

<input type="checkbox"/>	Atom bombasını icat etmek
<input type="checkbox"/>	Rüzgar gücünden faydalanmak
<input type="checkbox"/>	Bilgisayar bağımlısı haline gelmek
<input type="checkbox"/>	Geceleri aydınlanmak için ampul kullanmak
<input type="checkbox"/>	Hastaları tedavi etmek için lazer kullanmak
<input type="checkbox"/>	Trafik kurallarına aykırı araç kullanmak
<input type="checkbox"/>	Fabrika atıklarını nehre boşaltmak

9) Aşağıdaki bilim insanlarının en önemli buluşlarının adını altlarındaki kutuya yazınız. (2x5=10 puan)



Pascal




Edison



Wright Kardeşler



Marconi



Graham Bell

--	--	--	--	--

Arka sayfaya geçiniz. ----->

10) Aşağıda verilen soruların doğru cevaplarını verilen seçenekler içinden bulup işaretleyiniz. (4x5=20 Puan)

1)

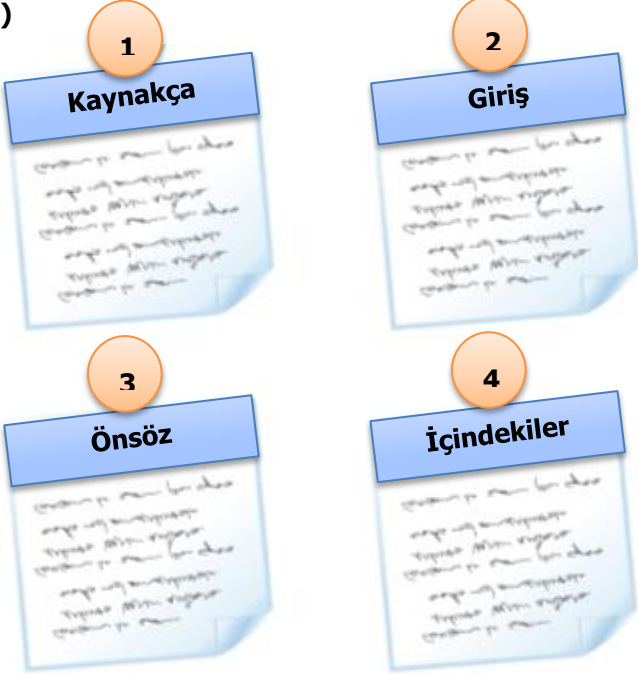


İyi akşamlar sayın seyirciler. Bu akşamki konumuz Nasuh Mahruki. Kendisi doğal afetlerde mahsur kalanların aranması ve kurtarılmasıyla ilgili bir derneğin başkanı.

Televizyon programında sözü edilen sivil toplum kuruluşu aşağıdakilerden hangisidir?

- A. Kızılay B. TÜKODER  
C. Türk Kalp Vakfı D. AKUT

2)



Bu görsellerde verilenlerden hangisi akademik dürüstlük ile doğrudan ilgilidir?

- A. 1 B. 2  
C. 3 D. 4

3) Aşağıdakilerden hangisi sivil toplum kuruluşlarının faaliyetlerinden birisi olamaz?

- A. Çevre kirliliği sorunuyla ilgili çalışmalar yapmak  
B. Yurdumuzu iç ve dış tehlikelere karşı korumak  
C. Maddi durumu iyi olmayanlara yardım etmek  
D. İnsanların dikkatini sigaranın kötülüğüne çekmek

4) Aşağıdaki panoya Atatürk'ün bilime verdiği önem ile ilgili bir sözü yazılacaktır.



Aşağıdaki Atatürk'e ait sözlerden hangisi yukarıdaki panoya yazılabilir?

- A. "Egemenlik, kayıtsız ve şartsız milletindir."  
B. "İnsanların hayatına, faaliyetlerine egemen olan kuvvet yaratma, icat yeteneğidir."  
C. "Ey kahraman Türk kadını, sen yerde sürünmeye değil, omuzlar üzerinde yükselmeye layıksın."  
D. "Öğretmenler, yeni nesil sizlerin eseri olacaktır."

5)



Benim babam vatanımızı her türlü dış düşmanlara karşı korumak ve kollamak amacıyla kurulan bir kurumda çalışıyor.

Mert'in babasının çalıştığı kurum aşağıdakilerden hangisidir?

- A. Türk Hava Yolları  
B. Turizm Bakanlığı  
C. Türk Silahlı Kuvvetleri  
D. Zabıta Müdürlüğü

Yavuz YILDIZ

Sosyal Bilgiler Öğretmeni

Nisan 2013- Seydişehir

**SINAVINIZ BİTMİŞTİR.**