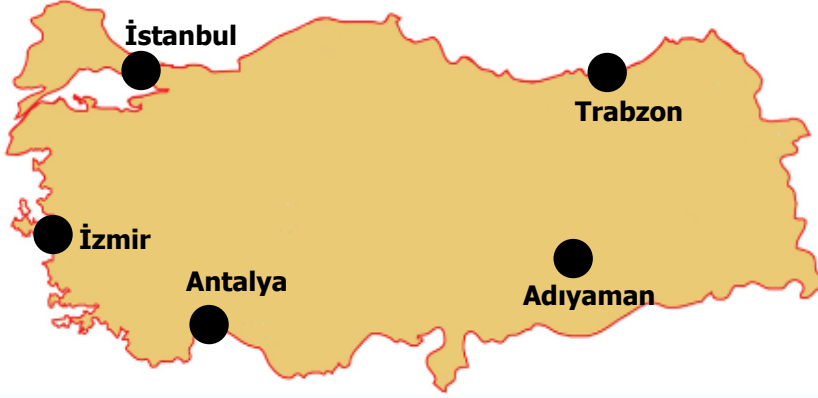


Adı:	ORTAKARAOREN CUMHURİYET ORTAOKULU	Not	5.SINIF
Soyadı:	2012-2013 EĞİTİM ÖĞRETİM YILI SOSYAL BİLGİLER 5		4 Aralık 2012
Sınıf: No:	I. DÖNEM II. SINAV		

1-) Aşağıdaki tarihi eserleri haritada bulunan illerimizle eşleştirerek yanlarına illerin adlarını yazınız. (2x5=10 Puan)



Aspendos Tiyatrosu (.....)

Nemrut Heykelleri (.....)

Sümela Manastırı (.....)

Ayasofya Müzesi (.....)

Efes Antik Kenti (.....)

2) Aşağıda resimleri verilen yeniliklerin hangi alanda yapıldığını altlarındaki kutulara yazınız. (2x4=8 puan)



Saltanatın kaldırılması



Kılık Kuşak Kanunu

www.sosyalbilgiler.biz

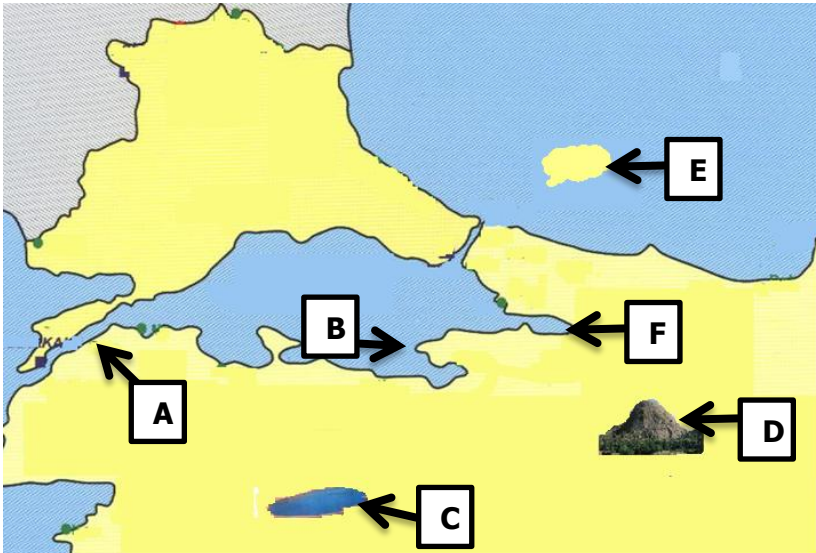


Tarımda makineleşmeye önem verilmesi



Yeni Türk Harflerinin kabulü

3) Haritada işaretlenmiş olan yeryüzü şekillerinin yanlarında bulunan harfleri ilgili boşluklara doğru şekilde yerleştiriniz. (2x6=12 puan)



1- ADA

2- GÖL

3- DAĞ

4- BOĞAZ

5- BURUN

6- KÖRFEZ

Arka sayfaya geçiniz. ----->

4) Aşağıda verilen Atatürk ilkelerini ilgili olduğu alanın başına yazınız. (2x6=12 puan)

CUMHURİYETÇİLİK

MİLLİYETÇİLİK

DEVLETÇİLİK

İNKILÂPÇILIK

LAİKLİK

HALKÇILIK

- a), halkın tamamının kanun önünde eşit olmasını sağlar.
- b), halkın yönetimde söz sahibi olmasını sağlar.
- c), halkın milli birlik ve beraberlik içerisinde yaşamasını sağlar.
- d), halkın din ve devlet işlerini birbirinden ayrı tutmasını sağlar.
- e), halkın tüm yenilikleri kabullenmesini ve çağdaş olmasını sağlar.
- f), halkın ekonomik sosyal ve ekonomik yönden gelişmesini sağlar.

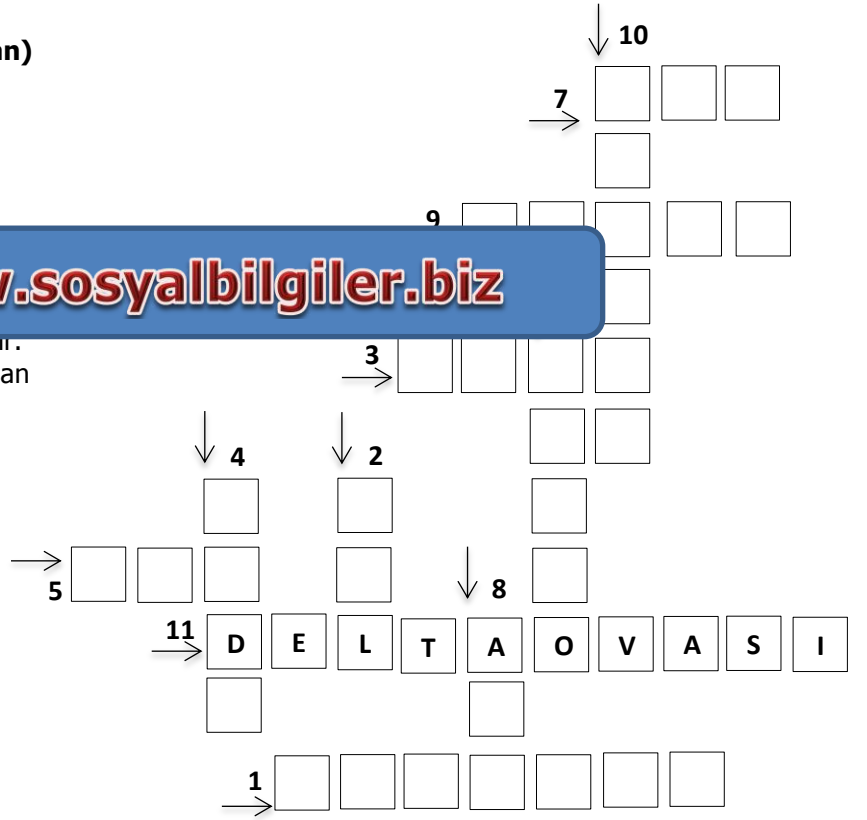
5) Aşağıdaki bulmacayı çözünüz. (1x10=10 puan)

Soldan Sağa

- 1- Birbiri ardına uzayıp giden dağlara verilen isimdir.
- 3- Yüksekliği genellikle birkaç yüz metreyi geçmeyen, çok kez tek başına bulunan yamaçları yatık olan yeryüzü şeklidir.
- 5- Çevresine göre alçakta kalan düz yerdir.
- 7- Körfezlerin küçüğüne verilen isimdir.
- 9- Kara parçasının denizin içine doğru uzanmış kısmıdır.
- 11- Bir ırmağın çatallanarak denize ulaştığı yerde oluşan üçgen biçimli ova.

Yukarıdan Aşağıya

- 2- Karaların içindeki çukurluklara su birikmesi ile oluşan yeryüzü şeklidir.
- 4-Akarsuların yatağını derinleştirerek oluşturduğu uzun oluktur.
- 6- Çevresine göre yüksekte kalmış geniş düzlüktür.
- 8- Dört tarafı sularla çevrili kara parçasıdır.
- 10-Denizin karaya doğru girmiş bölümüdür.



6) Aşağıdaki ifadelerin altına cümle doğruysa "DOĞRU", yanlış ise "YANLIŞ" yazınız. (2x4=8 puan)


Hız. Mevlana'yı anmak için her yıl Konya'da Şeb-i Aruz törenleri yapılır.

Atatürk'ün naaşı, 10 Kasım 1953 yılında Etnografya Müzesi'ne taşınmıştır.

Pamukkale, Nevşehir'de bulunan bir doğal güzelliğimizdir.

"Zeybek" efeler diyarı Ege yöresine ait bir halk oyunudur.

7) Aşağıda verilen soruların doğru cevaplarını verilen seçenekler içinden bulup işaretleyiniz. (8x5=40 Puan)



Öğretmen sınıftaki öğrencilerden Atatürkçü Düşünce Sistemi'nin özelliklerini söylemelerini istemiştir.



Öğrencilerden hangisinin cevabı Atatürkçü Düşün-ce Sistemi için söylenemez?

- A. Şenay B. Metin
C. Serdar D. Sevinç

3) Aşağıda yurdumuzla ilgili bazı bilgiler verilmiştir.



Bu bilgilere göre  ve  sembolleri ile gösterilen yerlere hangilerir getirilmelidir?

- | | | |
|----|---|---|
| |  |  |
| A. | Ağrı Dağı | Van Gölü |
| B. | Süphan Dağı | Tuz Gölü |
| C. | Aladağ | Beyşehir Gölü |
| D. | Ilgaz Dağı | Eğirdir Gölü |

www.sosyalbilgiler.biz

2)

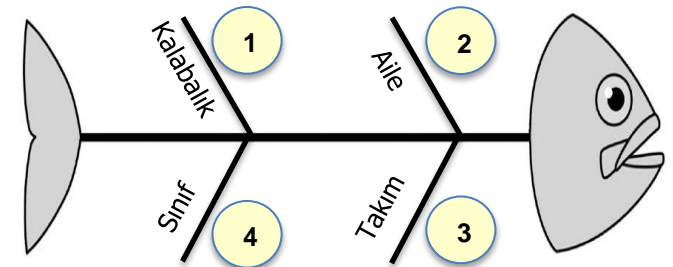
Adı	Aile İçindeki Sorumluluğu
Kerem	Odasını toplayıp ödevlerini yapmak
Sena	Kardeşine göz kulak olup annesine yardım etmek
Kemal	Çalışıp kazanmak için evin geçimini sağlamak
Nuray	Ev işlerini yapıp çocuklarına bakmak

Yukarıdaki tabloda dört kişilik bir ailede bireylere düşen bazı sorumluluklar verilmiştir.

Tablodaki bilgilere göre aşağıdaki çıkarımlardan hangisi doğrudur?

- A. Kerem evin en büyük çocuğudur.
B. Kemal evin babasıdır.
C. Sena evin annesidir.
D. Nuray evin büyük kızıdır.

4)



Balık kılçığındaki kaç numaralı ifade grup değildir?

- A. 1 B. 2
C. 3 D. 4

Arka sayfaya geçiniz. ----->

5)

Yenilik Öncesi



Yenilik Sonrası



Yukarıdaki fotoğraflar cumhuriyet öncesi ve sonrasına aittir.

Cumhuriyetten sonra tarım alanında aşağıdaki farklılıklardan hangisi görülmüştür?

- A. Yurt dışından daha fazla sebze meyve satın alınmıştır.
- B. Üretilen tarım ürünü çeşidi azalmıştır.
- C. İnsan gücüne daha fazla ihtiyaç duyulmuştur.
- D. Toprağın işlenmesinde makinelerden yararlanılmıştır.


6) "Gölge oyunu" denilince akla gelen kültür ögesi aşağıdakilerden hangisidir?

A.



Semazen

B.



Nasrettin Hoca

C.



Karagöz ve Hacivat

D.



Keoğlan

7) Atatürk'ün "din ve devlet işlerinin birbirinden ayrılması" temeline dayanan ilkesi aşağıdakilerden hangisidir?

- A. Halkçılık
- B. Laiklik
- C. Cumhuriyetçilik
- D. İnkılapçılık

8)

Ülkenizde görülmeye değer Manavgat adında bir şelale varmış. Oraya giden otobüs hangisi?



Turistin Manavgat Şelalesi'ne gitmek için binmesi gereken otobüs aşağıdakilerden hangisidir?

A.



B.



C.



D.



Yavuz YILDIZ
Sosyal Bilgiler Öğretmeni

SINAVINIZ BİTMİŞTİR.