



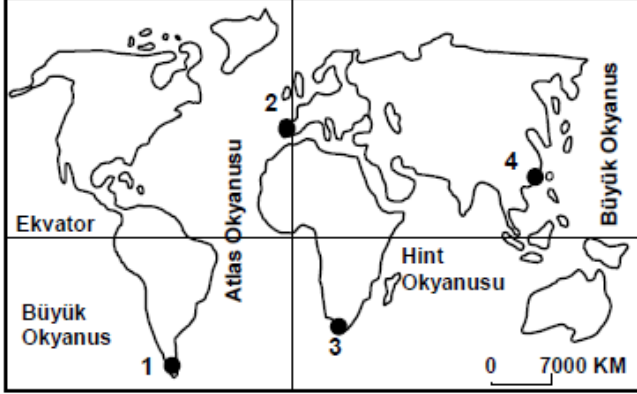
Küre Yatılı Bölge Ortaokulu/Kastamonu 6. Sınıf
(SBS ve İOKBS Soruları)

SOSYAL BİLGİLER
3. Ünite: Yeryüzünde Yaşam



Test 1-Coğrafi Konumu Öğreniyorum

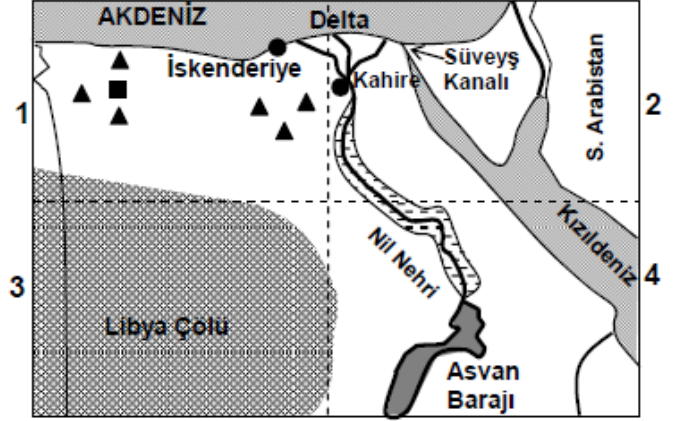
1. (2008 SBS)



Merhaba ben Zelda,
Ekvator'un kuzeyinde Büyük Okyanus-
sun kıyısında küçük bir sahil şehrinde
yaşıyorum. Yaşadığım yer haritada kaç
numaralı nokta ile gösterilmiştir?

- A) 1 B) 2 C) 3 D) 4

2. (2008 SBS)



----- Bölge sınırları

▲ ■ Petrol ve Doğalgaz

○ Tarım alanı

Yukarıda, Mısır ülkesinin haritası 4 bölgeye ayrılarak gösterilmiştir.

Nüfusu en az olan bölge ve bunun nedeni aşağıdakilerin hangisinde doğru verilmiştir?

- A) 1 numaralı bölgedir, çünkü zengin petrol ve doğalgaz üretim alanıdır.
B) 2 numaralı bölgedir, çünkü Nil Nehri'nin verimli deltası ve Süveyş Kanalı buradadır.
C) 3 numaralı bölgedir, çünkü büyük bir çölle kaplıdır.
D) 4 numaralı bölgedir, çünkü Nil Nehri ve Asvan barajının suladığı tarım alanları bulunmaktadır.

Mehmet ÖZKÜZ



Küre Yatılı Bölge Ortaokulu/Kastamonu 6. Sınıf
(SBS ve İOKBS Soruları)

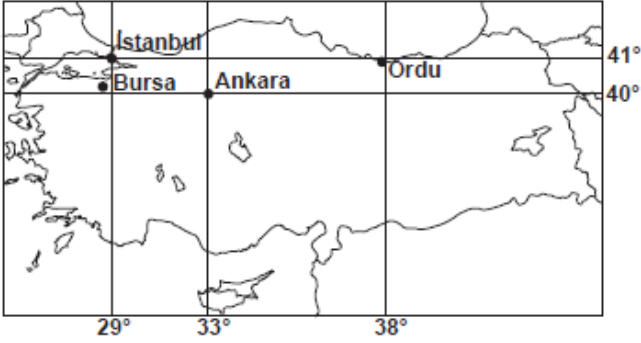


SOSYAL BİLGİLER
3. Ünite: Yeryüzünde Yaşam

Test 1-Coğrafi Konumu Öğreniyorum

3. (2009 SBS)

Bora: Yaz tatilini geçireceğim şehir, 29° doğu meridyeni ile 40° kuzey paralelinin kesiştiği yere en yakın konumdadır.



Bu şehir aşağıdakilerden hangisidir?

- A) Ordu B) İstanbul
C) Ankara D) Bursa

4. (2011 İOKBS)

Türkiye hangi **boylamlar** arasında yer alır?

- A) 26° - 45° doğu B) 36° - 42° batı
C) 19° - 26° doğu D) 40° - 45° batı

5. (2012 İOKBS)

Aşağıda verilenlerden hangisi **Avrupa Kıtası'nın konumuna** ait bir özelliktir?

- A) Güneyinde Akdeniz yer alır.
B) Güney Yarım Küre'de yer alır.
C) Amerika Kıtası ile sınır oluşturur.
D) Doğusunda Afrika Kıtası bulunur.

6. (2013 İOKBS)

Aşağıda verilenlerden hangisi **Türkiye'nin konumuna** ait bir özelliktir?

- A) Almanya ve İtalya sınır komşularıdır.
B) Yer şekilleri düz ve sadedir.
C) Büyük Okyanus kıyısındadır.
D) Kuzey Yarım Küre'de yer alır.

7. (2014 İOKBS)

Türkiye'nin **coğrafi konumu** ile ilgili olarak aşağıdakilerden hangisi söylenebilir?

- A) Afrika kıtasında toprakları vardır.
B) Atlas Okyanusu'na kıyısı vardır.
C) 26° - 45° kuzey paralelleri arasında yer alır.
D) Başlangıç meridyeninin doğusunda yer alır.

8. (2017 İOKBS)

Aşağıdakilerden hangisi Türkiye'nin bulunduğu bölgede önemini **artırmaz?**

- A) Asya ve Avrupa arasında köprü olması
B) Zengin yer altı ve yer üstü kaynaklarının olması
C) Yükseltinin batıdan doğuya doğru gidildikçe artması
D) Akdeniz ve Karadeniz'i bağlayan boğazlara sahip olması



Küre Yatılı Bölge Ortaokulu/Kastamonu 6. Sınıf
(SBS ve İOKBS Soruları)



SOSYAL BİLGİLER
3. Ünite: Yeryüzünde Yaşam

Test 1-Coğrafi Konumu Öğreniyorum

9. (2018 İOKBS)

Türkiye'nin boğazlara sahip olması aşağıdaki konulardan hangisinde önemini artırmıştır?

- A) Tarım B) Madencilik
C) Ulaşım D) Sanayi

10. (2019 İOKBS)

Ülkemiz 36°- 42° kuzey paralelleri ile 26°- 45° doğu meridyenleri arasında yer alır.

Yalnızca bu bilgiye dayanarak ülkemiz ile ilgili aşağıdaki çıkarımlardan hangisi yapılamaz?

- A) Üç tarafı denizlerle çevrilidir.
B) Ekvator, ülkemizin güneyinde yer alır.
C) Greenwich meridyeni batı yönümüzde bulunur.
D) Türkiye'nin güneyi ile kuzeyi arasında 6 paralel vardır.

11. (2020 İOKBS)

Aşağıdaki haritada bazı kıtalar numaralandırılarak gösterilmiştir.



Haritada I, II ve III olarak numaralanmış kıtaların isimleri aşağıdakilerin hangisinde doğru olarak verilmiştir?

- | I | II | III |
|-----------|--------|--------|
| A) Asya | Avrupa | Afrika |
| B) Avrupa | Asya | Afrika |
| C) Avrupa | Afrika | Asya |
| D) Asya | Afrika | Avrupa |

12. (2020 İOKBS)

Mutlak konum; bir yerin paralel ve meridyenler ile ifade edilen, yani ekvatora ve başlangıç meridyenine göre belirlenen konumudur.

Buna göre Türkiye'nin aşağıdaki özelliklerinden hangisi mutlak konum ile ilgilidir?

- A) Kuzey Yarımküre'de yer alması
B) Asya ve Avrupa kıtalarını birbirine bağlaması
C) Batısından doğusuna doğru dağların yükseltisinin artması
D) Üç tarafının denizlerle çevrili olması

13. (2020 İOKBS)

Yüz ölçümü en küçük olan kıta aşağıdakilerden hangisidir?

- A) Okyanusya B) Güney Amerika
C) Antarktika D) Avrupa

Test 1-Coğrafi Konumu Öğreniyorum Cevap Anahtarı (6. Sınıf)
(SBS ve İOKBS Soruları)
1.D 2.B 3.D 4.A 5.A 6.D 7.D 8.C 9.C 10.A 11.C 12.A 13.A