



Serinhisar Kocapınar Ortaokulu /Denizli-5. Sınıf
(İOKBS Soruları)



SOSYAL BİLGİLER

5. Ünite: Ekonomi ve İnsan Yaşamı

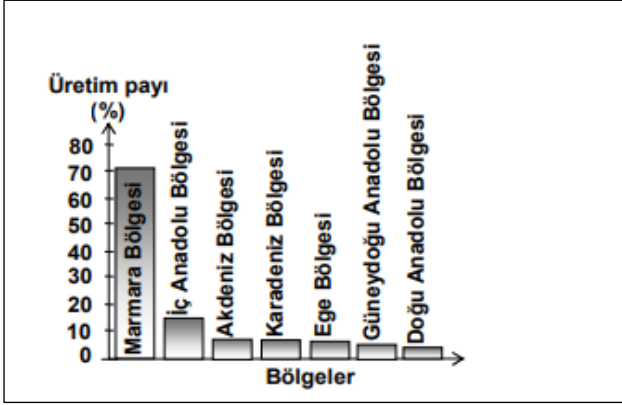
Test 1-Yaşadığımız Yer ve Ekonomik Faaliyetler

1. (2007 İOKBS)

Aşağıdaki şehirlerden hangisinin gelişmesi öncelikle yer altı kaynağına dayanır?

- A) Konya B) Zonguldak
C) Edirne D) Adana

2. (2007 İOKBS)



Yukarıdaki grafikte Türkiye ayçiçeği üretiminin bölgelere göre oranları gösterilmiştir.

Grafığe göre aşağıdakilerden hangisi söylenemez?

- A) Doğu Anadolu Bölgesi üretimin en az olduğu yerdir.
B) Akdeniz Bölgesi'nin üretimdeki payı % 40 tır.
C) Bütün coğrafi bölgelerde tarımı yapılmaktadır.
D) Marmara Bölgesi'nin üretimi diğer bölgelerin toplamından fazladır.

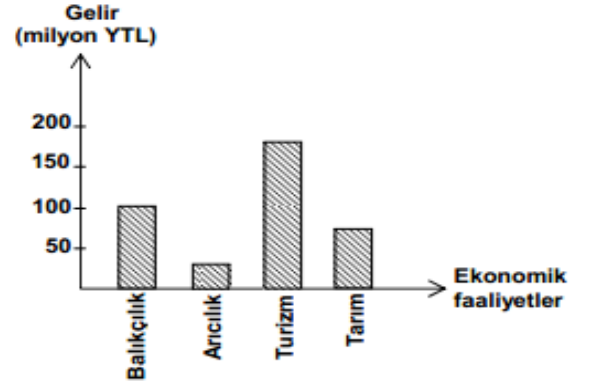
3. (2008 İOKBS)

Mete'nin Antalya ilinde deniz kıyısında yer alan köyünün ekonomik yapısı değişmiştir. Portakal, limon ağaçlarının bulunduğu tarım alanlarında bugün dev oteller yükselmektedir.

Buna göre Mete'nin köyünde hangi ekonomik faaliyetin önemi artmıştır?

- A) Sanayinin B) Madenciliğin
C) Turizmin D) Balıkçılığın

4. (2008 İOKBS)



Yukarıdaki grafikte bir ilin bazı ekonomik faaliyetlerinden sağladığı gelirler gösterilmiştir.

Buna göre il, hangi ekonomik faaliyetten daha çok gelir sağlamıştır?

- A) Balıkçılık B) Arıcılık
C) Turizm D) Tarım

5. (2008 İOKBS)

İnsanların geçinmek ve ihtiyaçlarını karşılamak amacıyla yaptıkları etkinliklere ekonomik faaliyetler denir.

Buna göre aşağıdakilerden hangisi bir ekonomik faaliyet değildir?

- A) Teoman Bey'in dersane işletmesi
B) Bilge Hanım'ın koyun yetiştirmesi
C) Umut Usta'nın lokantada aşçılık yapması
D) Şenay Hanım'ın sokak köpeklerini beslemesi



Serinhisar Kocapınar Ortaokulu /Denizli-5. Sınıf
(İOKBS Soruları)



SOSYAL BİLGİLER

5. Zümre: Ekonomi ve İnsan Yaşamı

Test 1-Yaşadığımız Yer ve Ekonomik Faaliyetler

6. (2009 İOKBS)

Köyümüzde şekerpancarı yetiştiriyor, elde ettiğimiz ürünleri en yakındaki Turhal Şeker Fabrikası'na satıyoruz. Fabrikada işlenen pancar, şeker hâline geldikten sonra satılmak üzere bakkal veya marketlere gönderiliyor.

Parçada hangi ekonomik faaliyetten söz edilmemiştir?

- A) Tarım
B) Turizm
C) Ticaret
D) Sanayi

7. (2009 İOKBS)

İnsanların dinlenmek, eğlenmek ve gezmek görmek amacıyla bir yerden başka bir yere giderek yaptıkları ekonomik etkinliğe ne ad verilir?

- A) Ticaret
B) Turizm
C) Madencilik
D) Ormancılık

8. (2010 İOKBS)



Haritada taranarak numaralandırılmış yerlerin hangisinde taş kömürü çıkarılır?

- A) 1 B) 2 C) 3 D) 4

9. (2010 İOKBS)

Aşağıdaki ekonomik faaliyetlerden hangisi kırsal yerleşmelerde daha yaygındır?

- A) Sanayi
B) Ticaret
C) Hayvancılık
D) Hizmet

10. (2010 İOKBS)

Aşağıdakilerden hangisi, Türkiye'de farklı iklim tiplerinin görülmesinin bir sonucudur?

- A) Çok çeşitli sebze ve meyvelerin yetişmesi
B) Yeraltı kaynaklarının çeşitlilik göstermesi
C) Platoların geniş alanlar kaplaması
D) Etrafının denizlerle çevrili olması

11 ve 12. soruları aşağıda verilen grafiğe göre cevaplayınız.

11. (2013 İOKBS)



Grafikte verilenler, hangi ekonomik faaliyetten elde edilirler?

- A) Tarım
B) Hizmet
C) Madencilik
D) Sanayi

12. (2013 İOKBS)

Aşağıdaki sanayi tesislerinden hangisi, üretiminde bu ürünlerden yararlanmaz?

- A) Şeker fabrikası
B) Makarna fabrikası
C) Demir-çelik fabrikası
D) Meyve suyu fabrikası



Serinhisar Kocapınar Ortaokulu /Denizli-5. Sınıf
(İOKBS Soruları)

SOSYAL BİLGİLER

5. Ünite: Ekonomi ve İnsan Yaşamı



Test 1-Yaşadığımız Yer ve Ekonomik Faaliyetler

13. (2013 İOKBS)

18. yüzyılda buhar gücüyle çalışan makinelerin bulunması, sanayileşmeyi hızlandırdı. Birçok yerde fabrikalar kuruldu. Küçük yerleşim yerlerinden fabrikaların kurulduğu şehirlere göçler başladı. Seri üretim yapan makinelerin kullanılmasıyla ürünlerin maliyeti de düşmüş oldu.

Verilen gelişmeye göre aşağıdakilerden hangisi söylenemez?

- A) Üretim artmıştır.
- B) Şehirlerin nüfusu çoğalmıştır.
- C) Piyasada pahalılık oluşmuştur.
- D) İnsanların alım gücü artmıştır.

14. (2013 İOKBS)

Tarımsal alanlarda üretimin artmasında aşağıdakilerden hangisinin katkısı yoktur?

- A) Çiftçilere eğitim verilmesinin
- B) Tarım arazilerinin bölünmesinin
- C) Kaliteli tohumların kullanılmasının
- D) Tarımsal üretimin desteklenmesinin

15. (2014 İOKBS)

Nüfusunun önemli bir kısmı ticaret, turizm ve eğitim kuruluşlarında çalışan bir ilde hangi sektörün daha çok geliştiği söylenebilir?

- A) Tarım
- B) Madencilik
- C) Sanayi
- D) Hizmet

16. (2014 İOKBS)

Aşağıda Akdeniz Bölgesinde yetişen bazı ürünlerin Türkiye üretimindeki payı grafiklerle gösterilmiştir.



Grafikler incelendiğinde aşağıdakilerden hangisi söylenebilir?

- A) Bölgede pamuk ipliği ihracatı fazladır.
- B) Akdeniz'de yeşil zeytin üretimi fazladır.
- C) Muzun tamamı Akdeniz bölgesinde yetişir.
- D) Üretilen üzümün hepsi bölge içinde tüketilir.

17. (2015 İOKBS)

Aşağıdakilerden hangisi tarımsal üretimi destekleyecek bir uygulama değildir?

- A) Daha geniş arazilerde üretim yapmak
- B) Çiftçileri sulama konusunda bilgilendirmek
- C) Şehirlere göç etmeye teşvik etmek
- D) Verimi yüksek kaliteli tohumlar kullanmak

18. (2015 İOKBS)



Türkiye haritası üzerinde gösterilen alanlar hakkında verilen aşağıdaki ifadelerden hangisi yanlıştır?

- A) I. bölgede balıkçılık önemli bir geçim kaynağıdır.
- B) II. bölgede sanayi gelişmiştir.
- C) III. bölgede çay tarımı yaygındır.
- D) IV. bölgede un, makarna ve bisküvi fabrikaları yaygındır



Serinhisar Kocapınar Ortaokulu /Denizli-5. Sınıf
(İOKBS Soruları)



SOSYAL BİLGİLER

5. Ünite: Ekonomi ve İnsan Yaşamı

Test 1-Yaşadığımız Yer ve Ekonomik Faaliyetler

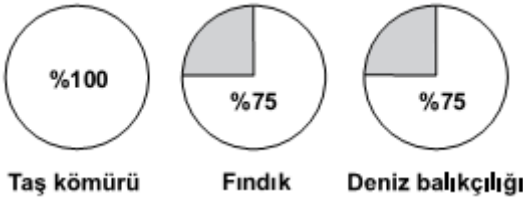
19. (2015 İOKBS)

Doğu Anadolu Bölgesi'nde büyükbaş hayvancılık en önemli ekonomik faaliyettir.

Buna göre bu bölgede kurulacak fabrikalardan hangisi hammaddeye daha kolay ulaşır?

- A) Kağıt fabrikası
B) Şeker fabrikası
C) Un fabrikası
D) Et ürünleri fabrikası

20. (2015 İOKBS)



Bu grafiklerle taş kömürü, fındık ve deniz balıkçılığında Türkiye üretimindeki oranı verilen bölgemiz aşağıdakilerden hangisidir?

- A) Akdeniz bölgesi
B) Karadeniz Bölgesi
C) Marmara Bölgesi
D) Ege Bölgesi

21. (2016 İOKBS)

Ali turizm haftası için yaşadığı yer ile ilgili aşağıdaki bilgi notunu hazırlamıştır. "Yaşadığım yer Türkiye'nin orman bakımından en zengin alanlarından birisi ve son yıllarda yayla turizmi ve şenlikleriyle önem kazanmış bir alandır. Her mevsim yağışlı olduğundan gür akan derelere de sahiptir."

Buna göre Ali'nin yaşadığı il aşağıdakilerden hangisidir?

- A) Rize
B) Şanlıurfa
C) Kırşehir
D) Edirne

22. (2016 İOKBS)

Farklı sektörlerdeki üç iş adamı aşağıda belirtilen hammaddelerden alım yapacaklardır.

- Salih Bey, mobilya fabrikası için kereste
- İrfan Bey, tekstil fabrikası için pamuk
- Yusuf Bey, petrol rafinerisi için ham petrol

Bu ham maddeleri alabilecekleri en uygun iller aşağıdakilerden hangisinde sıralanmıştır?

	Salih Bey	İrfan Bey	Yusuf Bey
A)	Şanlıurfa	Trabzon	Batman
B)	Batman	Trabzon	Şanlıurfa
C)	Trabzon	Batman	Şanlıurfa
D)	Trabzon	Şanlıurfa	Batman

23. (2016 İOKBS)

Aşağıda il ve yoğun yapılan ekonomik faaliyet eşleştirmelerinden hangisi doğrudur?

- A) Rize – Küçükbaş hayvancılık
B) Konya – Zeytincilik
C) İzmir – Arıcılık
D) Antalya – Turizm

24. (2017 İOKBS)

Aşağıdaki eşleştirmelerden hangisi yanlıştır?

<u>Ekonomik faaliyet türü</u>	<u>Karşıladığı ihtiyaç</u>
A) Tekstil fabrikası	Giyinme
B) Tarım	Haberleşme
C) Petrol rafinerisi	Ulaşım
D) Çimento fabrikası	Barınma



Serinhisar Kocapınar Ortaokulu /Denizli-5. Sınıf
(İOKBS Soruları)



SOSYAL BİLGİLER

5. Zümre: Ekonomi ve İnsan Yaşamı

Test 1-Yaşadığımız Yer ve Ekonomik Faaliyetler

25. (2018 İOKBS)

Yaşadığım bölge ülkemizin ticaret, bankacılık, ulaşım ve turizm merkezidir. Eğitim, sağlık ve sosyal hizmetler gelişmiştir. İş imkânlarının fazla olması nedeniyle sürekli göç alır. Ülkemizin en kalabalık nüfusa sahip bölgesidir.

Bu metinde hangi bölgeden söz edilmiştir?

- A) Ege B) Marmara
C) Akdeniz D) Karadeniz

26. (2018 İOKBS)

Aşağıdaki ürünlerden hangisi sadece Karadeniz Bölgesi'nde yetişir?

- A) Çay B) Buğday
C) Patates D) Domates

27. (2018 İOKBS)

Doğu Anadolu Bölgesi engebeli ve yüksek bir arazi yapısına sahiptir. Bu nedenle ulaşım zordur. Kışlar uzun ve soğuk, yazlar kısadır. Tarım arazileri dar ve küçüktür. Ancak çayır ve otlaklar geniş yer tutar.

Bu metne göre Doğu Anadolu Bölgesi'nin temel geçim kaynağı aşağıdakilerden hangisi olabilir?

- A) Turizm B) Hayvancılık
C) Madencilik D) Sanayi

28. (2019 İOKBS)

Çay ve fındık üretiminde yağış ve neme ihtiyaç duyulmaktadır.

Buna göre aşağıdaki yerlerden hangisinin çay ve fındık üretimine uygun olduğu söylenebilir?

- A) Giresun B) Yozgat
C) Siirt D) Burdur

29. (2021 İOKBS)

Semih: “Yaşadığım yerde yükselti azdır. Bu nedenle ulaşım kolaydır. Burada sanayi çok gelişmiştir. Buna bağlı olarak ticaret, bankacılık, ulaşım gibi ekonomik faaliyetler de gelişme göstermiştir. İş imkanlarının fazlalığı nedeniyle sürekli göç alan şehrimizin nüfusu da artmıştır.”

Buna göre Semih aşağıdaki şehirlerden hangisinde yaşamaktadır?

- A) Artvin B) Kars
C) İstanbul D) Sinop

30. (2021 İOKBS)

Erzurum ve Kars yöresinde büyükbaş hayvancılık gelişmiştir.

Bu durumun ortaya çıkmasında etkili olan özellik aşağıdakilerden hangisidir?

- A) Otlakların geniş yer kaplaması
B) Tarımsal ürün çeşitliliği
C) Bozkır bitki örtüsü
D) Ilıman iklim koşulları

31. (2021 İOKBS)

İzmir'de sanayinin gelişmesinde aşağıdakilerin hangisi daha etkili olmuştur?

- A) Nüfusun fazla olması
B) Deniz turizmüne uygunluğu
C) Kültür çeşitliliği
D) Ulaşım ağının gelişmişliği



Serinhisar Kocapınar Ortaokulu /Denizli-5. Sınıf
(İOKBS Soruları)



SOSYAL BİLGİLER

5. Ünite: Ekonomi ve İnsan Yaşamı

Test 1-Yaşadığımız Yer ve Ekonomik Faaliyetler

32. (2021 İOKBS)

Güney Doğu Anadolu Projesi'nin devreye girmesi bölgede su kaynaklarının yetersizliği sorununa çözüm getirmiştir. Bu proje sayesinde, bölgede pamuk, mısır ve pirinç üretimi yapılmaya başlanmıştır.

Bu bilgide Güney Doğu Anadolu Projesi'nin aşağıdaki ekonomik faaliyetlerden hangisine etkisi vurgulanmıştır?

- A) Hayvancılık B) Tarım
C) Madencilik D) Turizm

33. (2022 İOKBS)

Adana, Akdeniz iklimine uyumlu olan tarım ürünlerinin yetiştirilebildiği bereketli topraklara sahip bir yerdir.

Buna göre, aşağıdaki tarım ürünlerinden hangisinin Adana'da yetiştirilmesi beklenmez?

- A) Pamuk B) Turunçgil
C) Çay D) Zeytin

Mehmet ÖZKÜZ

Test 1-Yaşadığımız Yer ve Ekonomik Faaliyetler Cevap Anahtarı (5. Sınıf)

(İOKBS Soruları)

1.B 2.B 3.C 4.C 5.D 6.B 7.B 8.B 9.C 10.A 11.A 12.C 13.C 14.B 15.D 16.C 17.C 18.C 19.D 20.B 21.A 22.D 23.D 24.B 25.B 26.A 27.B 28.A
29.C 30.A 31.D 32.B 33.C